



# もくじ

4年生

【ふく習】 3けた, 4けたのたし算, ひき算 .....	2
【ふく習】 わり算 .....	10
【ふく習】 かけ算 .....	20
【ふく習】 小数 .....	26
【ふく習】 分数 .....	32
【ふく習】 時こくと時間・長さ・重さ .....	38
角の大きさ .....	44
2けた÷1けた, 3けた÷1けたのわり算 .....	49
2けた÷2けた, 3けた÷2けたのわり算 .....	61
大きな数 .....	73
がい数 .....	77
計算のきまり .....	82
まとめ <b>1</b> .....	89
垂直・平行と四角形 .....	105
面積 .....	112
小数のたし算, ひき算 .....	120
小数のかけ算 .....	128
小数のわり算 .....	131
まとめ <b>2</b> .....	135
分数 .....	147
直方体と立方体 .....	159
まとめ <b>3</b> .....	164

角の大きさ ①

問 / 10問

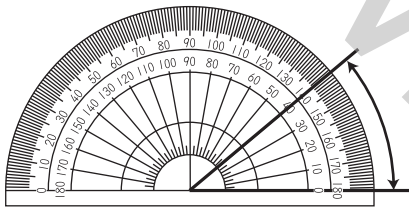
1 つぎの  にあてはまるものを答えましょう。

(1) 直角を90に等分した1つ分の角の大きさを1度といい、  
 と書きます。

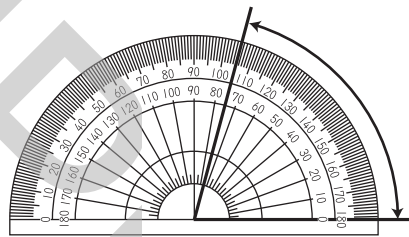
(2) 直角の大きさは  度，半回転の角の大きさは  度，  
 1回転の角の大きさは  度です。

2 つぎの角の大きさを答えましょう。

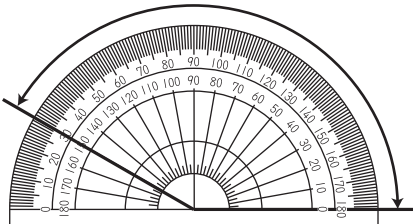
(1)



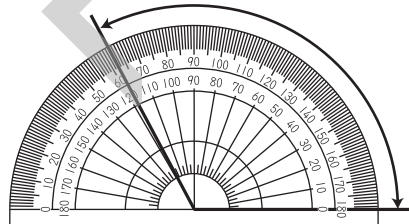
(2)



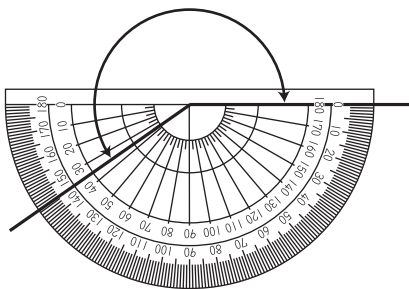
(3)



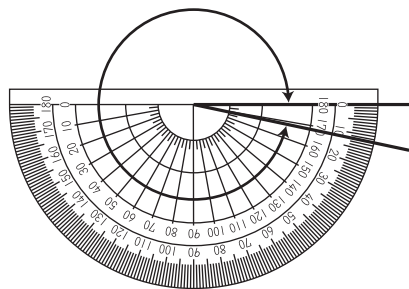
(4)



(5)



(6)

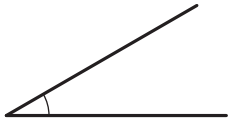


角の大きさ ②

問 / 11 問

つぎの角の大きさを、分度器を使ってはかりましょう。

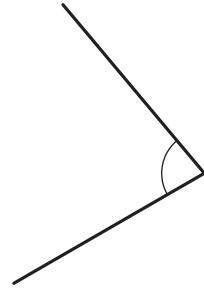
(1)



(2)



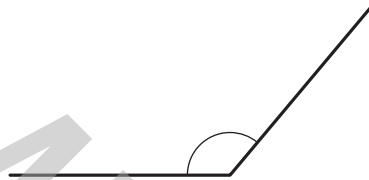
(3)



(4)



(5)



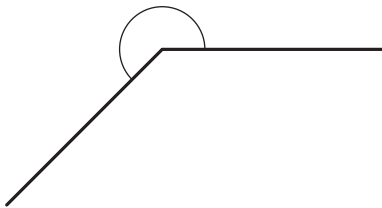
(6)



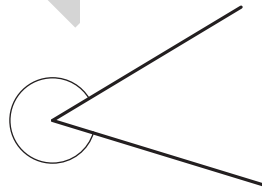
(7)



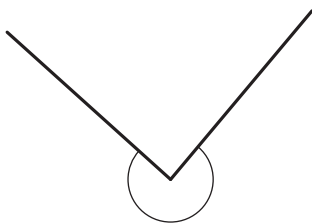
(8)



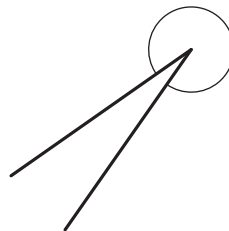
(9)



(10)



(11)



月 日

もくひょう時間 10分

2けた÷1けた, 3けた÷1けたのわり算 ①

問 / 17問

(1)  $60 \div 2$

(2)  $80 \div 4$

(3)  $90 \div 3$

(4)  $100 \div 5$

(5)  $120 \div 4$

(6)  $480 \div 6$

(7)  $450 \div 9$

(8)  $160 \div 2$

(9)  $270 \div 3$

(10)  $640 \div 8$

(11)  $490 \div 7$

(12)  $350 \div 5$

(13)  $300 \div 6$

(14)  $810 \div 9$

(15)  $400 \div 8$

(16)  $420 \div 7$

.....  
✎ 200まいの色紙を5人で分けると、1人分は何まいで  
すか。

式

□答え

月 日

もくひょう時間 10分

2けた÷1けた, 3けた÷1けたのわり算 ②

問

/17問

(1)  $1800 \div 3$

(2)  $2800 \div 7$

(3)  $800 \div 8$

(4)  $1400 \div 2$

(5)  $2000 \div 4$

(6)  $4500 \div 5$

(7)  $3600 \div 6$

(8)  $6300 \div 9$

(9)  $5600 \div 8$

(10)  $1000 \div 2$

(11)  $600 \div 6$

(12)  $2800 \div 4$

(13)  $3000 \div 5$

(14)  $2100 \div 7$

(15)  $5400 \div 9$

(16)  $900 \div 3$

.....  
✎ 3こで600円のケーキがあります。1こは何円ですか。  
式

□答え