


も く じ さんすう Book ①





10までの かず

1	なかま	4
2	1から 5までの かず	8
3	6から 10までの かず	12
4	10までの かず	16
5	なんばんめ	20
6	いくつと いくつかな	24
7	10は いくつと いくつかな	28
まとめ ① 10までの かず		32


たしざん・ひきざん

8	たしざん(1)	36
9	たしざん(2)	40
10	ひきざん(1)	44
11	ひきざん(2)	48
12	0の たしざん, ひきざん	52
13	たしざんかな, ひきざんかな(1)	56
14	たしざんかな, ひきざんかな(2)	60
まとめ ② たしざん・ひきざん		64



ながさくらべ

15	ながさくらべ	68
まとめ ③ ながさくらべ		72



20までの かず

16	20までの かずの あらわしかた	76
17	20までの かずの じゅんばん	78
18	10と いくつ	80
まとめ ④ 20までの かず		82

おおきさくらべ

19	かさくらべ	84
20	ひろさくらべ	86
まとめ ⑤ かさくらべ/ひろさくらべ		88


3つの かずの けいさん

21	3つの かずの けいさん(1)	90
22	3つの かずの けいさん(2)	92



くりあがりの たしざん・くりさがりのひきざん

23	くりあがりの たしざん(1)	94
24	くりあがりの たしざん(2)	96
25	くりあがりの たしざん(3)	98
26	くりさがりの ひきざん(1)	100
27	くりさがりの ひきざん(2)	102
28	くりさがりの ひきざん(3)	104
まとめ ⑥ 3つの かずの けいさん/くりあがり・くりさがり		106



いろいろな ぶんしょうだい

- 29 ぶんしょうだい(1) 110
 30 ぶんしょうだい(2) 112
 31 かずしらべ、くばりかた 114
 まとめ ⑦ いろいろな ぶんしょうだい 116

おおきな かず

- 32 おおきな かずの あらわしかた 118
 33 おおきな かずの じゅんばん 120
 まとめ ⑧ おおきな かず 122

★ さきどり がくしゅう

- 1000までの かず 126
 10000までの かず 128

100までの かずの けいさん

- 34 100までの かずの けいさん(1) 130
 35 100までの かずの けいさん(2) 132
 まとめ ⑨ 100までの かずの けいさん 134

★ さきどり がくしゅう

- たしざんの ひっさん 136
 くりあがりの たしざんの ひっさん 138
 ひきざんの ひっさん 140
 くりさがりの ひきざんの ひっさん 142
 ながさ(1) 144
 ながさ(2) 146
 かさ 148

とけい

- 36 なんじ、なんじはん 150
 37 なんじなんぷん 152
 まとめ ⑩ とけい 154

★ さきどり がくしゅう



- じこくと じかん 156
 ごぜんと ごご 158

かたち

- 38 いろいろな かたち 160
 39 かたちづくり 162
 まとめ ⑪ かたち 164

★ さきどり がくしゅう

- さんかくけいと しかくけい・ちよっかく 166
 ちょうほうけいと せいほうけい・ちよっかくさんかくけい 168
 はこの かたち 170
 ひょうと ぐらふ 172
 かけざん 174
 5のだん、2のだんの 九九 176
 3のだん、4のだんの 九九 178
 6のだん、7のだんの 九九 180
 8のだん、9のだん、1のだんの 九九 182



6

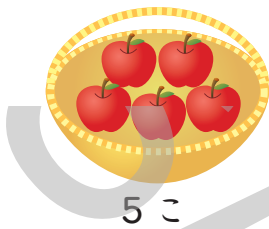
いくつと いくつかな

べんきょうした ひ がつ にち




5このりんごを2つのさらにわけます。
みぎのさらにのるりんごのかずだけいろをぬりましょう。

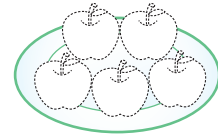
(1)



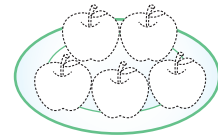
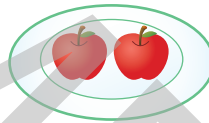

ひだり



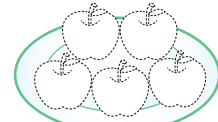


みぎ



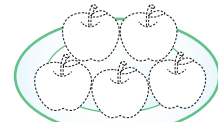


(2)




(3)



(4)




「5は 1と 4」
「5は 2と 3」
に わけられるね。



- 1 6ぽんの ばななを 2つの ふくろに わけます。
みぎの ふくろにはいる ばななの かずだけ いろを
ぬりましょう。

□(1)



□(2)



□(3)



□(4)

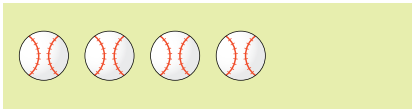


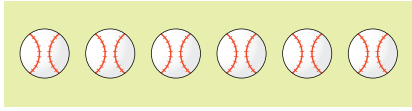






□(5)







「6は 1と 5」
「6は 2と 4」
「6は 3と 3」
に わけられるね。

- **2** ぼおるが 7こに なるように ひだりと みぎを
 せて むすびましょう。

	•	•	
	•	•	
	•	•	
	•	•	

- **3** あと いくつで 8こに なるかな。 □ に すうじを
 かきましょう。

□ (1) 	あと	<input type="text"/>	こ
□ (2) 	あと	<input type="text"/>	こ
□ (3) 	あと	<input type="text"/>	こ
□ (4) 	あと	<input type="text"/>	こ

- 4 あかの かあとと あおの かあとを あわせて 9 になるように せんで おすびましょう。

あかの かあと	<input type="text" value="1"/>	<input type="text" value="2"/>	<input type="text" value="5"/>	<input type="text" value="6"/>	<input type="text" value="3"/>
	●	●	●	●	●
あおの かあと	<input type="text" value="4"/>	<input type="text" value="3"/>	<input type="text" value="8"/>	<input type="text" value="7"/>	<input type="text" value="6"/>
	●	●	●	●	●

- 5 に すうじを かきましょう。


- (1) 7は 6と
- (2) 5は 1と
- (3) 8は と4
- (4) 6は と2
- (5) と4で 7
- (6) と3で 9
- (7) 2と で 5
- (8) 3と で 8






10この いちごを 2つの さらに わけます。
みぎの さらに のる いちごの かずだけ いろを
ぬりましょう。

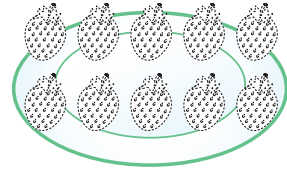
(1)



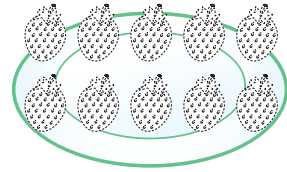

ひだり



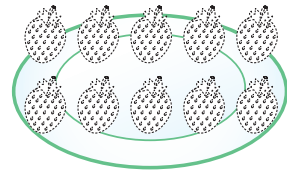

みぎ



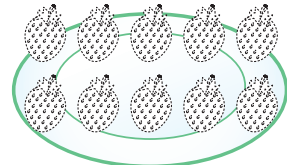


(2)



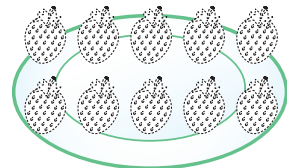


(3)






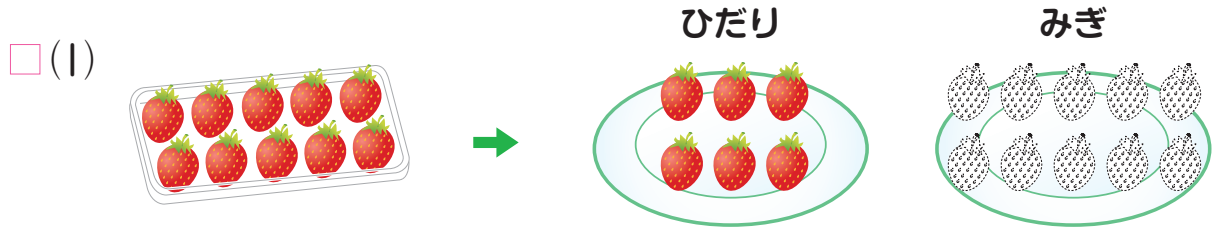
(4)



(5)









1 10この いちごを 2つの さらに わけます。みぎの さらに のる いちごの かずだけ いろを ぬりましょう。



「10は 6と 4」
 「10は 7と 3」
 「10は 8と 2」
 「10は 9と 1」
 だよ。




- **2** りんごが 10こに なるように ひだりと みぎを
 せて むすびましょう。



- **3** あと いくつで 10こに なるかな。□ に すうじを
 かきましょう。


□ (1)



あと

こ

□ (2)



あと

こ

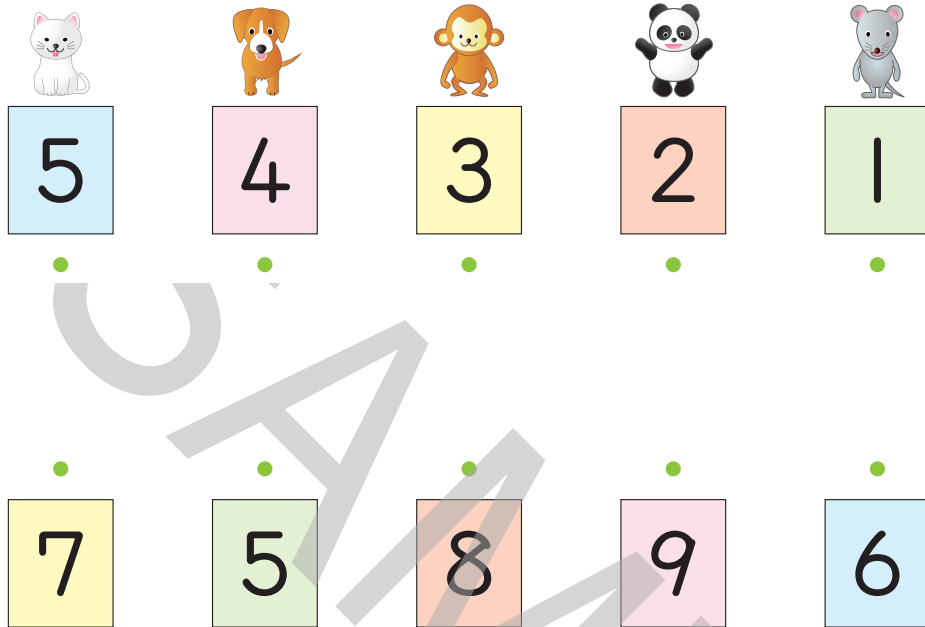
□ (3)



あと

こ

- 4 うえの かあとと したの かあとを あわせて 10になるように せんで おすびましょう。



- 5 □ に すうじを かきましょう。

□ (1) 10は 2と □

□ (2) 10は 6と □

□ (3) 10は □ と 3

□ (4) 10は □ と 1

□ (5) □ と 6で 10

□ (6) □ と 7で 10



10は
いくつと
いくつかな?



まとめ ①




10までの かず




1 えんぴつの かずを すうじで かきましょう。


(1)




(2)



(3)

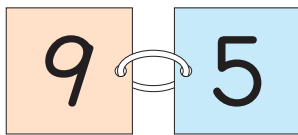


(4)

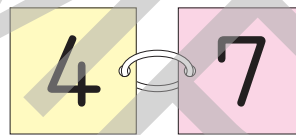


2 かずの おおきい ほうに ○を つけましょう。

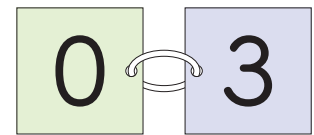
(1)



(2)

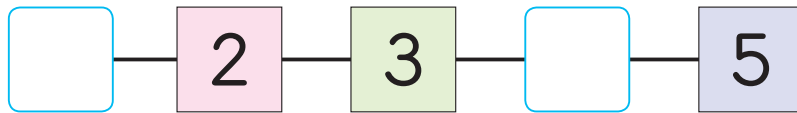


(3)



3 に あてはまる かずを かきましょう。

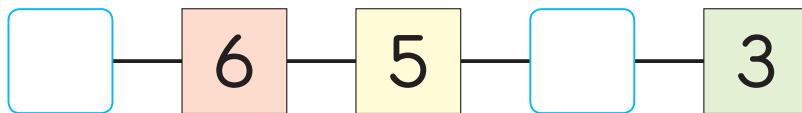
(1)



(2)



(3)






4

○で かこみましょう。

(1) ひだりから 3びき



(2) ひだりから 3びきめ



5

たなに ものが はいって います。

に ことばや かずを かきましょう。

(1) うえから 2ばんめは

です。

(2) したから 3ばんめは

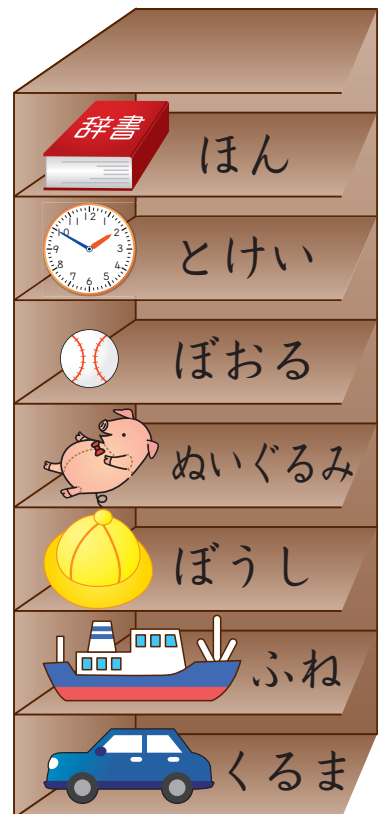
です。

(3) ぼおるは うえから ばんめで、

したから ばんめです。

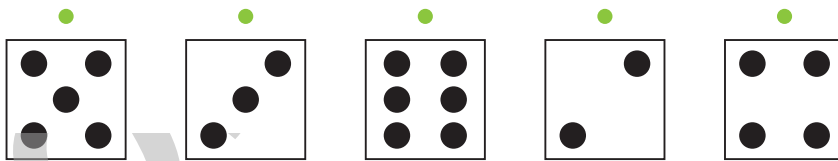

(4) ちょうど まんなかは、うえから ばんめで、

です。



6

うえの かあどの ●と したの かあどの ●を あわ
せて 7に なるように せんで むすびましょう。



7

□ に すうじを かきましょう。

□(1) 5は 2と □ □(2) 8は 3と □

□(3) 10は □ と7 □(4) 9は □ と4

□(5) 7は 4と □ □(6) 6は 5と □

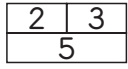
□(7) 5と2で □ □(8) 4と □ で 10

□(9) □ と5で 10 □(10) 2と7で □

□(11) 3と □ で 5 □(12) □ と8で 10

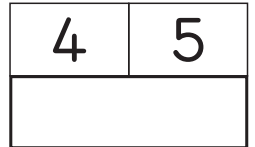


8

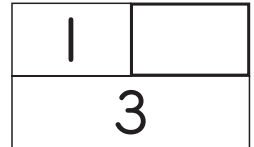


は、2と 3を あわせると 5に なる ことを あらわします。□ に あてはまる かずを かきましょう。

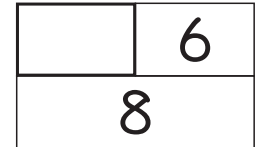
□ (1)



□ (2)



□ (3)



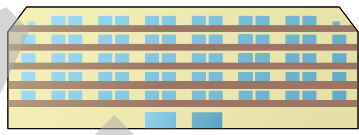
9

いろいろな くるまが 1れつに ならんで います。とちゅうは たてものに かくれて みえません。ばすは まえから 3ばんめで、うしろから 6ばんめです。

<まえ>



ばす



とらつく



<うしろ>



□ (1) くるまは ぜんぶで なんだい ならんで いますか。

こたえ

だい

□ (2) とらつくは まえから なんばんめですか。

こたえ

ばんめ



10

10を つくります。(れい)のように たて、よこ、ななめの 2つの かずを ○で かこみましょう。

(れい)

