

かけ算

28	かけ算	80
29	5のだん, 2のだんの 九九	82
30	3のだん, 4のだんの 九九	84
31	6のだん, 7のだんの 九九	86
32	8のだん, 9のだんの 九九	88
33	1のだんの 九九	90
34	ばい	92
35	かけ算の もんだい	94
36	九九の きまり	96
37	九九を こえた 計算	98
まとめ ⑨	かけ算	100

★ 先どり学しゅう


0の かけ算, □の かけ算	104
わり算(1)	106
わり算(2)	108
わり算(3)	110

10000までの 数

38	10000までの 数の あらわし方	112
39	10000までの 数の じゅんばん	114
40	何千・何百の 計算	116
まとめ ⑩	10000までの 数	118

★ 先どり学しゅう

一万より 大きな 数(1)	122
一万より 大きな 数(2)	124
一万より 大きな 数(3)	126
とても 長い 長さ	128
重さ	130




分数

41	分数	132
----	----	-----

★ 先どり学しゅう

分数(1)	134
分数(2)	136
分数(3)	138
小数(1)	140
小数(2)	142
小数(3)	144



三角形と 四角形

42	三角形と 四角形・直角	146
43	長方形と 正方形	148
44	直角三角形	150
まとめ ⑪	分数, 三角形と 四角形	152

はこの 形

45	はこの 形(1)	156
46	はこの 形(2)	158
まとめ ⑫	はこの 形	160

★ 先どり学しゅう

かけ算の ひっ算(1)	164
かけ算の ひっ算(2)	166
円と 球(1)	168
円と 球(2)	170
三角形(1)	172
三角形(2)	174



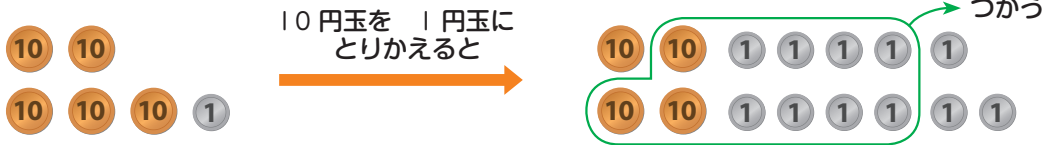
6

くり下がりの ひき算の ひっ算

べんきょうした 日 月 日

やってみよう

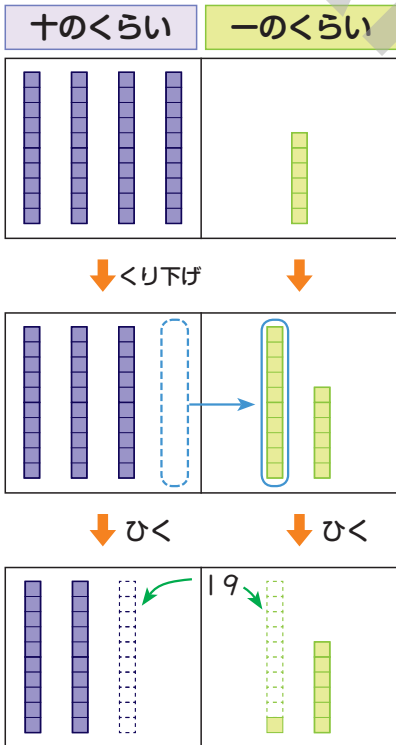
1 51円から 38円を つかうと、のこりは 何円でしょう。




しき $51 - 38 =$ _____

答え _____ 円

2 おりが紙が 46まい あります。19まいを つかうと、おりが紙は 何まい のこるでしょう。



$$\begin{array}{r} 46 \\ - 19 \\ \hline \end{array}$$
 くらいを たてに
そろえて 書く。



$$\begin{array}{r} 3 \\ \cancel{4} 6 \\ - 19 \\ \hline 27 \end{array}$$

一のくらいの 計算

6から 9は ひけない。
十のくらいから
10を 1こ もらってくる。

$16 - 9 =$ _____

十のくらいの 計算

$3 - 1 =$ _____



しき $46 - 19 =$ _____

答え _____ まい



もんだいを といて みよう 

1 つぎの 計算を しましょう。

$$\square (1) \quad \begin{array}{r} 35 \\ -17 \\ \hline \end{array}$$

$$\square (2) \quad \begin{array}{r} 44 \\ -28 \\ \hline \end{array}$$

$$\square (3) \quad \begin{array}{r} 97 \\ -69 \\ \hline \end{array}$$

$$\square (4) \quad \begin{array}{r} 24 \\ -5 \\ \hline \end{array}$$

$$\square (5) \quad \begin{array}{r} 62 \\ -9 \\ \hline \end{array}$$

$$\square (6) \quad \begin{array}{r} 80 \\ -52 \\ \hline \end{array}$$

$$\square (7) \quad 68 - 29 = \text{.....}$$

$$\square (8) \quad 72 - 16 = \text{.....}$$

□ 2 73円から 46円を つかうと、のこりは 何円でしょう。

しき

		-			

答え

.....

□ 3 ぜんぶで 56 ページの 本が あります。このうち 8 ページを 読みました。のこりは 何ページでしょう。

しき

		-			

答え

.....

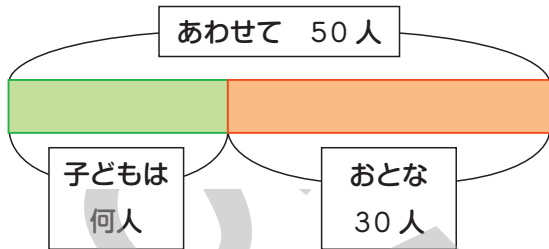
7

ひき算の もんだい

べんきょうした 日 月 日

やってみよう

- 1 子どもとおとながあわせて 50 人 います。
おとなは 30 人です。子どもは 何人でしょう。



しき $\underline{\quad\quad} - \underline{\quad\quad} = \underline{\quad\quad}$
答え $\underline{\quad\quad}$ 人



子どもの人数とおとなの人数を たすと、
ぜんぶの人数になります。
これを しきに あらわすと $\underline{\quad\quad} + \underline{\quad\quad} = \underline{\quad\quad}$

- 2 $64 - 36$ を 計算しましょう。そのあと ひき算の
答えに ひく数を たして みましょう。

ひかれる数……	64	✗	
ひく数……	- 36		+ 36
答え ……			

ひき算の 答えに ひく数を たすと、
ひかれる数に なるよ。
ひき算の 答えの たしかめが できるよ。





もんだいを といて みよう

1 つぎの 計算を して、 答えの たしかめも しましょう。

$$\square (1) \quad \begin{array}{r} 93 \\ -63 \\ \hline \end{array}$$

$$\square (2) \quad \begin{array}{r} 89 \\ -40 \\ \hline \end{array}$$

$$\square (3) \quad \begin{array}{r} 53 \\ -29 \\ \hline \end{array}$$

$$\square (4) \quad \begin{array}{r} 70 \\ -14 \\ \hline \end{array}$$

$$\square (5) \quad \begin{array}{r} 30 \\ -9 \\ \hline \end{array}$$

$$\square (6) \quad \begin{array}{r} 42 \\ -5 \\ \hline \end{array}$$

- 2 ちゅうしゃじょうに くるまが 95台 止まって いました。19台が ちゅうしゃじょうを 出て いました。 のこりは 何台に なったでしょう。

しき

答え

- 3 なおやくんの シールは 60まい あります。 かず子さんの シールは それより 25まい 少ないそうです。 かず子さんの シールは 何まいでしょう。

しき

答え

- 4 子どもが 84人 います。そのうち、 男の子は 57人です。 女の子は 何人でしょう。

しき

答え

まとめ ②



● 2けたの たし算・ひき算



1

つぎの 計算を しましょう。

(1) $13 + 32 =$

(2) $7 + 62 =$

(3) $27 + 56 =$

(4) $49 + 38 =$

(5) $52 + 18 =$

(6) $4 + 76 =$



2

つぎの 計算を しましょう。

(1) $48 - 13 =$

(2) $56 - 26 =$

(3) $72 - 46 =$

(4) $30 - 28 =$

(5) $63 - 16 =$

(6) $91 - 88 =$



3

つぎの に あてはまる 数を 書きましょう。

(1) $32 + 44 = 44 +$

(2) $26 + 58 =$ $+ 26$



4 つぎの 計算を して、 答えの たしかめも しましょう。

(1) $90 - 43 =$

(2) $41 - 7 =$

たしかめ

たしかめ



5 赤い 花が 26本、 白い 花が 9本 あります。

(1) 花は あわせて 何本 ありますか。

しき

答え

(2) 赤い 花は、 白い 花より 何本 多いですか。

しき

答え



6 まなぶくんは 切手を 28まい、 お兄さんは 切手を 62まい もって います。お兄さんが もって いる 切手の うち、 15まいを まなぶくん に あげました。

ふたりの 切手の ちがいは 何まいに なりましたか。

しき

答え