


# も く じ さんすう Book ① a



## 10までの かず



1	なかま	4
2	1から 5までの かず	8
3	6から 10までの かず	12
4	10までの かず	16
5	なんばんめ	20
6	いくつと いくつかな	24
7	10は いくつと いくつかな	28
まとめ ① 10までの かず		32

## たしざん・ひきざん

8	たしざん (1)	36
9	たしざん (2)	40
10	ひきざん (1)	44
11	ひきざん (2)	48
12	0の たしざん, ひきざん	52
13	たしざんかな, ひきざんかな (1)	56
14	たしざんかな, ひきざんかな (2)	60
まとめ ② たしざん・ひきざん		64



## ながさくらべ


15	ながさくらべ	68
まとめ ③ ながさくらべ		72

## 20までの かず

16	20までの かずの あらわしかた	76
17	20までの かずの じゅんばん	78
18	10と いくつ	80
まとめ ④ 20までの かず		82

## おおきさくらべ

19	かさくらべ	84
20	ひろさくらべ	86
まとめ ⑤ かさくらべ/ひろさくらべ		88




### 3つの かずの けいさん

- 21 3つの かずの けいさん(1)..... 90
- 22 3つの かずの けいさん(2)..... 92



### くりあがりの たしざん・くりさがりのひきざん


- 23 くりあがりの たしざん(1) ..... 94
- 24 くりあがりの たしざん(2) ..... 96
- 25 くりあがりの たしざん(3) ..... 98
- 26 くりさがりの ひきざん(1) ..... 100
- 27 くりさがりの ひきざん(2) ..... 102
- 28 くりさがりの ひきざん(3) ..... 104



- まとめ ⑥ 3つの かずの けいさん/くりあがり・くりさがり ..... 106

### いろいろな ぶんしょうだい

- 29 ぶんしょうだい(1) ..... 110
- 30 ぶんしょうだい(2) ..... 112
- 31 かずしらべ, くばりかた ..... 114



- まとめ ⑦ いろいろな ぶんしょうだい ..... 116



### おおきな かず

- 32 おおきな かずの あらわしかた ..... 118
- 33 おおきな かずの じゅんばん ..... 120
- まとめ ⑧ おおきな かず ..... 122



### 100までの かずの けいさん

- 34 100までの かずの けいさん(1) ..... 126
- 35 100までの かずの けいさん(2) ..... 128
- まとめ ⑨ 100までの かずの けいさん ..... 130

### とけい

- 36 なんじ, なんじはん ..... 132
- 37 なんじなんぷん ..... 134
- まとめ ⑩ とけい ..... 136



### かたち

- 38 いろいろな かたち ..... 138
- 39 かたちづくり ..... 140
- まとめ ⑪ かたち ..... 142

## 6

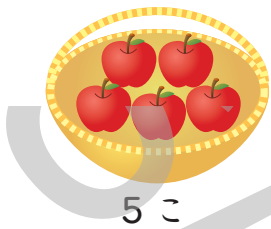
## いくつと いくつかな

べんきょうした ひ がつ にち




5このりんごを2つのさらにわけます。  
みぎのさらにのるりんごのかずだけいろをぬりましょう。

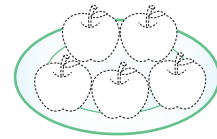
(1)



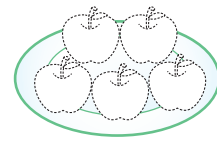
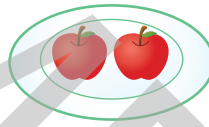

ひだり



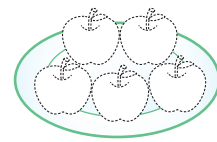


みぎ



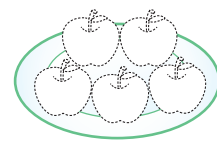


(2)




(3)



(4)

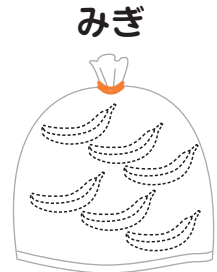


「5は 1と 4」  
「5は 2と 3」  
に わけられるね。



- 1 6ぽんの ばななを 2つの ふくろに わけます。  
みぎの ふくろに はいる ばななの かずだけ いろを  
ぬりましょう。

□(1)



□(2)



□(3)



□(4)

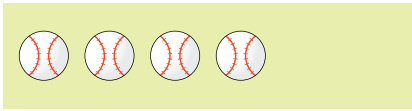


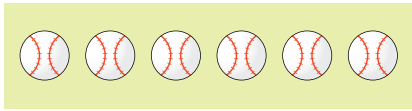
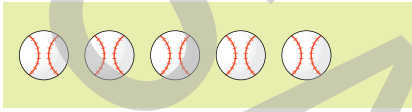





□(5)







「6は 1と 5」  
「6は 2と 4」  
「6は 3と 3」  
に わけられるね。

- **2** ぼおるが 7こに なるように ひだりと みぎを  
 せて むすびましょう。

	•	•	
	•	•	
	•	•	
	•	•	

- **3** あと いくつで 8こに なるかな。 □ に すうじを  
 かきましょう。

□ (1) 	あと	<input type="text"/>	こ
□ (2) 	あと	<input type="text"/>	こ
□ (3) 	あと	<input type="text"/>	こ
□ (4) 	あと	<input type="text"/>	こ

- 4 あかの かあとと あおの かあとを あわせて 9 になるように せんで おすびましょう。

あかの かあと	<input type="text" value="1"/>	<input type="text" value="2"/>	<input type="text" value="5"/>	<input type="text" value="6"/>	<input type="text" value="3"/>
	●	●	●	●	●
あおの かあと	<input type="text" value="4"/>	<input type="text" value="3"/>	<input type="text" value="8"/>	<input type="text" value="7"/>	<input type="text" value="6"/>
	●	●	●	●	●

- 5  に すうじを かきましょう。


- (1) 7は 6と
- (2) 5は 1と
- (3) 8は  と4
- (4) 6は  と2
- (5)  と4で 7
- (6)  と3で 9
- (7) 2と  で 5
- (8) 3と  で 8






10この いちごを 2つの さらに わけます。  
みぎの さらに のる いちごの かずだけ いろを  
ぬりましょう。

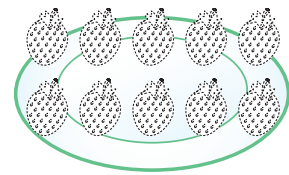
(1)



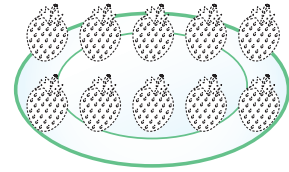

ひだり



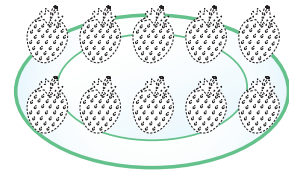

みぎ



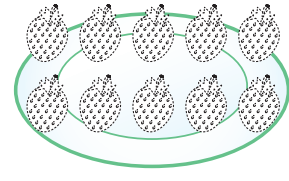


(2)



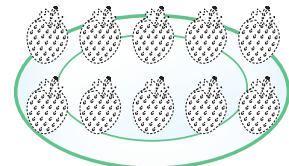


(3)






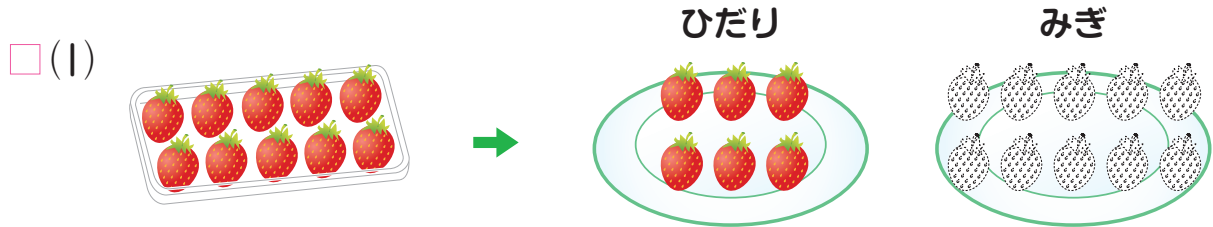
(4)



(5)



1 10この いちごを 2つの さらに わけます。みぎの さらに のる いちごの かずだけ いろを ぬりましょう。

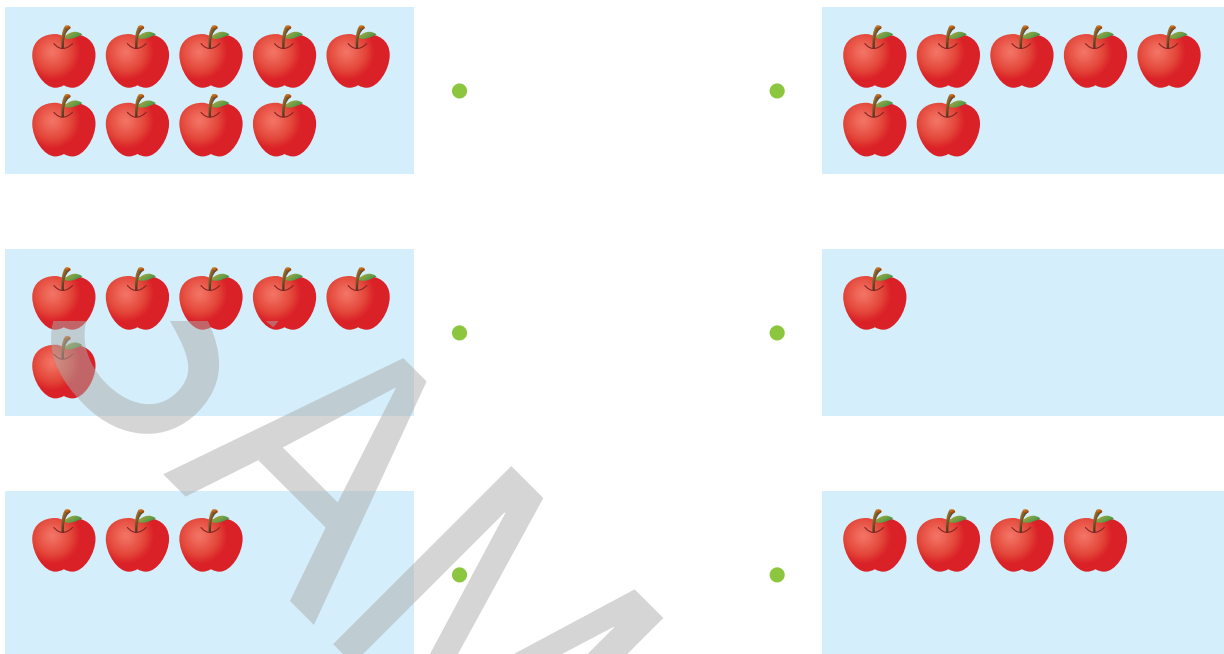


「10は 6と 4」  
 「10は 7と 3」  
 「10は 8と 2」  
 「10は 9と 1」  
 だよ。








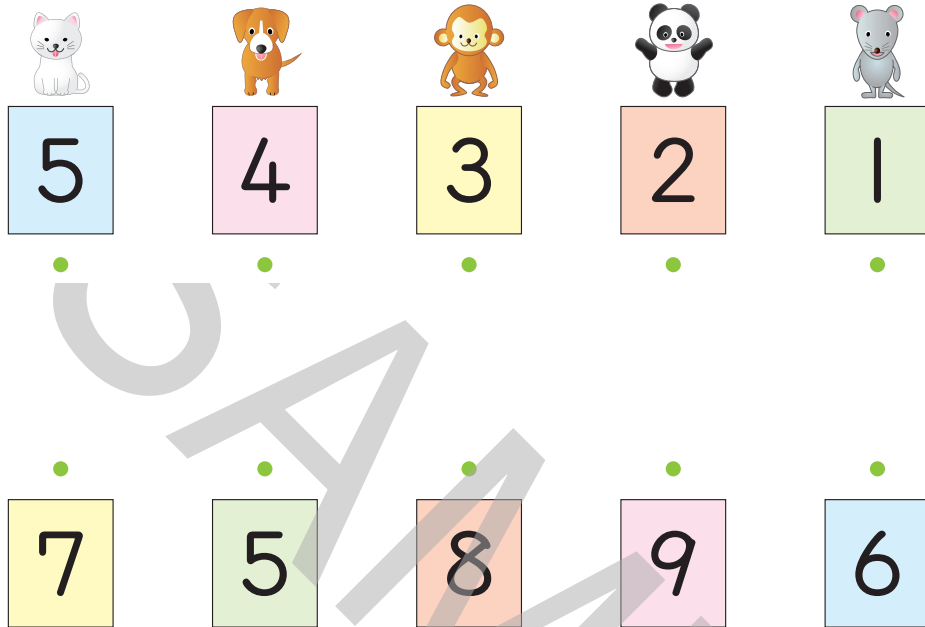
- **2** りんごが 10こに なるように ひだりと みぎを  
 せて むすびましょう。



- **3** あと いくつで 10こに なるかな。□ に すうじを  
 かきましょう。

- (1)  あと  こ
- (2)  あと  こ
- (3)  あと  こ

- 4 うえの かあとと したの かあとを あわせて 10になるように せんで おすびましょう。



- 5 □ に すうじを かきましょう。

□ (1) 10は 2と □

□ (2) 10は 6と □

□ (3) 10は □ と3

□ (4) 10は □ と1

□ (5) □ と6で 10

□ (6) □ と7で 10



10は  
いくつと  
いくつかな?



# まとめ ①




## 10までの かず




1 えんぴつの かずを すうじて かきましょう。


(1)




(2)



(3)

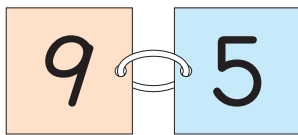


(4)

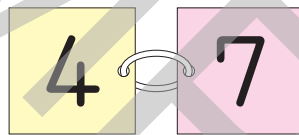


2 かずの おおきい ほうに ○を つけましょう。

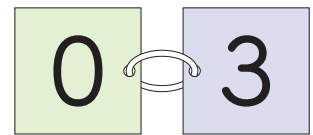
(1)



(2)

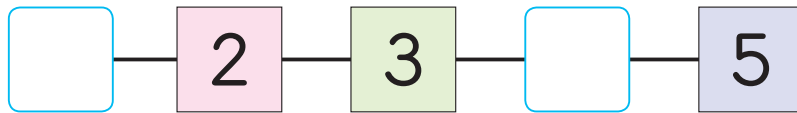


(3)



3  に あてはまる かずを かきましょう。

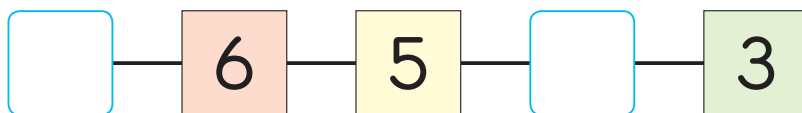
(1)



(2)



(3)






4 ○で かこみましょう。

□(1) ひだりから 3びき



□(2) ひだりから 3びきめ



5 たなに ものが はいって います。

□に ことばや かずを かきましょう。

□(1) うえから 2ばんめは

□です。

□(2) したから 3ばんめは

□です。

□(3) ぼおるは うえから □ばんめで、

したから □ばんめです。

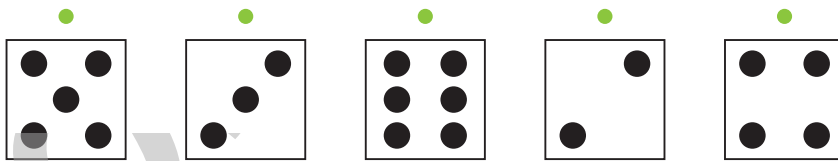

□(4) ちょうど まんなかは、うえから □ばんめで、

□です。



6

うえの かあどの ●と したの かあどの ●を あわ  
せて 7に なるように せんで むすびましょう。



7

□ に すうじを かきましょう。

□(1) 5は 2と □ □(2) 8は 3と □

□(3) 10は □ と7 □(4) 9は □ と4

□(5) 7は 4と □ □(6) 6は 5と □

□(7) 5と2で □ □(8) 4と □ で 10

□(9) □ と5で 10 □(10) 2と7で □

□(11) 3と □ で 5 □(12) □ と8で 10



8

2	3
5	

は、2と 3を あわせると 5に なる ことを あらわします。□ に あてはまる かずを かきましょう。

□ (1)

4	5

□ (2)

1	
3	

□ (3)

	6
8	



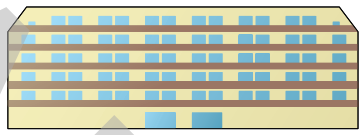
9

いろいろな くるまが 1れつに ならんで います。とちゅうは たてももの に かくれて みえません。ばすは まえから 3ばんめで、うしろから 6ばんめです。

<まえ>



ばす



とらつく



<うしろ>



□ (1) くるまは ぜんぶで なんだい ならんで いますか。

こたえ

だい

□ (2) とらつくは まえから なんばんめですか。

こたえ

ばんめ



10

10を つくります。(れい)のように たて、よこ、ななめの 2つの かずを ○で かこみましょう。

(れい)

3	2	5
6	7	5
1	9	4

4	6	3	2	5
1	8	7	5	7
9	6	2	2	3
4	2	6	1	8