

## 特徴と使い方

- ▶このテストは、国立・私立中学校受験のための入試準備用総仕上げテストです。
- ▶難易度・出題傾向ともに実際の中学校入試に準拠しています。
- ▶教科書範囲を中心に出题した前半6回のA問題(実施時間が、理社で合わせて1科目相当の実入試の分量)と、中学入試の頻出問題から出题した後半6回のB問題(社会で1科目相当の実施時間の実入試の分量)により、段階的に入試の演習をすることが可能です。
- ▶成績推移グラフの作成・領域ごとの得点集計が可能ですから、学力の安定度および弱点領域を正確に把握できます。
- ▶別冊の詳しい解答・解説は、補充問題付きですから、効率的に復習に役立ちます。

## カリキュラム

領 域	A1	A2	A3	A4	A5	A6	B1	B2	B3	B4	B5	B6
① 地 理	1	1	1	1	1	1	1	3	1	3	3	1
② 歴 史	2	2	2	2	2	2	2	1	3	2	2	2
③ 公 民	3	3	3	3	3	3	3	2	2	1	1	3
④ 分野融合							4	4	4	4	4	4

# 実戦トライアル

## A 第1回

# 社 会

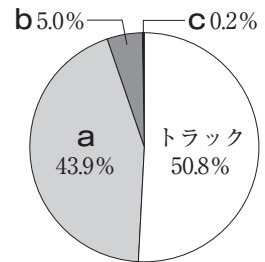
- 注意：1. この問題用紙は、先生の「始め」の合図があるまで開いてはいけません。
2. 解答欄は、この用紙の裏面です。答えは、すべてこの解答欄に記入下さい。
3. 先生の「やめ」の合図があったら、指示に従って解答欄のあるこの用紙だけを提出して下さい。

1 次の文章を読んで、あとの問いに答えなさい。

私は冬休みに出雲市と境港市に行きました。東京国際空港から1時間半ほどあ航空機に乗り、島根県の出雲空港に降り立ちました。空港からはバスに乗って、出雲大社に向かいました。出雲大社に参拝した後、同じ県内にある世界遺産に指定された鉱山遺跡を見学し、この日はその遺跡のある市に宿泊しました。

翌日は列車に乗り、い鳥取県の境港市へう向かいました。移動する途中、日本最大のシジミの産地として知られるえ湖の横を通りました。この湖は、海水と淡水が混じった汽水湖でもあります。日本には、他にもお静岡県の浜名湖やか北海道のサロマ湖などの汽水湖があります。境港市に着くと、有名な漁港であるき境港へ行き、昼ご飯には新鮮な魚をさばいた刺身を食べました。

- (1) 下線あについて、右のグラフは日本における国内貨物輸送量の輸送方法の割合を示しています。グラフ中のa～cにあてはまるものの組み合わせとして最も適当なものを次から1つ選び、記号で答えなさい。



(国土交通省 交通政策白書データ集より)

- ア a = 航空 b = 海運 c = 鉄道    イ a = 鉄道 b = 航空 c = 海運  
ウ a = 海運 b = 鉄道 c = 航空    エ a = 鉄道 b = 海運 c = 航空

- (2) 下線いの県で生産される伝統的工芸品として最も適当なものを次から1つ選び、記号で答えなさい。

- ア 因州和紙    イ 九谷焼    ウ 熊野筆    エ 南部鉄器

- (3) 下線うについて、おおよそどちらの方角へ向かいましたか。次から1つ選び、記号で答えなさい。

- ア 東    イ 西    ウ 南    エ 北

- (4) 下線えの湖の名を答えなさい。

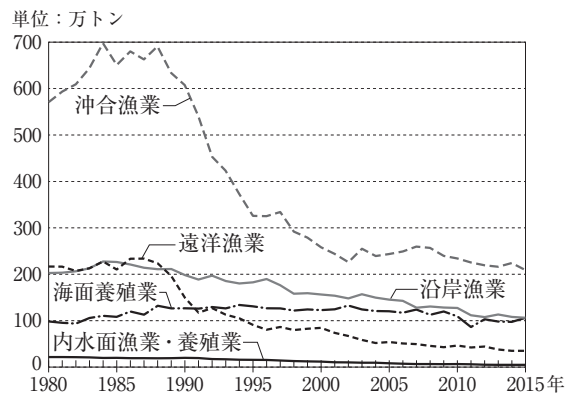
- (5) 下線おの県の工業に関する説明として最も適当なものを次から1つ選び、記号で答えなさい。

- ア 静岡市では楽器やオートバイの生産がさかんである。  
イ 富士市では製紙工業がさかんである。  
ウ 焼津港は、主に工業製品の輸出を行っている。  
エ 静岡県沿岸部は京浜工業地帯の一部である。

- (6) 下線かの説明として不適当なものを次から1つ選び、記号で答えなさい。

- ア 札幌市は政令指定都市の1つである。  
イ 北海道と本州を結ぶ海底トンネルを、青函トンネルという。  
ウ 根釧台地は稲作に適さないため、酪農がさかんである。  
エ 温帯に属し、梅雨である6月は年間で最も降水量が多い。

- (7) 下線きの港について、右のグラフは日本の漁業生産量の推移を示したものです。このグラフの説明として不適当なものを次から1つ選び、記号で答えなさい。



(農林水産省資料より)

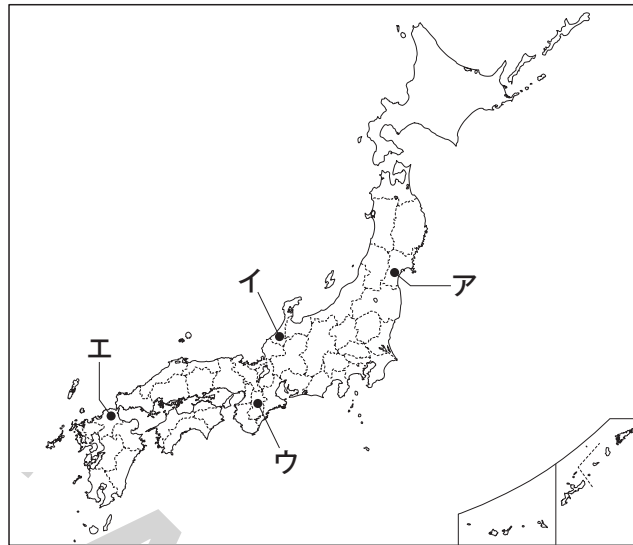
- ア 沖合漁業の生産量は、2000年からの10年間で200万トン以上減少している。  
イ 海面養殖業の生産量は、2015年時点で、1980年の生産量とほぼ同じである。  
ウ 2015年の遠洋漁業の生産量は、1980年代後半の4分の1以下に減少している。  
エ 1990年の漁業生産量の合計は1000万トンを超えていた。

2 次の年表を見て、あとの問いに答えなさい。

2400年以上前	大陸から朝鮮半島に移り住んだ人々により、 <u>あ</u> 稲作が伝わる。
4～5世紀	<u>い</u> 大和朝廷の統一が進む。
7世紀	聖徳太子により十七条の憲法がつくられる。 <u>う</u> 大化の改新が行われる。
8世紀	<u>え</u> 奈良に都が置かれる。
8世紀末	<u>お</u> 京都に都が移される。
～9世紀	遣唐使が取りやめになる。
11世紀	藤原道長が政治の実権をにぎる。
12世紀	源氏と平氏の戦いがおこる。 源頼朝が <u>か</u> 征夷大將軍となる。
13世紀	<u>き</u> 元が日本に攻めてくる。
14世紀	鎌倉幕府が減びる。 <u>く</u> 足利氏が京都に幕府を開く。
15世紀	応仁の乱がおこり、戦国時代に入る。
17世紀	<u>け</u> 徳川家康が江戸に幕府を開く。
19世紀	明治政府がつくられ、江戸を東京と改める。 <u>こ</u> 大日本帝国憲法が公布される。

- (1) 下線あのの時期を説明した文として不適当なものを次から1つ選び、記号で答えなさい。  
 ア 弥生土器といわれる、縄文土器よりもうすくてかたい土器がつくられるようになった。  
 イ 中国、朝鮮半島から鉄器や青銅器が伝わった。  
 ウ 朝鮮半島の百済と呼ばれる国から仏教が伝わった。
- (2) 下線いのの時期には、日本最大の古墳である大仙古墳がつくられています。大仙古墳がある現在の都道府県として最も適当なものを次から1つ選び、記号で答えなさい。  
 ア 大阪府    イ 北海道    ウ 東京都    エ 愛知県
- (3) 下線うのの時期には、新たな税の制度が定められました。「庸」にあたる説明として最も適当なものを次から1つ選び、記号で答えなさい。  
 ア 織物や地方の特産物を納める。  
 イ 唐にわたり、進んだ文化を学んで帰国する。  
 ウ 稲の収穫高の3%を納める。  
 エ 都で年間に10日間働くか、布などを納める。
- (4) 下線えについて、奈良に置かれた都を何といいますか。漢字3字で答えなさい。
- (5) 下線おが行われたときに天皇であった人物として最も適当なものを次から1人選び、記号で答えなさい。  
 ア 聖武天皇    イ 持統天皇    ウ 推古天皇    エ 桓武天皇

- (6) 下線かについて、征夷大將軍はもともと蝦夷(朝廷にしたがわなかった東の異民族または地域)を征服するために定められた役職でした。蝦夷を示している場所として最も適当なものを次の地図中から1つ選び、記号で答えなさい。



- (7) 下線きのときに執権をつとめていた人物として最も適当なものを次から1人選び、記号で答えなさい。  
ア 源義経　イ 北条時宗　ウ 北条政子　エ 竹崎季長
- (8) 下線くの時期は室町時代と呼ばれます。その中で、金閣を建てた3代将軍の姓名を漢字で答えなさい。
- (9) 下線けについて、この時代は江戸時代と呼ばれます。江戸幕府を開いた徳川家康は、当時人々に広がっていたキリスト教に対してどのような対応をとりましたか。その理由もふくめて簡単に説明しなさい。
- (10) 下線こについて、このできごとのあとにおこったできごととして**不適当なもの**を次から1つ選び、記号で答えなさい。
- ア 朝鮮半島の大韓帝国を併合し、日本の植民地とした。  
イ 対立していたロシアと戦争を行い(日露戦争)、アメリカの仲介で翌年に講和条約を結んだ。  
ウ 満州にいた日本軍が中国軍を攻撃したことをきっかけに、日本が満州を占領した。  
エ 政府の役人をやめた板垣退助が、自由民権運動を展開した。

3 次の日本国憲法の条文を読んで、あとの問いに答えなさい。

あ第9条 ① 日本国民は、正義と秩序を基調とする国際平和を誠実に希求し、国権の発動たる( 1 )と、( 2 )による威嚇又は( 2 )の行使は、( 3 )を解決する手段としては、永久にこれを放棄する。

② 前項の目的を達するため、陸海空軍その他の( 4 )は、これを保持しない。国の交戦権はこれを認めない。

第11条 国民は、すべてのい基本的人権の享有を妨げられない。この憲法が国民に保障する基本的人権は、侵すことのできない永久の権利として、現在及び将来の国民に与えられる。

第41条 国会は、国権の最高機関であつて、国の唯一の( 5 )機関である。

第65条 行政権は、う内閣に属する。

第76条 ① すべてえ司法権は、( 6 )裁判所及び法律の定めるところにより設置する下級裁判所に属する。(以下略)

(1) ( 1 )~( 4 )にあてはまる語句の組み合わせとして最も適当なものを次から1つ選び、記号で答えなさい。

- ア 1 = 戦争            2 = 戦力            3 = 国際紛争        4 = 武力  
イ 1 = 国際紛争        2 = 武力            3 = 戦争            4 = 戦力  
ウ 1 = 戦争            2 = 武力            3 = 国際紛争        4 = 戦力  
エ 1 = 国際紛争        2 = 戦力            3 = 戦争            4 = 武力

(2) 下線あで示されている日本国憲法の基本原則を答えなさい。

(3) 下線いについて、基本的人権ではないものを次から1つ選び、記号で答えなさい。

- ア 職業を選ぶ自由        イ 選挙権  
ウ 教育を受ける権利    エ 裁判官を任命する権利

(4) ( 5 )にあてはまる語句を漢字2字で答えなさい。

(5) 下線うについて、内閣の仕事ではないものを次から1つ選び、記号で答えなさい。

- ア 法律にしたがって実際に政治を行う。        イ 国を代表して外国との交渉にあたる。  
ウ 裁判官を裁く裁判所を設置する。            エ 国の予算案を国会に提出する。

(6) ( 6 )にあてはまる語句を漢字2字で答えなさい。

(7) 下線えについて、裁判を公正に行い、国民の基本的人権を守るために、1つの裁判につき3回まで裁判を受けられるようになっています。そのしくみを何といいますか。漢字3字で答えなさい。

(これで問題は終わりです)

<b>1</b>	(1)	4点
		1
	(2)	4点
		2
	(3)	4点
		3
	(4)	4点
	4	
(5)	4点	
	5	
(6)	4点	
	6	
(7)	4点	
	7	

<b>1</b>	/28
----------	-----

<b>2</b>	(1)	4点
		8
	(2)	4点
		9
	(3)	4点
		10
	(4)	4点
		11
	(5)	4点
		12
(6)	4点	
	13	
(7)	4点	
	14	
(8)	4点	
	15	
(9)	8点	
	16	
(10)	4点	
	17	

<b>2</b>	/44
----------	-----

クラス	番号	氏名	性別	総得点
			男 女	/ 100

<b>3</b>	(1)		4点 18
	(2)		4点 19
	(3)		4点 20
	(4)		4点 21
	(5)		4点 22
	(6)		4点 23
	(7)		4点 24

<b>3</b>	/ 28
----------	------

領域別得点	① 地理	② 歴史	③ 公民	④ 分野融合
		/ 28	/ 44	/ 28



実戦トライアル

B 第1回

社 会

- 注意：1. この問題用紙は、先生の「始め」の合図があるまで開いてはいけません。
2. 解答欄は、この用紙の裏面です。答えは、すべてこの解答欄に記入下さい。
3. 先生の「やめ」の合図があったら、指示に従って解答欄のあるこの用紙だけを提出して下さい。

このページは余白です。  
次へ進みなさい。

1 日本のさまざまな産業について、次の問いに答えなさい。

(1) 次の文章を読んで、あとの問いに答えなさい。

日本では、近年食生活の洋風化が進み、肉類や乳製品の消費量が増えるとともに、あ畜産業もさかんになってきました。その畜産業も飼料を大量に輸入に頼っていることや、1991年から牛肉と( 1 )の輸入自由化による国際競争力が求められていることなど、多くの問題を抱えています。また、日本のい食料自給率も1960年代から少しずつ低下し、近年では約( 2 )%の状態が続いており、先進国の中でも日本の食料自給率は極めて低い状態です。

① 下線あについて、次の表は乳牛・肉用にわとり・肉牛・ぶたの都道府県別飼育数の割合(%)です。表中のア・イにあてはまる都道府県名をそれぞれ漢字で答えなさい。ただし、同じ記号には同じ都道府県があてはまります。

順位	乳牛	肉用にわとり	肉牛	ぶた
1位	<u>ア</u> (58.9)	宮崎(20.5)	<u>ア</u> (20.7)	<u>イ</u> (14.2)
2位	栃木(3.9)	<u>イ</u> (19.7)	<u>イ</u> (12.9)	宮崎(9.1)
3位	岩手(3.2)	岩手(16.3)	宮崎(9.8)	千葉(7.1)
4位	熊本(3.2)	青森(5.4)	熊本(5.0)	<u>ア</u> (6.8)

(2018年版「日本国勢図会」より)

② ( 1 )にあてはまる語句として最も適当なものを次から1つ選び、記号で答えなさい。

ア ジャガイモ イ オレンジ ウ 米 エ とうもろこし

③ ( 2 )にあてはまる数字として最も適当なものを次から1つ選び、記号で答えなさい。

ア 80 イ 50 ウ 40 エ 20

④ 下線いについて、次の表は日本の主な食料の自給率(%)の移り変わりを示したもので、表中のア~エは、米・肉類・野菜・大豆のいずれかを示しています。肉類と大豆にあたるものを表中から1つずつ選び、記号で答えなさい。

	1960年	1980年	2000年	2010年	2016年
<u>ア</u>	100	97	81	81	80
<u>イ</u>	28	4	5	6	7
<u>ウ</u>	91	81	52	56	53
<u>エ</u>	102	100	95	97	97
小麦	39	10	11	9	12

(2018年版「日本国勢図会」より)

⑤ 上の表にある通り、日本において小麦の食料自給率は著しく低いため、海外からの輸入に頼っている現状があります。現在、日本の小麦の輸入先として第1位の国はどこですか。次から1つ選び、記号で答えなさい。

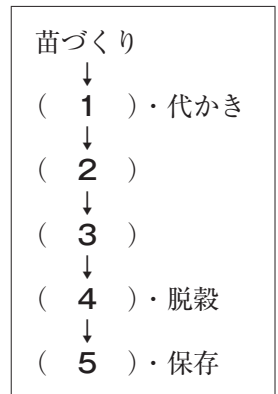
ア アメリカ合衆国 イ ブラジル

ウ 中華人民共和国(中国) エ カナダ

(2) 次の文章を読んで、あとの問いに答えなさい。

日本のう米づくりでは、え農業協同組合が中心となって地域の栽培計画を立てたり技術指導などを行ったりしています。政府は1960年代後半から、お生産調整を進めてきました。現在は農家の高齢化や後継者不足などが課題となっています。

- ① 下線うについて、右の図は、米づくりの作業の一部を表したものであり、  
 ( 1 )～( 5 )には、次のア～オのいずれかの作業があてはまります。  
 ( 2 ), ( 4 )にあてはまる作業を次から1つずつ選び、記号で答えなさい。




- ア 稲かり  
 イ 中ぼし  
 ウ 乾燥  
 エ 田植え  
 オ 田おこし

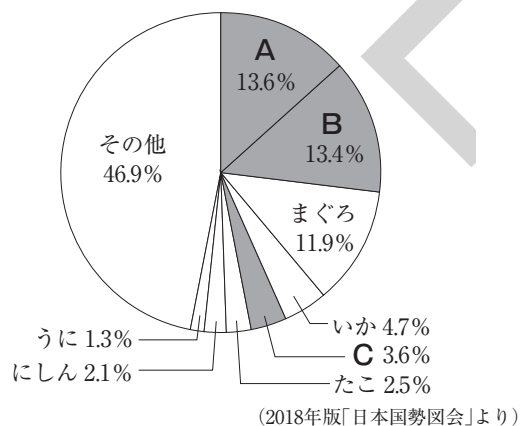
- ② 下線えの「農業協同組合」は別名で何といいますか。アルファベットの大文字で答えなさい。  
 ③ 下線おについて、生産調整とは、具体的にどのようなことが行われてきましたか、説明しなさい。

(3) 日本の漁業について、次の問いに答えなさい。

- ① かれい・たい・ひらめなどを漁獲するのに適した底びき網漁を表したものとして最も適当なものを次から1つ選び、記号で答えなさい。

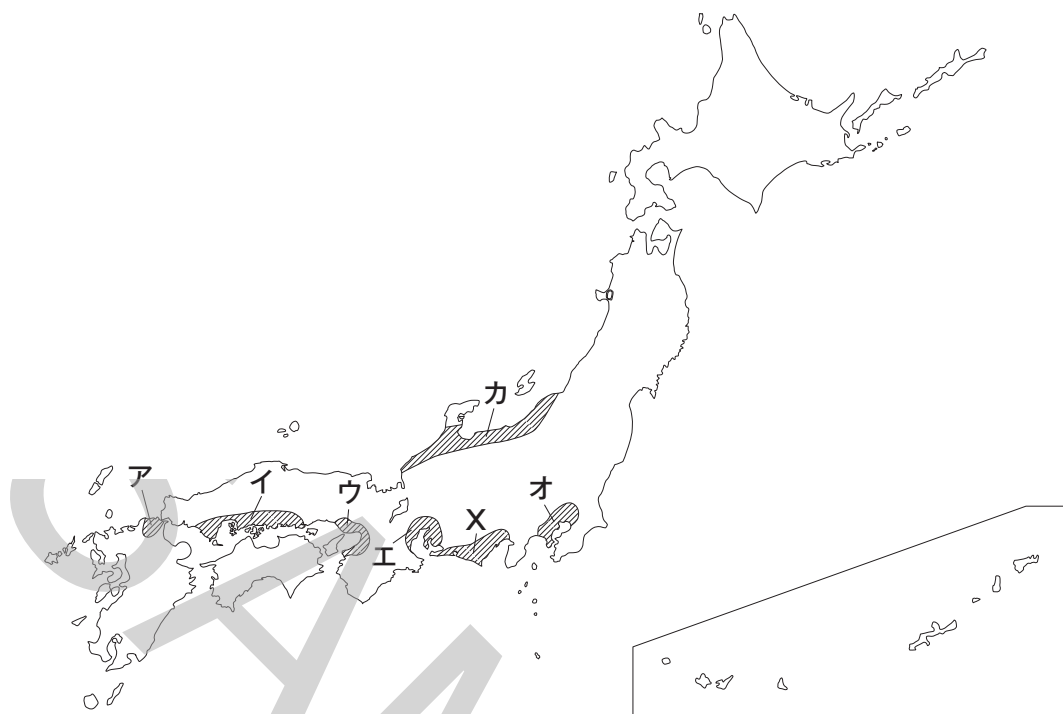


- ② 次のグラフは、日本のおもな輸入水産物の輸入額割合(生鮮・冷凍の合計金額)を示したものです。A～Cにあてはまる水産物の組み合わせとして最も適当なものをあとから1つ選び、記号で答えなさい。



- |   |         |       |         |
|---|---------|-------|---------|
| ア | A-かに    | B-うなぎ | C-えび    |
| イ | A-かに    | B-えび  | C-さけ・ます |
| ウ | A-さけ・ます | B-うなぎ | C-かに    |
| エ | A-さけ・ます | B-えび  | C-かに    |
| オ | A-えび    | B-うなぎ | C-さけ・ます |

(4) 次の地図の斜線の部分は日本の代表的な工業地帯(地域)を示しています。この地図について、あとの問いに答えなさい。



① 次のA, Bの文は、地図中に示したア～カのうち、どの工業地帯(地域)の説明をしたものですか。地図中から1つずつ選び、記号で答えなさい。

A 古くから、せんい工業や焼き物を中心としたよう業がさかんであったが、戦後より石油化学工業や自動車工業などの重化学工業が発展している。

B 他の工業地帯(地域)と比べて中小工場の割合が高く、金属・化学工業などの割合が高いことが特徴であるが、近年は全国にしめる地位が低下しつつある。

② 地図中のXは東海工業地域を示しています。右の表は、この東海工業地域において生産されている代表的な工業製品の都道府県別の生産額割合を表したものです。この工業製品を次から1つ選び、記号で答えなさい。

ア 紙・パルプ

イ 楽器

ウ 家具

エ 自動車(オートバイ)

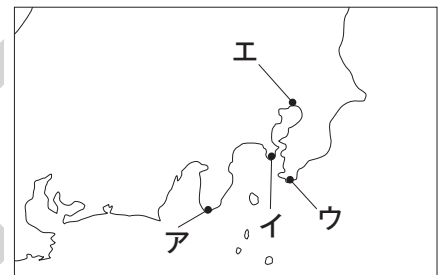
順位	都道府県名	割合(%)
1位	静岡	10.9
2位	愛媛	8.1
3位	埼玉	6.1
4位	北海道	5.9
5位	愛知	5.8

(2018年版「県勢」より)

2 右の年表を見て、次の問いに答えなさい。

- (1) ( 1 )～( 3 )にあてはまる語句を答えなさい。
- (2) 下線あについて、( 1 )の人物は、ある時代の書物を研究するところから日本人の心をさぐろうとしました。どの時代の書物を研究しましたか、答えなさい。
- (3) 下線い場所として最も適当なものを右下の地図中から1つ選び、記号で答えなさい。
- (4) 下線うについて、このできごとは、現在のどこの国でおこりましたか。その国の正式な名称を漢字で答えなさい。
- (5) 下線えについて、当時、日本が東南アジアに進出した目的を簡単に説明しなさい。
- (6) 下線おについて、次の問いに答えなさい。
- ① この講和会議で結ばれた条約の名を答えなさい。
- ② この講和会議をきっかけに、日本は国の政治のあり方を決める権力を回復しました。この権力を何といいますか。漢字2字で答えなさい。
- (7) Xについて、このことを何といいますか、漢字で答えなさい。
- (8) Yで示した時期におこった次のア～エのできごとを年代の古い順に左から並べ、記号で答えなさい。
- ア 西南戦争がおこる。  
 イ 徴兵令が定められる。  
 ウ 五箇条の御誓文が出される。  
 エ 大日本帝国憲法が發布される。
- (9) Zについて、当時、関東大震災は世界的な大事件として全世界に報道されました。この地震がおきた時代名を、次に示した同時代のできごとを参考にして答えなさい。

年代	できごと
1798	( 1 )があ「古事記伝」を著す。
1853	ペリーがい浦賀に来る。
1854	アメリカとの間で( 2 )条約を結ぶ。
1867	徳川慶喜が政権を朝廷に返す。……X
	↑ Y ↓
1923	関東大震災がおこる。……Z
1931	う満州事変がおこる。
1933	日本が国際機関の( 3 )を脱退する。
1940	え日本は東南アジアに進軍する。
1941	太平洋戦争がおこる。
1945	広島・長崎に原子爆弾が投下される。
1951	おアメリカで講和会議が開かれる。



この時代、人々の民主主義に対する意識が高まり、普通選挙を求める運動の結果、25歳以上のすべての男子に選挙権が認められました。また、全国水平社が結成され、差別をなくそうとする運動もおこりました。平塚らいてうや市川房枝らは、女性の地位向上を求める運動を始めました。

3 次の各問いに答えなさい。

- (1) 日本国憲法が施行された年月日を解答欄にあうように答えなさい。ただし、年は西暦で答えなさい。
- (2) 日本の内閣について述べた文として**不適当なもの**を次から1つ選び、記号で答えなさい。
- ア 内閣総理大臣は多くの場合、衆議院で多数をしめる政党の代表が選ばれる。
  - イ 内閣には、省や庁に属さず特別な仕事を担当する大臣を置くことができる。
  - ウ 内閣が憲法改正を国民に提案するというのが、憲法に定められている。
  - エ 内閣は、天皇の国事行為に助言と承認を行う。
- (3) 次の説明にあてはまる裁判所を**漢字**で答えなさい。

比較的軽い犯罪や少ない金額の借金の争いなどの第一審を担当し、全国各地の都市に400か所以上設置されています。

- (4) 都道府県知事と都道府県議会について述べた文として最も適当なものを次から1つ選び、記号で答えなさい。
- ア 都道府県議会議員に立候補できる年齢は、18歳以上である。
  - イ 都道府県知事と都道府県議会議員の任期は、どちらも4年である。
  - ウ 都道府県知事は、都道府県議会議員の中から選ばれる。
  - エ 都道府県知事は、条例を制定したり、改正したりすることができる。
- (5) 夫婦だけ、または、親と子どもだけで構成される家族を何といいますか。答えなさい。
- (6) 次の文章は、近年、問題になっている「食品ロス」について述べたものです。「食品ロス」とはどのようなことですか。**20字以内**で説明しなさい。

日本では、1年間に約621万トンの「食品ロス」が発生しています。これは、世界中で飢えに苦しむ人々に向けた食料援助量の約2倍に相当します。現在、「食品ロス」を減らすために、さまざまな取り組みが行われています。例えば、家にある食材の消費期限を確認して期限内に使い切ったり、学校で給食を残さないように呼びかけたりすることなどです。

(農林水産省および環境省「平成26年度推計」より)

- (7) 現在の日本や世界の人口について述べた文として最も適当なものを次から1つ選び、記号で答えなさい。
- ア 日本は出生者数より死亡者数が多く、人口が減少している。
  - イ 日本の人口の約4分の1が、東京都に集中している。
  - ウ 世界の人口は増え続け、90億人に達している。
  - エ 世界で最も人口が多い国は、インドである。
- (8) 人種や宗教、政治的な考えなどを理由に自国で迫害されるおそれがあるため、外国などにのがれた人々のことを何といいますか。**漢字**で答えなさい。
- (9) 17歳でノーベル平和賞を受賞し、2017年には国連平和大使に選ばれたマララ・ユスフザイさんがこれまでの活動で特に強く訴えてきたのは、「女子が□□□□を受ける権利」です。□□□□にあてはまる語句を**漢字2字**で答えなさい。

(10) 世界の三大宗教の一つに数えられる，イスラム教について述べた文として**不適当なもの**を次から1つ選び，記号で答えなさい。

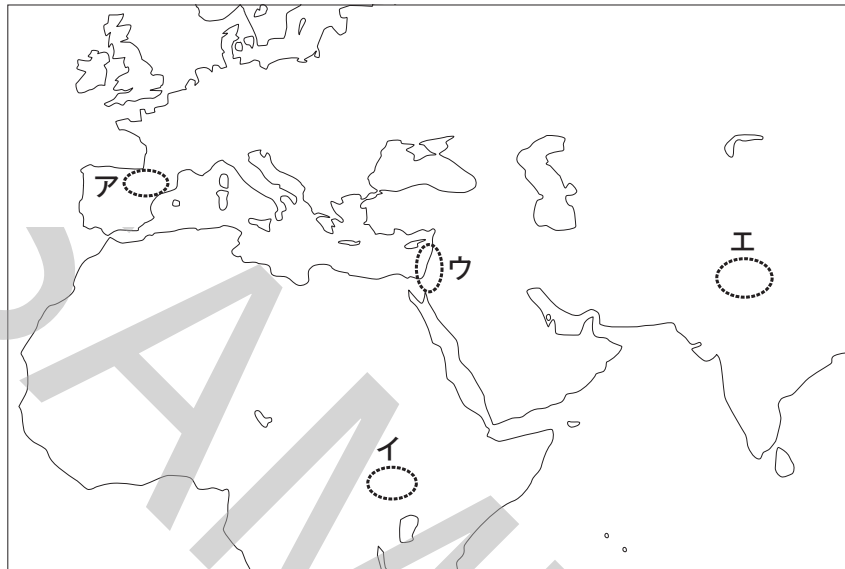
ア イスラム教は7世紀にムハンマドが開いた。

イ イスラム教の礼拝所をモスクという。

ウ イスラム教の聖典をコーランという。

エ イスラム教徒は，聖地リヤドに向かって祈りをささげる。

(11) イスラエルとパレスチナの間では，領土の主張などをめぐって争いが続いており，パレスチナ紛争と呼ばれています。パレスチナ紛争がおきている場所を次の地図中から1つ選び，記号で答えなさい。






4 次の地形図は、国土地理院発行50000分の1地形図「福岡」の一部で、対象地域図の色ぬりされた部分を示しています。この地形図について、あとの問いに答えなさい。





- (1) 地形図から読み取れることがらとして**不適當なもの**を次から1つ選び、記号で答えなさい。
- ア 沿岸部には埋立地が広がり、多くの工場群が見られる。  
 イ 「はかた」駅は、新幹線だけでなく、在来線も停車する。  
 ウ 博多湾には、防波堤があり、その先には灯台が見られる。  
 エ 福岡空港の周りには市街地が広がっている。  
 オ 「はかた」駅から見て、市役所は東の方向にある。
- (2) 福岡空港の滑走路の全長を測ると地形図上で5.6cmでした。実際の滑走路の長さは何mですか。解答欄にあうように数字で答えなさい。

- (3) 博多湾には、右の図で表したような船が、ひと月に200せき以上も入港してきます。船の上には、たくさんのものをまとめて運ぶ大きな箱があり、私たちに必要な食料品や衣料品、電化製品はこれに入れられて運ばれてきます。この箱を何といいますか。**カタカナ**で答えなさい。



- (4) 対象地域図に**A**で示した島は、江戸時代に、農民によって金印が発見された島として知られています。これについて、次の問いに答えなさい。
- ① **A**で示した島の名を**漢字**で答えなさい。  
 ② その金印には「漢委○国王」と記されていました。○にあてはまる、中国と交流をしていた福岡市付近にあった国の名を**漢字1字**で答えなさい。
- (5) 地図中に示されている板付遺跡は、ある時代の遺跡です。その時代のようにして最も適當なものを次から1つ選び、記号で答えなさい。
- ア まだ人々は金属を知らず、打ち欠いただけの石器を使い、ナウマンゾウやオオツノジカなどの大型動物をとらえて生活していた。  
 イ 地方の豪族の反乱がおさまり、仏教や儒学の考えが取り入れられた十七条の憲法で役人の心がまえが示された。  
 ウ 大陸から米づくりの技術が伝わり、人々は指導者(首長)を中心に、協力して農作業を行った。  
 エ 大和地方に大きな力をもった国があらわれ、大王と呼ばれる王を中心として、地方の王や豪族を従えるようになった。
- (6) 対象地域図に示した能古島には、次のような歌があります。この歌は、対馬に派遣された( )の食料を届ける途中で亡くなった船乗りの死を悲しみよんだものです。( )にあてはまる語句を**漢字2字**で答えなさい。

沖つ鳥 <sup>おき</sup>鴨とふ船の 帰り来ば <sup>やら</sup>也良の( ) 早く告げこそ

山上憶良『万葉集』

※也良とは、能古島の北の端にある岬。

(これで問題は終わりです)

1	(1)	①	ア		3点
			イ		1
		②			2点
		③			2点
		④	肉類	大豆	3点
	⑤			2点	
	(2)	①	2	4	3点
		②			2点
		③			4点
	(3)	①			2点
		②			2点
	(4)	①	A	B	3点
②				2点	

1 / 30

2	(1)	1		2点
		2		2点
		3		2点
	(2)			15
				2点
	(3)			16
				2点
	(4)			17
				2点
(5)			18	
			4点	
(6)	①		19	
	②		2点	
(7)			20	
			2点	
(8)		→ → →	21	
			2点	
(9)			22	
			3点	

2 / 27

クラス	番号	氏名	性別	総得点
			男 女	/ 100

<b>3</b>	(1)	年 月 日	3点
	(2)		2点
	(3)		2点
	(4)		2点
	(5)		2点
	(6)		4点
	(7)		2点
	(8)		2点
	(9)		2点
	(10)		2点
	(11)		2点

<b>3</b>	/ 25
----------	------

<b>4</b>	(1)		2点	
	(2)	m	3点	
	(3)		3点	
	(4)	①		3点
		②		3点
	(5)		2点	
(6)		3点		

<b>4</b>	/ 18
----------	------

領域別得点	① 地理	② 歴史	③ 公民	④ 分野融合
		/ 30	/ 27	/ 25