

社会 小学5年

● 本書の構成と特色 ●

■ 全体の構成

この本は、中学受験を目指す小学5年生が、夏休みに学習する教材として作成しています。

■ 単元の構成

各単元には、「要点のまとめ」とそれに対応した「確認問題」があり、基本内容の理解を確かめながら勉強できるようになっています。また、確認問題のあとには「練成問題」があり、いろいろな問題を解く練習ができます。

- ◇ 要点のまとめ……学習内容がまとめてあります。
- ◇ 確認問題……要点のまとめの学習が終わったら、確認問題を解きます。要点のまとめの内容がきちんと理解できているかどうかを確認しましょう。
- ◇ 練成問題……確認問題が終わったら、練成問題を解きます。いろいろな問題を解くことで、さらに学力を高めていってください。

○ 目次 ○

1	世界のなかの日本	2
2	米づくり	6
3	畑作と日本の農業の特色	10
4	畜産業・水産業・林業	14
5	工業の種類と特色	18
6	工業のさかんな地域	22
7	伝統工業と公害	26
8	日本の貿易	30
●	やってみよう	34

1

世界のなかの日本

学習日

/

1 世界のすがた

(1) 陸地と海洋

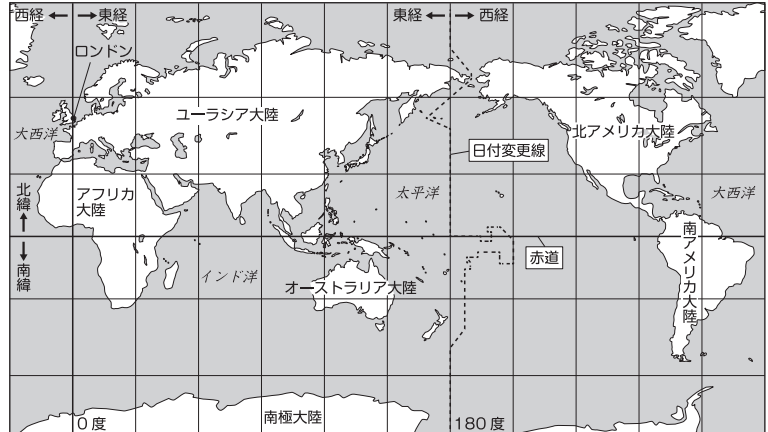
地球の表面積のうち、陸地は約1億5000万km²、海洋は約3億6000万km²を占めています。

(2) 緯線と経線

● **緯線**…緯度は、赤道を0度として南北に90度ずつあります。赤道に平行に走っている線を緯線といいます。

● **経線**…北極と南極を結ぶ線を経線といいます。経度は、イギリスの首都ロンドンを通る線を0度として東西に180度ずつあります。

● **標準時と時差**…日本は、兵庫県明石市を通る東経135度の経線を、時刻を決める基準（標準時子午線）としています。時差は経度15度につき1時間生じます。日付変更線を東から西にこえると日付を1日すすめ、西から東にこえると日付を1日戻します。



六大陸…（面積が広い順に）ユーラシア大陸・アフリカ大陸・北アメリカ大陸・南アメリカ大陸・南極大陸・オーストラリア大陸

三大洋…（面積が広い順に）太平洋・大西洋・インド洋

2 世界の国々

(1) 独立国

国民がくらす領土があり、その領土を治める政府があることで国として成立します。現在、世界には190をこえる独立国があります。

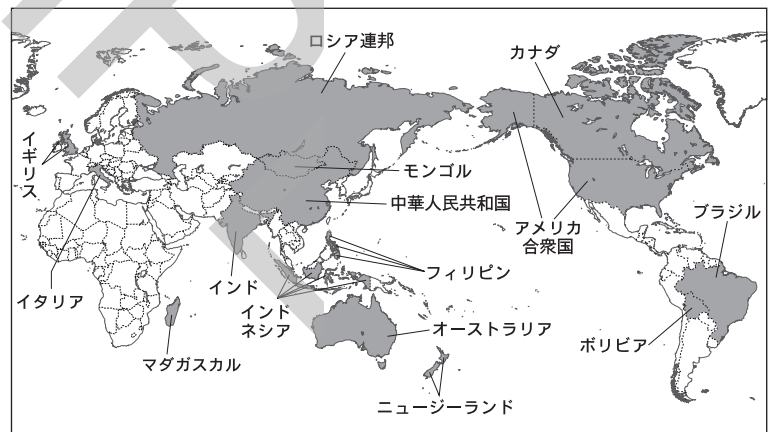
(2) 国々の特色

● **島国（海洋国）**…まわりを海に囲まれた国のことであり、フィリピン、ニュージーランド、マダガスカルなどがあります。

● **内陸国**…まったく海に面していない国のことであり、モンゴル・ボリビアなどがあります。

● **人口**…現在、日本の人口は約1億2700万人、世界の人口は約77億人です。

● **面積**…面積が広い国には、ロシア連邦やカナダ、アメリカ合衆国、中華人民共和国（中国）、ブラジルなどがあります。最も面積が広いロシア連邦は、日本の面積（約38万km²）の約45倍の広さがあります。



ブラジル…日本から見て、ほぼ地球の裏側に位置しています。

オーストラリア…南半球に位置しており、日本と季節が逆です。

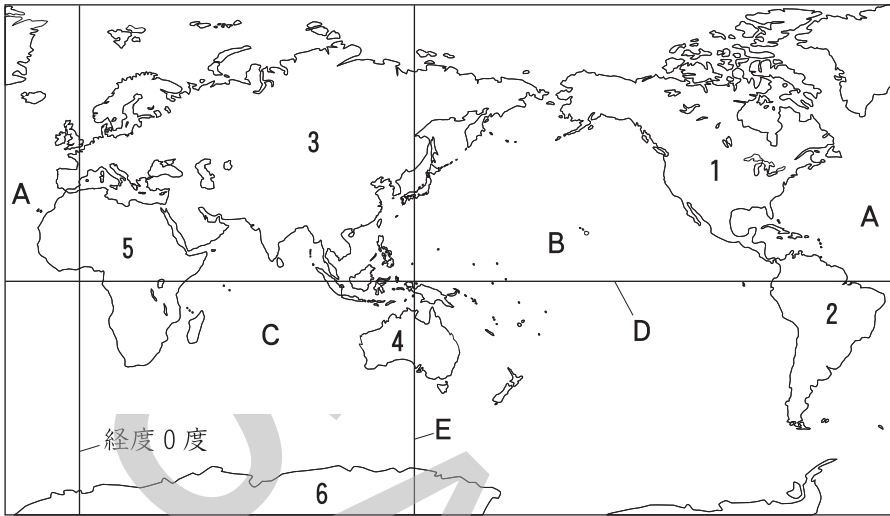
イタリア…首都のローマ市内には、世界で最も面積が小さいバチカン市国があります。

人口が多い国（2019年）		
1位	中華人民共和国	14.3億人
2位	インド	13.7億人
3位	アメリカ合衆国	3.3億人
4位	インドネシア	2.7億人
5位	ブラジル	2.1億人

（2019年版「世界国勢図会」より）

確認問題

1 世界のすがた



- (1) 1～6で示した大陸の名をそれぞれ答えなさい。
- (2) A～Cで示した海洋の名をそれぞれ答えなさい。
- (3) Dで示した緯度0度の緯線を何といますか。
- (4) 緯度は南北に何度ずつありますか。
- (5) 経度0度の経線が通る国を次から1つ選び、記号で答えなさい。
 ア イギリス イ アメリカ合衆国
 ウ オーストラリア エ ブラジル
- (6) Eで示した経線は、日本の時刻の基準となっています。これについて、次の問いに答えなさい。
- ① 時刻の基準となる線を何といますか。
- ② 日本の時刻の基準となる線の経度を次から1つ選び、記号で答えなさい。
 ア 東経45度 イ 東経135度
 ウ 西経45度 エ 西経135度
- (7) 経度が何度ことなると、1時間の時差が生じますか。

2 世界の国々

- (1) 世界で最も面積が広い国はどこですか。
- (2) 世界で最も人口が多い国はどこですか。
- (3) 日本のような、まわりを海に囲まれた国を何といますか。
- (4) モンゴルのような、まったく海に面していない国を何といますか。
- (5) 現在の世界の人口として最も適当なものを次から1つ選び、記号で答えなさい。
 ア 約37億人 イ 約55億人 ウ 約77億人 エ 約95億人
- (6) イタリアの首都ローマ市内に位置する、世界で最も面積が小さい国の名を答えなさい。

(1) _____

1 _____

2 _____

3 _____

4 _____

5 _____

6 _____

(2) _____

A _____

B _____

C _____

(3) _____

(4) _____

(5) _____

(6) _____

① _____

② _____

(7) _____

(1) _____

(2) _____

(3) _____

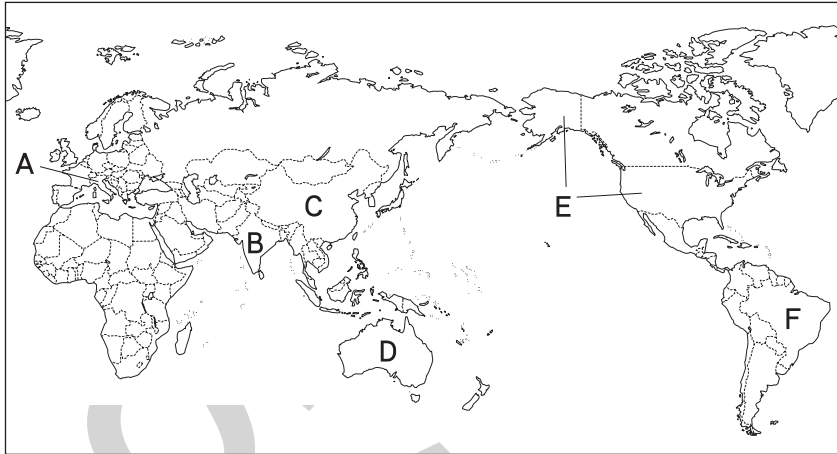
(4) _____

(5) _____

(6) _____

練 成 問 題

1 次の地図を見て、あとの問いに答えなさい。



- (1) A～Fで示した国の名をそれぞれ答えなさい。
- (2) A～Fで示した国について述べた文を次から1つずつ選び、記号で答えなさい。
- ア 世界で最も人口が多い国です。
 イ 世界で2番目に人口が多い国です。
 ウ 人口が世界で3番目に多く、面積も広い国です。
 エ 日本とほぼ同じ経度に位置する国であり、日本が夏のとき、この国の季節は冬です。
 オ 日本から見て、ほぼ地球の反対側に位置しています。
 カ 首都に、世界で最も面積が小さい国が位置しています。

2 次の文章を読んで、あとの問いに答えなさい。

世界には約（あ）の独立国があります。世界には、いまわ
りを海に囲まれた国やう面積の広い国など、さまざまな特色をも
 った国があります。

- (1) （あ）にあてはまる数字として最も適当なものを次から1つ選び、記号で答えなさい。
 ア 150 イ 170 ウ 190 エ 210
- (2) 国が成り立つために必要なことがらは国民、政府のほかに、あと一つは何ですか。
- (3) 下線いについて、このような国にふくまれないものを次から1つ選び、記号で答えなさい。
 ア ボリビア イ マダガスカル
 ウ フィリピン エ ニューゼーランド
- (4) 下線うについて、世界で最も面積が広いロシア連邦の国土面積は約1710万km²です。この面積は、日本の国土面積の約何倍にあたりますか。次から1つ選び、記号で答えなさい。
 ア 約25倍 イ 約35倍 ウ 約45倍 エ 約55倍

(1)
 A _____
 B _____
 C _____
 D _____
 E _____
 F _____

(2)
 A _____
 B _____
 C _____
 D _____
 E _____
 F _____

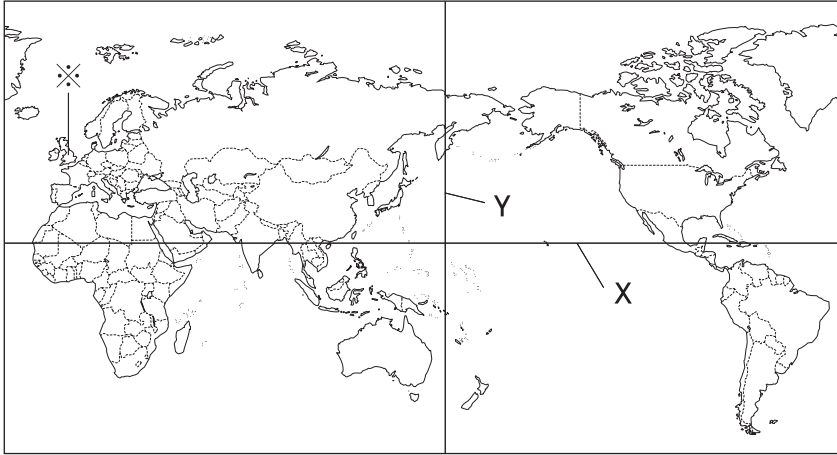
(1) _____

(2) _____

(3) _____

(4) _____

3 次の地図を見て、あとの問いに答えなさい。



- (1) 地図中にえがかれていない大陸の名を答えなさい。
- (2) Xで示した緯線と、Yで示した経線について、次の問いに答えなさい。
- ① Xで示した緯線が通っていない大陸を次から1つ選び、記号で答えなさい。
- ア アフリカ大陸 イ 北アメリカ大陸
ウ ユーラシア大陸 エ 南アメリカ大陸
- ② Xで示した緯線と、Yで示した経線が交わっている地点は、どの海域かいいきにふくまれますか。次から1つ選び、記号で答えなさい。
- ア 大西洋 イ 太平洋
ウ 東シナ海 エ インド洋
- ③ Xで示した緯線と、Yで示した経線が交わっている地点の緯度と経度の組み合わせとして最も適当なものを次から1つ選び、記号で答えなさい。
- ア 北緯20度・東経160度
イ 北緯20度・西経160度
ウ 南緯20度・東経160度
エ 南緯20度・西経160度
- (3) 緯線と経線について、次の問いに答えなさい。
- ① ※で示した国の首都には、経度0度の経線が通っています。この首都の名を答えなさい。また、この国と日本との間には、時差は何時間ありますか。
- ② 次の文章中の (A)、(B) にあてはまる語句の組み合わせとして最も適当なものをあとから1つ選び、記号で答えなさい。
- 0度の緯線は、(A) と呼ばれています。緯度は、南北に (B) ずつに分けられています。
- ア A=赤道, B=180度
イ A=本初子午線, B=180度
ウ A=赤道, B=90度
エ A=本初子午線, B=90度

(1) _____

(2) _____

① _____

② _____

③ _____

(3) _____

① _____

首都 _____

時差 _____

② _____