

社会 小学4年

● 本書の構成と特色 ●

■ 全体の構成

この本は、中学受験を目指す小学4年生が、冬休みに学習する教材として作成しています。

■ 単元の構成

各単元には、「要点のまとめ」とそれに対応した「確認問題」があり、基本内容の理解を確かめながら勉強できるようになっています。また、確認問題のあとには「練成問題」があり、いろいろな問題を解く練習ができます。

- ◇ 要点のまとめ……学習内容がまとめてあります。
- ◇ 確認問題……要点のまとめの学習が終わったら、確認問題を解きます。要点のまとめの内容がきちんと理解できているかどうかを確認しましょう。
- ◇ 練成問題……確認問題が終わったら、練成問題を解きます。いろいろな問題を解くことで、さらに学力を高めていってください。

○ 目次 ○

1	都道府県の形と都道府県庁所在地	2
2	日本の位置	6
3	日本の気候とくらし	10
4	日本の地形とくらし	16
●	やってみよう	22

1

都道府県の形と都道府県庁所在地

学習日

/

1 都道府県の形

(1) 都道府県には、海に面しているところ、全く海に面していないところなど、さまざまな特色があります。

まわりを海に囲まれている都道府県は、北海道と沖縄県です。また、全く海に面していない都道府県は、栃木県、群馬県、埼玉県、山梨県、長野県、岐阜県、滋賀県、奈良県の8県です。

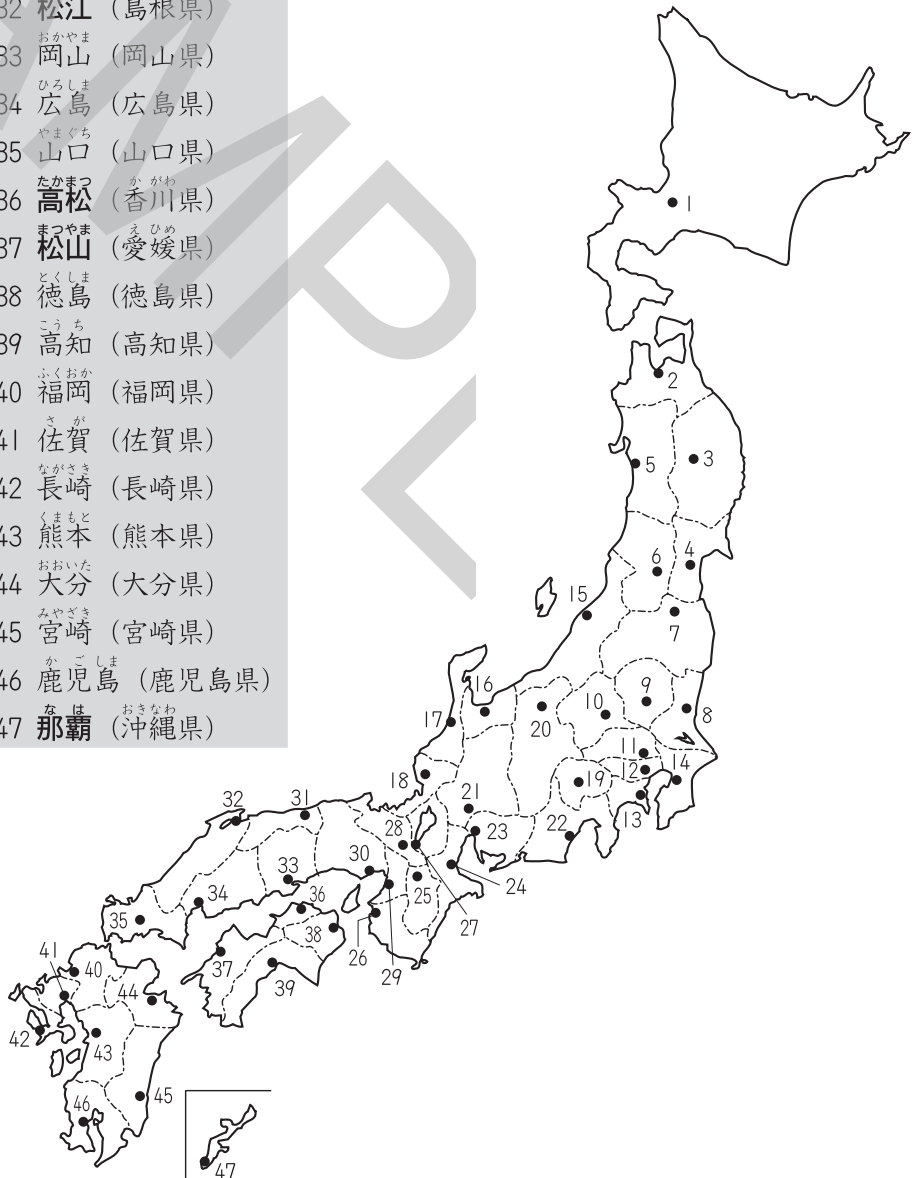
(2) となりに位置する都道府県についても確認しておきましょう。

2 都道府県庁所在地

(1) 多くの都道府県庁所在地の名前は、都道府県名と同じです。

(2) 都道府県庁所在地名が都道府県名とことなる都市は、さいたま市をふくめて18都市あります。

1 札幌 (北海道)	29 大阪 (大阪府)
2 青森 (青森県)	30 神戸 (兵庫県)
3 盛岡 (岩手県)	31 鳥取 (鳥取県)
4 仙台 (宮城県)	32 松江 (島根県)
5 秋田 (秋田県)	33 岡山 (岡山県)
6 山形 (山形県)	34 広島 (広島県)
7 福島 (福島県)	35 山口 (山口県)
8 水戸 (茨城県)	36 高松 (香川県)
9 宇都宮 (栃木県)	37 松山 (愛媛県)
10 前橋 (群馬県)	38 徳島 (徳島県)
11 さいたま (埼玉県)	39 高知 (高知県)
12 東京 (東京都)	40 福岡 (福岡県)
13 横浜 (神奈川県)	41 佐賀 (佐賀県)
14 千葉 (千葉県)	42 長崎 (長崎県)
15 新潟 (新潟県)	43 熊本 (熊本県)
16 富山 (富山県)	44 大分 (大分県)
17 金沢 (石川県)	45 宮崎 (宮崎県)
18 福井 (福井県)	46 鹿児島 (鹿児島県)
19 甲府 (山梨県)	47 那覇 (沖縄県)
20 長野 (長野県)	
21 岐阜 (岐阜県)	
22 静岡 (静岡県)	
23 名古屋 (愛知県)	
24 津 (三重県)	
25 奈良 (奈良県)	
26 和歌山 (和歌山県)	
27 大津 (滋賀県)	
28 京都 (京都府)	



確認問題

1 都道府県の形

- (1) 次の都道府県の名をそれぞれ答えなさい。ただし、—— は海岸線、----- は都道府県の境の線を表しています。図は、上が北で、それぞれことなる縮尺でえがかれています。

□①



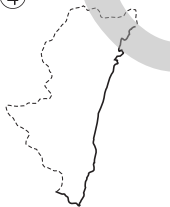
□②



□③



□④



□⑤

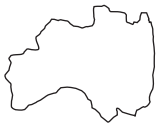


□⑥



- (2) 次の図は、ある都道府県の形を表しています。これを見て、あとの問いに答えなさい。

A



B



C



D



- ① A～Dの都道府県名をそれぞれ答えなさい。
 □② A～Dの都道府県のうち、まったく海に面していない都道府県を1つ選び、記号で答えなさい。

2 都道府県庁所在地

- (1) 次の都道府県の都道府県庁所在地の名をそれぞれ答えなさい。

□①

宮城県

□②

島根県

□③

福井県

□④

愛知県

□⑤

佐賀県

□⑥

栃木県

□⑦

埼玉県

□⑧

兵庫県

□⑨

大阪府

- (2) 次の都市は、どの都道府県の都道府県庁所在地ですか。それぞれ答えなさい。

□①

金沢市

□②

盛岡市

□③

大津市

□④

那覇市

□⑤

津市

□⑥

横浜市

- (3) 四国地方にふくまれる県について、次の問いに答えなさい。

- ① 四国地方にふくまれる県の数を答えなさい。
 □② 四国地方にふくまれる県のうち、県名と県庁所在地名がことなる県が2つあります。これらの県の名と、県庁所在地の名を答えなさい。

(1)① _____

② _____

③ _____

④ _____

⑤ _____

⑥ _____

(2)① A _____

B _____

C _____

D _____

② _____

(1)① _____

② _____

③ _____

④ _____

⑤ _____

⑥ _____

⑦ _____

⑧ _____

⑨ _____

(2)① _____

② _____

③ _____

④ _____

⑤ _____

⑥ _____

(3)① _____

② 県名 _____

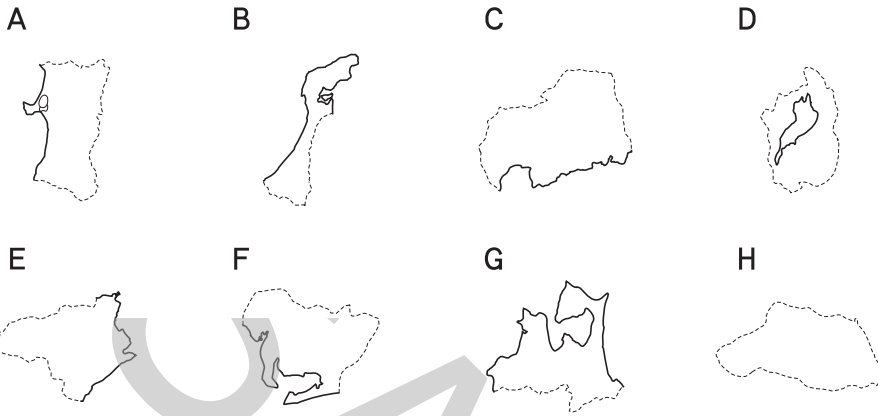
都市名 _____

県名 _____

都市名 _____

練 成 問 題

1 次の県について、あとの問いに答えなさい。ただし、—— は海岸線、..... は県の境の線を表しています。図は、上が北で、それぞれことなる縮尺でえがかれています。



- (1) A～Hの県名をそれぞれ答えなさい。
- (2) 日本を八地方に分けたとき、Aの県がふくまれる地方について、次の問いに答えなさい。
 - ① この地方の名を答えなさい。
 - ② B～Hの県のうち、Aと同じ地方にふくまれるものが1つあります。この県はどれですか。1つ選び、記号で答えなさい。
- (3) A～Hの県のうち、中部地方にふくまれる県はどれですか。すべて選び、記号で答えなさい。
- (4) 日本を八地方に分けたとき、A～Hのいずれの県もふくまれない地方はどこですか。すべて答えなさい。
- (5) Fの県について、この県と陸上で接していない県を次から1つ選び、記号で答えなさい。

ア 岐阜県 イ 山梨県 ウ 長野県 エ 三重県

2 右の表は、日本を八地方に分けたとき、それぞれの地方で最も人口が多い都市をまとめたものです。これを見て、次の問いに答えなさい。

地方	都市
北海道	(C)
東北	仙台
(A)	名古屋
関東	東京
近畿	大阪
中国	広島
(B)	松山
九州	福岡

(2019年版「日本国勢図会」より)

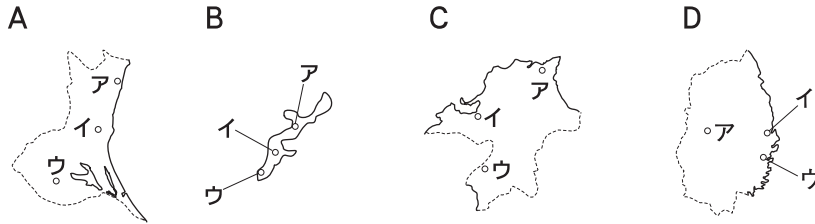
- (1) (A), (B) にあてはまる地方の名をそれぞれ答えなさい。
- (2) 表中の「仙台」と「松山」について、これらはある県の県庁所在地です。どの県の県庁所在地ですか。それぞれ答えなさい。
- (3) (C) にあてはまる都市名を答えなさい。
- (4) 表中の東北地方には、仙台のほかにも県名と県庁所在地名がことなる県があります。この県と、県庁所在地名を答えなさい。

- (1)
- A _____
- B _____
- C _____
- D _____
- E _____
- F _____
- G _____
- H _____

- (2)
- ① _____
- ② _____
- (3) _____
- (4) _____
- (5) _____

- (1)
- A _____
- B _____
- (2)
- 仙台 _____
- 松山 _____
- (3) _____
- (4)
- 県名 _____
- 都市名 _____

3 次の県について、あとの問いに答えなさい。ただし、—— は海岸線、----- は県の境の線を表しています。図は、上が北で、それぞれことなる縮尺でえがかれています。



- (1) A～Dの県名をそれぞれ答えなさい。
- (2) A～Dの県の県庁所在地名をそれぞれ答えなさい。
- (3) A～Dの県庁所在地の位置をそれぞれの図中のア～ウから1つずつ選び、記号で答えなさい。
- (4) A～Dの県について述べた文として適当なものを次から2つ選び、記号で答えなさい。
 - ア Aの県は、東北地方の県と接しています。
 - イ BとCの県は、いずれも同じ地方にふくまれます。
 - ウ Cの県は、太平洋に面しています。
 - エ Dの県は、中部地方にふくまれます。
 - オ AとDの県は、たがいに接しています。

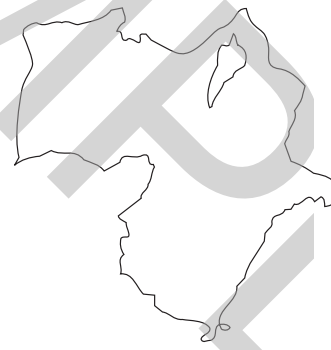
(1) _____
 A _____
 B _____
 C _____
 D _____

(2) _____
 A _____
 B _____
 C _____
 D _____

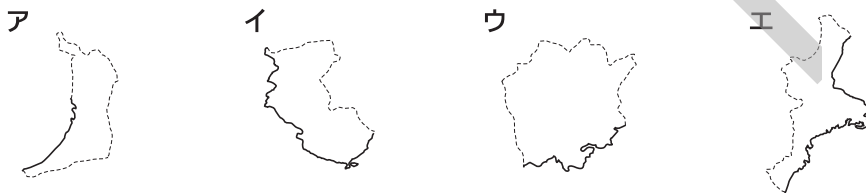
(3) _____
 A _____
 B _____
 C _____
 D _____

(4) _____

4 右の図は、ある地方の形を表しています。これを見て、次の問いに答えなさい。



- (1) この地方の名を答えなさい。
- (2) 次のア～エのうち、この地方にふくまれない都道府県を1つ選び、記号で答えなさい。



(ただし、—— は海岸線、----- は県の境の線を表しています。)

- (3) 図中には、日本最大の湖である琵琶湖が見られます。琵琶湖が位置する都道府県について、次の問いに答えなさい。
 - ① この都道府県の名を答えなさい。
 - ② この都道府県の都道府県庁所在地の名を次から1つ選び、記号で答えなさい。
 - ア 津市 イ 大津市 ウ 甲府市 エ 高松市
- ③ この都道府県は、中部地方にふくまれる2県と接しています。この2県はどこですか。答えなさい。

(1) _____

(2) _____

(3) _____
 ① _____
 ② _____
 ③ _____