

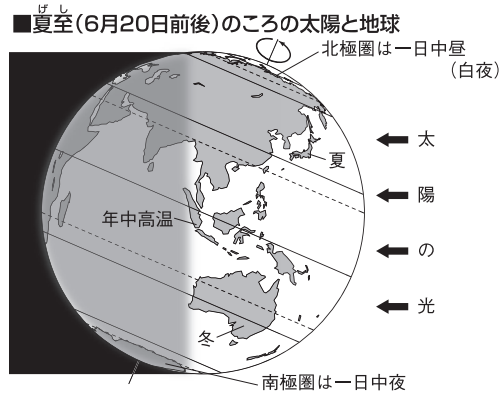
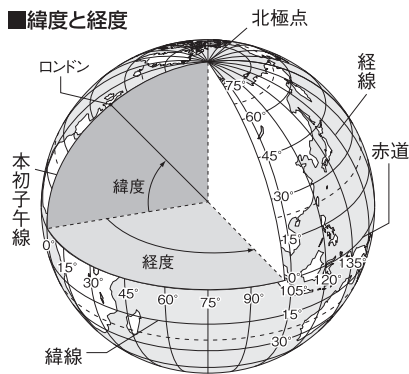
# 目次

領域	単元番号	単元名	ページ	年間予定	学習日	復習日	理解度(○△×)
地理	1	地球の姿	4		/	/	○ △ ×
	2	世界の国々	6		/	/	○ △ ×
	3	日本の姿	8		/	/	○ △ ×
	4	世界の地形と気候	10		/	/	○ △ ×
	5	人々の生活・文化	12		/	/	○ △ ×
	6	要点チェック 地球の姿 ~単元確認テスト~	14		/	/	○ △ ×
	7	要点チェック 世界の国々 ~単元確認テスト~	15		/	/	○ △ ×
	8	要点チェック 日本の姿 ~単元確認テスト~	16		/	/	○ △ ×
	9	要点チェック 世界の地形と気候 ~単元確認テスト~	17		/	/	○ △ ×
	10	要点チェック 人々の生活・文化 ~単元確認テスト~	18		/	/	○ △ ×
	11	東アジア・東南アジア	20		/	/	○ △ ×
	12	南アジア・西アジア・中央アジア	22		/	/	○ △ ×
	13	ヨーロッパ	24		/	/	○ △ ×
	14	要点チェック 東アジア・東南アジア ~単元確認テスト~	26		/	/	○ △ ×
	15	要点チェック 南アジア・西アジア・中央アジア ~単元確認テスト~	27		/	/	○ △ ×
	16	要点チェック ヨーロッパ ~単元確認テスト~	28		/	/	○ △ ×
	17	アフリカ	30		/	/	○ △ ×
	18	北アメリカ	32		/	/	○ △ ×
	19	南アメリカ	34		/	/	○ △ ×
	20	オセアニア	36		/	/	○ △ ×
	21	要点チェック アフリカ ~単元確認テスト~	38		/	/	○ △ ×
	22	要点チェック 北アメリカ ~単元確認テスト~	39		/	/	○ △ ×
	23	要点チェック 南アメリカ ~単元確認テスト~	40		/	/	○ △ ×
	24	要点チェック オセアニア ~単元確認テスト~	41		/	/	○ △ ×
	25	身近な地域の調査	42		/	/	○ △ ×
	26	日本の地方区分と地形	44		/	/	○ △ ×
	27	日本の気候と災害	46		/	/	○ △ ×
	28	日本の人口と資源・エネルギー	48		/	/	○ △ ×
	29	日本の産業と貿易	50		/	/	○ △ ×
	30	要点チェック 身近な地域の調査 ~単元確認テスト~	52		/	/	○ △ ×
	31	要点チェック 日本の地方区分と地形 ~単元確認テスト~	53		/	/	○ △ ×
	32	要点チェック 日本の気候と災害 ~単元確認テスト~	54		/	/	○ △ ×
	33	要点チェック 日本の人口と資源・エネルギー ~単元確認テスト~	55		/	/	○ △ ×
	34	要点チェック 日本の産業と貿易 ~単元確認テスト~	56		/	/	○ △ ×
	35	九州地方	58		/	/	○ △ ×
	36	中国・四国地方	60		/	/	○ △ ×
	37	近畿地方	62		/	/	○ △ ×
	38	要点チェック 九州地方 ~単元確認テスト~	64		/	/	○ △ ×
	39	要点チェック 中国・四国地方 ~単元確認テスト~	65		/	/	○ △ ×
	40	要点チェック 近畿地方 ~単元確認テスト~	66		/	/	○ △ ×
	41	中部地方	68		/	/	○ △ ×
	42	関東地方	70		/	/	○ △ ×
	43	東北地方	72		/	/	○ △ ×
	44	北海道地方	74		/	/	○ △ ×
	45	要点チェック 中部地方 ~単元確認テスト~	76		/	/	○ △ ×
	46	要点チェック 関東地方 ~単元確認テスト~	77		/	/	○ △ ×
	47	要点チェック 東北地方 ~単元確認テスト~	78		/	/	○ △ ×
	48	要点チェック 北海道地方 ~単元確認テスト~	79		/	/	○ △ ×
歴史	1	人類の出現と古代文明	80		/	/	○ △ ×
	2	日本のあけぼの	82		/	/	○ △ ×
	3	古代国家の成立	84		/	/	○ △ ×
	4	飛鳥時代	86		/	/	○ △ ×
	5	人類の出現と古代文明～飛鳥時代のまとめの問題	88		/	/	○ △ ×
	6	要点チェック 人類の出現と古代文明 ~単元確認テスト~	90		/	/	○ △ ×
	7	要点チェック 日本のあけぼの ~単元確認テスト~	91		/	/	○ △ ×
	8	要点チェック 古代国家の成立 ~単元確認テスト~	92		/	/	○ △ ×
	9	要点チェック 飛鳥時代 ~単元確認テスト~	93		/	/	○ △ ×

領域	単元番号	単元名	ページ	年間予定	学習日	復習日	理解度(○△×)
歴史	10	奈良時代	94		/	/	○ △ ×
	11	平安京と貴族	96		/	/	○ △ ×
	12	武士のおこりと鎌倉幕府	98		/	/	○ △ ×
	13	鎌倉時代の文化と元寇	100		/	/	○ △ ×
	14	奈良時代～鎌倉時代の文化と元寇のまとめの問題	102		/	/	○ △ ×
	15	要点チェック 奈良時代 ～単元確認テスト～	104		/	/	○ △ ×
	16	要点チェック 平安京と貴族 ～単元確認テスト～	105		/	/	○ △ ×
	17	要点チェック 武士のおこりと鎌倉幕府 ～単元確認テスト～	106		/	/	○ △ ×
	18	要点チェック 鎌倉時代の文化と元寇 ～単元確認テスト～	107		/	/	○ △ ×
	19	南北朝の動乱と室町幕府	108		/	/	○ △ ×
	20	室町時代の社会と文化	110		/	/	○ △ ×
	21	ヨーロッパ世界の成立	112		/	/	○ △ ×
	22	ヨーロッパ人の来航と全国統一	114		/	/	○ △ ×
	23	南北朝の動乱と室町幕府～ヨーロッパ人の来航と全国統一のまとめの問題	116		/	/	○ △ ×
	24	要点チェック 南北朝の動乱と室町幕府 ～単元確認テスト～	118		/	/	○ △ ×
	25	要点チェック 室町時代の社会と文化 ～単元確認テスト～	119		/	/	○ △ ×
	26	要点チェック ヨーロッパ世界の成立 ～単元確認テスト～	120		/	/	○ △ ×
	27	要点チェック ヨーロッパ人の来航と全国統一 ～単元確認テスト～	121		/	/	○ △ ×
	28	江戸幕府の成立と鎖国	122		/	/	○ △ ×
	29	産業の発達と元禄文化	124		/	/	○ △ ×
	30	幕府政治の乱れと幕政の改革	126		/	/	○ △ ×
	31	化政文化と外国船の接近	128		/	/	○ △ ×
	32	江戸幕府の成立と鎖国～化政文化と外国船の接近のまとめの問題	130		/	/	○ △ ×
	33	要点チェック 江戸幕府の成立と鎖国 ～単元確認テスト～	132		/	/	○ △ ×
	34	要点チェック 産業の発達と元禄文化 ～単元確認テスト～	133		/	/	○ △ ×
	35	要点チェック 幕府政治の乱れと幕政の改革 ～単元確認テスト～	134		/	/	○ △ ×
	36	要点チェック 化政文化と外国船の接近 ～単元確認テスト～	135		/	/	○ △ ×
	37	近代市民革命	136		/	/	○ △ ×
	38	産業革命と欧米諸国の発展	138		/	/	○ △ ×
	39	開国と江戸幕府の滅亡	140		/	/	○ △ ×
	40	近代市民革命～開国と江戸幕府の滅亡のまとめの問題	142		/	/	○ △ ×
	41	要点チェック 近代市民革命 ～単元確認テスト～	144		/	/	○ △ ×
	42	要点チェック 産業革命と欧米諸国の発展 ～単元確認テスト～	145		/	/	○ △ ×
	43	要点チェック 開国と江戸幕府の滅亡 ～単元確認テスト～	146		/	/	○ △ ×
	44	明治維新	148		/	/	○ △ ×
	45	富国強兵と文明開化	150		/	/	○ △ ×
	46	自由民権運動	152		/	/	○ △ ×
	47	大日本帝国憲法と帝国議会	154		/	/	○ △ ×
	48	日清・日露戦争	156		/	/	○ △ ×
	49	明治維新～日清・日露戦争のまとめの問題	158		/	/	○ △ ×
	50	要点チェック 明治維新 ～単元確認テスト～	160		/	/	○ △ ×
	51	要点チェック 富国強兵と文明開化 ～単元確認テスト～	161		/	/	○ △ ×
	52	要点チェック 自由民権運動 ～単元確認テスト～	162		/	/	○ △ ×
	53	要点チェック 大日本帝国憲法と帝国議会 ～単元確認テスト～	163		/	/	○ △ ×
	54	要点チェック 日清・日露戦争 ～単元確認テスト～	164		/	/	○ △ ×
	55	第一次世界大戦と日本	166		/	/	○ △ ×
	56	大正デモクラシーと大衆文化	168		/	/	○ △ ×
	57	第二次世界大戦と日本	170		/	/	○ △ ×
	58	第二次世界大戦後のようす	172		/	/	○ △ ×
	59	現代の世界と日本	174		/	/	○ △ ×
	60	第一次世界大戦と日本～現代の世界と日本のまとめの問題	176		/	/	○ △ ×
	61	要点チェック 第一次世界大戦と日本 ～単元確認テスト～	178		/	/	○ △ ×
	62	要点チェック 大正デモクラシーと大衆文化 ～単元確認テスト～	179		/	/	○ △ ×
	63	要点チェック 第二次世界大戦と日本 ～単元確認テスト～	180		/	/	○ △ ×
	64	要点チェック 第二次世界大戦後のようす ～単元確認テスト～	181		/	/	○ △ ×
	65	要点チェック 現代の世界と日本 ～単元確認テスト～	182		/	/	○ △ ×

# 1 地球の姿

## 1 地球上の位置



(1) 緯度と経度 地球上の位置を示す。

- 緯度 赤道を0度として南北をそれぞれ90度ずつに分けたもの。同じ緯度を結んだ線を緯線といい、赤道の北側を北緯、南側を南緯で表す。また、赤道をはさんで地球の北半分を北半球、南半分を南半球という。
- 経度 イギリスのロンドンを通る本初子午線を0度として東西をそれぞれ180度ずつに分けたもの。同じ経度を結んだ線を経線という。本初子午線の東側を東経、西側を西経という。
- 対せき点 ある地点から見て、地球の中心を通った反対側の地点をいう。北極点の反対側は南極点。

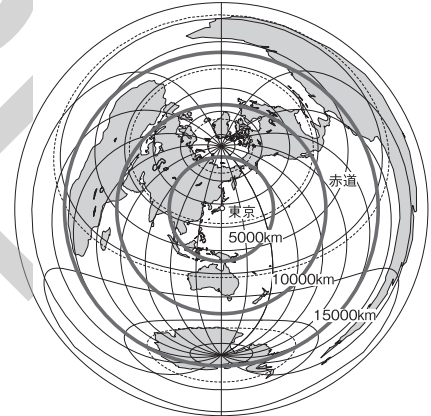
(2) 緯度のちがいと季節 地上に届く太陽の熱の量が少ない高緯度地域は一年中低温、熱の量が多い低緯度地域は一年中高温となる。高緯度地域では夏に夜でもうす明るい<sup>ひくや</sup>白夜の時期、冬に昼間でもうす暗い時期がある。

## 2 地球の姿を見る

地球は球体のため、平面の地図に地球上の距離、面積、方位、角度のすべてを一度に正しく表すことはできない。

- 地球儀 地球上の距離、面積、方位、角度のすべてを正しく表した地球の模型。
- 地図 中心からの距離と方位が正しく表される正距方位図法の地図(右の地図)、面積が正しく表される地図など、目的に合わせたさまざまな地図がある。

■東京を中心とした正距方位図法の地図



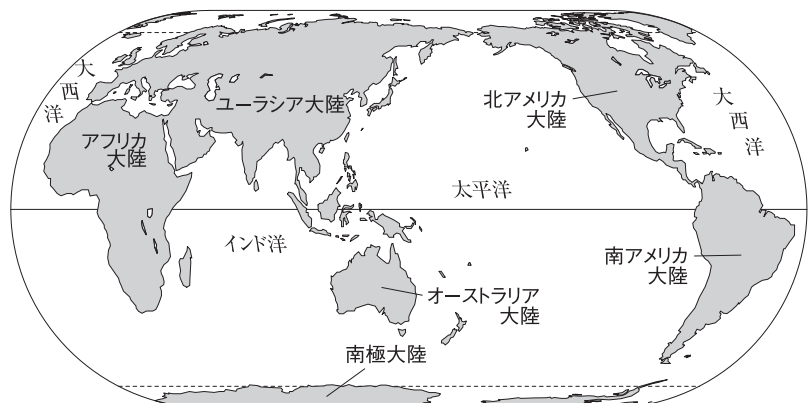
## 3 地球の姿

(1) 六大陸と三大洋

- 六大陸 ユーラシア大陸、アフリカ大陸、オーストラリア大陸、北アメリカ大陸、南アメリカ大陸、南極大陸。
- 三大洋 太平洋、大西洋、インド洋。

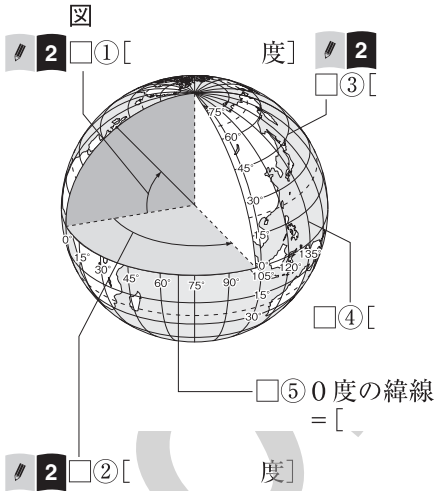
(2) 陸地と海洋 陸地と海洋の面積比はおよそ3:7で、海洋の方が大きい。

■世界の大陸と海洋



# 確認問題

## 1 地球上の位置

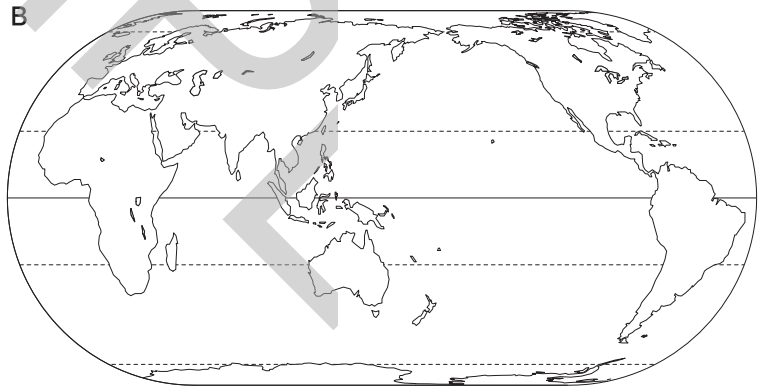
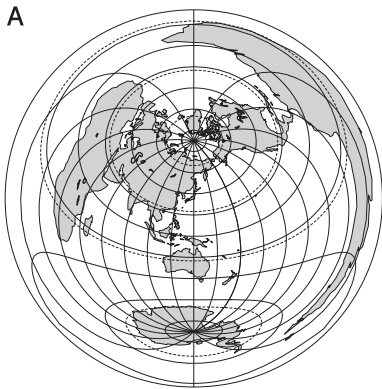


□(1) 図中の①～⑤, 略地図中の⑥・⑦にあてはまる語句を答えなさい。

③ □(2) 高緯度の地域で夏に見られる, 太陽が深く沈まないでうす明いままの夜を何というか。 [ ]

## 2 地球の姿を見る

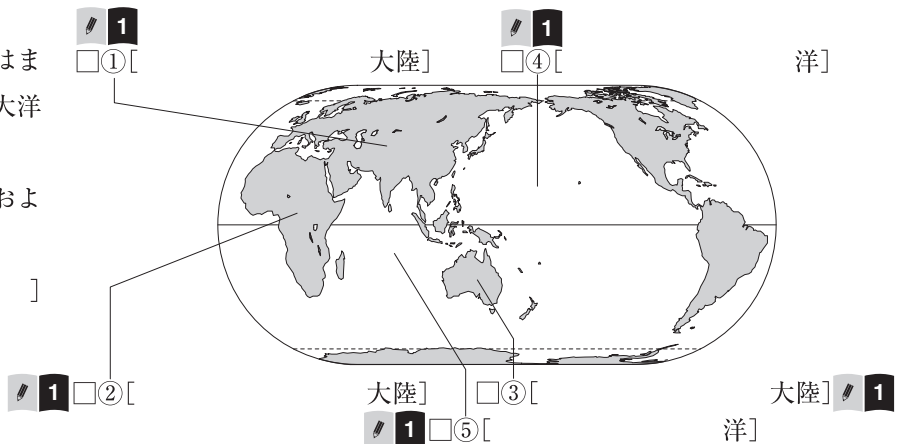
- ② □(1) 地球上の距離, 面積, 方位, 角度のすべてを正しく表した地球の模型を何というか。 [ ]
- ③ □(2) 次の略地図A・Bのうち, 中心からの距離と方位を正しく表しているのはどちらか。 [ ]



## 3 地球の姿

□(1) 右の略地図中の①～③にあてはまる大陸名, ④・⑤にあてはまる大洋名を答えなさい。

⑤ □(2) 陸地と海洋の面積の比率は, およそ何：何か。整数で答えなさい。 [ ] : [ ]



# 2 世界の国々

## 1 世界の姿

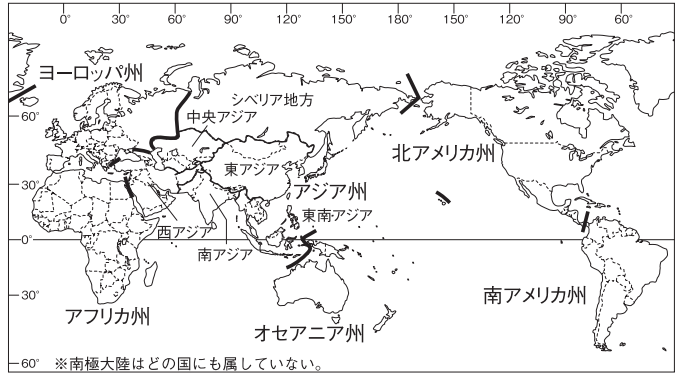
### (1) 世界の国

- **国の条件** 独立国として認められるには、領土・国民・主権（政府）の三つが必要。
- **国の数** 190あまりの独立国がある。他に、他国に統治されている地域（西サハラなど）や、日本が独立国として認めていない地域（台湾、パレスチナなど）がある。独立国の大部分は国際連合に加盟している。

### (2) 世界の地域区分

- **世界の地域区分** 世界は、ヨーロッパ州、アジア州、アフリカ州、オセアニア州、北アメリカ州、南アメリカ州の六つに大きく分けられる。州をまたぐ国もある。
- **アジア州の地域区分** 中央アジア、西アジア、南アジア、東アジア、東南アジアとシベリア地方（ロシア連邦のウラル山脈より東）に分けられる。日本は東アジアにふくまれる。

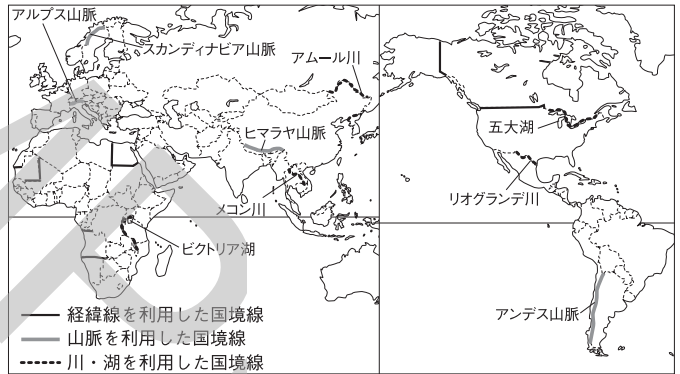
■世界の地域区分



### (3) 国境線 国と国の境界線。

- **自然物を利用した国境線** 山、山脈、川、湖、海などを利用。
- **直線の国境線** 経線や緯線を利用したものがアフリカ大陸や北アメリカ大陸に見られる。アフリカ大陸では、19世紀にヨーロッパの国々がアフリカを植民地にする際に、民族分布を無視して宗主国の都合で引かれた。

■いろいろな国境線

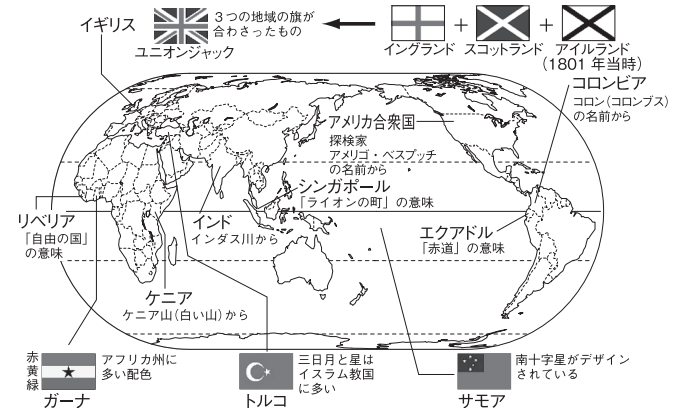


## 2 世界の国々

### (1) さまざまな国々

- **面積が大きい国と小さい国** 最大の国はロシア連邦で日本の約45倍の面積がある。首都と極東はシベリア鉄道で結ばれている。最小の国は、イタリアの首都ローマ市内にあるバチカン市国。
- **人口が多い国** 1位は約14億人の中華人民共和国、2位はインド、3位はアメリカ合衆国。
- **島国(海洋国)と内陸国** 周囲を海に囲まれている国を島国、国土が海に面していない国を内陸国という。
- **日本から遠い国** 日本から見て地球の反対側に位置する南アメリカ大陸のブラジル、ウルグアイ、アルゼンチンなどが最も遠い。

■国名の由来と特徴のある国旗



### (2) 国名の由来 地名、人名、国の位置などさまざまな由来がある。

### (3) 国旗…色やデザインがそれぞれの国の様子を

表している。



# 確認問題

## 1 世界の姿

□(1) 次の略地図中の①～⑥は世界の地域区分を示している。あてはまる州名を答えなさい。

① [ 2 ] 州] □② [ 2 ] 州] □③ [ 2 ] 州] □④ [ 2 ] 州] □⑤ [ 2 ] 州] □⑥ [ 2 ] 州]

A world map showing regional divisions. Regions 1-6 are marked with dashed lines and arrows pointing to empty boxes for state names. Regions 7-11 are marked with solid lines and arrows pointing to empty boxes for Asian regional names. The map includes latitude and longitude lines.

□(2) 地図中の⑦～⑪にあてはまるアジアの地域名を答えなさい。

⑦ [ 5 ] アジア] □⑧ [ 4 ] アジア] □⑨ [ 5 ] アジア]  
 ⑩ [ 3 ] アジア] □⑪ [ 3 ] アジア]

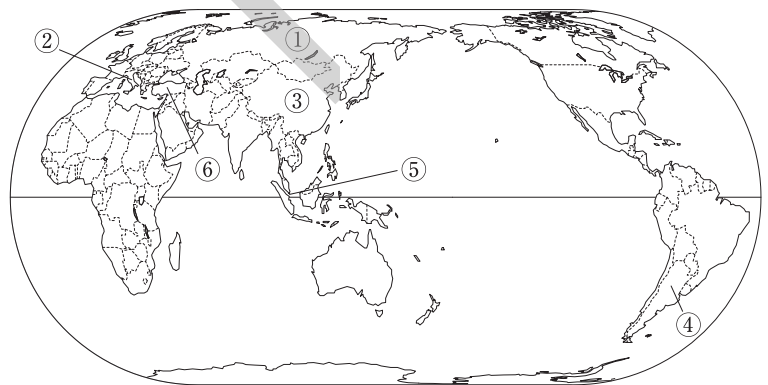
□(3) 独立国として認められるために必要な条件を3つ答えなさい。

[ ] [ ] [ ]

□(4) 地図中に見られる直線的な国境線は、主に何を利用して引かれたものか。 [ ]

## 2 世界の国々

□(1) 次の①～⑥は、右の略地図中の同じ番号の国の特色を示している。それぞれにあてはまる国名を答えなさい。



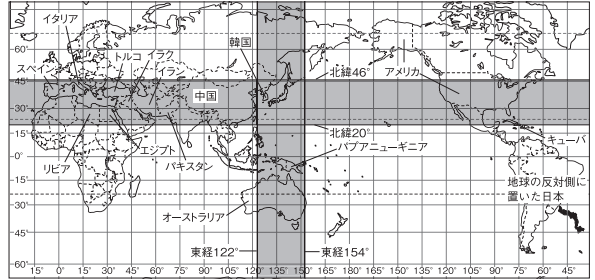
- ① [ 1 ] 面積が世界で最も大きい。 [ ]
- ② [ 2 ] 面積が世界で最も小さい。 [ ]
- ③ [ 1 ] 人口が世界で最も多い。 [ ]
- ④ [ 5 ] 日本から見て、地球の反対側に位置する国の一つ。 [ ]
- ⑤ [ 4 ] 国名が「ライオンの町」という意味。 [ ]
- ⑥ [ 6 ] 国旗に三日月と星がデザインされている。 [ ]
- ② [ 2 ] 国土全体が海に囲まれている国を何というか。 [ ]
- ② [ 2 ] 海にまったく面していない国を何というか。 [ ]

# 3 | 日本の姿

## 1 | 日本の位置

- (1) **世界から見た日本の位置** 日本は、ユーラシア大陸の東、オーストラリア大陸の北に位置する。
- (2) **ヨーロッパから見た日本** ヨーロッパから見た日本や韓国などを極東と呼ぶことがある。

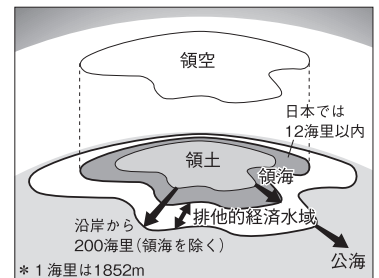
■日本と同緯度、同経度の国々



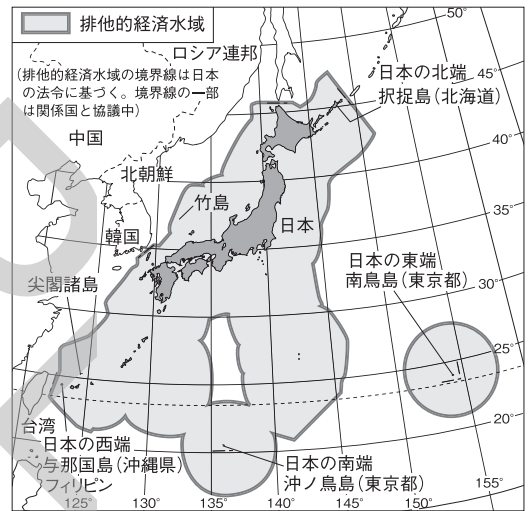
## 2 | 日本の範囲

- (1) **領域** 国の主権がおよぶ範囲の陸地が領土、水域が領海、領土と領海の上空が領空。日本の領海は海岸線から12海里以内。
  - **排他的経済水域** 得られる水産資源や鉱産資源を沿岸国が利用する権利をもつ水域。領海の外侧で海岸線から200海里以内。離島が多い日本の排他的経済水域は国土面積の10倍以上。
- (2) **日本列島** 北海道、本州、四国、九州の四つの大きな島と小さな島々が約3000kmにわたってのびる。国土面積は約38万km<sup>2</sup>。
  - **沖ノ島** 日本の南端にあたる沖ノ島は小さな島で、水没して周囲の排他的経済水域が失われるおそれがあったため、日本政府が護岸工事を行った。
- (3) **領域をめぐる問題**
  - **北方領土** 国後島、択捉島、色丹島、歯舞群島は第二次世界大戦後にソ連に占領され、現在はロシア連邦が占拠している。日本政府は返還を求めている。
  - **竹島** 島根県に属するが、韓国が不法に占拠している。
  - **尖閣諸島** 沖縄県に属するが、中国、台湾が領有権を主張している。日本が実効的な支配を続けている。

■領土、領海、領空の区分



■日本の領域と排他的経済水域



## 3 | 標準時と時差

- (1) **標準時** 各国・地域ごとに決めている経線に基づく時刻を標準時といい、日本は兵庫県明石市を通る東経135度線に基づく時刻を標準時としている。
- (2) **時差** 地球は24時間で1回転（360度）するため、 $360度 \div 24時間 = 15度$ で、経度が15度ずれるごとに1時間の時差が生じる。2地点間の時差は、 $経度差 \div 15$ で求められる。
- (3) **日付変更線** 180度の経線にほぼ沿って引かれている。

## 4 | 都道府県と日本の地方区分

- (1) **都道府県** 1都1道2府43県の47都道府県で構成。各都道府県に都道府県庁が置かれている。
- (2) **日本の地方区分**
  - **2地方区分** 東日本と西日本。
  - **3地方区分** 南西部、中央部、北東部。
  - **7地方区分** 北海道、東北、関東、中部、近畿、中国・四国、九州地方。

■日本の地方区分



# 確認問題

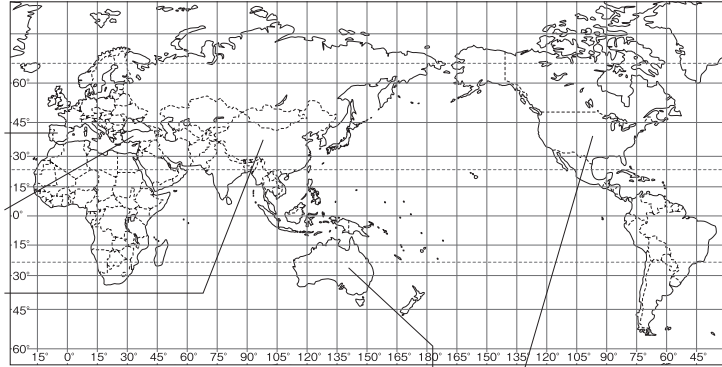
## 1 日本の位置

□(1) 次の略地図中の①～④は日本と同緯度にある国, ⑤は同経度にある国である。あてはまる国名を答えなさい。

✎ 4 □① [

✎ 6 □② [

✎ 1 □③ [



✎ 1 □⑤ [

✎ 1 ]

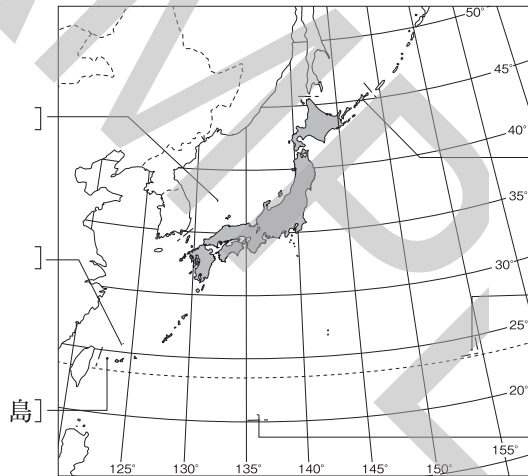
## 2 日本の範囲

□(1) 次の略地図中の①～⑥にあてはまる島の名を答えなさい。

✎ 6 □① [ 韓国が占拠 ]

✎ 6 □② [ 中国が領有権を主張 ]

✎ 6 □③ [ 日本の西端 ]



日本の北端 □④ [

島] ✎ 3

日本の東端 □⑤ [

島] ✎ 5

日本の南端 □⑥ [

島] ✎ 5

## 3 標準時と時差

✎ 3 □(1) 1時間の時差は, 経度が何度ちがうごとに生じるか。

[ ]

✎ 2 □(2) 日本の標準時子午線の経度は何度か。

[ ]

✎ 5 □(3) 日本とイギリスの首都の時差は何時間か。 [ ]

□① [

✎ 2

□② [

✎ 2

□③ [

✎ 2

□④ [

✎ 2

□⑤ [

✎ 2

□⑥ [

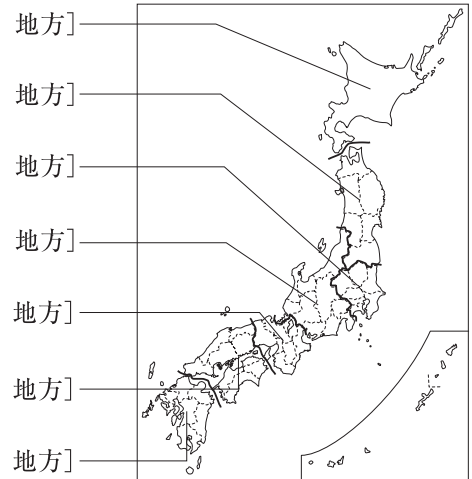
✎ 2

□⑦ [

✎ 2

## 4 都道府県と日本の地方区分

□(1) 右の略地図中の①～⑦にあてはまる地方名を答えなさい。



地方] \_\_\_\_\_

地方] \_\_\_\_\_

地方] \_\_\_\_\_

地方] \_\_\_\_\_

地方] \_\_\_\_\_

地方] \_\_\_\_\_

地方] \_\_\_\_\_