

目 次

領域	単元番号	単元名	ページ	年間予定	学習日	復習日	理解度(○△×)	
地理	1	世界のすがた	4		/	/	○ △ ×	
	2	アジア・アフリカ	6		/	/	○ △ ×	
	3	ヨーロッパ・オセアニア	8		/	/	○ △ ×	
	4	北アメリカ・南アメリカ	10		/	/	○ △ ×	
	5	世界から見た日本	12		/	/	○ △ ×	
	6	日本の西南部	14		/	/	○ △ ×	
	7	日本の中央部	16		/	/	○ △ ×	
	8	日本の東北部	18		/	/	○ △ ×	
	9	身近な地域の調査	20		/	/	○ △ ×	
	10	世界のすがた	22		/	/	○ △ ×	
	11	アジア・アフリカ	23		/	/	○ △ ×	
	12	ヨーロッパ・オセアニア	24		/	/	○ △ ×	
	13	北アメリカ・南アメリカ	25		/	/	○ △ ×	
	14	世界から見た日本	26		/	/	○ △ ×	
	15	日本の西南部	27		/	/	○ △ ×	
	16	日本の中央部	28		/	/	○ △ ×	
	17	日本の東北部	29		/	/	○ △ ×	
	18	身近な地域の調査	30		/	/	○ △ ×	
要点整理	歴史	1	日本の古代	32		/	/	○ △ ×
		2	日本の中世	34		/	/	○ △ ×
		3	安土桃山時代～江戸幕府の成立	36		/	/	○ △ ×
		4	幕藩体制の動揺	38		/	/	○ △ ×
		5	幕末～近代日本の成立	40		/	/	○ △ ×
		6	近代日本の発展	42		/	/	○ △ ×
		7	大正時代～現代	44		/	/	○ △ ×
		8	13世紀までの世界史総合	46		/	/	○ △ ×
		9	14～20世紀初めまでの世界史総合	48		/	/	○ △ ×
		10	日本の古代	50		/	/	○ △ ×
		11	日本の中世	51		/	/	○ △ ×
		12	安土桃山時代～江戸幕府の成立	52		/	/	○ △ ×
		13	幕藩体制の動揺	53		/	/	○ △ ×
		14	幕末～近代日本の成立	54		/	/	○ △ ×
		15	近代日本の発展	55		/	/	○ △ ×
		16	大正時代～現代	56		/	/	○ △ ×
		17	13世紀までの世界史総合	57		/	/	○ △ ×
		18	14～20世紀初めまでの世界史総合	58		/	/	○ △ ×
公民	1	わたしたちの生活と現代社会	60		/	/	○ △ ×	
	2	基本的人権と日本国憲法	62		/	/	○ △ ×	
	3	国の政治のしくみ	64		/	/	○ △ ×	
	4	三権分立と地方自治	66		/	/	○ △ ×	
	5	経済のしくみと国民生活	68		/	/	○ △ ×	
	6	社会保障と国際社会	70		/	/	○ △ ×	
	7	わたしたちの生活と現代社会	72		/	/	○ △ ×	
	8	基本的人権と日本国憲法	73		/	/	○ △ ×	
	9	国の政治のしくみ	74		/	/	○ △ ×	
	10	三権分立と地方自治	75		/	/	○ △ ×	
	11	経済のしくみと国民生活	76		/	/	○ △ ×	
	12	社会保障と国際社会	77		/	/	○ △ ×	
一問一答集演習	地理	1	地球のすがた	78		/	/	○ △ ×
		2	世界の国々	79		/	/	○ △ ×
		3	世界の人々の生活と環境	80		/	/	○ △ ×
		4	東アジア	81		/	/	○ △ ×
		5	東南アジア	82		/	/	○ △ ×
		6	南アジア・西アジア	83		/	/	○ △ ×
		7	アフリカ	84		/	/	○ △ ×
		8	ヨーロッパの自然とEU	85		/	/	○ △ ×
		9	フランス	86		/	/	○ △ ×
		10	ドイツ	87		/	/	○ △ ×
		11	イギリス	88		/	/	○ △ ×
		12	オランダ	89		/	/	○ △ ×
		13	イタリア	90		/	/	○ △ ×
		14	ロシア連邦と東欧諸国	91		/	/	○ △ ×
		15	オーストラリア	92		/	/	○ △ ×
		16	アメリカ合衆国	93		/	/	○ △ ×
		17	ラテンアメリカ	94		/	/	○ △ ×
		18	世界のすがた	95		/	/	○ △ ×
		19	世界と日本の自然	96		/	/	○ △ ×
		20	世界と日本の人口	97		/	/	○ △ ×
		21	世界と日本の資源	98		/	/	○ △ ×
		22	世界と日本の農林水産業	99		/	/	○ △ ×
		23	世界と日本の工業	100		/	/	○ △ ×
		24	世界と日本の文化	101		/	/	○ △ ×
		25	世界と日本の交通・通信	102		/	/	○ △ ×
		26	世界と日本の貿易	103		/	/	○ △ ×

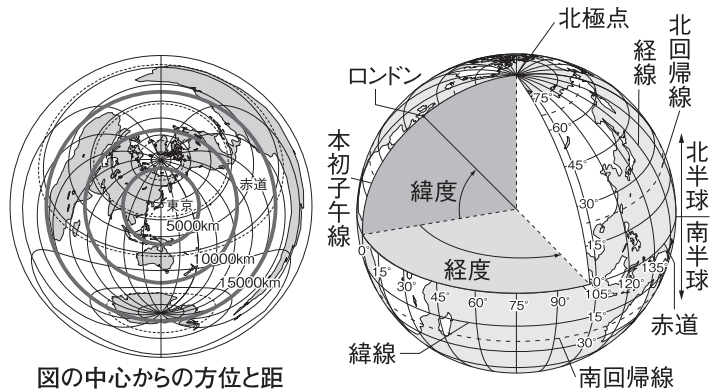
領域	単元番号	単元名	ページ	年間予定	学習日	復習日	理解度(○△×)	
一問一答集演習	地理	27	国際社会と日本	104		/	/	○ △ ×
		28	九州地方	105		/	/	○ △ ×
		29	中国・四国地方	106		/	/	○ △ ×
		30	近畿地方	107		/	/	○ △ ×
		31	中部地方	108		/	/	○ △ ×
		32	関東地方	109		/	/	○ △ ×
		33	東北地方	110		/	/	○ △ ×
		34	北海道	111		/	/	○ △ ×
		35	身近な地域	112		/	/	○ △ ×
	歴史	1	人類の誕生と古代文明	113		/	/	○ △ ×
		2	古代文明の発展	114		/	/	○ △ ×
		3	日本のあけぼの	115		/	/	○ △ ×
		4	弥生時代	116		/	/	○ △ ×
		5	古墳時代	117		/	/	○ △ ×
		6	律令国家の成立	118		/	/	○ △ ×
		7	奈良時代の政治・社会	119		/	/	○ △ ×
		8	奈良時代の文化	120		/	/	○ △ ×
		9	平安京と貴族の政治	121		/	/	○ △ ×
		10	国風文化と武士のおこり	122		/	/	○ △ ×
		11	鎌倉幕府の成立	123		/	/	○ △ ×
		12	武士の生活と鎌倉時代の社会	124		/	/	○ △ ×
		13	鎌倉時代の文化と元寇	125		/	/	○ △ ×
		14	室町幕府の成立	126		/	/	○ △ ×
		15	室町時代の社会と文化	127		/	/	○ △ ×
		16	中世ヨーロッパの発展	128		/	/	○ △ ×
		17	ヨーロッパ人の来航と天下統一	129		/	/	○ △ ×
		18	江戸幕府の成立	130		/	/	○ △ ×
		19	鎖国の完成	131		/	/	○ △ ×
		20	産業の発達と元禄文化	132		/	/	○ △ ×
		21	幕藩体制のゆらぎ	133		/	/	○ △ ×
		22	新しい学問と化政文化	134		/	/	○ △ ×
		23	近代市民革命	135		/	/	○ △ ×
		24	産業革命と欧米諸国のアジア進出	136		/	/	○ △ ×
		25	開国	137		/	/	○ △ ×
		26	江戸幕府の滅亡	138		/	/	○ △ ×
27		明治維新	139		/	/	○ △ ×	
28		自由民権運動と立憲政治	140		/	/	○ △ ×	
29		日清・日露戦争	141		/	/	○ △ ×	
30		日露戦争後のアジアと条約改正	142		/	/	○ △ ×	
31	日本の産業革命と近代文化	143		/	/	○ △ ×		
32	第一次世界大戦と日本	144		/	/	○ △ ×		
33	第一次世界大戦後の世界	145		/	/	○ △ ×		
34	大正デモクラシー	146		/	/	○ △ ×		
35	世界恐慌と各国の動き	147		/	/	○ △ ×		
36	日本の中国侵略	148		/	/	○ △ ×		
37	第二次世界大戦	149		/	/	○ △ ×		
38	日本の民主化と独立	150		/	/	○ △ ×		
39	現代の世界	151		/	/	○ △ ×		
公民	1	現代社会の歩み	152		/	/	○ △ ×	
	2	人権思想の発達	153		/	/	○ △ ×	
	3	日本国憲法	154		/	/	○ △ ×	
	4	基本的人権	155		/	/	○ △ ×	
	5	民主政治のしくみ・選挙	156		/	/	○ △ ×	
	6	国会	157		/	/	○ △ ×	
	7	内閣	158		/	/	○ △ ×	
	8	裁判所・三権分立	159		/	/	○ △ ×	
	9	地方自治	160		/	/	○ △ ×	
	10	家計と消費	161		/	/	○ △ ×	
	11	価格と物価／独占	162		/	/	○ △ ×	
	12	企業と生産	163		/	/	○ △ ×	
	13	金融と財政	164		/	/	○ △ ×	
	14	労働・社会保障	165		/	/	○ △ ×	
15	日本の産業と経済	166		/	/	○ △ ×		
16	国際経済と地球社会	167		/	/	○ △ ×		
17	主権国家と世界政治	168		/	/	○ △ ×		
18	国際連合	169		/	/	○ △ ×		
19	国際社会と平和	170		/	/	○ △ ×		
20	地球環境問題	171		/	/	○ △ ×		
21	憲法の重要な条文の確認	172		/	/	○ △ ×		
22	重要な略称の確認	173		/	/	○ △ ×		
★	白地図	174		/	/	○ △ ×		
★	総まとめ年表	182		/	/	○ △ ×		

1 世界のすがた

1 地球のすがたと世界の国々

(1) 地球儀と世界地図

- ① 地球儀…地球を縮小した立体模型。距離、面積、方位、角度などすべてをほぼ正確に表すことができる。
- ② 世界地図…地球は球面なので、平面の地図ではすべてを正確に表すことができない。
 - ・角度が正しい地図…経線と緯線が直角に交わる。海図など。
 - ・面積が正しい地図…分布図など。
 - ・方位が正しい地図…航空図など。



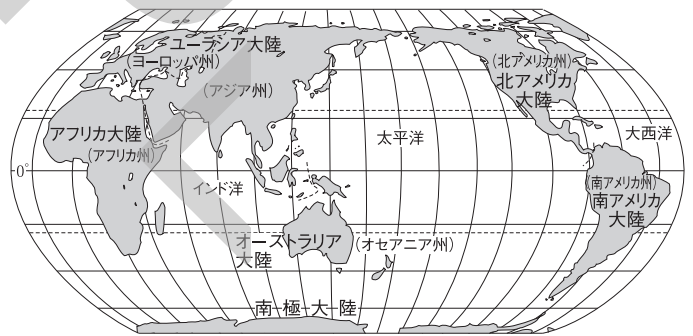
図の中心からの方位と距離が正しく表される地図

(2) 地球上の位置と時差

- ① 緯線…0度の緯線である赤道に並行。緯度は南北に90度ずつ。北緯40度の線が、秋田県の八郎潟干拓地やアメリカ合衆国のフィラデルフィア、中国のペキンを通る。高緯度地方で白夜。
- ② 経線…南極と北極を結ぶ線。経度は東西に180度ずつ。イギリスの首都ロンドンに0度の経線、兵庫県明石市に東経135度の経線が通る。
- ③ 時差…経度が15度ちがうと、時差が1時間発生。日本はヨーロッパより朝が早くくる。日付変更線〔ほぼ180度の経線〕を東へ越えると日付を1日もどす。

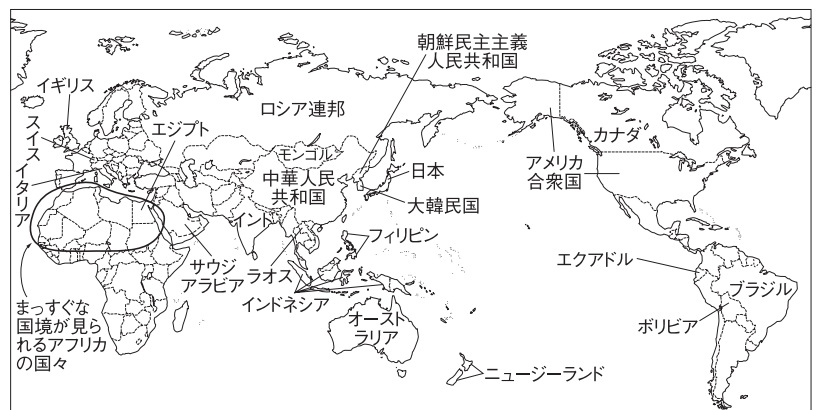
(3) 大陸と海洋

- ① 水陸の分布…陸地と海の面積比は3:7で海の方が広い。
- ② 6大陸…ユーラシア大陸(世界最大の大陸)、アフリカ大陸、オーストラリア大陸、北アメリカ大陸、南アメリカ大陸、南極大陸。
- ③ 3大洋…太平洋(世界で最も広い海洋)、インド洋、大西洋。



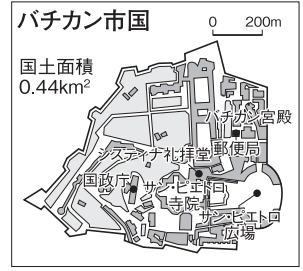
(4) 国の要素

- ① 国の要素…主権(政府), 領土, 国民。
- ② 世界の人口と国の数…現在、世界には約76億人の人々がくらす。世界には、約190の独立国があり、そのほとんどが国際連合に加盟している。



(5) 世界の国々

① 世界の地域区分…ヨーロッパ州、アジア州、アフリカ州、オセアニア州、北アメリカ州、南アメリカ州の6つの州に分けられる。アジア州はさらに、東アジア、東南アジア、南アジア、西アジア、中央アジアに区分される。日本は、アジア州の中の東アジアに位置する国である。



② 国境…山脈や川などの自然や、経緯線などに沿って国境線が引かれている。

- ・島国(海洋国)…周りを海に囲まれた国。日本、フィリピン、イギリス、ニュージーランドなど。
- ・内陸国…海に面していない国。モンゴル、ラオス、スイス、オーストリアなど。

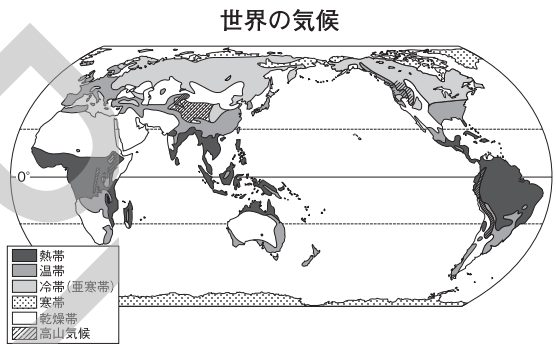
③ 世界の国々の特色

- ・面積が大きい国…ロシア連邦(世界最大。日本の約45倍)、カナダ、アメリカ合衆国、中華人民共和国(中国)、ブラジル。
- ・面積が小さい国…イタリアのローマ市内にあるバチカン市国(世界最小)、シンガポールなど。
- ・人口が多い国…中華人民共和国(中国)(約14億人。世界最大。日本の約10倍)、インド、アメリカ合衆国、インドネシア、ブラジル。
- ・国名の由来…国土を赤道が通ることから、「赤道」という意味→エクアドル
国土の約25%が海水面以下の低い土地→オランダ(ネーデルラント)
探検家アメリゴ=ベスプッチから→アメリカ合衆国

2 世界の気候と人々の生活

(1) 世界の気候

- ① 熱帯…赤道付近。1年を通して高温で、年降水量が多い。
- ② 温帯…温暖で四季がある。季節風(モンスーン)や偏西風の影響を受ける。温帯はさらに細かく分けられる[温帯(温暖)湿潤気候・地中海性気候・西岸海洋性気候]。



- ③ 冷(亜寒)帯…北半球の北部。冬の寒さが厳しい。タイガと呼ばれる針葉樹林帯が広がる。
- ④ 寒帯…雪と氷におおわれている。
- ⑤ 乾燥帯…雨が少なく、乾燥している。

(2) 世界の人々の生活…気候や地形など、地域によって衣食住の特色に違いが見られる。

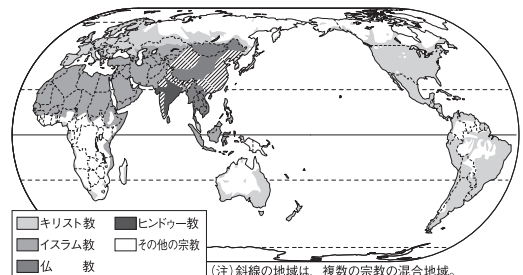
地 域	伝統的な衣食住の特色
暑い地域	赤道直下では樹皮でできた布などを着用し、高温多雨の気候に適した高床の家にくらす。主食はイモ類。
寒い地域	アラスカのイヌイットは、カリブーなど動物の毛皮を衣服に、肉を主食にしている。雪でつくった家が見られる。
乾燥地域	小麦や乳製品が主食。日干しれんがの家。ベドウィンなど遊牧民は、移動に便利なテントを利用。
高 地	アンデス山脈に住むインディオは、家畜の毛でつくったものや着脱しやすいポンチョを着用。主食はイモ類。

(3) 世界の宗教

世界の三大宗教…キリスト教、イスラム教、仏教。

- ① キリスト教…紀元前後、イエスが始める。教典は聖書。
- ② イスラム教…7世紀にムハンマドが始める。教典はコーラン。聖地メッカに向かって1日5回の礼拝、ラマダンの断食。
- ③ 仏教…紀元前5世紀ごろ、シャカが始める。教典は経。

宗教の分布



(注)斜線の地域は、複数の宗教の混合地域。

10 | 世界のすがた

キーワードの確認

① 〈地球のすがたと世界の国々〉 次の説明にあてはまる語句を答えなさい。

- ① (1) 0度の経線が通るイギリスの首都
- ② (2) わが国の標準時子午線の経度
- ② (3) 180度の経線にほぼ沿って引かれており、日付を1日早めたり、戻したりして調整する線
- ⑥ (4) イギリスと日本の時差
- ② (5) 0度の緯線
- ② (6) 0度の緯線をはさんで地球を2つに分けた場合の、地球の南半分
- ⑧ (7) 北緯40度の経線が通る秋田県の干拓地
- ② (8) 6大陸のうち、最も面積が大きい大陸
- ② (9) 6大陸のうち、全体が1つの国になっている大陸
- ② (10) 3大洋のうち、最も広い海洋
- ② (11) 1945年に発足し、現在、世界にある約190の国々のほとんどが加盟している国際組織
- ③ (12) 世界を6つの州に分けたとき、エジプトやナイジェリアが含まれる州
- ⑤ (13) 国を構成する3つの要素のうち、国民、領土とあと1つ
- ③ (14) アジア州をさらに小さく区分したとき、タイが含まれる地域
- ② (15) 海に面していない国
- ② (16) 世界最大の面積となっている国
- ② (17) 世界最小の面積となっている国
- ① (18) 世界で最も人口が多い国
- ③ (19) 探検家であるコロンブスの名に由来して国名がつけられた、南アメリカ州に位置する国

①

- (1) _____
- (2) _____
- (3) _____
- (4) _____
- (5) _____
- (6) _____
- (7) _____
- (8) _____
- (9) _____
- (10) _____
- (11) _____
- (12) _____
- (13) _____
- (14) _____
- (15) _____
- (16) _____
- (17) _____
- (18) _____
- (19) _____

② 〈世界の気候と人々の生活〉 次の説明にあてはまる語句を答えなさい。

- ② (1) 赤道付近に位置し、1年を通して高温である気候帯
- ⑥ (2) 温帯のうち、ヨーロッパ南部などに分布している、冬に雨が降り、夏は乾燥する気候
- ③ (3) 温帯の気候に影響を与えている、大陸の西岸を1年を通して同じ向きに吹く風
- ② (4) アジアの気候に影響を与えている、夏と冬で吹く向きが逆になる風
- ④ (5) 冷帯(亜寒帯)の広い範囲に分布する針葉樹林帯
- ⑤ (6) アンデス山脈に住むインディオが着用している着脱の容易な衣服
- ① (7) クリスマスやイースターなどの行事がある宗教
- ③ (8) 西アジア、北アフリカの人々に信仰され、メッカを聖地としている宗教
- ② (9) インドでさかんに信仰され、牛が神聖視されている宗教
- ③ (10) 世界の三大宗教の1つであり、インドシナ半島や中華人民共和国で多く信仰されている宗教

②

- (1) _____
- (2) _____
- (3) _____
- (4) _____
- (5) _____
- (6) _____
- (7) _____
- (8) _____
- (9) _____
- (10) _____

11

アジア・アフリカ

キーワードの確認

① 〈アジア〉 次の説明にあてはまる語句を答えなさい。

- 3 □(1) 中華人民共和国(中国)で最も人口が多い民族
- 1 □(2) 中国の人口増加をおさえるために2015年までとられた政策
- 3 □(3) 中国で最も長い川
- 2 □(4) 中国の首都
- 6 □(5) 中国の農業で、人民公社制度にかわって導入された制度
- 8 □(6) 中国最大の油田
- 5 □(7) 外国の企業を誘致するためシェンチェンなどに設けられた地区
- 6 □(8) 中国の農村部で発達してきた、市町村や個人が経営する企業
- 4 □(9) 中国、ブラジル、ロシア、インド、南アフリカ共和国をまとめた呼称
- 4 □(10) 中国人で、外国へ移住し、現地の国籍を取得した人々
- 3 □(11) 1997年にイギリスから中国へ返還された地域
- 4 □(12) 1978年に、日本と中国との間で結ばれた友好条約
- 3 □(13) 1950年に朝鮮半島でおこった戦争
- 2 □(14) 大韓民国(韓国)の首都
- 5 □(15) 韓国やシンガポールなど、1970年代から急速に発展した国や地域
- 2 □(16) インドで、多くの人が信仰している宗教
- 5 □(17) インドに古くからあり、廃止後も社会に影響を与えている身分制度
- 5 □(18) インドシナ半島に位置する、世界有数の米の輸出国
- 5 □(19) かつてアメリカ合衆国の植民地であった、東南アジアの島国
- 3 □(20) メコン川などの下流に形成されている低く平らな地形
- 2 □(21) 南・東南アジアの気候に影響を与える夏と冬で風向きが逆になる風
- 4 □(22) 東南アジアで植民地時代に開かれた大農園と、そこで行われる農業
- 3 □(23) 東南アジアの多くの国が加盟している地域協力組織
- 3 □(24) 西アジアから北アフリカにかけて、多くの人が信仰している宗教
- 4 □(25) 沿岸に代表的な産油国が集中している湾
- 4 □(26) 世界各地の産油国が結成している組織

①

- (1) _____
- (2) _____
- (3) _____
- (4) _____
- (5) _____
- (6) _____
- (7) _____
- (8) _____
- (9) _____
- (10) _____
- (11) _____
- (12) _____
- (13) _____
- (14) _____
- (15) _____
- (16) _____
- (17) _____
- (18) _____
- (19) _____
- (20) _____
- (21) _____
- (22) _____
- (23) _____
- (24) _____
- (25) _____
- (26) _____

② 〈アフリカ〉 次の説明にあてはまる語句を答えなさい。

- 2 □(1) 世界最大の砂漠
- 5 □(2) 砂漠化が進んでいる、(1)の砂漠の南側に位置する地域
- 3 □(3) 森林を焼き払い、その灰を肥料にして行われる農業
- 5 □(4) 政府開発援助のアルファベットの略称
- 8 □(5) アフリカで多くの国が独立し、「アフリカの年」と呼ばれる年
- 5 □(6) 沿岸の国々でカカオ豆の生産がさかんな湾
- 7 □(7) 特定の農産物や鉱産資源の輸出に頼る経済
- 5 □(8) アフリカ最南端の国で、かつて行われていた人種隔離政策の通称
- 5 □(9) クロムやマンガンなど、限られた地域に分布する金属

②

- (1) _____
- (2) _____
- (3) _____
- (4) _____
- (5) _____
- (6) _____
- (7) _____
- (8) _____
- (9) _____

2 | 世界の国々

- 2 □(1) 1945年に発足し、現在、世界にあるおよそ190の国々のほとんどが加盟している国際組織を何というか。 (1).....
- 5 □(2) 国を構成する3つの要素は、国民、主権（政府）とあと1つは何か。 (2).....
- 2 □(3) 山や川などの自然物や、経緯線などをもとに決められている、国と国との境界を何というか。 (3).....
- 2 □(4) 日本などのように、国土のまわりを海に囲まれている国を何というか。 (4).....
- 2 □(5) 国土が陸地に囲まれ、海にまったく面していない国を何というか。 (5).....
- 2 □(6) 世界を6つの州に分けたとき、日本は何という州に含まれるか。→図1中の① (6).....
- 2 □(7) 世界を6つの州に分けたとき、オーストラリアを含む州を何というか。→図1中の② (7).....
- 2 □(8) ユーラシア大陸の多くをしめる、世界で最も面積の大きい国を何というか。 (8).....
- 2 □(9) イタリアの首都にある、世界で最も面積の小さい国を何というか。→図2中の① (9).....
- 3 □(10) 日本から最も遠い地域にあり、面積は日本の約23倍の、南アメリカ州に含まれる国を何というか。→図2中の② (10).....
- 4 □(11) 南アメリカ州に含まれる、4000km以上にわたって国土が南北に細長く連なっている国を何というか。→図2中の③ (11).....
- 2 □(12) 北アメリカ州に含まれる、探検家のアメリゴ・ベスプッチの名から名付けられた国を何というか。 (12).....

図1

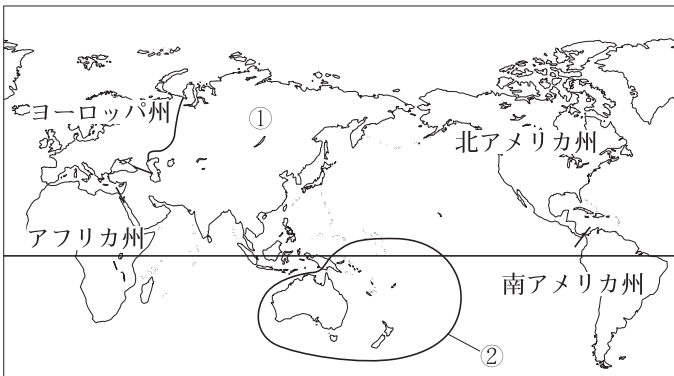
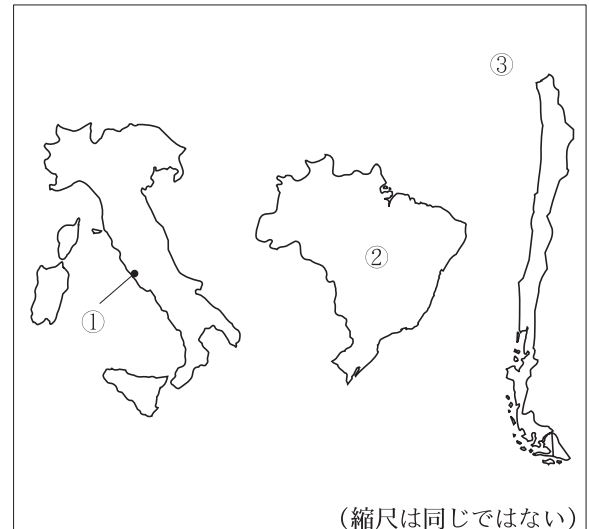


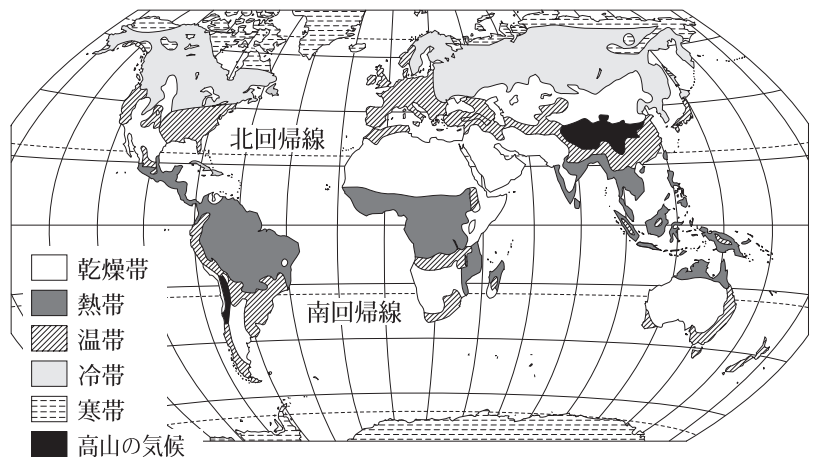
図2



3 | 世界の人々の生活と環境

- 3** □(1) 東南アジアや南アメリカの赤道周辺など、年中高温で雨の多い地域に広がる森林を何というか。 (1) _____
- 7** □(2) 北極に近い高緯度地方で、短い夏の間だけ雪や氷がとけて草やこけが育つ土地を何というか。 (2) _____
(3) _____
- 4** □(3) 夏が短く冬の寒さがきびしいカナダやシベリアに広がる針葉樹林帯をカタカナのことで何というか。 (4) _____
- 7** □(4) 砂漠の周辺に見られる、乾燥した草原を何というか。 (5) _____
- 4** □(5) 乾燥帯で水が得られ、農業が可能な地域を何というか。 (6) _____
- 3** □(6) インディオが古くからくらしている、南アメリカ大陸の西部を南北に長く連なる山脈を何というか。 (7) _____
(8) _____
- 5** □(7) 海面より低い土地が多いオランダで、国土の約4分の1をしめる干拓地を何というか。 (9) _____
- (8) カナダ北部やアラスカで狩猟や漁業で生活してきた人々を
3 何というか。 (10) _____
(11) _____
- (9) 西アジアから北アフリカにかけての砂漠地帯で遊牧生活を営む人々を何というか。 (12) _____
- 3** □(10) 次の文中の () 内の最も適切な語句はどれか。
◎ 南太平洋の島々など熱帯の地方では、(米, 小麦, いも類) が伝統的に主食とされてきた。
- 5** □(11) モンゴルの遊牧民が住む移動式の住居を何というか。
- 2** □(12) 牛を神聖な動物として大切にすることで知られる、インドで最も信者が多い宗教を何というか。

世界の気候



4 | 東アジア

2 □(1) 中華人民共和国(中国)の首都を何というか。→図中の①

(1) _____

3 □(2) 中国最大の人口をもつ、東アジア有数の港湾・商工業都市を何というか。→図中の②

(2) _____

3 □(3) 長い間イギリスの植民地となっていて、1997年に中国に返還された地域を何というか。→図中の③

(3) _____

3 □(4) 流域で小麦や綿花がさかんに栽培されている、中国で2番目に長い河川を何というか。→図中の④

(5) _____

3 □(5) 流域で稲作がさかんな、中国で最も長い河川を何というか。→図中の⑤

(6) _____

7 □(6) 世界の屋根ともいわれる、中国南西部に位置し、ヒマラヤ山脈に連なる高原を何というか。→図中の⑥

(8) _____

2 □(7) 次の文中の()内の適当な数字はどちらか。
◎ 現在、中国の総人口は約(14, 30)億人である。

(9) _____

3 □(8) 中国の全人口の90%以上をしめる民族を何というか。

(10) _____

5 □(9) 外国企業が進出しやすい条件が整備されている、シェンチェンなど中国沿岸部の5地区をまとめて何というか。

(12) _____

4 □(10) 中国で生産された工業製品が世界各地に大量に輸出されていることから、中国は何と呼ばれているか。

1 □(11) 人口の増加を抑制するために中国で実施されてきた、子どもの数をおさえる政策を何というか。

6 □(12) 韓国では、人口、政治、経済が、首都ソウルに集まっている。このような状態を何というか。

図

