

実戦トライアルα+10

社会

CONTENTS

A 第1回 社会	3
A 第2回 社会	9
A 第3回 社会	15
A 第4回 社会	21
A 第5回 社会	27
A 第6回 社会	33
解答・解説	39

実戦トライアル

A 第 1 回

社 会

- 注意：1. この問題用紙は、先生の「始め」の合図があるまで開いてはいけません。
2. 解答欄は、別冊子にあります。答えは、すべて別冊子の解答欄に記入下さい。
3. 先生の「やめ」の合図があったら、指示に従って解答欄のあるこの用紙だけを提出下さい。

1 次の各文を読んで、あとの問いに答えなさい。

- A あ 中大兄皇子が、中臣鎌足らの協力を得て、蘇我氏をたおした。
- B 豊臣秀吉が、九州や関東を平定して、い 全国統一を完成した。
- C (う)が、西洋の測量術を取り入れて各地を測量し、「大日本沿海輿地全図」の作成にあたった。
- D え 徳川吉宗が、大名の参勤交代をゆるめるかわりに、幕府へ米を献上させた。
- E お 紫式部が、『源氏物語』を書いた。

3 (1) 下線あが行った新しい政治のしくみをつくる改革は、この改革のときわが国で初めて元号が使われたといわれ、その元号から()の改新と呼ばれています。()にあてはまる語句を漢字2字で答えなさい。

6 (2) 下線の過程について述べた次の文章中のa、bの()の中から適当なものを1つずつ選び、記号で答えなさい。

朝廷からa(ア 関白 イ 征夷大將軍)に任命された秀吉は、天皇の命令の形をとって、諸大名にb(ウ 宣教師を国外へ追放する エ 戦いをやめる)よう命じた。そして、その命令に従わないとして九州の島津氏を攻めて降伏させ、さらに関東の北条氏をほろぼして、全国統一を完成した。

6 (3) (う)には、幕府の許可を受けて、各地の沿岸を測量した人物があてはまります。この人物の姓名を答えなさい。

8 (4) 次の文章は、下線えが政治を行ったところの農村のくらしの変化について述べたものです。[商品作物、農具や肥料、お金]の3つの言葉を用いて、文章中の()にあてはまる適当な語句を答えなさい。

徳川吉宗が政治を行ったころ、農村では、自給自足に近かった農村のくらしが大きく変化した。農民は、()。

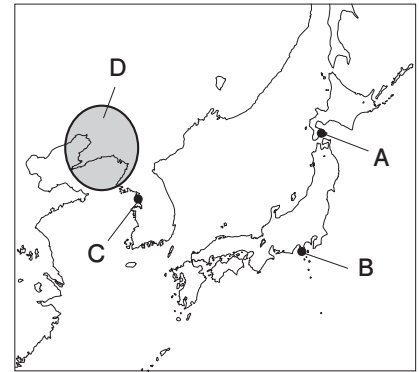
3 (5) 下線おが活躍したところに行われていた政治の特色を説明するときに使う資料として最も適当なものを次から1つ選び、記号で答えなさい。

- ア 皇室と藤原氏の関係を示す系図
- イ 外様大名の配置を示す地図
- ウ 室町に建てられた花の御所の絵
- エ 前方後円墳の分布を示す地図

7 (6) A～Eのできごとのうち、最も年代の古いきごとはAです。B～Eのできごとを年代の古い順に左から並べ、記号で答えなさい。

2 次の問いに答えなさい。

(1) 右の略地図を見て、次の問いに答えなさい。



4 ① 地図中のA、Bは、1854年に江戸幕府とアメリカとの間で結ばれた条約によって開港された場所を示しています。この2港を開くこととした条約を何というか、答えなさい。

9 ② 地図中にCで示した場所で、1875年に日本と朝鮮の軍隊が交戦し、日朝修好条規を結ぶきっかけとなった事件が occurred。この事件を何というか、答えなさい。

7 ③ 地図中にDで示した地域には、1905年のポーツマス条約によってロシアから得た利権をもとに、わが国が経営することになった鉄道がありました。この鉄道を何というか、答えなさい。

5 (2) 右の写真は、地租改正で発行された地券を表しています。1873年に、地租改正が始められたころの納税方法について述べた次の文中の()にあてはまる語句を答えなさい。

土地所有者が、()の3%を現金で納める。

5 (3) 右の写真は、米の値上がりに対して、その値下げを求める米騒動の様子を表しています。このうち、本格的な政党内閣が成立するなど、自由主義の風潮が高まりました。このころのわが国のできごとについて述べた文として最も適当なものを次から1つ選び、記号で答えなさい。

- ア ラジオ放送が始まり、国民にニュースや娯楽などが提供された。
- イ 東京の銀座にガス灯がつけられ、欧米にならって太陽暦が採用された。
- ウ 福沢諭吉が『学問のすゝめ』を著し、人間の自由や平等などを説いた。
- エ 滝沢(曲亭)馬琴によって『南総里見八犬伝』などの物語が書かれた。

3 次の問いに答えなさい。

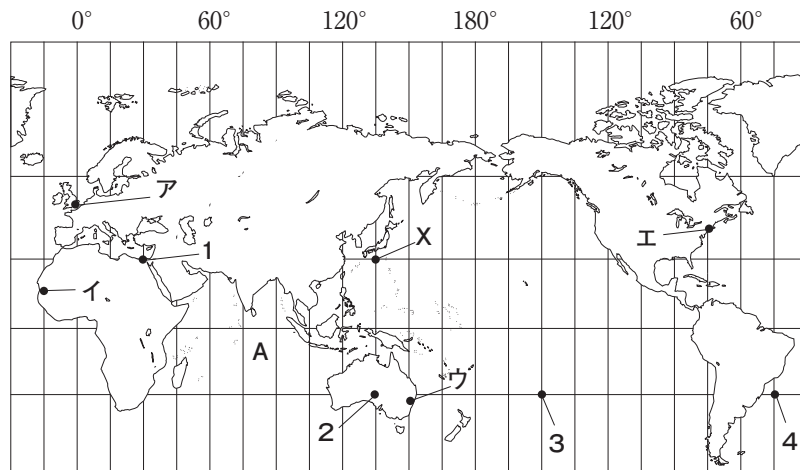
4 (1) 次の文章は、17世紀のヨーロッパにおいて、議会を重視した政治体制を確立した国について述べています。この文章の内容にあてはまる国の、現在の国名を答えなさい。

17世紀に2度の革命がoccurり、1689年に権利章典を制定した国である。この国で生まれたロックは、専制政治を批判し、議会在優位に立つ政治機構が必要であることを説いた。

6 (2) 基本的人権について学習した内容をまとめた次の文章中の()にあてはまる語句を答えなさい。

基本的人権とは、すべての人が()もっている人間としての権利のことです。人間は、個人として尊重され、自由に生き、安らかな生活を送ることができなければなりません。

4 次の略地図を見て、あとの問いに答えなさい。

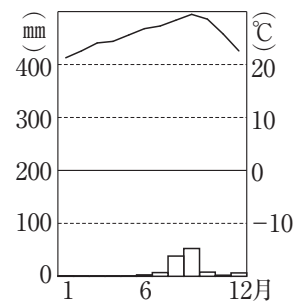


- 1 (1) 地図中にAで示した海洋の名を答えなさい。
- 5 (2) 地図中にXで示した地点から最も遠く、ちょうど地球の反対側にあたる地点を地図中の1～4から1つ選び、番号で答えなさい。また、その地点の緯度と経度を次から1つ選び、記号で答えなさい。

- ア 北緯30度，東経45度
 イ 北緯30度，西経45度
 ウ 南緯30度，東経45度
 エ 南緯30度，西経45度

- 3 (3) 右の資料1は、地図中のア～エのいずれかの都市の気候を表したものです。あてはまる都市を1つ選び、記号で答えなさい。
- (4) 資料2は、日本の肉類のおもな輸入相手国とその輸入額の割合を示しています。これについて、あとの問いに答えなさい。

資料1



(2019年版「理科年表」より)

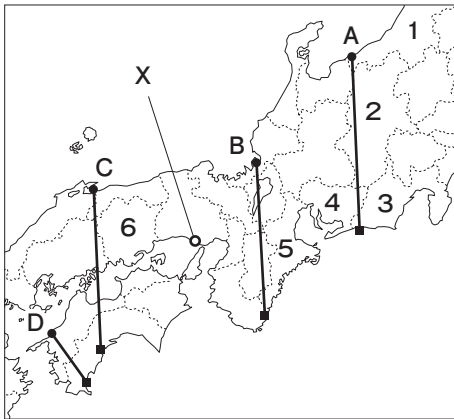
資料2

総輸入額 15,162億円	アメリカ合衆国 28%	オーストラリア 15%	タイ 15%	カナダ 9%	中国 8%	ブラジル 6%	その他 19%
------------------	----------------	----------------	-----------	-----------	----------	------------	------------

(2019年版「日本国勢図会」より)

- 3 ① 世界を6つの州に分けたとき、日本が肉類を最も多く輸入している州の名を答えなさい。
- 6 ② 資料2中に示されている6か国を、人口が多い順に並べるとき、2番目の国と3番目の国の組み合わせとして最も適当なものを次から1つ選び、記号で答えなさい。
- ア 2番目＝カナダ，3番目＝アメリカ合衆国
 イ 2番目＝カナダ，3番目＝ブラジル
 ウ 2番目＝アメリカ合衆国，3番目＝カナダ
 エ 2番目＝アメリカ合衆国，3番目＝ブラジル
- 7 (5) 地図中にアで示した都市が1月1日午後3時のとき、エの都市は何月何日の何時になりますか。午前・午後を明らかにして答えなさい。

5 次の略地図と表や図を見て、あとの問いに答えなさい。



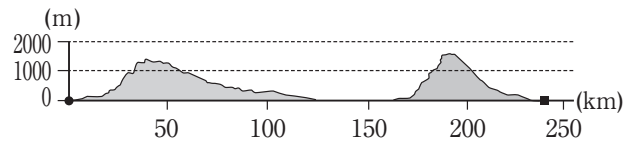
おもな都市の平均気温と平均降水量

県	観測地	気温(℃)		降水量(mm)	
		1月	7月	1月	7月
新潟県	上越	2.4	24.6	b	211
福井県	福井	3.0	25.6	285	233
静岡県	静岡	6.7	25.7	c	278
a	名古屋	4.5	26.4	48	204
岡山県	倉敷	4.3	26.5	32	146

(2019年版「理科年表」などより)

2 (1) 表中の a にあてはまる県を地図中の 1～6 から 1つ選び、番号で答えなさい。

4 (2) 右の断面図は、地図中の A～D のいずれかの線に沿った地形を模式的に表したものです。これにあてはまるものを 1つ選び、記号で答えなさい。



4 (3) 表中の b と c にあてはまる数の組み合わせとして最も適当なものを次から 1つ選び、記号で答えなさい。また、その理由を述べたあとの文中の **あ** と **い** にあてはまる語句を答えなさい。

- ア b = 419, c = 266 イ b = 75, c = 419
 ウ b = 419, c = 75 エ b = 33, c = 75

あ 側の気候は **い** 側の気候に比べて、冬の降水量が多いから。

3 (4) 地図中に X で示した都市は、日本の標準時子午線が通ることから知られます。この都市の名を答えなさい。

6 (5) 次の表は、各県の農業についてまとめたもので、表中の A～E は、地図中の 1～4 のいずれかの県にあてはまります。1 と 2 にあてはまるものを 1つずつ選び、記号で答えなさい。

	農業産出額 (億円)	農業産出額の内わけ(億円)				
		米	野菜	果実	畜産	その他
A	2266	196	700	331	490	549
イ	2465	454	897	557	305	252
ウ	3154	276	1127	207	875	669
E	2583	1484	386	80	499	134

(2019年版「県勢」より)

(これで問題は終わりです)