

# 社会

## 地理・歴史の 総まとめ

### 本書の構成と特色

#### ■ 全体の構成

このテキストは、中学で学習する標準的な地理・歴史分野の重要事項をまとめたものです。これらの内容の学習が、短期間で無理なく効果的に行えるように工夫、編集されています。

#### ■ 単元の構成

各単元は、**学習の要点** → **確認問題** → **練成問題** で構成され、基本事項から無理なく学習することができます。確認問題は重要事項を一問一答で確認するかたちとなっており、練成問題は基本を理解したうえで、さらに実力の定着を図るために、多角的な問題で構成されています。

#### ■ Check & Try

巻頭の「**事前に Check!**」は、基本事項を網羅的におさらいできる問題で構成してあります。定着の度合いを確認することができます。巻末の「**最後に Try!**」は、本書で学習した成果を簡単に確認することができます。

### CONTENTS

		学習日
事前に Check!	2	<input type="text"/>
1 世界の姿・日本の姿	8	<input type="text"/>
2 世界の諸地域	14	<input type="text"/>
3 日本の地域的特色	20	<input type="text"/>
4 日本の諸地域	26	<input type="text"/>
5 古代史のまとめ	32	<input type="text"/>
6 中・近世史のまとめ	36	<input type="text"/>
7 明治維新～日清・日露戦争	42	<input type="text"/>
8 第一次世界大戦～現代	46	<input type="text"/>
最後に Try!	50	<input type="text"/>



# どこまで身につけているか確かめよう!

## 1 世界の姿・日本の姿

- (1) 六大陸のうち、面積が最も大きい大陸を何というか。  
(1) \_\_\_\_\_
- (2) 世界を6つの州に分けると、オーストラリアは何州にふくまれるか。  
(2) \_\_\_\_\_
- (3) 周囲がすべて海に囲まれている国を何というか。  
(3) \_\_\_\_\_
- (4) イタリアの首都の中に位置している、面積が世界で最も小さい国を何というか。  
(4) \_\_\_\_\_
- (5) 緯度0度の緯線を一般に何というか。  
(5) \_\_\_\_\_
- (6) 180度の経線にほぼ沿って引かれている、東から西へこえるときは日付を1日進め、西から東へこえるときは日付を1日遅らせる線を何というか。  
(6) \_\_\_\_\_
- (7) 沿岸国に水産資源、海底資源を利用する権利がある、領海の外側で、海岸線から200海里以内の水域を何というか。  
(7) \_\_\_\_\_
- (8) 東経123度のあたりに位置する、日本の西端に位置している島を何というか。  
(8) \_\_\_\_\_
- (9) 現在、ロシア連邦によって占拠されている、国後島、択捉島、色丹島、歯舞群島をまとめて何というか。  
(9) \_\_\_\_\_
- (10) 日本の都道府県には、1都1道2府と何県があるか。  
(10) \_\_\_\_\_
- (11) 世界に分布する5つの気候帯のうち、1年を通じてほとんど雨が降らない砂漠などが見られる気候帯を何というか。  
(11) \_\_\_\_\_
- (12) らくだや羊などの家畜を連れて移動する牧畜形態を何というか。  
(12) \_\_\_\_\_
- (13) 草原などを焼きはらい、できた灰を肥料にして作物を育てる農業を何というか。  
(13) \_\_\_\_\_
- (14) シベリアに広がっている針葉樹林を何というか。  
(14) \_\_\_\_\_
- (15) インドで最も信者が多く、牛は神聖な動物であるとされている宗教を何というか。  
(15) \_\_\_\_\_

## 2 世界の諸地域

- (1) シェンチェンなど中国南部の沿海部に置かれている、外国企業を税金面などで優遇し、外国の資金・技術の導入をはかるための地域を何というか。  
(1) \_\_\_\_\_
- (2) 東南アジアの多くの国が加盟している、東南アジア諸国連合の略称を何というか。  
(2) \_\_\_\_\_
- (3) スカンディナヴィア半島の西岸には、氷河にけずられてできたせまい湾が見られる。このような地形を何というか。  
(3) \_\_\_\_\_

(4) ヨーロッパ連合（EU）の共通通貨を何というか。

(4) \_\_\_\_\_

(5) 北アフリカに広がる世界最大の砂漠を何というか。

(5) \_\_\_\_\_

(6) アフリカ州の国々などで多く見られる、特定の鉱産資源や農産物の生産や輸出にたよった経済を何というか。

(6) \_\_\_\_\_

(7) アメリカ合衆国で増えている、メキシコや中央アメリカから移り住んできたスペイン語を話す人々を何というか。

(7) \_\_\_\_\_

(8) 20世紀後半以降に工業が発達した、アメリカ合衆国の北緯37度付近より南の地域を何というか。

(8) \_\_\_\_\_

(9) 南アメリカの各地には、植民地であった時代に輸出用の作物を栽培するために開かれた大規模な農園が見られる。このような農園を何というか。

(9) \_\_\_\_\_

(10) ブラジルなどで生産がさかんな、さとうきびなどの植物原料からつくられる燃料を何というか。

(10) \_\_\_\_\_

(11) オーストラリアの先住の人々を何というか。

(11) \_\_\_\_\_

(12) 1970年代までオーストラリアで行われていた、ヨーロッパ系以外の移民を制限する政策を何というか。

(12) \_\_\_\_\_

### 3 日本の地域的特色

(1) 日本列島の中央部を南北に連なり、日本の地形を東西に分けている大地溝帯を何というか。

(1) \_\_\_\_\_

(2) 川の河口付近に土砂が堆積してできた、低くて平らな地形を何というか。

(2) \_\_\_\_\_

(3) 三陸海岸南部などに見られる、山地が海に沈むなどしてできた、出入りの複雑な海岸地形を何というか。

(3) \_\_\_\_\_

(4) 日本の気候に大きな影響をあたえている、夏と冬で吹く向きが変わる風を何というか。

(4) \_\_\_\_\_

(5) 都道府県や市区町村などが作成している、さまざまな自然災害の被害予測などを記した地図を何というか。

(5) \_\_\_\_\_

(6) 人口が流出して経済活動がおとろえ、地域社会を維持することが困難になる状態を何というか。

(6) \_\_\_\_\_

(7) 枯渇することなく自然界に存在し、くり返し利用することができる、太陽光や風力などのエネルギーを何というか。

(7) \_\_\_\_\_

(8) 国内で消費される食料のうち、国産のものでまかなうことができる割合を何というか。

(8) \_\_\_\_\_

(9) 関東地方から九州地方北部にかけての臨海部とその周辺に带状に連なる工業地域を何というか。

(9) \_\_\_\_\_

(10) 2国間の貿易で、一方の輸出額が輸入額を上回ることでおきることもある貿易上の対立を何というか。

(10) \_\_\_\_\_

(11) 第3次産業にふくまれる産業のうち、宿泊・飲食業や金融・保険業、教育などの業種がふくまれる産業を何というか。

(11) \_\_\_\_\_

#### 4 日本の諸地域

- (1) 鹿児島県から宮崎県南部にかけて広がる、火山の噴出物が積もってできた台地を何というか。
- (2) 筑紫平野で古くから行われてきた、同じ農地で1年のうちに、稲と麦などのように異なる2種類の作物をつくることを何というか。
- (3) 高知平野などでさかんな、温暖な気候をいかし、ビニールハウスなどを利用して農作物の成長を早めるくふうをする栽培方法を何というか。
- (4) 本州四国連絡橋のうち、岡山県倉敷市児島と香川県坂出市の間を結ぶルートにかかっている橋をまとめて何というか。
- (5) 滋賀県に位置する、面積が日本で最も大きい湖を何というか。
- (6) 近畿地方では、千里、泉北、須磨などにつくられた、住宅の不足を解消するために郊外に造成された住宅地を何というか。
- (7) 中部地方の中央部に位置している、飛騨山脈、木曾山脈、赤石山脈の3つの山脈をまとめて何というか。
- (8) 名古屋市を中心とする地域に広がっている、日本最大の工業地帯を何というか。
- (9) 関東平野の台地をおおっている、火山灰が堆積してできた赤土を何というか。
- (10) 東京都の中心部などで見られる、周辺の地域よりも気温が高くなる現象を何というか。
- (11) 東北地方の太平洋側の地域に夏に吹き、低温をもたらす冷たい北東風を何というか。
- (12) 三陸海岸の沖合いで見られ、好漁場となっている、暖流と寒流が出会う海域を何というか。
- (13) 根釧台地でさかんに行われている、乳牛を飼育し、生乳や乳製品を生産する農業を何というか。
- (14) 畑の土にふくまれる養分のバランスを保つために、同じ土地で一定期間ごとに異なる作物を順番に栽培することを何というか。

- (1) \_\_\_\_\_
- (2) \_\_\_\_\_
- (3) \_\_\_\_\_
- (4) \_\_\_\_\_
- (5) \_\_\_\_\_
- (6) \_\_\_\_\_
- (7) \_\_\_\_\_
- (8) \_\_\_\_\_
- (9) \_\_\_\_\_
- (10) \_\_\_\_\_
- (11) \_\_\_\_\_
- (12) \_\_\_\_\_
- (13) \_\_\_\_\_
- (14) \_\_\_\_\_

#### 5 古代史のまとめ

- (1) 縄文時代の人々が、貝がらなどの食べ物の残りかすなどを捨てたあとを何というか。
- (2) 弥生時代に邪馬台国を治め、魏に使いを送り、皇帝から「親魏倭王」の称号を受けられた女王はだれか。
- (3) 古墳の上やまわりに置かれた、人物、家屋、馬などをかたどった土製の焼き物を何というか。
- (4) 中国や朝鮮半島から日本列島に移住した人々を何というか。
- (5) 家がらにとらわれず有能な人材を役人として登用するために聖徳太子が定めた制度を何というか。
- (6) 645年、天皇中心の政治をめざし、中大兄皇子らが始めた改革を何というか。

- (1) \_\_\_\_\_
- (2) \_\_\_\_\_
- (3) \_\_\_\_\_
- (4) \_\_\_\_\_
- (5) \_\_\_\_\_
- (6) \_\_\_\_\_

- (7) 天智天皇の死後、皇位をめぐっておきた争いを何というか。
- (8) 701年に唐の律令にならって全国を支配するための律令がつくられた。これを何というか。
- (9) 奈良時代に即位し、全国に国分寺や国分尼寺などを建てさせた天皇はだれか。
- (10) 天皇や貴族・農民・防人の歌など約4500首がおさめられた日本最古の歌集を何というか。
- (11) 新しい都で政治を立て直そうと考え、794年に平安京に都を移した天皇はだれか。
- (12) 9世紀初めに唐より帰国した最澄によって伝えられた仏教の宗派を何というか。
- (13) 894年、唐がおとろえたことなどから、遣唐使の停止を進言した人物はだれか。
- (14) 摂政や関白の職を独占して行った藤原氏の政治を何というか。
- (15) 京都の宇治に平等院鳳凰堂を建てたことなどで知られる人物はだれか。
- (16) 藤原氏が栄えたころに、随筆『枕草子』を書いたのはだれか。
- (17) 白河上皇が始めた、天皇が位を退いて上皇になった後も、上皇の御所で政治を行うことを何というか。
- (18) 1167年、平清盛が武士として初めて就任した役職は何か。

- (7) \_\_\_\_\_
- (8) \_\_\_\_\_
- (9) \_\_\_\_\_
- (10) \_\_\_\_\_
- (11) \_\_\_\_\_
- (12) \_\_\_\_\_
- (13) \_\_\_\_\_
- (14) \_\_\_\_\_
- (15) \_\_\_\_\_
- (16) \_\_\_\_\_
- (17) \_\_\_\_\_
- (18) \_\_\_\_\_

## 6 中・近世史のまとめ

- (1) 1185年に、源頼朝が荘園や公領ごとに設置した役職を何というか。
- (2) 源頼朝の死後、幕府の実権をにぎった北条氏が代々ついた役職を何というか。
- (3) 1221年、承久の乱をおこし、乱の後、隠岐に流された上皇はだれか。
- (4) 1232年に北条泰時が定めた武士のための法を何というか。
- (5) モンゴル帝国の都を大都(北京)に移し、国名を元と改めた皇帝はだれか。
- (6) 鎌倉時代に成立し、琵琶法師の弾き語りによって広められた軍記物の代表作を何というか。
- (7) 浄土真宗を開き、阿彌陀仏を信じる心さえあれば罪を自覚した悪人こそ救われると説いた人物はだれか。
- (8) 鎌倉幕府の滅亡後に後醍醐天皇によって行われた、天皇中心の政治を何というか。

- (1) \_\_\_\_\_
- (2) \_\_\_\_\_
- (3) \_\_\_\_\_
- (4) \_\_\_\_\_
- (5) \_\_\_\_\_
- (6) \_\_\_\_\_
- (7) \_\_\_\_\_
- (8) \_\_\_\_\_

- (9) 室町幕府で将軍の補佐役として実際の政治にあたった役職を何というか。  
(9) \_\_\_\_\_
- (10) 1404年に始まった明との貿易で、正式な貿易船に与えられた合札を何というか。  
(10) \_\_\_\_\_
- (11) 室町幕府の第8代将軍で、応仁の乱がおこったときの将軍はだれか。  
(11) \_\_\_\_\_
- (12) 銀閣と同じ敷地の東求堂同仁齋に見られる、現代の和室のもとになった建築様式を何というか。  
(12) \_\_\_\_\_
- (13) 室町時代に村でつくられた自治組織を何というか。  
(13) \_\_\_\_\_
- (14) 1549年に日本に來航し、キリスト教を伝えた宣教師はだれか。  
(14) \_\_\_\_\_
- (15) 織田信長が自由な商工業を發展させるために、本拠地の安土城下でとった政策を何というか。  
(15) \_\_\_\_\_
- (16) 豊臣秀吉が、百姓や寺社から刀や弓、やり、鉄砲などの武器を取り上げた政策を何というか。  
(16) \_\_\_\_\_
- (17) 織田信長や豊臣秀吉に仕え、質素なわび茶の作法を完成させた堺の商人出身の人物はだれか。  
(17) \_\_\_\_\_
- (18) 1615年に江戸幕府が大名統制のために定めた、無断で城を修築することを禁じるなどした法令を何というか。  
(18) \_\_\_\_\_
- (19) 1641年に江戸幕府がオランダ商館を移した長崎の人工島を何というか。  
(19) \_\_\_\_\_
- (20) 極端な動物愛護令を出したことなどで知られる江戸幕府の第5代将軍はだれか。  
(20) \_\_\_\_\_
- (21) 俳諧(俳句)を芸術に高め、全国を旅して『奥の細道』などを書いたのはだれか。  
(21) \_\_\_\_\_
- (22) 江戸幕府第8代将軍徳川吉宗が、幕政の改革の中で定めた裁判の基準となる法律を何というか。  
(22) \_\_\_\_\_
- (23) 田沼意次が結成を奨励した商工業者の同業者組合を何というか。  
(23) \_\_\_\_\_
- (24) 19世紀初めに、ヨーロッパの技術で全国の海岸線を測量し、正確な日本地図をつくった人物はだれか。  
(24) \_\_\_\_\_
- (25) 1825年に江戸幕府が出した、日本の沿岸に近づく外国船を撃退することを命じた法令を何というか。  
(25) \_\_\_\_\_
- (26) 1841年に天保の改革を始めた老中はだれか。  
(26) \_\_\_\_\_
- (27) 1858年に、江戸幕府の大老が、朝廷の許可なくアメリカと結んだ条約を何というか。  
(27) \_\_\_\_\_
- (28) 1861年に、奴隸制度のあり方などをめぐってアメリカ合衆国でおきた戦争を何というか。  
(28) \_\_\_\_\_
- (29) 大政奉還を行った、江戸幕府の第15代将軍はだれか。  
(29) \_\_\_\_\_

**7** 明治維新～日清・日露戦争

- (1) 明治政府が、藩主<sup>はんしゆ</sup>に土地と人民を天皇に返させたことを何というか。
- (2) 土地の所有者に地券を発行し、地価の3%を現金で納めさせるようにした税制の改革を何というか。
- (3) 明治政府で活躍<sup>かつやく</sup>し、西南戦争で指導者となった、薩摩藩<sup>さつま</sup>出身の人物はどれか。
- (4) 1889年2月11日、天皇が国民にあたえるという形で発布された憲法を何というか。
- (5) 日清戦争<sup>にっしん</sup>の講和条約で得た賠償金<sup>ばいしょう</sup>をもとに北九州に建設され、1901年に操業を開始した製鉄所を何というか。
- (6) 日露戦争<sup>にちろ</sup>の講和条約を何というか。
- (7) 1911年、清の武昌<sup>ぶしやう</sup>での軍隊の反乱をきっかけにおこった革命を何というか。

- (1) \_\_\_\_\_
- (2) \_\_\_\_\_
- (3) \_\_\_\_\_
- (4) \_\_\_\_\_
- (5) \_\_\_\_\_
- (6) \_\_\_\_\_
- (7) \_\_\_\_\_

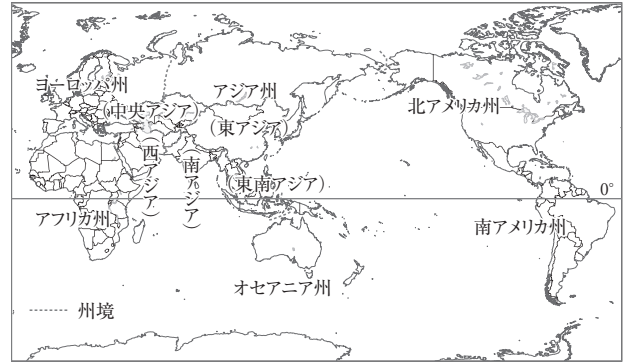
**8** 第一次世界大戦～現代

- (1) 日本が第一次世界大戦に連合国側で参戦する理由となった、ある国との同盟を何というか。
- (2) 第一次世界大戦中の1915年に、日本が中国に対して、満州<sup>まんしやう</sup>での権益の拡大などの要求を提示したものを何というか。
- (3) 連合国とドイツとの間でフランスで結ばれた、第一次世界大戦の講和条約を何というか。
- (4) 部落差別問題の解決をめざして1922年に結成された全国組織を何というか。
- (5) 1925年に制定された、共産主義などを取りしめるための法律を何というか。
- (6) 世界恐慌<sup>きやうこう</sup>を克服<sup>こくふく</sup>するためにアメリカのローズベルト大統領がとった、公共事業をおこすなどして経済を活性化させる政策を何というか。
- (7) 1931年に関東軍が、奉天郊外<sup>ほうてんこうがい</sup>の柳条湖<sup>りゅうじやうこ</sup>で南満州鉄道の線路を爆破し、それを機に軍事行動を開始したできごとを何というか。
- (8) 1932年に、海軍の将校らが首相官邸<sup>かんてい</sup>をおそい、犬養毅<sup>いぬかいつよし</sup>首相を暗殺した事件を何というか。
- (9) 日中戦争の長期化にともない、人員や物資を戦争に優先して使うために定められた法律を何というか。
- (10) 1945年、日本の無条件降伏を求めて、連合国側が出した宣言を何というか。
- (11) 第二次世界大戦後、農村の民主化のために、地主がもっている土地を政府が強制的に買い上げ、小作人に安く売りわたしたことを何というか。
- (12) 1951年に日本と、アメリカなど48か国の間に結ばれた講和条約を何というか。
- (13) 1973年、第四次中東戦争をきっかけにおこり、日本の高度経済成長が終わる原因となった世界的な経済の混乱を何というか。

- (1) \_\_\_\_\_
- (2) \_\_\_\_\_
- (3) \_\_\_\_\_
- (4) \_\_\_\_\_
- (5) \_\_\_\_\_
- (6) \_\_\_\_\_
- (7) \_\_\_\_\_
- (8) \_\_\_\_\_
- (9) \_\_\_\_\_
- (10) \_\_\_\_\_
- (11) \_\_\_\_\_
- (12) \_\_\_\_\_
- (13) \_\_\_\_\_

## 1 世界の姿

- (1) **大陸と海洋**…地表の海と陸の面積比は、およそ7：3。南半球よりも北半球のほうが陸地が多い。
- ① 三大洋…太平洋, 大西洋, インド洋。
  - ② 六大陸…ユーラシア大陸, 北アメリカ大陸, 南アメリカ大陸, アフリカ大陸, オーストラリア大陸, 南極大陸。
- (2) **世界の地域区分**…アジア州[さらに、東アジア, 東南アジア, 南アジア, 西アジア, 中央アジアなどの地域に区分], ヨーロッパ州, アフリカ州, 北アメリカ州, 南アメリカ州, オセアニア州に区分される。
- (3) **国境**…山脈や川, 緯線・経線などをもとに設けられている。アフリカ州には、ヨーロッパ諸国の植民地支配を受けた際の境界線のなごりである直線的な国境線が多く見られる。
- ① 島国(海洋国)…周囲を海に囲まれている国。日本, フィリピン, キューバ, ニュージーランドなど。
  - ② 内陸国…海に面していない国。モンゴル, ラオス, ボリビア, オーストリア, スイスなど。
- (4) **世界の国々**…現在, 世界には、およそ195か国の国がある。
- ① 面積…世界で最も面積が大きい国はロシア連邦で、日本の面積の約45倍ある。世界で最も面積が小さい国はバチカン市国で、イタリアの首都ローマ市内に位置している。
  - ② 人口…中華人民共和国(中国), インド, アメリカ合衆国の順に多い。州別ではアジア州が最も多い。
  - ③ 国名の由来…エクアドル[国土を通る赤道から], コロンビア[探検家コロンブスから]など。
- (5) **地球上の位置**…地球上の位置は緯度と経度で表す。
- ① 緯度…赤道と平行な線を緯線という。緯度は、赤道を0度として、南北に90度ずつ分けたもの。赤道より北を北緯, 南を南緯で示す。
  - ② 経度…北極点と南極点を結んだ線を経線という。経度は、イギリスの首都であるロンドンを通る経線(本初子午線)を0度として、東西に180度ずつ分けたもの。0度より東を東経, 西を西経で示す。
- (6) **対蹠点**[ある地点から見て、地球のちょうど反対側の地点]の求め方…経度は、180度から経度を引き、東経と西経を逆にする。緯度は数値は変えず、北緯と南緯を逆にする。東京の位置は、およそ東経140度, 北緯36度→東京の対蹠点は、およそ西経40度, 南緯36度[南アメリカ州のウルグアイ沖の大西洋上]。
- (7) **地球儀と世界地図**
- ① 地球儀…地球を縮小した模型。大陸の形や位置関係, 面積, 方位, 距離などをほぼ正確に表せる。
  - ② 世界地図…目的に応じてさまざまな図法の世界地図がつくられている。



▲州の区分



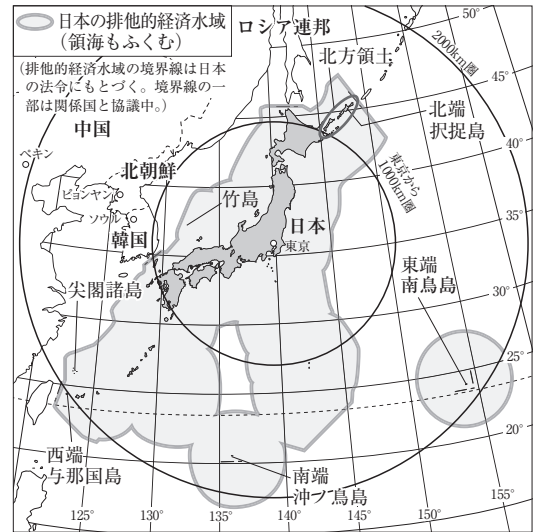
▲図の中心からの距離や方位が正しく表される地図。

## 2 日本の姿

- (1) **日本の位置**…ユーラシア大陸の東に位置し、東アジアにふくまれる。経度ではおよそ東経122度から154度の間, 緯度ではおよそ北緯20度から46度の方に位置する。
- (2) **時差**
- ① 標準時…各国・地域ごとに定められた経線にもとづく時刻。標準時の基準となる経線を標準時子午線という。日本は、兵庫県明石市を通る東経135度の経線を標準時子午線とする。
  - ② 時差の求め方…地球は24時間で1回転(360度回転)している。360度÷24時間=15度より、経度15度につき1時間の時差が生じる。2地点間の時差は、経度差÷15度で求められる。
  - ③ 日付変更線…経度180度の経線にはほぼ沿って引かれている。日付変更線を西から東へこえるときは日付を1日遅らせ、東から西へこえるときは日付を1日進める。



- (3) 日本の領域…領土, 領海[日本は海岸線から12海里], 領空[領土と領海の上空]からなる。領海を除く海岸線から200海里以内の水域は排他的経済水域とよばれ, 沿岸国に水産資源, 海底資源を利用する権利が認められる。
- (4) 日本の国土…北海道, 本州, 四国, 九州と小さな島々からなる。国土の長さは約3000km, 面積は約38万km<sup>2</sup>。
- (5) 領有をめぐる動き
- ① 北方領土[北海道]…国後島, 択捉島, 色丹島, 歯舞群島からなる。現在, ロシア連邦が占拠している。
  - ② 竹島[島根県]…現在, 大韓民国(韓国)が占拠している。
  - ③ 尖閣諸島[沖縄県]…中華人民共和国(中国)・台湾が領有権を主張している。
- (6) 都道府県と地方区分…47の都道府県[1都1道2府43県]がある。北海道地方, 東北地方, 関東地方, 中部地方, 近畿地方, 中国・四国地方, 九州地方の7地方区分が多く用いられる。

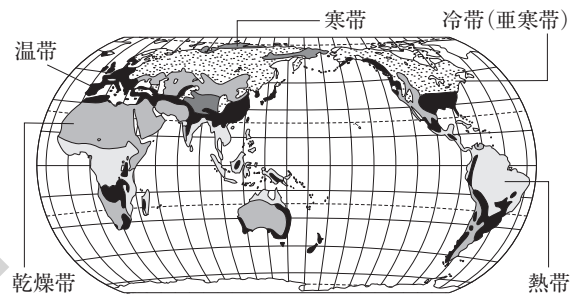


▲日本の領海と排他的経済水域

### 3 世界の人々の生活と環境

#### (1) 世界の気候と人々の生活

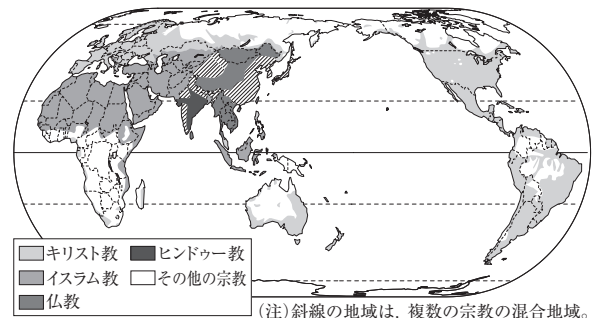
- ① 寒帯…年間を通じて気温が低い。一年中氷と雪におおわれ, 植物が育たない氷雪気候, 短い夏にわずかにこけ類が生えるツンドラ気候。北アメリカ大陸の北極海沿岸ではイヌイットが生活。夏は太陽が深くしずまず, 夜でもうす明るい白夜が見られる。
- ② 冷帯(亜寒帯)…夏は気温が上がるが, 冬は寒さが厳しい。ロシア連邦の東側のシベリアには, 永久凍土や針葉樹林のタイガが広がる。
- ③ 温帯…温暖で四季の変化がはっきりしている。年間を通じて気温や降水量の差が小さい西岸海洋性気候, 夏は乾燥し冬に雨が多い地中海性気候, 年間を通じて雨が多い温暖湿潤気候(日本の大部分)。
- ④ 乾燥帯…年間を通じて降水量が少ない。砂漠が広がり, 植物がほとんど育たない砂漠気候, わずかに降水があり, 草原が広がるステップ気候[アフリカ大陸北部のサハラ砂漠の南に広がるサヘルなど]。らくだや羊などの家畜を連れ, 草や水を求めて移動する遊牧が行われてきた。乾燥した地域の中でも水が得られるオアシス周辺では, なつめやしなどをかんがいによって栽培。
- ⑤ 熱帯…年間を通じて気温が高く, 降水量が多い。熱帯林(熱帯雨林)が広がる熱帯雨林気候と, 雨季と乾季があり, サバナとよばれる草原が広がるサバナ気候に分けられる。マングローブ, さんご礁が見られる。タロイもなどの食事。木や竹, 草などを利用した家がつくられてきた。
- ⑥ 高山気候…標高が高い地域に分布。年間を通じて比較的気温が低い。アンデス山脈の高地では, 標高差を利用して, ジャガイモの栽培や, リャマやアルパカの飼育などが行われてきた。



▲世界の気候帯の分布

#### (2) 世界の宗教

- ① 仏教…教典は経。タイなどでは, 僧が家々をまわって食べ物などの施しを受ける修行が見られる。
- ② キリスト教…教典は聖書。多くの信者が日曜日に教会で礼拝を行う。クリスマスやイースターなどの行事がある。信者の数が世界で最も多い。
- ③ イスラム教…教典はコーラン。金曜日にモスク(礼拝堂)でいのりをささげる。信者は1日に5回, 聖地メッカの方角に向かっていのりをささげる, 酒を飲まない, 豚肉を食べないなど, 教えにもとづいた生活のきまりがある。
- ④ ヒンドゥー教…おもにインドで信仰されている。牛を神聖な動物とし, 信者はその肉を食べない。

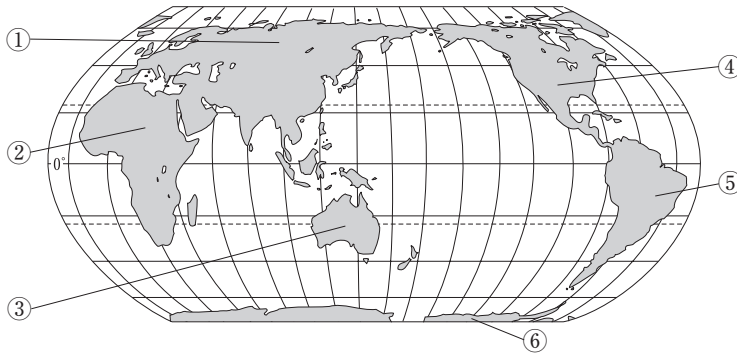


▲世界の宗教の分布

# 確認問題

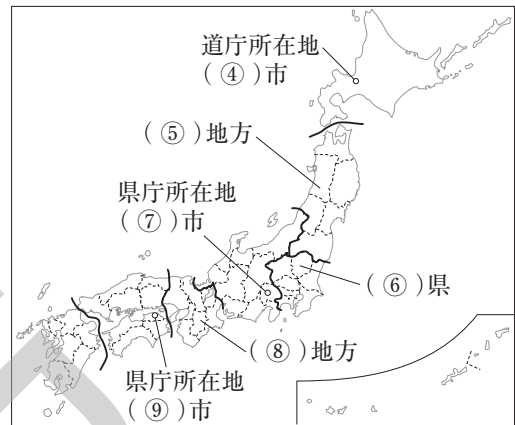
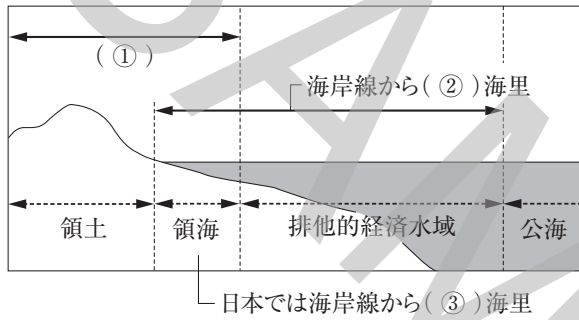
1 <重要図版の確認> 次の各問いに答えなさい。

□(1) ①～⑥にあてはまる大陸名を答えなさい。



- ① \_\_\_\_\_ 大陸
- ② \_\_\_\_\_ 大陸
- ③ \_\_\_\_\_ 大陸
- ④ \_\_\_\_\_ 大陸
- ⑤ \_\_\_\_\_ 大陸
- ⑥ \_\_\_\_\_ 大陸

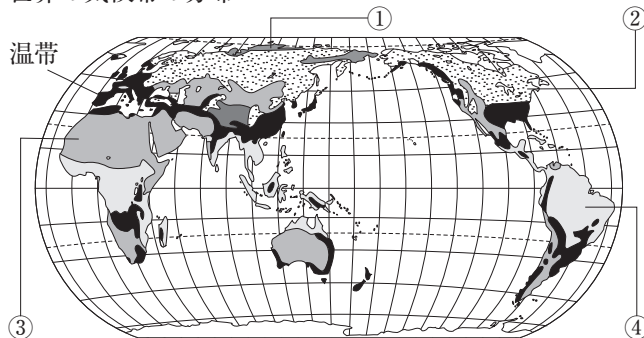
□(2) ①～⑨にあてはまる語句や数字を答えなさい。



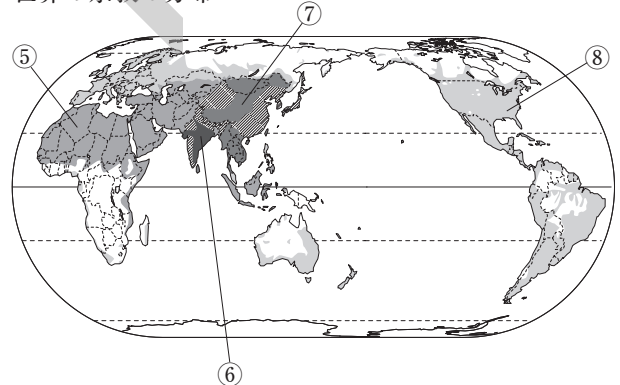
- ① \_\_\_\_\_ □④ \_\_\_\_\_ □⑦ \_\_\_\_\_
- ② \_\_\_\_\_ □⑤ \_\_\_\_\_ □⑧ \_\_\_\_\_
- ③ \_\_\_\_\_ □⑥ \_\_\_\_\_ □⑨ \_\_\_\_\_

□(3) ①～⑧にあてはまる気候帯名や宗教名を答えなさい。

世界の気候帯の分布



世界の宗教の分布



- ① \_\_\_\_\_ □⑤ \_\_\_\_\_
- ② \_\_\_\_\_ □⑥ \_\_\_\_\_
- ③ \_\_\_\_\_ □⑦ \_\_\_\_\_
- ④ \_\_\_\_\_ □⑧ \_\_\_\_\_

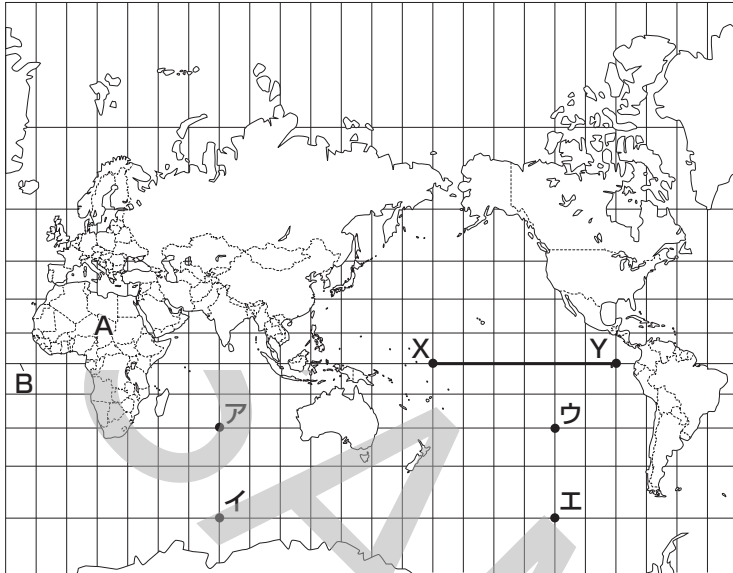
2 <重要語句の確認> 次の各問いに答えなさい。

- (1) 六大陸のうち、面積が最も小さい大陸であり、全体が1つの国と  
なっている大陸を何というか。 (1) \_\_\_\_\_
- (2) 世界を6つの州に分けると、カナダは何州にふくまれるか。 (2) \_\_\_\_\_
- (3) アジア州は、さらにいくつかの地域に分けることができる。日本は、  
そのうちの何とよばれる地域にふくまれるか。 (3) \_\_\_\_\_
- (4) モンゴルのように、すべての国境が陸上にあって、海に面していな  
い国を何というか。 (4) \_\_\_\_\_
- (5) 面積が世界で最も大きい国を何というか。 (5) \_\_\_\_\_
- (6) 「赤道」という意味の国名をもつ、南アメリカ州にある国を何とい  
うか。 (6) \_\_\_\_\_
- (7) 経度0度の経線を一般に何というか。 (7) \_\_\_\_\_
- (8) 日本を地球の反対側に移動させたとすると、その位置は、世界の  
大陸のうちのどの大陸に最も近い。 (8) \_\_\_\_\_
- (9) 大陸の形や位置関係、面積、方位、距離などをほぼ正確に表せる、  
地球を縮小した模型を何というか。 (9) \_\_\_\_\_
- (10) 日本の標準時子午線として定められている経線は、兵庫県明石市を  
通る東経何度の経線か。 (10) \_\_\_\_\_
- (11) 水産資源や鉱産資源を沿岸国が管理できる、領海の外側で、海岸線  
から200海里以内の水域を何というか。 (11) \_\_\_\_\_
- (12) およそ東経154度に位置している、日本の東端の島を何というか。  
とうたん (12) \_\_\_\_\_
- (13) 日本固有の領土であるが、現在、ロシア連邦が占拠している、択捉  
島などの島々を何というか。 (13) \_\_\_\_\_
- (14) 高緯度の地域で夏に見られる、太陽が深くしずまず夜でもうす明る  
い状態が続く現象を何というか。 (14) \_\_\_\_\_
- (15) シベリアで見られる、一年中凍った状態の土を何というか。  
こお (15) \_\_\_\_\_
- (16) 温帯の3つの気候のうち、日本のように年間を通じて降水量が多い  
気候を何というか。 (16) \_\_\_\_\_
- (17) 砂漠の中でも、わき水や井戸などで水が得られる場所を何というか。  
(17) \_\_\_\_\_
- (18) 熱帯の2つの気候のうち、雨季と乾季がはっきり分かれている気候  
を何というか。 (18) \_\_\_\_\_
- (19) 南アメリカ大陸の西部に連なる、標高が高い地域にも人々が暮らし  
ている山脈を何というか。 (19) \_\_\_\_\_
- (20) 西アジアや北アフリカなどで広く信仰されており、信者は酒を飲ま  
ない、豚肉を食べないなどのきまりがある宗教を何というか。 (20) \_\_\_\_\_

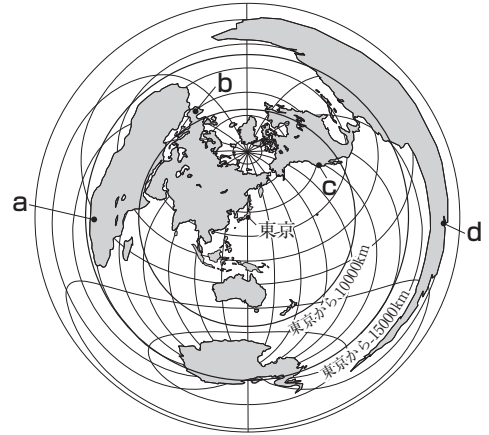
# 練成問題

1 次の地図1・地図2を見て、あとの問いに答えなさい。ただし、地図1は緯線と経線が直角に交わるようにえがかれており、緯線と経線がそれぞれ15度おきに引かれている。地図2は東京を中心にして、東京から世界各地への距離と方位が正しくえがかれている。

地図1



地図2



□(1) 地図1中にAで示した大陸について、次の問いに答えなさい。

- ① この大陸が面している2つの大洋のうち、面積が大きい方の大洋の名を答えなさい。
- ② この大陸の国境線の特徴について述べた次の文章中の( )にあてはまる内容を答えなさい。

この大陸には、直線的な国境線が多く見られる。これは、この地域が( )ときに定められた境界線が現在も国境線として多く残っているからである。

□(2) 地図1中のBは、緯度0度の緯線を示している。これについて、次の問いに答えなさい。

- ① この線が通る国として**不適当なもの**を次から1つ選び、記号で答えなさい。  
ア ブラジル    イ インドネシア    ウ エクアドル    エ メキシコ
- ② この線に沿って地球を1周したときの実際の距離は約40000kmである。この線上に示したX-Y間の実際の距離はどれくらいか。最も適当なものを次から1つ選び、記号で答えなさい。  
ア 約5000km    イ 約10000km    ウ 約15000km    エ 約20000km

□(3) 地球上の位置は、緯度と経度を使って示すことができる。南緯30度、西経120度の地点として最も適当なものを地図1中のア～エから1つ選び、記号で答えなさい。

(1) \_\_\_\_\_  
① \_\_\_\_\_

□(4) 地図2中のa～dの都市を、東京からの距離が近い順に左から並べるとどうなるか。最も適当なものを次から1つ選び、記号で答えなさい。

(2) \_\_\_\_\_  
② \_\_\_\_\_

- ア b→c→a→d    イ b→c→d→a
- ウ c→b→a→d    エ c→b→d→a

(2) \_\_\_\_\_  
① \_\_\_\_\_

□(5) 地図2中の東京から航空機で西に向かってまっすぐに進み、地球を1周して東京にもどるとき、3番目に上空を通過する大陸の名を答えなさい。

(3) \_\_\_\_\_  
(4) \_\_\_\_\_  
(5) \_\_\_\_\_

2 各文章を読んで、あとの問いに答えなさい。

1 日本は(あ)の東に位置し、兵庫県明石市などを通る東経135度の経線を標準時子午線としている。この線を基準にして、世界の各地域とのい時差を求めることができる。

2 日本は4つの大きな島と、う多くの小さな島々で成り立つ島国である。日本の領域は、これらの領土、(え)、領空からなる。

3 日本には47の都道府県があり、これらは、お7つの地方に区分されることがある。

□(1) (あ)にあてはまる、世界の六大陸の中で面積が最も大きい大陸の名を答えなさい。

□(2) 下線いについて、日本と、西経75度の経線を標準時子午線としている都市との時差として最も適当なものを次から1つ選び、記号で答えなさい。ただし、サマータイムは考えないものとする。

ア 10時間    イ 12時間    ウ 14時間    エ 16時間

□(3) 下線うについて、次の問いに答えなさい。

□① 日本の南端に位置する沖ノ島島で、政府によって護岸工事が行われた目的を説明しなさい。

□② 択捉島などがふくまれる北方領土とよばれる地域を、現在、占拠している国の名を答えなさい。

□(4) (え)にあてはまる最も適当な語句を答えなさい。 (1) \_\_\_\_\_

□(5) 下線おについて、九州地方に関して述べた文として**不適当なもの**を次から1つ選び、記号で答えなさい。 (2) \_\_\_\_\_  
(3) \_\_\_\_\_

ア この地方には8つの県がある。 ① \_\_\_\_\_

イ この地方にふくまれるすべての県が海に面している。 \_\_\_\_\_

ウ この地方には、県名に「崎」という文字をふくむ県が2県ある。 ② \_\_\_\_\_

エ この地方にふくまれる県の県名と県庁所在地名はすべて同じである。 (4) \_\_\_\_\_  
(5) \_\_\_\_\_

3 右の略地図を見て、次の問いに答えなさい。

□(1) 地図中にAで示した地域について、次の問いに答えなさい。

□① 世界の5つの気候帯のうち、この地域に分布する気候帯を何というか。答えなさい。

□② この地域で見られる針葉樹林を何というか。答えなさい。

□(2) 地図中にBで示した山脈の標高が高い地域で伝統的に飼育されている家畜の組み合わせとして最も適当なものを次から1つ選び、記号で答えなさい。

ア リャマとアルパカ    イ リャマと水牛    ウ アルパカとカリブー    エ カリブーと水牛

□(3) 地図中にCで示した地域には、温帯の3つの気候のうち、夏は乾燥し、冬は比較的雨が降り多い気候が分布している。この気候を何というか。答えなさい。

□(4) 地図中にDで示した国で信者が最も多い宗教の名を答えなさい。 (1) \_\_\_\_\_

□(5) 地図中にEで示した国で信者が最も多い宗教について述べた文として最も適当なものを次から1つ選び、記号で答えなさい。 ① \_\_\_\_\_  
② \_\_\_\_\_

ア 牛は神の使いとされていて、信者は牛肉をほとんど食べない。 (2) \_\_\_\_\_

イ 信者は聖地に向かって1日に5回いのる。 (3) \_\_\_\_\_

ウ クリスマスやイースターなどの年中行事がある。 (4) \_\_\_\_\_

エ 「聖書」が教典とされている。 (5) \_\_\_\_\_

