

1 人類の出現と進化

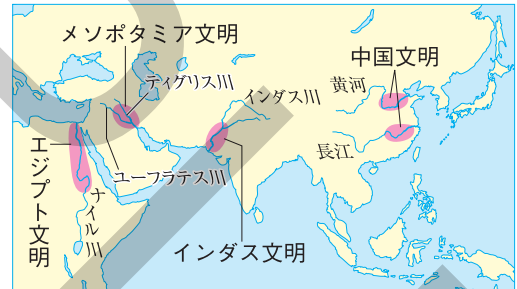
- (1) 人類の出現…最古の人類である猿人が約700万年前にアフリカに出現。直立歩行をし、手（前足）で道具を使う。
- (2) 旧石器時代
 - ① 約260万年前に氷河時代に入る。→火や言葉を使い、狩りや採集をして暮らす原人が現れ、石を打ちくだいた打製石器を使い始める（旧石器時代）。
 - ② 新人…現在の人類の直接の祖先。洞穴の壁に動物の絵を描く。
- (3) 日本の旧石器時代
 - ① 大陸と地続きだった日本列島にやってきた、ナウマンゾウやオオツノジカなどを追って新人も移動。野尻湖（長野県）では、3万年以上前の地層からナウマンゾウの化石が見つかる。
 - ② 1946年、岩宿遺跡（群馬県）から打製石器が発見される。金取遺跡（岩手県）では約9万年前の打製石器が、白保竿根田原洞穴遺跡（沖縄県）では2万年以上前のものとされる人骨が発見される。
- (4) 新石器時代…約1万年前、氷期が終わり、農耕や牧畜が始まる。土器がつくられ、表面をみがいた磨製石器が使われる（新石器時代）。

年代	できごと
約700万年前	最古の人類である猿人が現れる。
約260万年前	氷河時代に入る。氷期と間氷期をくり返す。
約240万年前	原人が現れる。
約20万年前	新人が現れる。
紀元前3500年ごろ	メソポタミア文明がおこる。
紀元前3100年ごろ	エジプト文明がおこる。
紀元前2300年ごろ	インダス文明がおこる。
紀元前1600年ごろ	中国に殷がおこる。
紀元前8世紀	ギリシャでポリスが成立。
紀元前6世紀ごろ	シャカが仏教を開く。
紀元前5世紀	アテネで民主政が始まる。
紀元前3世紀	秦の始皇帝が中国を統一する。
紀元前2世紀	漢が大帝国となる。
紀元前1世紀	ローマ帝国がおこる。
紀元前後	イエスがキリスト教を広める。
7世紀初め	ムハンマドがイスラム教を開く。

2 世界各地の古代文明

- (1) 文明のおこり…新石器時代に、大河の流域で農耕や牧畜が発達。食料を管理し、農耕や戦いを指揮する王が現れ、都市が形成される。青銅器がつくられ、文字が使われる。
- (2) 古代文明…オリエントでメソポタミア文明とエジプト文明が発達したほか、インダス文明、中国文明が発達。
- (3) メソポタミア文明
 - ① 紀元前3500年ごろ、ティグリス川・ユーフラテス川の流域に発生。
 - ② くさび形文字、太陰暦、60進法の発明。
 - ③ ハムラビ法典…バビロニアのハンムラビ王が制定。
- (4) エジプト文明
 - ① 紀元前3100年ごろ、ナイル川流域に発生。
 - ② ピラミッドの建設。太陽暦、象形文字（神聖文字）。
- (5) インダス文明
 - ① 紀元前2300年ごろ、インダス川流域に発生。
 - ② 上下水道や公衆浴場などをもつ都市…モヘンジョ＝ダロ遺跡。インダス文字。
- (6) 文字の進化と鉄器の普及…地中海東岸地域で、くさび形文字や象形文字をもとに、アルファベットの原型がつくられる。紀元前1000年ごろに、鉄器が普及し始める。

◆古代文明のおこり



▲エジプトとメソポタミアをふくむ地域は、オリエントと呼ばれた。

◆くさび形文字

◆象形文字



3 東アジアの文明

◆甲骨文字が刻まれた
亀の甲

(1) 古代中国

- ① 黄河と長江の流域では農耕が発達し、都市がつくられ、中国文明が発生。
- ② 殷（商）…紀元前1600年ごろ、黄河流域に発生。甲骨文字（漢字のもと）。
- ③ 紀元前1100年ごろ、周が殷をほろぼす。→紀元前8世紀ごろには、多くの国が争う春秋戦国時代になる。紀元前6世紀ごろに孔子が現れ、思いやりの心（仁）を重んじる教え（儒教）を説く。紀元前4世紀ごろには、鉄製の農具が広まる。



(2) 中国の統一

- ① 秦…紀元前3世紀に始皇帝が中国を統一。貨幣や文字などを統一する。北方の遊牧民の侵入を防ぐため、万里の長城を築く。
- ② 漢…秦のあとに中国を統一し、儒教を取り入れた政治を行い、大帝国となる。朝鮮半島に楽浪郡を置いて支配。周辺の国は、家臣の立場で漢と国交を結ぶ（朝貢）。紙の発明。絹織物がつくられ、シルクロード（絹の道）を通して、ローマなどへ送られる。

◆万里の長城



4 ギリシャ・ローマの政治と文明

- (1) ギリシャの都市国家…紀元前8世紀ごろ、多くの都市国家（ポリス）が成立。→紀元前5世紀に、アテネでは、成人男子による民会が開かれ、民主政が行われる。パルテノン神殿の建設。ソクラテスらによる哲学の誕生。神話や演劇の創作。

◆パルテノン神殿



▲アテネの中心部の丘（アクロポリス）の上に建てられた。

(2) ローマ帝国

- ① 紀元前5世紀ごろ、ローマでは、貴族を中心とする政治が行われる。→紀元前3世紀初めには、貴族と平民の政治上の権利が平等になり、共和政が完成。紀元前1世紀の終わりには、地中海を囲むほぼ全域を統一。→同じころ、帝政となる。
- ② ローマ帝国…法律を整備し、道路や水道をつくる。アルファベットをもとにつくったラテン文字（ローマ字）を広める。→安定した状態が約200年続く。

◆宗教のおこり



▲仏教、キリスト教、イスラム教は地域をこえて広く信仰されている。

5 宗教のおこり

- (1) 仏教…紀元前6世紀ごろにシャカが開く。
 - ① 悟りを開き、仏（ブツ）になれば、苦しみから救われると説く。
 - ② シルクロード経由で中国に伝わり、日本にも伝わる。
- (2) キリスト教…紀元前後に生まれたイエスが広める。
 - ① 神の前では人は平等で、神を信じる者は救われると説く。
 - ② 弟子がイエスの教えを『新約聖書』にまとめ、布教する。
 - ③ 初めローマ帝国から迫害を受けるが、4世紀末ごろには、ローマ帝国の国教となる。
- (3) イスラム教…6世紀に生まれたムハンマドが開く。
 - ① 唯一神アッラーの教えを伝える。聖典は『コーラン』。
 - ② アラビア半島から西アジアや中央アジア、北アフリカに広まる。

◆カーバ神殿（イスラム教）



要点の整理

学習日 月 日

1 年表 [] にあてはまる語句を答えなさい。

年代	できごと
約700万年前	最古の人類である□(1)[]が現れる。
約260万年前	地球は□(2)[]時代に入り、氷期と間氷期をくり返す。
約240万年前	石を打ちくいだいた□(3)[]石器を使う原人が現れる。
約20万年前	現在の人類の直接の祖先にあたる□(4)[]が現れる。
紀元前3500年ごろ	ティグリス川・ユーフラテス川流域に□(5)[]文明がおこる。
紀元前3100年ごろ	ナイル川流域に□(6)[]文明がおこる。
紀元前2300年ごろ	インダス川流域に□(7)[]文明がおこる。
紀元前1600年ごろ	中国の黄河流域に□(8)[]という国がおこる。
紀元前6世紀ごろ	インドに生まれた□(9)[]が仏教を開く。
紀元前5世紀	ギリシャのポリスの1つである□(10)[]で民主政が始まる。
紀元前3世紀	ローマで□(11)[]が完成する。 秦の□(12)[]が中国を統一する。
紀元前2世紀	中国の□(13)[]が大帝国をつくる。
紀元前1世紀	イタリア半島を中心に、□(14)[]がおこる。
紀元前後	□(15)[]がキリスト教を広める。
7世紀初め	□(16)[]がイスラム教を開く。

2 人類の出現と進化 [] にあてはまる語句を答えなさい。

ことごと	内容
人類の出現	人類の祖先 約700万年前に□(1)[]に現れる。 直立歩行をし、手（前足）で □(2)[]を使う。
	□(3) [] 打製石器を使って動物をとらえたり、肉を切った りした。火や□(4)[]を使う。
	新 人 現在の人類の直接の祖先にあたる。
□(5)[]時代	打製石器を使い、狩りや採集を行って生活する。
日本の(5)時代	大陸と地続きで、□(6)[]ゾウなどの大型動物がすむ。 □(7)[](長野県) …□(6)ゾウの化石が見つかる。 □(8)[](群馬県) …打製石器の発見。
□(9)[]時代	表面をみがいた□(10)[]石器や、粘土を焼いてつ くった□(11)[]を使う。 実のなる植物を栽培し、野生の小動物などを飼う。

3 世界各地の古代文明 [] にあてはまる語句を答えなさい。

文明	場所	発明など	遺跡など
□(1)[] 文明	ティグリス川・ユーフラテス川の流域	太陰暦と □(2)[]文字	ウルのジグurat
エジプト文明	□(3)[] 川流域	太陽暦と □(4)[]文字	□(5)[] とスフィンクス
□(6)[] 文明	(6)川流域	上下水道などをもつ都市と インダス文字	□(7)[] (パキスタン)の都市遺跡

4 東アジアの文明 [] にあてはまる語句を答えなさい。

国・時代	時期	ことがら
殷(商)	紀元前 1600年ごろ	・ □(1)[]流域におこる。 ・ 漢字のもととなった□(2)[]ができる。
春秋戦国時代	紀元前 8世紀ごろ	・ □(3)[]が儒教を説く。 ・ □(4)[]製の農具の使用で耕地が広がる。
□(5) []	紀元前 3世紀	・ 始皇帝が中国を統一。始皇帝の墓の近くに兵馬俑坑。 ・ 北方の遊牧民の侵入を防ぐために□(6)[]を築く。
□(7) []	紀元前 3世紀	・ 朝鮮半島やベトナム北部も支配。 ・ □(8)[]を通してローマ帝国とも交流。

5 ギリシャ・ローマの政治と文明 [] にあてはまる語句を答えなさい。

場所	特色
ギリシャ	都市国家(□(1)[])が発展。アテネでは、成人男子による民会が開かれ、□(2)[]が行われる。
ローマ	紀元前5世紀ごろ、貴族中心の政治。→紀元前3世紀初めに貴族と平民の政治上の権利が平等になり、□(3)[]が完成。 →紀元前1世紀に皇帝が政治を行う□(4)[]に移行。

6 宗教のおこり [] にあてはまる語句を答えなさい。

人物	宗教	場所	考え方
□(1) []	仏教	インド	悟りを開いて仏(ブッダ)になれば、だれでも苦しみから救われる。
イエス	□(2) []	パレスチナ 地方	□(3)[]の前ではみなが平等であり、(3)を信じる者は救われる。
ムハンマド	□(4) []	アラビア半島	唯一神アッラーを信仰し、そのお告げをまとめた聖典の□(5)[]に従う。

人類の出現と進化

- (1) 今から約700万年前にアフリカに現れた最古の人類を何というか。
- (2) 今から約240万年前に現れ、火や言葉を使うようになった人類を何というか。
- (3) 旧石器時代に、石を打ちくわいてつくられた石器を何というか。
- (4) 今から約20万年前に現れた、現在の人類の直接の祖先にあたる人類を何というか。
- (5) 日本で初めて(3)が発見され、日本に旧石器時代があったことがわかるきっかけとなった、群馬県の遺跡を何というか。
- (6) 気候が暖かくなって農耕や牧畜が始まり、表面をみがいた磨製石器が作られるようになった時代を何というか。

- (1) _____
- (2) _____
- (3) _____
- (4) _____
- (5) _____
- (6) _____

世界各地の古代文明

- (7) メソポタミア文明でつくられた、月の満ち欠けを基準にした暦を何というか。
- (8) エジプト文明でつくられた、太陽を基準にして1年を365日とする暦を何というか。
- (9) ヨーロッパから見て東に位置することから、「太陽の昇る土地」という意味をもつ、エジプトやメソポタミアをふくむ地域を何というか。
- (10) 殷では、戦争や農業についての占^{うらな}いが行われた。その占いの結果を、亀の甲や牛の骨に記すために使われた文字を何というか。
- (11) 春秋戦国時代の中国で孔子が説いた教えを何というか。

- (7) _____
- (8) _____
- (9) _____
- (10) _____
- (11) _____

東アジアの文明

- (12) 紀元前3世紀、始皇帝が中国を統一する帝国をつくりあげた。この国を何というか。
- (13) (12)の国がほろんだのちに中国を統一し、紀元前2世紀には、朝鮮半島に楽浪郡を置き、南方ではベトナム北部まで支配した国を何というか。
- (14) (13)の時代には西方への陸の交通路が整備され、中国から絹織物などが西方へもたらされた。この交通路を何というか。

- (12) _____
- (13) _____
- (14) _____

ギリシャ・ローマの政治と文明

- (15) 古代ギリシャにつくられた都市国家をカタカナで何というか。
- (16) 古代ギリシャにつくられた都市国家のうち、民会を中心とする民主政が行われ、パルテノン神殿がつくられた都市国家を何というか。
- (17) 紀元前1世紀にイタリア半島を中心として、地中海一帯を支配した帝国を何というか。

- (15) _____
- (16) _____
- (17) _____

宗教のおこり

- (18) 紀元前6世紀ごろにインドのシャカがおこした宗教は、やがて中国や日本にも伝えられた。この宗教を何というか。
- (19) 紀元前後に生まれたイエスの教えは、のちに『新約聖書』にまとめられた。この教えのことを何というか。
- (20) 7世紀にムハンマドが始めた宗教は、唯一神アッラーを信仰し、その教えは『コーラン』に記されている。この宗教を何というか。

- (18) _____
- (19) _____
- (20) _____

標準問題

学習日 月 日

1 右の略年表を見て、次の問いに答えなさい。

- (1) 下線㉔が現れた地域として最も適当なものを次から1つ選び、記号で答えなさい。
 []
- ア 東南アジア イ アフリカ
 ウ ヨーロッパ エ 北アメリカ

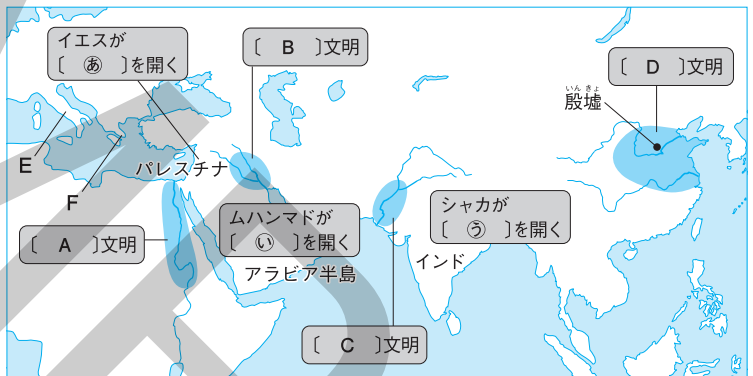
年代	できごと
約700万年前	㉔ 最古の人類である猿人が現れる。
約20万年前	㉕ 新人が現れる。
1万年前ごろ	㉖ 新石器時代が始まる。

- (2) 下線㉕は打製石器を使って生活していた。この時代を何と呼ぶか、答えなさい。
 []
- (3) 日本の(2)の時代について、ナウマンゾウのきばやオオツノジカの角などの化石が発掘された長野県の湖の名を答えなさい。
 []
- (4) 下線㉖に始まったのは、「狩りや採集」と「農耕や牧畜」のどちらか、答えなさい。
 []

2 右の地図を見て、次の問いに答えなさい。

- (1) 地図中の [A]～[D]にあてはまる文明の名を答えなさい。

- A []
 B []
 C []
 D []



- (2) [A]～[D]の文明に関する深いことから次から1つずつ選び、記号で答えなさい。
- ア くさび形文字
 イ 象形文字
 ウ モヘンジョ＝ダロなどの都市
 エ 甲骨文字
- A [] B []
 C [] D []
- (3) Eの半島を中心に、紀元前1世紀におこった帝国の名を答えなさい。
 []
- (4) Fなどで発展した、都市が1つの国家を形成している国を何と呼ぶか、カタカナで答えなさい。
 []
- (5) [㉔]～[㉕]にあてはまる宗教の名を答えなさい。
 ㉔ [] ㉕ []

3 記述トレーニング 次の問いに文で答えなさい。

- (1) 2の地図を見て、4つの文明に共通していることを、地形の面から説明しなさい。

- (2) 紀元前3世紀に中国を統一した秦の始皇帝が万里の長城を築いた目的は何か。説明しなさい。

- (3) アテネで行われた民会は、どのような人々が参加したか。説明しなさい。

2 縄文時代と弥生時代

1 縄文から弥生へ

(1) **日本列島の誕生**…約1万年前、氷期が終わり海水面が上がったため、日本列島は大陸から切りはなされる。

◆縄文土器

(2) **縄文時代**…約1万数千年前から紀元前4世紀ごろまで続いた時代を**縄文時代**という。

① 木の実の採集、イノシシやシカの狩り、魚や貝の漁が行われる。

◆土偶

② **縄文土器**…食料の保存や煮たきのために、表面に縄目の文様がついた土器が使われる。

③ **たて穴住居**…地面を掘って屋根をつけた住居に定住するようになる。

◆三内丸山遺跡のたて穴住居



④ **貝塚**…貝がらや石器、土器などを捨てたあと。縄文時代の生活をうかがい知ることができる。

◆弥生土器

⑤ **土偶**…まじないに使われたと考えられる土製の人形。

⑥ **三内丸山遺跡** (青森県) …縄文時代の代表的な遺跡。大きな建物のあとがある。

◆高床倉庫



(3) **弥生時代**…紀元前4世紀ごろから紀元3世紀ごろまで約700年間続いた時代を**弥生時代**という。

① **稲作**の始まり…中国や朝鮮半島から北九州にわたってきた人々により稲作が伝わり、西日本から東日本へと広まる。→**登呂遺跡** (静岡県) から大きな水田のあとが見つかる。

◆銅鐸

② **弥生土器**…縄文土器よりうすくてかたい土器が使われるようになる。明治時代に、現在の東京都文京区弥生から出土した。

③ 木製の鋏や鋤が使われ、**石包丁**などで稲の穂先をつみ取った。人々は**ムラ** (集落) をつくり水田のそばの台地に定住し、稲を**高床倉庫**に蓄えた。

④ 金属器の伝来…稲作とともに**青銅器**や**鉄器**も伝わる。銅鐸、銅剣、銅矛などの青銅器は豊作をいのる祭りの道具、鉄器は武器や工具として使用。

⑤ **荒神谷遺跡** (島根県) …弥生時代の遺跡。銅剣、銅矛、銅鐸といった青銅器が、一か所からまとめて出土している。

2 ムラがまとまってクニへ

(1) **クニ(国)の発生**…稲作がさかんになると、土地や水の利用をめぐるムラどうしの争いがおこるようになり、やがてまわりのムラをたばねる**クニ(国)**が現れる。

(2) **吉野ヶ里遺跡**(佐賀県)…弥生時代の代表的な遺跡。柵や濠に囲まれた集落あとや、見張りをするための物見やぐらのあとが見られることや、発掘された人骨に矢が刺さったあとが残っているものがあることから、ムラどうしが争ったようすを知ることができる。

(3) **中国の歴史書に見られる日本のようす**

① 紀元前1世紀ごろ、**倭**(日本)は100ほどのクニ(国)に分かれていて、中国の漢にたびたび貢ぎ物をもっていった(『漢書』)。

② 1世紀半ば、現在の福岡市あたりにあった**奴国**の王が漢に使いを送り、皇帝から**金印**を授けられた(『後漢書』)。この金印は、江戸時代に、現在の福岡市にある志賀島で発見されている。

③ 3世紀、**邪馬台国**の女王**卑弥呼**が、長く続いた争いをしずめ、まじないによって30ほどの諸国を従えた。諸国では、王から奴隷まで身分が分かれていた。卑弥呼は、中国の皇帝に倭の王の地位を認めてもらうため、中国にあった三国(魏・呉・蜀)のうちの魏に使者を送り、皇帝から倭王の称号と金印、銅鏡100枚を授けられた(『魏志』**倭人伝**)。邪馬台国は北九州にあったとする説と、畿内にあったとする説が有力。

(4) **日本列島の多様性**

① 弥生時代になって、本州で稲作が広まったころ、北海道などでは、動物の狩りや、鮭などの漁を行う。同じころ、沖縄を中心とする南西諸島ではサンゴ礁で漁が行われる。

② 北と南の地域は活発に交流し、日本各地で交易が行われていた。沖縄や奄美のサンゴ礁でとれるまき貝の腕輪が、北海道の遺跡から見つかっている。

◆吉野ヶ里遺跡(復元された集落)



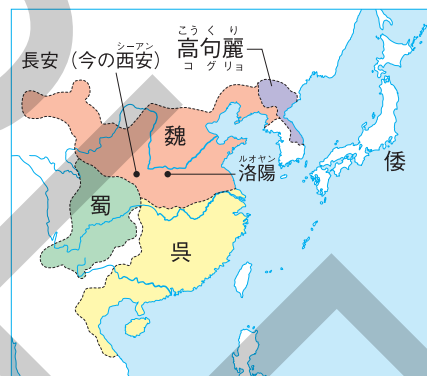
◆物見やぐら



◆「漢委奴国王」とほられた金印



◆3世紀の東アジア



●『漢書』地理志(部分要約)

(紀元前1世紀ごろ)朝鮮半島の楽浪郡の海の向こうに倭人が住んでいて、100以上の小さな国をつくっており、毎年のように貢ぎ物を持参するという。

●『後漢書』東夷伝(部分要約)

建武中元2(57)年に倭の奴国が朝貢したので、漢の皇帝は金印を与えた。…2世紀後半、倭国はおおいに乱れ、長い間統一されなかった。

●『魏志』倭人伝(部分要約)

邪馬台国にはもともと男性の王がいたが、倭国が乱れて争いが続くと、女性である卑弥呼を王とした。卑弥呼はまじないによって人々を従えた。

要点の整理

学習日 月 日

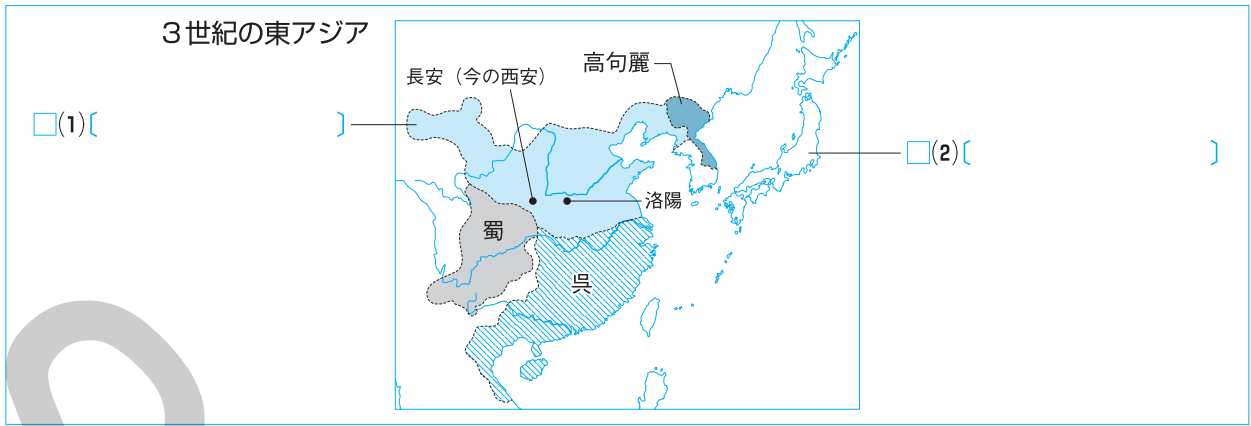
1 年表 [] にあてはまる語句を答えなさい。

年代	できごと
約1万年前	氷期が終わり、□(1)[]が大陸からはなれて現在の形になる。
紀元前4世紀ごろ	□(2)[]が大陸から日本に伝わる。金属器が日本に伝わる。
紀元前1世紀ごろ	日本は100ほどのクニ（国）に分かれる。
57年	□(3)[]の王が、□(4)[]に使いを送り、金印を授けられる。
239年	□(5)[]の卑弥呼が、□(6)[]に使いを送り、金印や銅鏡を授けられる。

2 縄文時代と弥生時代 [] にあてはまる語句を答えなさい。

時代	縄文時代 (約1万数千年前～紀元前4世紀ごろ)	弥生時代 (紀元前4世紀ごろ～紀元3世紀ごろ)
人々の暮らし	<ul style="list-style-type: none"> 木の実の採集、イノシシやシカの□(1)[]、魚や貝の漁を行う。 地面を掘って屋根をつけた□(2)[]に定住する。 	<ul style="list-style-type: none"> 大陸から□(3)[]が伝わり、各地に広まる。 土地や水の利用をめぐる□(4)[]（集落）どうしの争いがおこり、やがてまわりの(4)をたばねるクニ（国）が現れる。
土器と道具	<ul style="list-style-type: none"> 縄目の文様がついた□(5)[]（右の写真）が煮たきに使われる。 まじないに用いたと考えられる土製の人形である□(6)[]がつくられた。 	<ul style="list-style-type: none"> □(5)よりうすくてかたい□(7)[]（右の写真）が煮たきに使われる。 稲の穂先のつみ取りに□(8)[]が使われる。 祭りには□(9)[]器が、武器や工具には□(10)[]器が用いられる。
遺跡	<ul style="list-style-type: none"> □(11)[]遺跡…青森県にあり、大きな建物のあとがある。 □(12)[]…貝がらなどを捨てたあと。 	<ul style="list-style-type: none"> □(13)[]遺跡…佐賀県にあり、柵や濠に囲まれた集落や、見張り用の□(14)[]が見られる。 □(15)[]遺跡…鳥根県にあり、(9)器が一か所からまとめて出土。

3 中国と日本の交流 [] にあてはまる語句を答えなさい。



中国の歴史書	内 容
『漢書』	・紀元前[](3)[]世紀ごろ、倭（日本）は100ほどの国に分かれていて、漢に貢ぎ物をたびたびもっていった。
『後漢書』	・1世紀半ば、現在の福岡市のあたりにあった[](4)[]の王が漢に使いを送り、皇帝から[](5)[]（右の写真）を授けられた。
『魏志』倭人伝	・[](6)[]世紀、邪馬台国の女王[](7)[]が魏に使いを送り、皇帝から倭王の称号と金印や[](8)[]などを授けられた。

4 重要資料 [] にあてはまる語句を答えなさい。

資 料	[](1) []		[](2) []		[](3) []		物見やぐら
内 容	・地面に穴を掘り、屋根をかけてつくった住居。人々は定住するようになる。		・ <small>しょうかく</small> 収穫した稲を蓄えた倉庫。		・豊作をいのる祭りの道具として使われた青銅器の一つ。		・集落の[](4)[]をするための施設。

縄文から弥生へ

- (1) 約1万数千年前から日本でつくられ始めた、縄目の文様がついた土器を何というか。
- (2) (1)が使われ、人々が狩りや採集をして暮らしていた時代を何というか。
- (3) 人々が住んだ、地面に穴を掘ってつくった住居を何というか。
- (4) (2)の時代、貝がらや石器などを捨てたあとを何というか。
- (5) (2)の時代、まじないのためにつくられたと考えられる、土製の人形を何というか。
- (6) 青森県にある、(2)の時代を代表する大規模な遺跡を何というか。
- (7) 日本に伝わった稲作が、全国へ広がっていった時代を何というか。
- (8) 静岡県にある、大きな水田のあとが見つかった(7)の時代の遺跡を何というか。
- (9) (7)の時代につくられ始めた、うすくてかたい土器を何というか。
- (10) 稲の穂先をつみ取るために使われた、石の道具を何というか。
- (11) 収穫した稲を保存した倉庫を何というか。
- (12) 稲作とともに日本に伝わった金属器は、青銅器とあと1つ何か。
- (13) 佐賀県にある、(7)の時代を代表する遺跡を何というか。
- (14) 力の強いムラが、まわりのムラを従えて形成していったまとまりを何というか。
- (15) 中国の歴史書によれば、日本は何と呼ばれていたか。漢字1字で答えなさい。
- (16) 1世紀半ば、現在の福岡県にあったとされる国の王が、漢に使いを送った。この国の名を何というか。
- (17) (16)の王が皇帝から授けられたものは何か。
- (18) 3世紀に30ほどの諸国を従えていたとされ、北九州にあったという説と畿内にあったという説がある国を何というか。
- (19) (18)を治め、中国に使いを送って金印や銅鏡を授けられたという女王はだれか。
- (20) (19)が使いを送った中国の国の名を何というか。

- (1) _____
- (2) _____
- (3) _____
- (4) _____
- (5) _____
- (6) _____
- (7) _____
- (8) _____
- (9) _____
- (10) _____
- (11) _____
- (12) _____
- (13) _____
- (14) _____
- (15) _____
- (16) _____
- (17) _____
- (18) _____
- (19) _____
- (20) _____

ムラがまとまってクニへ

1 縄文時代の日本について、次の問いに答えなさい。

- (1) 縄文時代に使われた右の資料Aのようなものを何というか、答えなさい。

[]

資料A

- (2) 縄文時代に、まじないのために使われたと考えられている右の資料Bのようなものを何というか、答えなさい。

[]

資料B

- (3) 縄文時代の人々の生活のようすの説明として不適當なものを次から1つ選び、記号で答えなさい。

ア 人々は、狩りや漁、採集をして食料を得ていた。

イ 人々は、食料を煮たきして食べることがあった。

ウ 人々は、たて穴住居に定住するようになった。

エ 人々は、食料を高床倉庫にたくわえた。

[]

2 右の略年表を見て、次の問いに答えなさい。

- (1) 下線①について、弥生時代の遺跡として不適當なものを次から1つ選び、記号で答えなさい。

ア 荒神谷遺跡

イ 三内丸山遺跡

ウ 吉野ヶ里遺跡

エ 登呂遺跡

[]

年代	できごと
紀元前4世紀ごろ	①弥生時代が始まる。 このころ、稲作や②金属器が伝わる。
57年	倭の小国の国王が中国の皇帝から③金印を授かる。
239年	邪馬台国の女王である(㉔)が魏に使いを送る。……④

- (2) 下線②のうち、祭りの宝物として用いられた金属器を何というか、答えなさい。

[]

資料C

- (3) 右の資料Cは、下線③の金印と考えられているものである。これを授かった小国の名と、授けた中国の国名を答えなさい。

小国[] 中国の国[]

- (4) (㉔)にあてはまる人物の名を答えなさい。

[]

- (5) ④について記されている中国の歴史書を何というか、答えなさい。

[]

3 記述トレーニング 次の問いに文で答えなさい。

- (1) 約1万年前に大陸と陸続きだった日本が、大陸と切りはなされて日本列島の姿になった理由を説明しなさい。

- (2) 貝塚を調べれば縄文時代の人々の生活がわかるのはなぜか、説明しなさい。

- (3) 紀元前4世紀ごろ大陸から稲作が伝わったことで、社会はどのように変化したか、「ムラ」「クニ」の語句を用いて説明しなさい。

- (4) 邪馬台国の卑弥呼が中国に使いを送った理由を説明しなさい。