

1 人類の出現と進化

(1) 人類の出現

- ① 最古の人類である猿人…約700万年前にアフリカに出現。後ろあし(足)で立ち、前あし(手)で道具を使う。
- ② 旧石器時代…打製石器を使い、狩りや採集を行って移動しながら生活していた時代。
- ③ 原人…石を打ち欠いた打製石器の使用。火を使い、狩りを行うようになる。
- ④ 新人(ホモ・サピエンス)…現在の人類にあたる。知能が発達。

(2) 新石器時代

- ① 食物の煮たきや貯蔵のための土器がつけられ、表面をみがいた磨製石器が使われる。
- ② 新石器時代…土器や磨製石器を使い、農耕や牧畜を始めた時代。

年代	できごと
約700万年前	最古の人類である猿人が現れる。
約260万年前	氷河時代に入る。氷期と間氷期をくり返す。
約240万年前	原人が現れる。
約20万年前	新人(ホモ・サピエンス)が現れる。
紀元前3000年ごろ	メソポタミア文明がおこる。 エジプト文明がおこる。
紀元前2500年ごろ	インダス文明がおこる。
紀元前16世紀ごろ	中国に殷がおこる。
紀元前8世紀ごろ	ギリシャでポリスが成立する。
紀元前6世紀	アテネで民主政が始まる。
紀元前5世紀ごろ	シャカ(釈迦)が仏教を開く。
紀元前4世紀	アレクサンドロス大王がペルシャを征服する。
紀元前3世紀	秦の始皇帝が中国を統一する。
紀元前2世紀	漢が大帝国となる。
紀元前30年ごろ	ローマ帝国がおこる。
紀元前後	イエスがキリスト教となる教えを広める。
395年	ローマ帝国が東西に分裂する。
7世紀初め	ムハンマドがイスラーム(イスラム教)を開く。

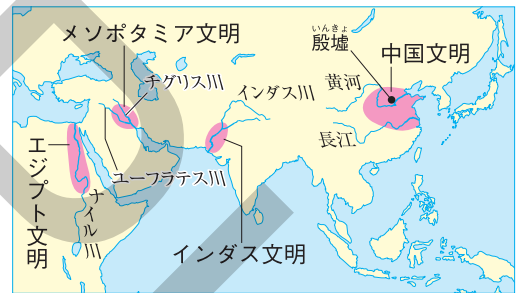
2 古代文明のおこりと発展

(1) 文明のおこり

- ① 国の誕生…農耕や牧畜が発達する。→食料をめぐる争いが増える。→強い集団が弱い集団を従えて国が誕生する。
- ② 身分の発生…支配する者(多くの富を持つ者)と支配される者(貧しい者)。
- ③ 青銅器や鉄器…戦争や祭りに用いる。文字も発明される。

(2) 古代文明…新石器時代から文明の時代に。メソポタミア文明、エジプト文明、インダス文明、中国文明が発達。

◆古代文明のおこり



(3) メソポタミア文明

- ① 紀元前3000年ごろ、チグリス川とユーフラテス川流域に発生。
- ② くさび形文字、太陰暦の発明。60進法。1週間を7日とする。
- ③ ハムラビ法典…ハンムラビ王が法律を整備。

(4) エジプト文明

- ① ナイル川流域で農耕が発達し、紀元前3000年ごろ発生。
- ② ピラミッド(国王の墓)や、スフィンクスの建設。
- ③ 天文学の発達。太陽暦、象形文字の発明。

(5) インダス文明

- ① 紀元前2500年ごろ、インダス川流域に発生。
- ② 排水施設などを持つ都市…モヘンジョ・ダロの都市遺跡。インダス文字。
- ③ 身分制度…紀元前1500年ごろアーリヤ人が先住民族を征服。身分制度(後のカースト制度)をつくる。

◆象形文字



◆くさび形文字



3 中国文明の発展

◆甲骨文字

(1) 古代中国

- ① **殷**…紀元前16世紀ごろ、**黄河**流域に発生。青銅器、**甲骨文字**（漢字のもと）。
- ② 紀元前11世紀、周が殷をほろぼす。→紀元前8～紀元前3世紀は、多くの国が争う戦乱の時代（春秋・戦国時代）。→鉄製の兵器や農具が広まる。
- ③ **孔子**…紀元前6世紀ごろ、仁と礼で国を治めるという**儒学**（**儒教**）を説く。



(2) 統一帝国の成立

- ① **秦**…紀元前3世紀に**始皇帝**が中国を統一。北方の遊牧民の侵入を防ぐため、**万里の長城**を築く。始皇帝の墓に**兵馬俑**が残る。
- ② **漢**…紀元前2世紀、朝鮮半島に楽浪郡を設け、中央アジアも支配する。**シルクロード**（絹の道）で西アジアやヨーロッパとも交流。

◆万里の長城



4 ギリシャ・ローマの文明

(1) ギリシャの都市国家とヘレニズム

- ① 紀元前8世紀ごろから、地中海沿岸に、**アテネ**や**スパルタ**などの都市国家（**ポリス**）が成立。→アテネで**民主政**が行われる。成年男子の市民全員が広場で**民会**（集会）を開く。パルテノン神殿の建設。
- ② ギリシャ文明…紀元前5世紀ごろ、**ギリシャ文明**（演劇などの芸術、哲学・医学などの学問）が全盛期をむかえる。
- ③ ヘレニズム…紀元前4世紀、ギリシャを征服したマケドニアの**アレクサンドロス大王**がペルシャを征服する。→ギリシャの文明が東方にまで広がる（**ヘレニズム**）。

◆パルテノン神殿

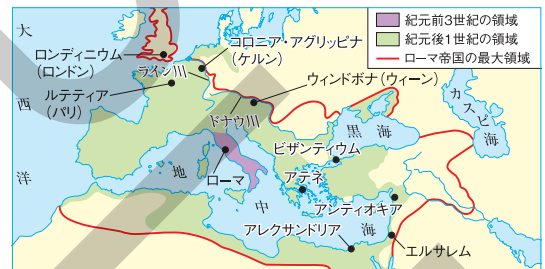


▲小高い自然の丘の上に築かれている。

(2) ローマ帝国

- ① 紀元前6世紀、都市国家**ローマ**が、貴族を中心とする**共和政**となる。→紀元前30年、地中海周辺地域を統一。同じころ、**帝政**となる。
- ② **ローマ帝国**…首都はローマ。ローマと各地の都市を結ぶ道路網を整備。水道や浴場、闘技場（コロッセオ）などを建設。法律を整備。→395年に東西に分裂。

◆古代ローマの支配領域の拡大



◆宗教のおこり

- (1) **仏教**…紀元前5世紀ごろに生まれた**シャカ**（**釈迦**）が開く。
 - ① 修行を積み、さとりを開けば心の安らぎを得られると説く。
 - ② 東南アジアや中国、日本に伝わる。
- (2) **キリスト教**…紀元前後に生まれた**イエス**の教えがもととなる。
 - ① だれでも神の愛を受けられると説く。
 - ② イエスの教えは「聖書（新約聖書）」にまとめられた。
- (3) **イスラーム**（**イスラム教**）…6世紀に生まれた**ムハンマド**が始める。
 - ① 唯一の神アッラーを信仰。聖典は「**クルアーン**（**コーラン**）」。
 - ② アラビア半島から西アジアや北アフリカ、東南アジアに広まる。



▲**仏教**、**キリスト教**、**イスラーム**は「**三大宗教**」と呼ばれる。

要点の整理

学習日 月 日

1 年表 [] にあてはまる語句を答えなさい。

年代	できごと
約700万年前	現在知られている最古の人類である□(1)[]が現れる。
約260万年前	地球は□(2)[]時代に入り、氷期と間氷期をくり返す。
約240万年前	石を打ち欠いた□(3)[]石器を使う原人が現れる。
約20万年前	現在の人類の直接の祖先にあたる□(4)[]が現れる。
紀元前3000年ごろ	チグリス川とユーフラテス川流域に□(5)[]文明がおこる。 ナイル川流域に□(6)[]文明がおこる。
紀元前2500年ごろ	インダス川流域に□(7)[]文明がおこる。
紀元前16世紀ごろ	殷がおこり、祭りなどに使う優れた□(8)[]などが使われるようになる。
紀元前6世紀	ギリシャのポリスの一つであるアテネで□(9)[]が始まる。 ローマで王政にかわって□(10)[]が始まる。
紀元前5世紀ごろ	インドに生まれた□(11)[]が仏教を開く。
紀元前4世紀	□(12)[]大王がペルシャを征服する。
紀元前3世紀	秦の□(13)[]が中国を統一する。
紀元前2世紀	秦にかわって成立した□(14)[]が大帝国となる。
紀元前30年ごろ	イタリア半島など地中海周辺地域を、□(15)[]が統一する。
紀元前後	□(16)[]がキリスト教のもととなる教えを広める。
7世紀初め	□(17)[]がイスラーム（イスラム教）を開く。

2 人類の出現と進化 [] にあてはまる語句を答えなさい。

ことば	内容
人類の出現	最古の人類 約700万年前に□(1)[]に現れる。後ろあし(足)で立ち、前あし(手)で道具を使う。
	□(2)[] 打製石器を使って狩りを行う。□(3)[]を使い、アジアなどにも広がる。
	新人 現在の人類の直接の祖先にあたり、世界中に広がった。
□(4)[]時代	打製石器を使い、狩りや採集を行って、移動しながら生活する。
□(5)[]時代	石をみがいた□(6)[]石器や、食物の煮たきなどに使われた□(7)[]をつくる。植物を栽培し、牛や羊などを飼う。

3 古代文明のおこりと発展 [] にあてはまる語句を答えなさい。

文明	場所	発明など	遺跡など
□(1)[] 文明	チグリス川とユーフラ テス川の流域	□(2)[]暦と くさび形文字	ウルのジグurat
エジプト文明	□(3)[] 川流域	太陽暦と □(4)[]文字	□(5)[] とスフィンクス
□(6)[] 文明	インダス川流域	排水施設などを持つ都市	□(7)[] (パキスタン)の都市遺跡

4 中国文明の発展 [] にあてはまる語句を答えなさい。

国・時代	成立時期	ことから
□(1) []	紀元前 16世紀ごろ	・黄河流域におこる。 ・優れた青銅器や漢字のもととなった□(2)[]ができる。
春秋・戦国時代	紀元前 8世紀ごろ	・鉄製の兵器や農具が広まる。 ・□(3)[]が儒学(儒教)を説く。
□(4) []	紀元前 3世紀	・始皇帝が中国を統一。兵馬俑坑と兵馬俑(始皇帝の墓)。 ・北方の遊牧民の侵入を防ぐために□(5)[]を築く。
□(6) []	紀元前 3世紀	・中央アジアや朝鮮半島も支配。 ・□(7)[]を通過して西アジアやヨーロッパと交流。

5 ギリシャ・ローマの文明 [] にあてはまる語句を答えなさい。

ことから	特色
ギリシャ文明	都市国家(□(1)[])が発展。パルテノン神殿を中心とするアテネでは、市民による□(2)[]が開かれる。
□(3)[]	□(4)[]の遠征により、ギリシャの文化が東方にまで広がる。
□(5)[]	紀元前1000年ごろ都市国家として成立→紀元前6世紀ごろ、貴族を中心とする□(6)[]となる→紀元前27年に皇帝が支配する□(7)[]となる。コロッセオ(闘技場)などの建設。

6 宗教のおこりと三大宗教 [] にあてはまる語句を答えなさい。

人物	宗教	場所	考え方
□(1) []	仏教	インド	人の一生は苦しみが多いが、修行を積みれば心の安らぎを得られる。
イエス	□(2) []	パレスチナ 地方	人は罪を負っていても、だれでも□(3)[]の愛を受けられる。
ムハンマド	□(4) []	アラビア半島	唯一の神アッラーを信仰し、聖典の□(5)[]に従う。

人類の出現と進化

- (1) 今から700万年ほど前にアフリカに現れた最古の人類を何というか。
- (2) 旧石器時代に、石を打ち欠いてつくられた、するどい刃を持つ石器を何というか。
- (3) 今から20万年ほど前に現れた、現在の人類の直接の祖先にあたる人類を何というか。
- (4) 農耕や牧畜が行われ、表面をみがいた磨製石器がつくられるようになった時代を何というか。
- (5) メソポタミア文明で発明された文字を何というか。

- (1) _____
- (2) _____
- (3) _____
- (4) _____
- (5) _____

古代文明のおこりと発展

- (6) エジプト文明でつくられた、太陽を基準にして1年を365日とし、12か月に分ける暦を何というか。
- (7) 紀元前2500年ごろ、インダス川の流域では、排水施設などを持つ都市を中心にした文明が生まれた。この文明を何というか。
- (8) 殷では、亀の甲や牛の骨を火であぶり、うらないが行われた。そのうらないの結果を記すために使われた文字を何というか。
- (9) 春秋・戦国時代の中国で孔子が説いた教えを何というか。

- (6) _____
- (7) _____
- (8) _____
- (9) _____

中国文明の発展

- (10) 紀元前221年、中国を統一する帝国が作りあげられた。この国を何というか。
- (11) (10)をつくった皇帝はだれか。
- (12) (10)の国がほろんだ後に中国を統一し、紀元前2世紀には、朝鮮半島に楽浪郡を設けて、中央アジアまで支配した国を何というか。
- (13) (12)の時代には西方への交通路が開かれ、中国から絹織物などが西方へもたらされた。この交通路を何というか。

- (10) _____
- (11) _____
- (12) _____
- (13) _____

ギリシャ・ローマの文明

- (14) 古代ギリシャにつくられた、スパルタのような都市国家をカタカナで何というか。
- (15) 古代ギリシャにつくられた都市国家のうち、民会を中心とする民主政が行われ、パルテノン神殿がつくられた都市国家を何というか。
- (16) 紀元前4世紀に東方へ遠征したことにより、西アジアや北アフリカまで勢力を広げたマケドニア王国の王はだれか。
- (17) 紀元前27年にイタリア半島を中心として、地中海一帯を支配して成立した帝国を何というか。

- (14) _____
- (15) _____
- (16) _____
- (17) _____

宗教のおこり

- (18) 紀元前5世紀ごろにインドのシャカ（釈迦）がおこした宗教は、やがて中国や日本にも伝えられた。この宗教を何というか。
- (19) 紀元前後に生まれたイエスの教えは、後に「聖書（新約聖書）」にまとめられた。この教えのことを何というか。
- (20) 7世紀にムハンマドが始めた宗教は、唯一の神アッラーを信仰し、その教えは「クルアーン」に記されている。この宗教を何というか。

- (18) _____
- (19) _____
- (20) _____

1 右の略年表を見て、次の問いに答えなさい。

- (1) 下線㉔の骨が見つかった地域として最も適当なものを次から1つ選び、記号で答えなさい。 []
- ア 東南アジア イ アフリカ
ウ ヨーロッパ エ 北アメリカ

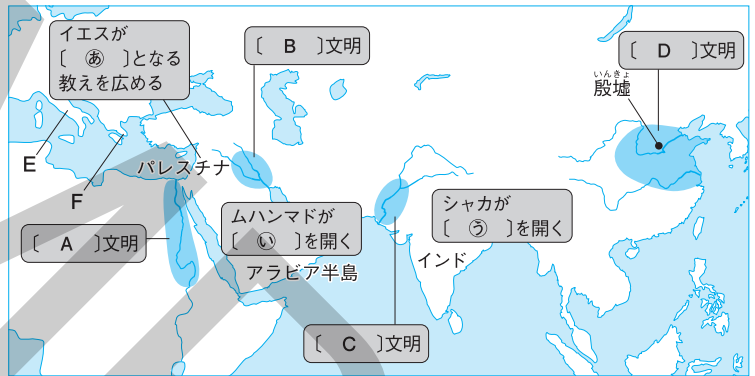
年代	できごと
約700万年前	㉔ 最古の人類である猿人が現れる。
約20万年前	㉕ 新人（ホモ・サピエンス）が現れる。
1万年前ごろ	㉖ 新石器時代が始まる。

- (2) 下線㉕は打製石器を使って生活していた。この時代を何と呼ぶか、答えなさい。 []
- (3) 下線㉖に始まったのは、「狩りや採集」と「農耕や牧畜」のどちらか、答えなさい。 []

2 右の略地図を見て、次の問いに答えなさい。

- (1) 地図中の [A]～[D]にあてはまる文明の名を答えなさい。

- A []
B []
C []
D []



- (2) [A]～[C]の文明に関する深いことから次から1つずつ選び、記号で答えなさい。
- ア くさび形文字
イ 象形文字
ウ 排水施設を持つ都市
- A [] B [] C []
- (3) Eの半島を中心に、紀元前30年ごろにおこった国の名を答えなさい。 []
- (4) Fなどで発展した、都市が一つの国家を形成している国を何と呼ぶか、カタカナで答えなさい。 []
- (5) [㉔]～[㉖]にあてはまる宗教の名を答えなさい。
㉔ [] ㉕ [] ㉖ []

3 記述トレーニング 次の問いに文で答えなさい。

- (1) 新石器時代には土器がつくられるようになった。土器が発明されたことで、どのようなことができるようになったか、説明しなさい。
-
- (2) 2の地図を見て、4つの文明に共通していることを、地形の面から説明しなさい。
-
- (3) 中国で紀元前221年に建国された秦の始皇帝が万里の長城を築いた目的は何か、説明しなさい。
-
- (4) アテネで行われた民会(集会)は、どのような人々が参加してどのように行われたか、説明しなさい。
-

2 古代国家の成立

1 旧石器時代

(1) 日本の旧石器時代

- ① **氷河時代**…大陸と陸続きになっていた時代に、日本にもマンモス・ナウマンゾウ・オオツノジカなどの大形の動物が住んでいた。
- ② 大形動物を追って日本列島に移り住んできた人々は**打製石器**を使用していた。
- ③ 打製石器を付けたやりで狩りをし、獲物を追って移動。簡単なテントや岩陰などに住んで、火を使って暮らす。

- ④ 遺跡…**野尻湖**(長野県)→数万年前の地層からナウマンゾウやオオツノジカの化石。**岩宿遺跡**(群馬県)→黒曜石でつくられた打製石器。

- (2) 約1万年前に最後の氷期が終わると、海面が上昇し、大陸からはなれ日本列島ができる。

◆岩宿遺跡から発見された打製石器



◆2万年前の日本列島




2 縄文時代

- (1) **縄文土器**…1万数千年前から**縄文土器**がつくられ始める。厚手で、黒褐色をしている。表面に縄目のような文様が付けられていることが多い。

◆縄文土器



◆土偶



- (2) **縄文時代**…縄文土器が用いられていたころの文化を**縄文文化**といい、この時代を**縄文時代**という。

- ① 食料が豊富で、狩りや採集によって食料を得ることが多かったため、農耕や牧畜はあまり発達しなかった。
- ② **貝塚**…海岸や水辺にできた、食べ物の残りがすなどを捨てたあと。
- ③ **たて穴住居**…地面をほり下げて柱を立て、その上に屋根をかけた住居。人々は集団で定住するようになった。
- ④ 抜歯や、死者の霊による災いを防ぐために行われたといわれる**屈葬**などの文化。
- ⑤ **土偶**…土製の人形。魔よけや食物の豊かさをいよるときに使われたと考えられている。

◆三内丸山遺跡のたて穴住居



- ⑥ 遺跡…**三内丸山遺跡**(青森県)、**大森貝塚**(東京都)など。

3 弥生時代

(1) 稲作の伝来…紀元前8世紀ごろ、稲作が朝鮮半島から九州北部に伝わる。やがて、東北地方にまで広がった。

- ① 人々は水田近くにむらをつくり、たて穴住居に住む。
- ② 高床倉庫…ねずみや湿気を防ぐためにつくられ、収穫した稲をたくわえる。


(2) 青銅器・鉄器の伝来…稲作とともに大陸から伝わる。

- ① 青銅器…豊作を神にいのるなど、祭りのための宝物(銅鏡、銅鐸、銅剣、銅矛など)。
 - ② 鉄器…武器や工具・農具として用いられる。
- (3) 弥生土器…高温で焼かれた、赤褐色の、薄手でかための弥生土器がつくられた。


(4) 弥生時代…稲作や、青銅器・鉄器などの金属器が伝来し、弥生土器がつくられたころの文化を弥生文化といい、この時代を弥生時代という。(弥生時代の始まりを紀元前10世紀ごろとする説もある。)

(5) 遺跡…吉野ヶ里遺跡(佐賀県)、登呂遺跡(静岡県)など。

◆弥生土器



◆銅鐸



4 国々の誕生と邪馬台国

(1) 国々の誕生

- ① 稲作が盛んになると貧富の差ができ、社会のしくみが変わる。支配者の誕生。
- ② 小さな国々ができ、人々を支配する有力者や王が出現。

③ 『漢書』…紀元前1世紀ごろ、倭(日本)には100余りの国があり、楽浪郡を通じて漢に使いを送る国もあった。

④ 『後漢書』…1世紀の半ばに倭の奴国の王が、漢に使いを送り、皇帝から金印を受けられる。

(2) 邪馬台国


① 中国…3世紀に漢がほろび、魏・蜀・呉の三国が争う(三国時代)。

② 邪馬台国の女王卑弥呼…倭の30ほどの国を従える。中国の魏に朝貢し、皇帝から「親魏倭王」の称号と金印を受けられた記述がある(『三国志』魏書 魏志倭人伝)。

③ 朝貢…中国に貢ぎ物をおくり、自分がその国の王であることを認めてもらう。

● 邪馬台国のあった場所は、近畿(奈良盆地)説と九州説とに分かれている。近畿にあったとする説→後の大和政権につながる勢力と考えられるのでは、とされている。

◆「漢委奴国王」と刻まれた金印



▲江戸時代に、志賀島(福岡県)で発見された。

●『漢書』地理志(部分要約)

(紀元前1世紀ごろ)楽浪郡の海のかなたに倭人がいて、100以上の国をつくっており、なかには定期的に漢に朝貢する国もある。

●『後漢書』東夷伝(部分要約)

建武中元2(57)年に倭の奴国が漢に朝貢したので、光武帝は印綬(印とそれを結びとめるひも)をおくった。…桓帝と靈帝のころ(2世紀)、倭はおおいに乱れ、長い間代表者が定まらなかった。

●魏志倭人伝(部分要約)

倭にはもともと男の王がいたが、その後国内が乱れたので一人の女子を王とした。名を卑弥呼といい、成人しているが夫はおらず、一人の弟が国政を補佐している。…卑弥呼が死んだとき、直径が100歩余りもある大きな墓をつくった。




要点の整理

学習日 月 日





1 年表 [] にあてはまる語句を答えなさい。

年代	できごと
約1万年前	□(1)[]が大陸からはなれる。 このころ□(2)[]時代が始まる。
紀元前8世紀ごろ	□(3)[]時代が始まる。(始まりを紀元前10世紀とする説もある。) このころ、稲作とともに□(4)[]と鉄器が伝わる。
紀元前1世紀ごろ	朝鮮半島北部に□(5)[]がおこる。
57年	倭の□(6)[]国の王が漢の皇帝から金印を授かる。
3世紀	中国で魏・蜀・呉が争う□(7)[]時代が始まる。
239年	□(8)[]の女王卑弥呼が中国の□(9)[]に使いを送る。


2 旧石器時代と縄文時代 [] にあてはまる語句を答えなさい。

時代	旧石器時代	縄文時代
人々の生活	<ul style="list-style-type: none"> ・日本列島は大陸と陸続き。 ・大陸と同じように、マンモス・□(1)[]、オオツノジカなどが住んでいた。 ・簡単な草ぶきの小屋や岩陰に住み、獲物を求めて移動し、火を使って暮らした。 ・約1万年前、氷河時代の最後の□(2)[]が終わると海面が上昇し、日本列島ができる。 	<ul style="list-style-type: none"> ・縄目のような文様の付いた□(4)[](右の写真)で煮たきする。 ・食べ物の残りかすなどを捨てた□(5)[]ができる。 ・大人になったことを示す抜歯や死者の霊の災いを防ぐ屈葬が行われた。 ・魔よけや食物の豊かさをいのるために、土製の人形の□(6)[]がつくられた。 
遺跡	<ul style="list-style-type: none"> ・岩宿遺跡（群馬県）から発見された□(3)[](下の写真) ・野尻湖（長野県）…(1)のきばや(3)を発見。 	<ul style="list-style-type: none"> ・三内丸山遺跡（青森県）…巨大な柱を立てた建物や、地面をほり下げて柱を立て、その上に屋根をかけた□(7)[](上の写真)。 

3 弥生時代 [] にあてはまる語句を答えなさい。

ことごと	内 容	
人々の暮らし	<ul style="list-style-type: none"> ・人々は水田の近くに集まって住み、 □(1)[]をつくるようになる。 ・住居は縄文時代と同じ□(2)[]。 ・吉野ヶ里遺跡(佐賀県)の物見やぐら(右の写真)。…見張りのため。 	
農 業	<ul style="list-style-type: none"> ・紀元前8世紀ごろ、大陸から□(3)[]北部に□(4)[]が伝わる。 ・(4)はやがて東北地方にまで広がる。 ・木製の農具で田を耕す。 ・ねずみや湿気を防ぐため□(5)[]をつくり、収穫した米をたくわえる。(右の写真) 	
土器と遺跡	<ul style="list-style-type: none"> ・赤褐色をした、薄手でかための□(6)[]がつくられた。(右の写真) ・代表的な弥生時代の遺跡…登呂遺跡(静岡県)と吉野ヶ里遺跡(佐賀県)。 	
道 具	<ul style="list-style-type: none"> ・□(7)[]…銅剣や銅矛、つりがね状の□(8)[](右の写真)や銅鏡など。祭りの宝物として用いられた。 ・□(9)[]…武器や工具・農具として用いられた。 	

4 国々の誕生と邪馬台国 [] にあてはまる語句を答えなさい。

中国の歴史書	内 容	
漢 書	<ul style="list-style-type: none"> ・倭(日本)には□(1)[]余りの国があり、漢に使いを送る国もあった。 	
後漢書	<ul style="list-style-type: none"> ・倭の奴国の王が、後漢に使いを送り、皇帝から□(2)[](右の写真)を受けられる。 ※(2)は、江戸時代に□(3)[]で発見された。「漢委奴国王」と刻まれている。 	
魏志倭人伝	<ul style="list-style-type: none"> ・日本列島に□(4)[]という国があり、魏に朝貢した。 ・(4)の女王□(5)[]が、倭の30ほどの小さな国を従える。 ・(5)は、魏に使いを送り、「親魏倭王」の称号と金印を受けられる。 ※邪馬台国のあった場所については、□(6)[](奈良盆地)説と九州説とに分かれている。 	

旧石器時代

- (1) 日本が大陸と陸続きだったころ、地球は氷におおわれる時期と比較的温暖な時期が何度かくり返されていた。この時代を何というか。
- (2) ナウマンゾウやオオツノジカの化石が発見された長野県に位置する湖を何というか。
- (3) 黒曜石でできた打製石器が発見された群馬県にある旧石器時代の遺跡を何というか。

- (1) _____
- (2) _____
- (3) _____

縄文時代

- (4) 1万数千年前から日本で作られるようになった、表面に縄目のような文様の付いた土器を何というか。
- (5) 縄文時代の人々が、貝がらなどの食べ物の残りかすなどを捨てたあとを何というか。
- (6) 縄文時代の人々が、魔よけや食物の豊かさをいのるためにつくったと考えられる人形を何というか。
- (7) 縄文時代の人々は地面をほり下げて柱を立て、その上に屋根をかけて住居をつくった。この住居を何というか。
- (8) 青森県に位置し、(7)のあとなどが発掘された、縄文時代ごろの代表的な遺跡を何というか。

- (4) _____
- (5) _____
- (6) _____
- (7) _____
- (8) _____

弥生時代

- (9) 紀元前8世紀ごろ、大陸から渡来した人々によって稲作が伝えられたのは、現在のどの地方か。
- (10) ねずみや湿気を防ぐためにつくられ、収穫した稲をたくわえた建物を何というか。
- (11) 稲作とともに大陸から伝えられた銅鏡や銅鐸などの金属器をまとめて何というか。
- (12) 弥生時代につくられるようになった、赤褐色をした、薄手でかための土器を何というか。
- (13) 力の強いむらが力の弱いむらを従えることにより成立していった、政治的なまとまりを何というか。
- (14) 佐賀県で、物見やぐらを備えた弥生時代ごろの大集落のあとが発掘された。この遺跡を何というか。

- (9) _____
- (10) _____
- (11) _____
- (12) _____
- (13) _____
- (14) _____

国々の誕生と邪馬台国

- (15) 紀元前1世紀ごろ、倭(日本)には100余りの国があり、楽浪郡を通じて漢に使いを送る国もあったと記されている中国の歴史書を何というか。
- (16) 1世紀の半ばに、倭の奴国の王が中国に使いを送り、皇帝から「漢委奴国王」と刻まれた金印を授けられたと記されている中国の歴史書を何というか。
- (17) 「魏志倭人伝」に記されている、倭の30ほどの小国を従えた国の名を何というか。
- (18) (17)を治め、魏に使いを送り、皇帝から「親魏倭王」の称号を授けられた女王の名を何というか。
- (19) 奴国や(17)は、中国に使いを送った。このように、中国周辺の支配者が、中国に使いを送り、皇帝に貢ぎ物を差し出す制度を何というか。
- (20) (17)のあった場所については、二つの説に分かれている。近畿(奈良盆地)説ともう一つはどこ説か。

- (15) _____
- (16) _____
- (17) _____
- (18) _____
- (19) _____
- (20) _____

標準問題

学習日 月 日

1 縄文時代までの日本について、次の問いに答えなさい。

- (1) 日本列島が大陸と陸続きだったところについて述べた、次の文章中の(①)・資料A (②)にあてはまる語句を答えなさい。

氷河時代に日本列島は大陸と陸続きで、マンモス・ナウマンゾウ・オオツノジカなどの動物を追って人々が移動してきた。人々は、(①)石器を付けたやりで狩りをして、移動しながら暮らしていた。このような時代を(②)時代という。

①〔 〕 ②〔 〕

- (2) 縄文時代について、次の問いに答えなさい。

- ① 縄文時代に使われた右の資料Aのようなものを何というか、答えなさい。

〔 〕

- ② 縄文時代に、魔よけや食物の豊かさをいのあるために使われたと考えられている右の資料Bのようなものを何というか、答えなさい。

〔 〕

2 右の略年表を見て、次の問いに答えなさい。

- (1) 下線①について、弥生時代の遺跡として不適当なものを次から1つ選び、記号で答えなさい。

ア 登呂遺跡 イ 三内丸山遺跡
ウ 吉野ヶ里遺跡

〔 〕

年代	できごと
紀元前8世紀ごろ	① 弥生時代が始まる。 このころ、稲作や② 金属器が伝わる。
57年	倭の小国の国王が中国の皇帝から③ 金印を授かる。
2世紀末ごろ	(㉞)が邪馬台国の女王になる。
239年	(㉞)が魏に使いを送る。……㉟

- (2) 下線②のうち、祭りの宝物として用いられた金属器をまとめて何というか、答えなさい。

〔 〕

- (3) 右の資料Cは、下線③の金印と考えられているものである。これを授かった小国の名と、授けた中国の国名を答えなさい。

小国〔 〕 中国の国〔 〕

- (4) (㉞)に共通してあてはまる人物の名を答えなさい。〔 〕

- (5) ㉟について記されている中国の歴史書を何というか、答えなさい。〔 〕

3 記述トレーニング 次の問いに文で答えなさい。

- (1) 約1万年前に大陸と陸続きだった日本が、大陸とはなれて日本列島の姿になった理由を説明しなさい。

- (2) 貝塚を調べれば縄文時代の人々の生活が分かるのはなぜか、説明しなさい。

- (3) 紀元前8世紀ごろ大陸から稲作が伝わったことで、社会はどのように変化したか、説明しなさい。

- (4) 倭の奴国の王や邪馬台国の卑弥呼が中国に使いを送った理由を説明しなさい。