

1 人類の出現と進化

(1) 人類の出現

- ① 最古の人類である猿人…約700万年前にアフリカに出現。直立二足歩行で道具を使う。
 - ② 原人…打製石器、火や言葉を使う。
 - ③ 旧人…精神文化が発達。
 - ④ 新人(ホモ・サピエンス)…現在の人類の直接の祖先。
 - ⑤ 旧石器時代…打製石器を使い、狩りや採集を行って移動しながら生活していた時代。
- (2) 新石器時代
- ① 食物の煮たきや貯蔵のための土器がつけられ、表面をみがいた磨製石器が使われる。
 - ② 新石器時代…土器や磨製石器を使い、農耕や牧畜を始めた時代。

年代	できごと
約700万年前	最古の人類である猿人が現れる。
約250万年前	氷河時代に入る。氷期と間氷期をくり返す。
約240万年前	原人が現れる。
約20万年前	新人(ホモ・サピエンス)が現れる。
紀元前3000年ごろ	エジプト文明がおこる。
	メソポタミア文明がおこる。
紀元前2600年ごろ	インダス文明がおこる。
紀元前16世紀ごろ	中国に殷(商)がおこる。
紀元前8世紀	ギリシアでポリスが成立。
紀元前6世紀	アテネで民主政治が始まる。
紀元前6世紀ごろ	シャカ(釈迦)が仏教を開く。
紀元前4世紀	アレクサンドロス大王がペルシアを征服する。
紀元前3世紀	秦の始皇帝が中国を統一する。
紀元前2世紀	漢の武帝が大帝国をつくる。
紀元前30年ごろ	ローマ帝国がおこる。
紀元前後	朝鮮半島北部に高句麗がおこる。
	イエスがキリスト教を広める。
4世紀末	ローマ帝国が東西に分裂する。
7世紀初め	ムハンマドがイスラーム教を開く。

2 古代文明のおこりと発展

(1) 文明のおこり

- ① 国家の誕生…農耕や牧畜が発達する。→食料をめぐる争いが増える。→強い集団が弱い集団を従えて国が誕生する。
- ② 身分の発生…支配する者(王や神官、貴族)と支配される者(農民や奴隷)。神殿や宮殿を持つ都市も生まれる。
- ③ 青銅器や鉄器…戦争や祭りに用いる。文字も発明される。

(2) 古代文明…アフリカやアジアで、エジプト文明、メソポタミア文明、インダス文明、中国文明が発達。

◆古代文明のおこり




▲エジプトとメソポタミアをふくむ地域は、オリエントと呼ばれた。

(3) エジプト文明

- ① ナイル川流域で農耕が発達し、紀元前3000年ごろ発生。
- ② 天文学の発達。太陽暦、神聖文字(ヒエログリフ)の発明。
- ③ ピラミッド(国王の墓)や、スフィンクスの建設。

◆神聖文字

◆楔形文字



(4) メソポタミア文明

- ① 紀元前3000年ごろ、ティグリス川・ユーフラテス川の流域に発生。
- ② 楔形文字、太陰暦の発明。60進法。1週間を7日とする。
- ③ ハンムラビ法典…バビロニアのハンムラビ王が法律を整備。

(5) インダス文明

- ① 紀元前2600年ごろ、インダス川流域に発生。
- ② 排水施設などを持つ都市…モエンジョ・ダーロの都市遺跡。インダス文字。
- ③ 身分制度…紀元前1500年ごろアーリヤ人が先住民族を征服。身分制度(後のカースト制度)をつくる。

3 中国文明の発展

◆甲骨文字が刻まれた
亀の甲

(1) 古代中国

- ① 殷 (商) …紀元前16世紀ごろ、黄河流域に発生。青銅器、甲骨文字 (漢字のもと)。
- ② 紀元前11世紀、周が殷をほろぼす。→紀元前8～紀元前3世紀は、多くの国が争う戦乱の時代 (春秋・戦国時代)。→鉄製の兵器や農具が広まる。
- ③ 孔子…紀元前6世紀ごろ、仁と礼で国を治めるといふ儒教 (儒学) を説く。

(2) 統一帝国の成立

- ① 秦…紀元前3世紀に始皇帝が中国を統一。北方の遊牧民族の侵入を防ぐため、万里の長城を築く。始皇帝陵に兵馬俑が残る。
- ② 漢…紀元前2世紀の武帝のとき、朝鮮半島に楽浪郡を設け、中央アジアも支配する。漢の滅亡後、魏・呉・蜀が争う三国時代に。
- ③ 朝鮮半島北部…紀元前後に高句麗がおこる。

◆万里の長城

4 ギリシア・ローマの文明

(1) ギリシアの都市国家とヘレニズム

- ① 地中海沿岸に、アテネやスパルタなどの都市国家 (ポリス) が成立。→アテネで民主政治が行われる。パルテノン神殿の建設。
- ② ギリシア文明…紀元前5世紀ごろ、ギリシア文明 (演劇などの芸術、哲学・医学などの学問) が全盛期をむかえる。
- ③ ヘレニズム…紀元前4世紀、ギリシアを征服したマケドニアのアレクサンドロス大王がペルシアを征服する。→ギリシアの文化とオリエントの文化が融合 (ヘレニズム文化)。

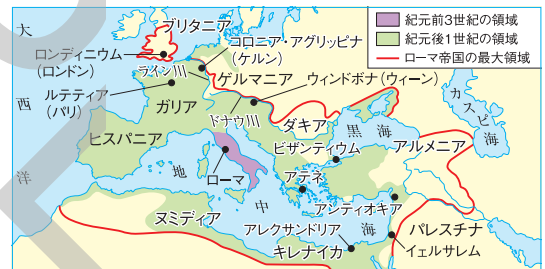
◆パルテノン神殿

▲都市国家は丘の上の神殿とふもとの広場を中心とした。

(2) ローマ帝国

- ① 紀元前6世紀、都市国家ローマが、イタリア半島全体を支配。→貴族を中心とする共和政となる。→紀元前30年ごろ、地中海を囲む地域を統一。→同じころ、帝政となる。
- ② ローマ帝国…各地を結ぶ道路網、水道や浴場、闘技場などを建設。紀元後100年ごろに支配領域が最大。→4世紀に東西に分裂。東ローマ帝国 (ビザンツ帝国) は15世紀まで続く。

◆古代ローマの支配領域の拡大



5 宗教のおこり

- (1) 仏教…紀元前6世紀ごろに生まれたシャカ (釈迦) が開く。

- ① 修行を積めば心の安らぎを得られると説く。
- ② 東南アジアや中国、日本に伝わる。
- ③ インドではヒンドゥー教が広まる。

- (2) キリスト教…紀元前後にうまれたイエスが広める。

- ① だれでも神の愛を受けられると説く。
- ② イエスの教えは「聖書 (新約聖書)」にまとめられた。

- (3) イスラーム教…6世紀に生まれたムハンマドが始める。

- ① 唯一の神アッラーを信仰し、神の像の礼拝を禁止。聖典は「コーラン」。
- ② アラビア半島から西アジアや北アフリカ、東南アジアに広まる。

◆宗教のおこり



▲仏教、キリスト教、イスラーム教は「三大宗教」と呼ばれる。

要点の整理

学習日 月 日

1 年表 [] にあてはまる語句を答えなさい。

年代	できごと
約700万年前	現在知られている最古の人類である□(1)[]が現れる。
約250万年前	地球は□(2)[]時代に入り、氷期と間氷期をくり返す。
約200万年前	石を打ち欠いた□(3)[]石器を使う原人が現れる。
約20万年前	現在の人類の直接の祖先にあたる□(4)[]が現れる。
紀元前3000年ごろ	ナイル川流域に□(5)[]文明がおこる。 ティグリス川・ユーフラテス川流域に□(6)[]文明がおこる。
紀元前2600年ごろ	インダス川流域に□(7)[]文明がおこる。
紀元前16世紀ごろ	中国の黄河流域に□(8)[]という国がおこる。
紀元前6世紀	ギリシアのポリスの1つである□(9)[]で民主政治が始まる。 ローマで□(10)[]が始まる。
紀元前6世紀ごろ	インドに生まれた□(11)[]が仏教を開く。
紀元前4世紀	□(12)[]大王がペルシアを征服する。
紀元前3世紀	秦の□(13)[]が中国を統一する。
紀元前2世紀	□(14)[]の武帝が大帝国をつくる。
紀元前30年ごろ	イタリア半島を中心に、□(15)[]がおこる。
紀元前後	朝鮮半島北部に□(16)[]がおこる。 □(17)[]がキリスト教を広める。
7世紀初め	□(18)[]がイスラーム教を開く。

2 人類の出現と進化 [] にあてはまる語句を答えなさい。

ことがら	内容
人類の出現	最古の人類 約700万年前に□(1)[]に現れる。 後ろあし(足)で立ち、前あし(手)で道具を使う。
	□(2)[] 打製石器を使って動物をとらえたり、身を守ったりした。火や□(3)[]を使う。
	旧人 死者を埋葬するなど、精神文化を発達させる。
	新人 現在の人類の直接の祖先にあたり、世界じゅうに広がった。
□(4)[]時代	打製石器を使い、狩りや採集を行って、移動しながら生活する。
□(5)[]時代	石をみがいた□(6)[]石器や土器をつくる。植物を栽培し、牛や羊などを飼う。

3 古代文明のおこりと発展 [] にあてはまる語句を答えなさい。

文明	場所	発明など	遺跡など
エジプト文明	□(1)[] 川流域	太陽暦と □(2)[]文字	□(3)[] とスフィンクス
□(4)[] 文明	ティグリス川・ユーフ ラテス川の流域	太陰暦と □(5)[]文字	ウルのジググラト
□(6)[] 文明	インダス川流域	排水施設などを持つ都市	□(7)[] (パキスタン)の都市遺跡

4 中国文明の発展 [] にあてはまる語句を答えなさい。

国・時代	時期	ことがら
□(1) []	紀元前 16世紀ごろ	・黄河流域におこる。 ・優れた青銅器や漢字のもととなった□(2)[]ができる。
春秋・戦国時代	紀元前 8世紀ごろ	・鉄製の兵器や農具が広まる。 ・□(3)[]が儒教(儒学)を説く。
□(4) []	紀元前 3世紀	・始皇帝が中国を統一。兵馬俑坑と兵馬俑(始皇帝の墓)。 ・北方の遊牧民の侵入を防ぐために□(5)[]を築く。
□(6) []	紀元前 3世紀	・中央アジアや朝鮮半島も支配。 ・シルクロードを通して西アジアやヨーロッパと交流。

5 ギリシア・ローマの文明 [] にあてはまる語句を答えなさい。

文明	特色
ギリシア文明	都市国家(□(1)[])が発展。パルテノン神殿を中心とするアテネでは、成年男子による□(2)[]が開かれる。
□(3)[]	□(4)[]の東方遠征により、ギリシアの文化とオリエントの文化が融合。ミロのヴィーナスなど。
□(5)[]	紀元前8世紀ごろ都市国家として成立→紀元前6世紀ごろ、貴族を中心とする□(6)[]となる→紀元前27年に帝政。コロッセウム(闘技場)などの建設。

6 宗教のおこり [] にあてはまる語句を答えなさい。

人物	宗教	場所	考え方
□(1) []	仏教	インド	人の一生は苦しみが多いが、修行を積みれば心の安らぎを得られる。
イエス	□(2) []	パレスチナ 地方	人は罪を負っていても、だれでも□(3)[]の愛を受けられる。
ムハンマド	□(4) []	アラビア半島	唯一の神アッラーを信仰し、聖典の「□(5)[]」に従う。

人類の出現と進化

- (1) 今から700万年ほど前にアフリカに現れた最古の人類を何というか。
- (2) 旧石器時代に、石を打ち欠いてつくられた、するどい刃を持つ石器を何というか。
- (3) 今から20万年ほど前に現れた、現在の人類の直接の祖先にあたる人類を何というか。
- (4) 農耕や牧畜が行われ、表面をみがいた磨製石器がつくられるようになった時代を何というか。

(1) _____

(2) _____

(3) _____

(4) _____

古代文明のおこりと発展

- (5) エジプト文明でつくられた、太陽を基準にして1年を365日とし、12か月に分ける暦を何というか。
- (6) ティグリス川・ユーフラテス川の流域には、紀元前3000年ごろ文明が発生し、楔形文字や太陰暦がつくられた。この文明を何というか。
- (7) 紀元前2600年ごろ、インダス川の流域では、排水施設などを持つ都市を中心にした文明がうまれた。この文明を何というか。

(5) _____

(6) _____

(7) _____

中国文明の発展

- (8) 殷では、亀の甲や牛の骨を火であぶり、うらないが行われた。そのうらないの結果を記すために使われた文字を何というか。
- (9) 春秋・戦国時代の中国で孔子が説いた教えを何というか。
- (10) 紀元前3世紀、始皇帝が中国を統一する帝国をつくりあげた。この国を何というか。
- (11) (10)の国がほろんだのちに中国を統一し、紀元前2世紀には、朝鮮半島に楽浪郡を設けて、中央アジアまで支配した国を何というか。
- (12) (11)がほろんだのち、魏・呉・蜀という国に中国が分裂した時代を何というか。
- (13) 紀元前後、朝鮮半島北部からその北の地域にかけて、小国を統一してできた国を何というか。

(8) _____

(9) _____

(10) _____

(11) _____

(12) _____

(13) _____

ギリシア・ローマの文明

- (14) 古代ギリシアにつくられた、スパルタのような都市国家をカタカナで何というか。
- (15) 古代ギリシアにつくられた都市国家のうち、民会を中心とする民主的な政治が行われ、パルテノン神殿がつくられた都市国家を何というか。
- (16) アレクサンドロス大王が東方へ遠征したことにより、古代ギリシアの文化とオリエントの文化が融合してうまれた文化を何というか。
- (17) 紀元前30年ごろにイタリア半島を中心として、地中海一帯を支配して成立した帝国を何というか。

(14) _____

(15) _____

(16) _____

(17) _____

宗教のおこり

- (18) 紀元前6世紀ごろにインドのシャカ（釈迦）がおこした宗教は、やがて中国や日本にも伝えられた。この宗教を何というか。
- (19) 紀元前後にうまれたイエスの教えは、のちに「聖書（新約聖書）」にまとめられた。この教えのことを何というか。
- (20) 7世紀にムハンマドが始めた宗教は、唯一の神アッラーを信仰し、その教えは「コーラン」に記されている。この宗教を何というか。

(18) _____

(19) _____

(20) _____

1～3 のまとめの問題 A

1 右の略年表を見て、次の問いに答えなさい。 → 1 世界の古代文明と宗教のおこり

□(1) (㉞)～(㉟)にあてはまる人類の名称をそれぞれ漢字2字で答えなさい。

- ㉞〔 〕
 ㉟〔 〕
 ㊱〔 〕

年代	できごと
約700万年前	(㉞)が現れる。……A
約240万年前	(㉟)が現れる。……B
約20万年前	(㊱)が現れる。……C

- (2) Aの人類の人骨はどこの大陸で見つかったか、大陸名を答えなさい。〔 〕
- (3) Bの人類が使い始めたもので、石を打ち欠いてつくった、するどい刃を持つものを何というか、答えなさい。〔 〕
- (4) Cの人類は、(3)の道具を用い狩りや採集を行って移動しながら生活していたが、この時代を何というか、答えなさい。〔 〕

2 右の資料を見て、次の問いに答えなさい。 → 1 世界の古代文明と宗教のおこり

□(1) 右の資料は、木を切ったり、加工したりしやすいように石の表面をみがいた道具である。これを何というか、答えなさい。〔 〕

□(2) (1)の道具が用いられたころ、食物を煮たり、貯蔵したりするために器がつくられるようになった。この器を何というか、答えなさい。〔 〕

記述 □(3) 新石器時代には、(1)や(2)の道具を用いてどのような生活を行っていたか。説明しなさい。

〔 〕

□(4) 神殿や宮殿を持つ都市などで、戦争や、神をまつときに用いられた道具のうち、銅とすずをとかして混ぜ合わせることで生成された道具を何というか。答えなさい。

〔 〕

3 右の略地図を見て、次の問いに答えなさい。 → 1 世界の古代文明と宗教のおこり

□(1) 地図中A～Cの文明は、それぞれ何という河川の流域で発達したか、それぞれ答えなさい。

- A〔 〕
 B〔 〕
 C〔 〕

記述 □(2) Aでは天文学が発達した。それはなぜか。Aがどのような所でおこり、どのような産業が発達したかをふまえて、説明しなさい。

〔 〕



□(3) Bで発明された、月の満ち欠けに基づく暦を何というか、答えなさい。〔 〕

□(4) Bで発明された文字を何というか、答えなさい。〔 〕

□(5) Cにある排水施設を持つ都市遺跡を何というか、答えなさい。〔 〕

□(6) 国王の墓としてピラミッドがつけられた地域を、地図中のA～Cから1つ選び、記号で答えなさい。〔 〕

4 右の略年表を見て、次の問いに答えなさい。 → **1** 世界の古代文明と宗教のおこり

□(1) 下線①の国でつくられた文字で、漢字のもとになった文字を何というか、答えなさい。

[]

□(2) (㊸)にあてはまる国の名を何というか、答えなさい。

[]

記述 □(3) 下線②の時代半ばの紀元前6世紀ごろに、孔子が説いた儒教(儒学)の教えでは、どのようなことを基本にした政治を行うべきだとされたか。説明しなさい。

[]

□(4) 下線③の王の墓のそばには、兵士や馬をかたどった兵馬俑が大量に並べられた。この王の名を答えなさい。

[]

□(5) 下線④の時代、西方への交易路が広がり、中国から絹織物などが西方にもたらされ、西方からは馬やぶどうが中国に伝わった。この交易路を何というか、答えなさい。

[]

□(6) (㊹)にあてはまる国の名を何というか、答えなさい。

[]

年代	できごと
紀元前16世紀ごろ	中国に①殷(商)がおこる。
紀元前11世紀	中国で(㊸)が殷をほろぼす。
紀元前8世紀	②春秋・戦国時代が始まる。
紀元前3世紀	③秦が中国を統一する。
紀元前2世紀	④漢の武帝が大帝国をつくる。
紀元前後	朝鮮半島に(㊹)がおこる。

5 右の資料を見て、次の問いに答えなさい。 → **1** 世界の古代文明と宗教のおこり

□(1) 資料1は、ある宗教の広がりを示した

資料1

地図である。この宗教を何というか、答えなさい。

[]

□(2) (1)の宗教を開いた人物の名を答えなさい。

[]

□(3) (1)の宗教は、紀元前1世紀ごろから中国へ伝わった。このころの中国の国名を答えなさい。

[]

□(4) 資料2で、十字架にかけられている人物の名を何というか、答えなさい。

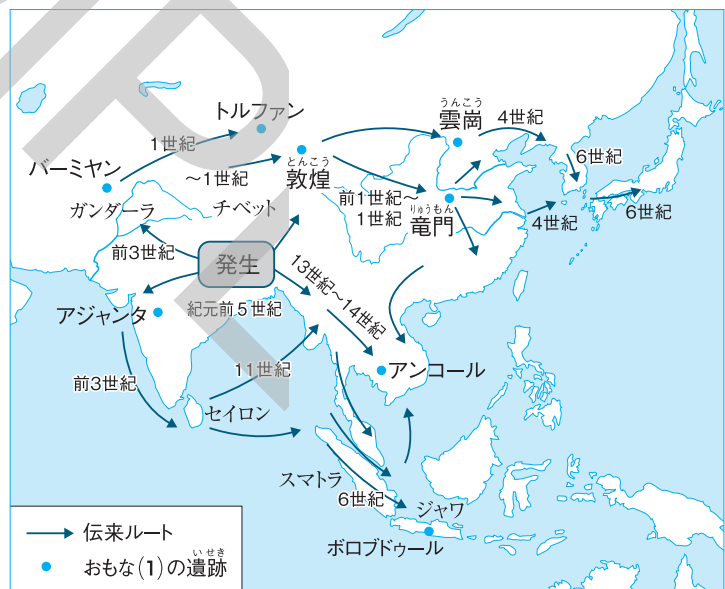
[]

□(5) (4)の教えはキリスト教と呼ばれ、のちにある書物としてまとめられた。この書物を何というか、答えなさい。

[]

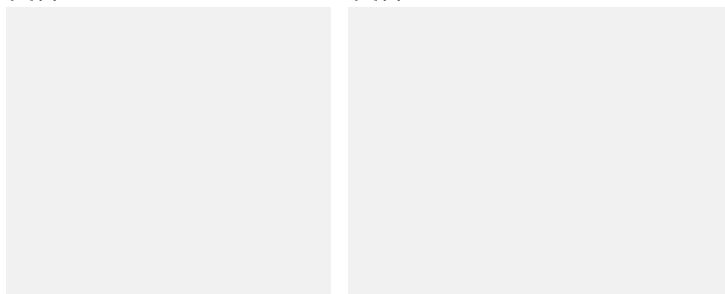
□(6) 資料3はイスラーム教徒がメッカに向かって礼拝しているようすである。アラビア半島のメッカに生まれ、イスラーム教を開いた人物の名を答えなさい。

[]



資料2

資料3



1～3 のまとめの問題 A

6 右の略年表を見て、次の問いに答えなさい。 → 1 世界の古代文明と宗教のおこり

□(1) 下線①について、次の問いに答えなさい。

- ① ギリシアに建設された都市国家をカタカナで何というか。答えなさい。 []
- ② 資料のバルテノン神殿がつくられた都市国家の名を答えなさい。 [] 資料

年代	できごと
紀元前5世紀	ペルシアが①ギリシアに攻めこむ。
紀元前4世紀	②アレクサンドロス大王がペルシアを征服する。
紀元前3世紀	③ローマが勢力を広げる。

記述 □(2) 下線②などによってヘレニズム文化が栄えた。その理由を説明しなさい。

[]

□(3) 下線③について、次の問いに答えなさい。

- ① このころローマはどの地域を支配したか。次から1つ選び、記号で答えなさい。
ア アラビア半島 イ イタリア半島 ウ イベリア半島 []
- ② このころローマで行われていた、貴族を中心とする政治を何というか。 []

7 右の略年表を見て、次の問いに答えなさい。 → 2 古代国家の成立

□(1) 下線①より前の打製石器が群馬県の岩宿遺跡で発見された。何という石でできたものか、答えなさい。

[]

□(2) 下線②、下線③の時代の土器は、資料A・Bのどちらか、それぞれ選び、記号で答えなさい。

② [] ③ []

年代	できごと
約1万年前	①日本列島が大陸からはなれる。 ②縄文時代が始まる。
紀元前4世紀	③弥生時代が始まる。 稲作や金属器が伝わる。

資料A

資料B

□(3) 下線③のころの人々の生活について述べた次の文章中の(①)～(③)にあてはまる最も適当な語句を答えなさい。

人々は、集団をつくり、地面をほりくぼめて柱を立て、その上に屋根をかけた(①)住居に住み、むらを形成していた。おもに(②)によって食べ物を手に入れており、人々が食べ物の残りかすなどを捨てたあとは(③)として残っている。

① [] ② [] ③ []

記述 □(4) 資料Cの土偶は何のために使われていたと考えられているか、簡単に説明しなさい。

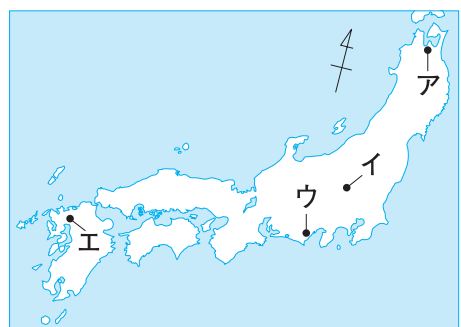
[]

記述 □(5) 資料Dは、下線③の時代に用いられるようになった倉庫である。この倉庫はどのような目的のために用いられたか。説明しなさい。

[] 資料D

□(6) 下線④の時代の遺跡として知られる三内丸山遺跡と、下線⑤の時代の遺跡として知られる吉野ヶ里遺跡の位置を、右の略地図中のア～エから1つずつ選び、記号で答えなさい。

三内丸山遺跡 [] 吉野ヶ里遺跡 []



8 右の略年表を見て、次の問いに答えなさい。 → 2 古代国家の成立

- (1) 下線①には、「漢委奴国王」と刻んである。これについて述べた次の文中の(①)～(③)にあてはまる最も適当な語句を答えなさい。

この金印は、(①)の(②)の王が(③)の皇帝から授かった。

- ① { } ② { }
③ { }

- (2) (㉞)にあてはまるクニの名を答えなさい。 { }

- (3) (㉟)は下線②の国の一つである。何という国か、答えなさい。 { }

- 記述 □(4) (2)の国のある場所は、近畿(大和、奈良県)説と、九州説とに分かれているが、もし近畿にあったとすればその後のこととどのような関係があると考えられるか、説明しなさい。

{ }

年代	できごと
57年	あるクニの王が①金印を授かる。
2世紀末ごろ	卑弥呼が(㉞)の女王になる。
3世紀	中国で②三国時代が始まる。
239年	卑弥呼が(㉟)に使いを送る。

9 右の略年表を見て、次の問いに答えなさい。 → 3 大王の時代

- (1) 下線①について、次の問いに答えなさい。

- ① 右下の写真のような形の古墳を何というか、答えなさい。 { }

- ② 古墳の上やまわりに置かれた円筒型や人物、家屋、馬などをかたどった土製のものを何というか、答えなさい。 { }

年代	できごと
3世紀後半	このころ①古墳がつくられ始める。 ②このころヤマト政権が生まれる。
4世紀	百濟・(㉞)がおこる。 ヤマト政権が(㉞)や(㉟)と戦う。
6世紀	③百濟から仏教が伝来する。

- 記述 □(2) 下線①に関して、5世紀ごろのヤマト政権の王であるワカタケルの名を刻んだ鉄刀が熊本県の古墳から、鉄剣が埼玉県の古墳から出土している。このことや古墳の分布などから分かるヤマト政権の支配について説明しなさい。

{ }

- (3) (㉞)・(㉟)にあてはまる、朝鮮半島に位置する国の名をそれぞれ答えなさい。

㉞ { } ㉟ { }

- (4) 下線③について、次の問いに答えなさい。

- ① 日本に初めて仏教を伝えた百濟の位置を、右の略地図中から1つ選び、記号で答えなさい。 { }

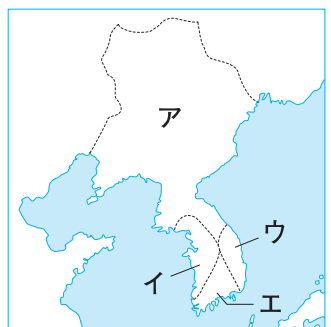
- ② 仏教は、朝鮮半島から一族でまとまって移り住んできた人々によって伝えられた。このような人々を一般に何というか、答えなさい。

{ }

- ③ ②の人々がこの時期に伝えた文物として不適当なものを次から1つ選び、記号で答えなさい。

ア 漢字 イ 儒教 ウ 須恵器 エ 石包丁

{ }



1～3 のまとめの問題 B

1 右の略年表を見て、次の問いに答えなさい。→ 1 世界の古代文明と宗教のおこり

記述 □(1) 下線①について、猿人は、最古の人類である。人類がほかの動物と異なる点を説明しなさい。

[]

□(2) 下線②について、このころから新たな道具が使われ始め、農耕や牧畜が始まった。この時代を何というか。答えなさい。

[]

□(3) 下線③が栄えた地域でつくられた、1年を365日とする暦こよみを何というか。答えなさい。

[]

□(4) 下線④とメソポタミア文明が栄えた地域をあわせて何というか。答えなさい。

[]

□(5) (㉔) にあてはまる、パキスタン周辺で栄えた文明を何というか。答えなさい。

[]

□(6) 下線⑤について、次の問いに答えなさい。

□① この国の名を答えなさい。

[]

□② この国は何という河川の流域におこったか。答えなさい。

[]

記述 □(7) この国でつくられた甲骨文字はどのような場面で使われたか。説明しなさい。

[]

記述 □(8) 下線⑥について、ローマの共和政とはどのような政治であったか。説明しなさい。

[]

□(9) 下線⑦について、次の問いに答えなさい。

□① 紀元前5世紀ごろ、ペルシアが面していた海の名を答えなさい。

[]

□② ギリシアで原型がつけられた唐草模様は、のちに() を通って日本にも伝えられた。() にあてはまる、下線⑧の時代に開かれた、中国と西方をつなぐ交易路の名を答えなさい。

[]

□③ 紀元前4世紀にペルシアを征服した、マケドニアの王の名を答えなさい。

[]

□(10) 下線⑨について、始皇帝が行ったこととして最も適当なものを次から1つ選び、記号で答えなさい。

ア 太陰暦をつくった。 イ 高句麗を支配下に置いた。

ウ 文字や貨幣を統一した。 エ カースト制度をつくった。

[]

□(11) 下線⑩の教えがもととなった宗教の名を答えなさい。

[]

□(12) (㉕) にあてはまるローマに関する文として最も適当なものを次から1つ選び、記号で答えなさい。

ア ローマ帝国が成立する。 イ ローマ帝国が東西に分裂する。

ウ 東ローマ帝国がほろびる。 エ 西ローマ帝国がほろびる。

[]

□(13) (㉖) にあてはまる人物の名を答えなさい。

[]

□(14) 下線⑪の聖典を何というか。答えなさい。

[]

年代	できごと
約700万年前	①猿人が現れる。
約1万年前	②地球の気温が上がり始める。
紀元前3000年ごろ	③エジプト文明がおこる。
紀元前2600年ごろ	(㉔) がおこる。
紀元前16世紀ごろ	④中国最古の国(王朝)がおこる。
紀元前6世紀ごろ	⑤ローマが共和政となる。
紀元前5世紀	⑥ペルシアがギリシアに攻めこむ。
紀元前221年	⑦秦の始皇帝が中国を統一する。
紀元前202年	⑧漢が中国を統一する。
紀元前後	西アジアで⑨イエスが生まれる。
4世紀	(㉕)
7世紀	(㉖) が⑩イスラーム教を開く。

2 次の文章を読んで、あとの問いに答えなさい。 → 2 古代国家の成立, 3 大王の時代

今からおよそ1万年前に、^①旧石器時代が終わり、^②縄文時代と呼ばれる新しい時代が始まった。この時代はたいへん長く続いたが、紀元前4～3世紀ごろ、縄文時代にかわって^③新しい時代が始まった。1世紀ごろから、クニの形成が見られるようになり、3世紀中ごろには、邪馬台国が30ほどの小さなクニを従えた。邪馬台国の女王(^④)は、中国に使いを送り、中国の皇帝から称号などを授けられた。3世紀後半ごろには、大和地方を中心に^⑤ヤマト政権が生まれ、このころから、各地で^⑥古墳が^⑦つくられるようになった。ヤマト政権では、政治や財政の面で、^⑧渡来人が活躍した。

□(1) 下線①について、次の問いに答えなさい。

- ① この時代に使用されていた石器を何というか。答えなさい。 []
- ② ①の石器が発見され、日本にも旧石器時代があったことが判明するきっかけとなった、群馬県に位置する遺跡の名を答えなさい。 []
- ③ ナウマンゾウのきばが発見された、長野県に位置する湖の名を答えなさい。 []

□(2) 下線②について、次の問いに答えなさい。

- ① この時代に、^②魔よけや食物の豊かさをいのるためにつくられたと考えられている土製の人形を何というか。答えなさい。 []

記述 □② この時代のようすを知る手がかりとなる貝塚とは、どのようなものか。説明しなさい。

[]

□(3) 下線③について、次の問いに答えなさい。

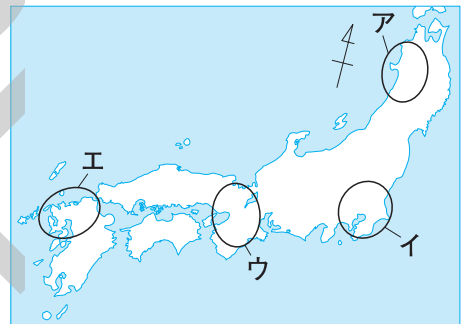
- ① この時代を何というか。答えなさい。 []

記述 □② この時代につくられるようになった土器には、どのような特色が見られるか。縄文土器と比較して説明しなさい。

[]

- ③ 大陸から稲作が伝えられた地域を右の略地図中から1つ選び、記号で答えなさい。 []

- ④ この時代に、米をたくわえるためにつくられるようになった倉庫を何というか。答えなさい。 []



記述 □⑤ この時代の代表的な遺跡である吉野ヶ里遺跡では、集落のまわりを濠で囲んだあとや、物見やぐらのあと、首のない遺骨が収められた棺などが見つかった。これらのことから、どのようなことが考えられるか。「食料」「国」の語句を用いて説明しなさい。

[]

- (4) (^④) にあてはまる女王の名を答えなさい。 []

□(5) 下線⑤について、ヤマト政権は、() や加耶諸国と手を組んで、高句麗や新羅と戦った。

() にあてはまる、朝鮮半島にあった国の名を答えなさい。 []

記述 □(6) 下線⑥について、古墳とは何か。説明しなさい。 []

- (7) 下線⑦について、渡来人が6世紀半ばに日本に伝えた宗教の名を答えなさい。 []