

**1** 人類の出現と古代文明 ..... 4

- 1 人類の出現
- 2 世界の古代文明

**2** 日本のあけぼの ..... 8

- 1 旧石器時代
- 2 縄文時代
- 3 弥生時代

**3** 古代国家の成立 ..... 12

- 1 国々の誕生
- 2 古墳時代

**4** 飛鳥時代 ..... 16

- 1 東アジアの動き
- 2 聖徳太子の政治
- 3 大化の改新と律令国家の成立

◆ 1～4のまとめの問題 ..... 20

◆ 探究問題 1～4のまとめ ..... 28

**5** 奈良時代 ..... 30

- 1 平城京
- 2 人々の暮らし
- 3 奈良時代の文化

**6** 平安京と貴族 ..... 34

- 1 平安京
- 2 貴族の政治
- 3 平安時代の文化

**7** 武士のおこりと鎌倉幕府 ..... 38

- 1 武士のおこり
- 2 院政と平氏の政治
- 3 鎌倉幕府の成立

**8** 鎌倉時代の文化と元寇 ..... 42

- 1 元寇と鎌倉幕府の滅亡
- 2 鎌倉時代の文化

◆ 5～8のまとめの問題 ..... 46

◆ 探究問題 5～8のまとめ ..... 54

**9** 南北朝の動乱と室町幕府 …………… 56

1 室町幕府の成立

2 東アジアの情勢

3 産業の発達

**10** 室町時代の社会と文化 …………… 60

1 社会の変動

2 戦国時代

3 室町時代の文化

**11** ヨーロッパ世界の成立 …………… 64

1 イスラム世界の成立

2 中世のヨーロッパ

3 ヨーロッパ世界の発展

**12** ヨーロッパ人の来航と全国統一 …… 68

1 ヨーロッパ人の来航

2 全国統一

3 桃山文化

◆ 9～12のまとめの問題…………… 72

◆ 探究問題 9～12のまとめ…………… 80

◆ 年表で整理 …………… 82

◆ 総まとめ年表 …………… 84

写真提供

アフロ、東京国立博物館蔵 Image:TNM Image Archives、神戸市立博物館所蔵 Photo:Kobe City Museum/DNPartcom、国立国会図書館所蔵、徳川美術館所蔵 ©徳川美術館イメージアーカイブ / DNPartcom、写真提供：千葉市加曽利貝塚博物館、岐阜県文化財保護センター提供、茅野市尖石縄文考古館、宮内庁三の丸尚蔵館所蔵、正倉院宝物、正倉院正倉、『國女歌舞妓繪詞』（京都大学附属図書館所蔵）、国立公文書館所蔵、国立歴史民俗博物館、十日町市博物館所蔵、唐招提寺蔵 Image:TNM Image Archives、「世宗御製訓民正音」東京都立中央図書館特別文庫室所蔵、東大寺蔵写真提供：公益財団法人美術院、奈良市教育委員会、福岡市博物館所蔵 画像提供：福岡市博物館 /DNPartcom、©平等院、宝来山神社所蔵 画像：和歌山県立博物館、野尻湖ナウマンゾウ博物館、鹿苑寺蔵、佐賀県提供、提供慈照寺、清浄光寺蔵

## 1 人類の出現

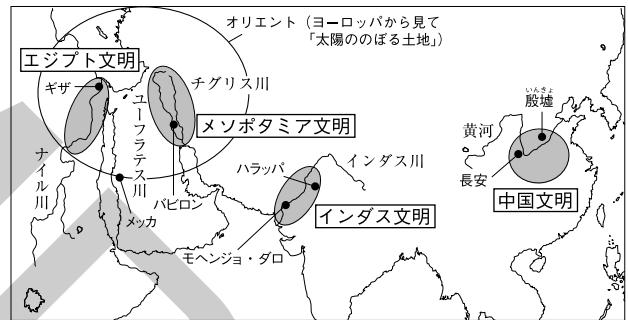
- (1) **最古の人類** 約700万年から600万年前、アフリカに**猿人**が現れる。二足歩行し、道具を使用する。
- (2) **旧石器時代** **氷河時代**になり、きびしい環境のなかで**原人**が現れた。石を打ち欠いてつくった**打製石器**を使い、狩りや採集によって食べ物を得た。やがて火や言葉を使うようになり、約20万年前に、現在の人類の直接の祖先である**新人**が現れた。
- (3) **新石器時代** 約1万年前に氷河時代の氷期が終わり、農耕や牧畜が始まった。表面をみがいて、あつかいやすくした**磨製石器**や**土器**が使われた。

年代	できごと
約700～600万年前	アフリカに猿人が現れる。
約20万年前	新人が現れる。
前3000年ごろ	エジプト文明がおこる。
前3000年ごろ	メソポタミア文明がおこる。
前2500年ごろ	インダス文明がおこる。
前16世紀ごろ	中国の黄河流域に殷がおこる。
前8世紀ごろ	地中海沿岸に都市国家(ポリス)がおこる。
前6世紀ごろ	孔子が生まれる。
前5世紀ごろ	シャカが生まれる。
前5世紀	ギリシャ文明が全盛期をむかえる。
前221年	秦の始皇帝が中国を統一する。
前202年	漢が中国を統一する。
前27年	ローマ帝国が成立する。
前4年	このころイエスが生まれる。

各地で文明がおこる

## 2 世界の古代文明

- (1) **文明の発展** アフリカやアジアの大河のほとりで農耕や牧畜が発達。国や階級が生まれ、**青銅器・鉄器**がつくられた。文字が発明された。
  - **エジプト文明** 紀元前3000年ごろ、**ナイル川**流域でおこった。ピラミッドとスフィンクスをつくり、太陽暦、**象形文字**(絵文字)を使用。
  - **メソポタミア文明** 紀元前3000年ごろ、**チグリス川**と**ユーフラテス川**流域でおこった。**楔形文字**によって**ハンムラビ**(**ハムラビ**)法典が石碑に刻まれた。**太陰暦**、**7曜制**、**60進法**などを使用。
  - **インダス文明** 紀元前2500年ごろ、**インダス川**流域でおこった。**モヘンジョ・ダロ**の都市遺跡。インダス文字を使用。身分制度(後のカースト制度)。
  - **中国の古代文明** 紀元前16世紀ごろ、**黄河**流域に**殷**がおこった。**甲骨文字**や**青銅器**がつくられた。→周の時代に戦乱の時代(**春秋・戦国時代**)となった。**孔子**の教えは**儒学**(**儒教**)として発展。→紀元前3世紀に**秦**の**始皇帝**が中国を統一、北方の遊牧民の侵入を防ぐため、**万里の長城**を築いた。始皇帝の墓のそばには**兵馬俑**。→紀元前2世紀に**漢**は大帝国となる。**シルクロード**(**絹の道**)を通じて、中国の絹が西方へ。
  - **ギリシャの文明** 紀元前8世紀ごろ、**アテネ**(**パルテノン神殿**)や**スパルタ**などの都市国家(**ポリス**)が成立、**民主政治**が行われる。紀元前4世紀、**アレクサンドロス大王**の東方遠征で**オリエント**の文化と結び付く(**ヘレニズム**)。
  - **ローマの文明** 紀元前6世紀に**共和政**、紀元前27年に帝政(**ローマ帝国**)に。長さ・重さ・容積の基準を統一、**道路網**の整備、**水道**や**浴場の建設**、**法律**や**暦**の制定。
- (2) **宗教のおこり**
  - **仏教** 紀元前5世紀ごろにインドに現れた**シャカ**(**釈迦**)が開いた。
  - **キリスト教** 1世紀のはじめ、西アジアの**パレスチナ**地方に現れた**イエス**が開いた。
  - **イスラム教** 7世紀前半に、アラビア半島の**メッカ**で**ムハンマド**が開いた。唯一の神**アラー**を信仰する。



▲甲骨文字


亀の甲や牛の骨を使った古いの結果を記し、漢字のもとになった。

## 1 人類の出現

- (1) 次の説明にあてはまる人類を、それぞれ漢字2字で何というか。
- ① 今から約700~600万年前、アフリカに現れた最古の人類。 [ ]
- ② 約20万年前に現れた、現在の人類の直接の祖先と考えられる人類。 [ ]
- (2) 石を打ち欠いてつくった石器を何というか。 [ ]

## 2 世界の古代文明

- (1) 紀元前3000年ごろ、エジプト文明が流域でおこった河川を何というか。 [ ]
- (2) 右下の図は、エジプト文明の遺跡に見られ、王の墓と考えられている建造物を表している。この建造物は何か。 [ ]
- (3) 次の説明にあてはまる古代文明を何というか。
- ① 紀元前3000年ごろ、チグリス川とユーフラテス川の流域でおこった。 [ ]
- ② 紀元前2500年ごろにおこり、現在のインドとパキスタンの国境付近を中心に栄えた。 [ ]
- (4) 紀元前16世紀ごろ、黄河流域におこった、現在確認されている最古の中国の王朝を何というか。 [ ]
- (5) 古代中国で、占いの結果を記すために亀の甲や牛の骨などに刻まれた、漢字のもとになった文字を何というか。 [ ]
- (6) 古代中国で、多くの国が争っていた春秋・戦国時代に、儒学（儒教）のもととなる教えを説いたのはだれか。 [ ]
- (7) 右の図は、始皇帝が、北方の遊牧民が侵入するのを防ぐためにはじめて築いた建造物を表している。世界文化遺産に登録されている、この建造物は何か。 [ ]
- (8) 紀元前2世紀に、朝鮮半島北部から中央アジアにまたがる広い地域を支配した中国の王朝は何か。 [ ]
- (9) 古代ギリシャでは、アテネやスパルタのような都市国家が地中海沿岸に建設された。この都市国家をカタカナ3字で何というか。 [ ]
- (10) 紀元前4世紀、ギリシャを征服した後、さらに東方に遠征してペルシャ（イラン）まで征服したマケドニアの国王はだれか。 [ ]
- (11) ギリシャの文化が東方に広まってオリエントの文化と結び付いたことを何というか。 [ ]
- (12) イタリア半島から領土を広げて地中海を囲む地域を統一し、紀元前27年に成立した帝政の国を何というか。 [ ]
- (13) 紀元前5世紀ごろに、仏教を開いた人物はだれか。 [ ]
- (14) 1世紀のはじめ、パレスチナ地方に現れたイエスが開いた宗教は何か。 [ ]
- (15) 7世紀前半にアラビア半島でムハンマドが開いた宗教は何か。 [ ]



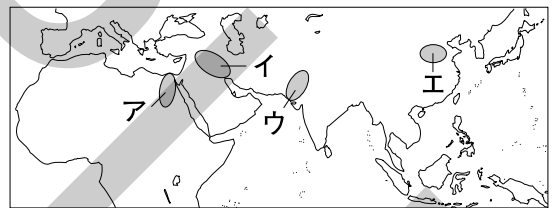


# 練成問題

1 次の略年表を見て、あとの問いに答えなさい。

年代	できごと
約700～600万年前	あ <u>猿人が現れる。</u>
前3000年ごろ	い <u>エジプト文明</u> やう <u>メソポタミア文明</u> がおこる。
前2500年ごろ	え <u>インダス文明</u> がおこる。
前16世紀ごろ	中国最古の王朝である <u>お殷</u> がおこる。
前5世紀ごろ	か <u>シャカ</u> が生まれる。
前5世紀	き <u>ギリシャ文明が全盛期をむかえる。</u>
前221年	く <u>秦が中国を統一する。</u>
前202年	け <u>漢が中国を統一する。</u>

- (1) 下線あについて、最も古い猿人の化石人骨が発見された場所を次から1つ選び、記号で答えなさい。  
 ア ヨーロッパ    イ 東アジア    ウ アフリカ    エ 南アメリカ    [   ]
- (2) 下線いについて述べた文として最も適当なものを次から1つ選び、記号で答えなさい。  
 ア ハンムラビ（ハムラビ）法典が刻まれた石碑がこのこされている。  
 イ 北方の遊牧民の侵入にそなえて万里の長城が築かれた。  
 ウ 政治の中心地としてパルテノン神殿がつくられた。  
 エ 王の墓であるピラミッドがこのこされている。    [   ]
- (3) 下線うは、ある2つの河川の流域で栄えた。その河川を次から2つ選び、記号で答えなさい。  
 ア ユーフラテス川    イ ナイル川    ウ ガンジス川  
 エ アマゾン川    オ チグリス川    [   ] [   ]
- (4) 下線えが栄えた地域を右の略地図中から1つ選び、記号で答えなさい。    [   ]
- (5) 下線おについて、次の問いに答えなさい。
- ① この王朝が流域に栄えた河川の名を答えなさい。  
 [   ]
- ② このころ、銅とすずをとかし合わせた金属で、さまざまな道具などがつくられた。この金属でつくられた道具を何というか。    [   ]
- (6) 下線かが開いた宗教の名を答えなさい。    [   ]
- (7) 下線きについて、ギリシャの文化は、この後ある地域の文化と結び付き、ヘレニズムの文化が生まれた。このある地域はどこか。    [   ]
- (8) 下線くについて、このとき中国を統一した皇帝の名を答えなさい。    [   ]
- (9) 下線けについて、次の問いに答えなさい。
- ① この王朝では、孔子の教えが広まり、この教えにもとづいて国づくりが進められた。この教えを何というか。    [   ]
- ② この王朝は、朝鮮半島北部から中央アジアにまたがる広い地域を支配したため、シルクロードと呼ばれる東西の交通路が発達した。この交通路がシルクロードと呼ばれる理由を簡単に答えなさい。  
 [   ]



## 1 次の問いに答えなさい。

- (1) 打製石器を使い、狩りや採集によって食べ物を得ていた時代を何というか。 [ ]
- (2) 表面をみがいて、あつかいやすくした石器を何というか。 [ ]
- (3) 紀元前3000年ごろ、ナイル川の流域でおこった文明を何というか。 [ ]
- (4) メソポタミア文明が栄えた時代に、ハンムラビ（ハムラビ）法典は何という文字で石碑に刻まれたか。 [ ]
- (5) 紀元前3世紀に中国を統一した始皇帝を王とする国は何か。 [ ]
- (6) 紀元前27年に、イタリア半島を中心として地中海を囲む地域に成立し、4世紀末にキリスト教を国教とした国はどこか。 [ ]
- (7) 1世紀に、西アジアのパレスチナ地方でキリスト教を開いたのはだれか。 [ ]

## 2 次の文章を読んで、あとの問いに答えなさい。

今から約700～600万年前に、最古の人類である あ 猿人が現れた。その後、人類は進化を続け、王や貴族といった身分が生まれ、文字を使うようになり、 い 各地に文明がおこった。

中国では、紀元前1500年ごろに う 黄河の流域に殷がおこった。そして、多くの国が争う時代のあと、紀元前3世紀には え 秦が中国を統一した。秦がほろびたあと、 お 漢が中国を統一した。

- (1) 下線あについて述べた文として最も適当なものを次から1つ選び、記号で答えなさい。

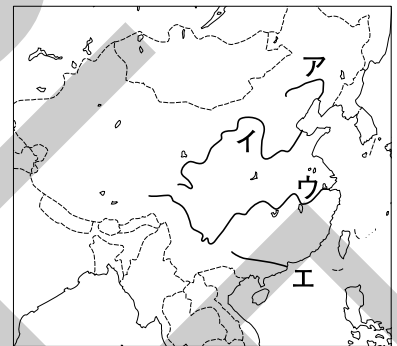
- ア 簡単な石器を用いるものもいた。
- イ 青銅器の使用が広まった。
- ウ オリентと呼ばれる地域では鉄器を用いていた。
- エ 土器を用いて食べ物の煮たきをしていた。 [ ]

- (2) 下線いに関して、インダス文明の都市遺跡の名を次から1つ選び、記号で答えなさい。

- ア ギザ                      イ バビロン
- ウ メンフィス              エ モヘンジョ・ダロ [ ]

- (3) 下線うを右の略地図中から1つ選び、記号で答えなさい。

[ ]



- (4) 下線えのときにはじめて築かれた万里の長城は、どのような目的でつくられたか。簡単に答えなさい。

[ ]

- (5) 下線おについて述べた文として最も適当なものを次から1つ選び、記号で答えなさい。

- ア 漢字のもとになった甲骨文字がはじめて使用された。
- イ 初代の王が死ぬとすぐに、この王朝はほろびた。
- ウ 朝鮮半島北部から中央アジアにまたがる広い地域を支配した。
- エ シャカが現れ、仏教を開いた。 [ ]

## 1 旧石器時代

氷河時代（氷期）には、今より海面が低く、日本が大陸と陸続きになっていた時期があった。ナウマンゾウやオオツノジカ、マンモスなど大形の動物を追って、打製石器を使う人々が大陸から移り住んだ。人々は、移動しながら狩りをし、岩陰や簡単な小屋などに住んだ。岩宿遺跡（群馬県）の発見から日本に旧石器時代があったことがはじめて明らかになった。野尻湖（長野県）からは、ナウマンゾウやオオツノジカなどの化石が見つかった。

## 2 縄文時代

約1万2000年前から土器が使われ始めた。約1万年前に氷期が終わり、海面が上昇して、日本列島が形成された。

- 縄文文化 縄文土器や磨製石器を使用。土偶と呼ばれる土製の人形は、祈りや魔よけに使われた。
- 生活 狩りや採集などで食べ物を得て、地面に穴を掘って柱を立てて屋根をふいた竪穴住居に住んだ。食べ物の残りなどを捨てた貝塚から当時の生活を知ることができる。
- 代表的な遺跡 三内丸山遺跡（青森県）では直径約1mの柱の穴のあとが発見され、巨大な建物があったと考えられる。

## 3 弥生時代

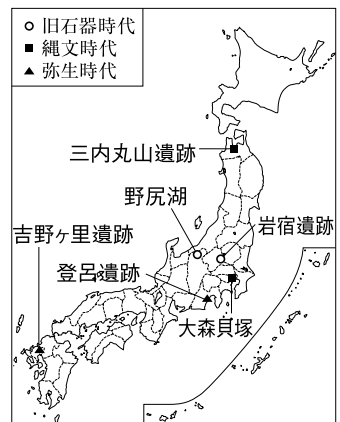
弥生土器が使われた時代。紀元前4世紀ごろに日本に伝わった稲作は、弥生時代に西日本から東日本へと広がった。

- 弥生文化 弥生土器を使用。青銅器（銅鐸・銅矛・銅剣・銅鏡）や鉄器などの金属器も伝わった。
- 生活 水田の近くにむらをつくって住んだ。稲は、石包丁などを使って収穫し、高床倉庫にたくわえた。
- 代表的な遺跡 吉野ヶ里遺跡（佐賀県）は二重のほりに囲まれた大規模な集落のあとで、見張りのための物見やぐらなどから争いがあったことがわかる。登呂遺跡（静岡県）は弥生時代の水田や竪穴住居、高床倉庫などが復元されていることで有名である。

年代	できごと	中国
約1万2000年前	旧石器時代 大形の動物を追って人々が日本に移り住む。	殷
	縄文時代 縄文土器が使われる。	
紀元前4世紀ごろ	弥生時代 日本に稲作が広まる。 弥生土器が使われる。 むらが結びついて、国に発展する。	秦 漢



▲復元された竪穴住居  
（三内丸山遺跡）



## ◀縄文土器

縄目の文様に特徴のある土器が多く見つかったことから名づけられた。食べ物の煮たきや保存に利用された。

## ◀弥生土器

東京の弥生町（現在の文京区弥生）で発見されたことから名づけられた。食べ物の煮たきや保存に利用された。縄文土器より、かざりが少なく、高温で焼かれ、うすくてしょうぶである。

## ◀石包丁

稲を根元からかるのでなく、石包丁を使って穂首だけをかっただ。



▲吉野ヶ里遺跡

ほりやの内側に住居や物見やぐらがつくられた。

## 1 旧石器時代

- (1) 日本の旧石器時代には、地球全体が寒冷な気候の時期が長く続いた。この地球全体が寒冷であった時代を何時代というか。 [ ]
- (2) 旧石器時代に用いられた、石を打ち欠いてつくっただけの石器を何というか。 [ ]
- (3) 次の説明にあてはまる遺跡などを何というか。
  - ① (2)の石器が2万年以上前の地層から発見され、日本に旧石器時代があったことがはじめて明らかになった群馬県にある遺跡。 [ ]
  - ② ナウマンゾウやオオツノジカの化石が発見されたことで有名な、長野県北部にある湖。 [ ]

## 2 縄文時代

- (1) 表面をみがいて、あつかいやすくした石器を何というか。 [ ]
- (2) 縄文時代に、祈りや魔よけに使われたと考えられる、土製の人形を何というか。 [ ]
- (3) 縄文時代の人々が食べ物の残りかすなどを捨てた共同のごみ捨て場を何というか。 [ ]
- (4) 右の図は、縄文時代の人々がくらしていた住居を復元したものを表している。この住居を何というか。 [ ]
- (5) 直径約1mの柱の穴のあとが発見され、巨大な建物があったと考えられる、青森県にある縄文時代の遺跡を何というか。 [ ]



## 3 弥生時代

- (1) 右の図は、弥生時代に祭りのときの宝物として用いられたと考えられる青銅器を表している。この青銅器を何というか。 [ ]
- (2) 弥生時代に稲作で用いられた、稲の穂をかり取るための石でできた道具を何というか。 [ ]
- (3) 右の図は、弥生時代に、収穫した稲の穂をたくわえるためにつくられた倉庫を表している。この倉庫を何というか。 [ ]
- (4) 二重のほりに囲まれた大規模な集落のあとで、見張りのための物見やぐらなどが復元されている、佐賀県にある弥生時代の遺跡を何というか。 [ ]







## 1 次の問いに答えなさい。

- (1) 右の図は、野尻湖で発見された（ ）のきばとオオツノジカの角の化石を表している。（ ）にあてはまる大形の動物の名を答えなさい。  
[ ]
- (2) 約1万2000年前から、日本では縄目の文様のついた土器などがつくられた。このころつくられた土器を何というか。[ ]
- (3) (2)の土器が使われた時代の人々は、地面に穴を掘って柱を立て、屋根をふいてつくった住居でくらししていた。このような住居を何というか。[ ]
- (4) (2)の土器が使われた時代のあと、かざりが少なく実用的で、それまでより、厚さがうすい土器がつくられるようになった。この土器が使われた時代を何というか。[ ]
- (5) 吉野ヶ里遺跡などで、湿気やねずみの害を防ぐよう工夫された、米を保管する倉庫が復元されている。このような倉庫を何というか。[ ]

## 2 右の略年表を見て、次の問いに答えなさい。

- (1) 下線あだけが使われた時代の日本列島について述べた文として最も適当なものを次から1つ選び、記号で答えなさい。

ア 今より温暖な気候で、熱帯性の植物におおわれていた。

イ 今より温暖な気候で、マンモスなどの大形の動物が住んでいた。

ウ 今より寒冷な気候が続き、現在の日本列島はほとんど海底にあった。

エ 今より寒冷な気候のときに、大陸から陸づたいに大形の動物が日本へやってきた。 [ ]

年代	できごと
約12000年前	あ 打製石器が使われる。
紀元前	い 縄文時代が始まる。
4世紀ごろ	う 稲作が伝わる。
	え 弥生時代が始まる。

- (2) 下線いについて、次の問いに答えなさい。

① この時代の遺跡である三内丸山遺跡は、現在の何県にあるか。 [ ]

② この時代について述べた文として最も適当なものを次から1つ選び、記号で答えなさい。

ア 貝塚から、この時代の生活について知ることができる。

イ 銅鏡から、この時代の戦いについて知ることができる。

ウ 銅矛から、この時代の食事について知ることができる。

エ 土偶から、この時代の住居について知ることができる。 [ ]

- (3) 下線うに関して、右の図は、このころ稲作に用いられた道具である。この道具はどのような作業に用いられたか、簡単に答えなさい。

[ ]

- (4) 下線えの遺跡である吉野ヶ里遺跡には、高さ10mほどのやぐらが建っていたと考えられている。その目的として最も適当なものを次から1つ選び、記号で答えなさい。

ア 集落からの脱走者を発見するため。      イ 獲物となる動物の動きを観察するため。

ウ 外敵を監視するため。      エ 水害のときに避難場所とするため。 [ ]

### 1 国々の誕生

(1) **小国の誕生** 弥生時代に稲作がさかんになると、むらが結びついて、国に発展した。紀元前後のころには日本に100あまりの国があった(『漢書』地理志)。1世紀には、**倭国**の王が漢(後漢)に**朝貢**し、使いを送って、皇帝から**金印**〔江戸時代に福岡県の志賀島で発見された〕を授けられた(『後漢書』東夷伝)。

(2) **邪馬台国** 3世紀に邪馬台国の女王**卑弥呼**が30ほどの国を従え、中国の**魏**に貢ぎ物をした(魏志倭人伝)。このころの中国は、漢がほろんだあと、魏・呉・蜀の3つの国に分かれてたがい争っていた。

#### 邪馬台国についての記述(魏志倭人伝より)

邪馬台国は、もとは男子を王としていた。70~80年が過ぎて国内が乱れ、戦乱が続いたので一人の女子を王とした。その女子は卑弥呼といい、人々の心を引きつけることができた。

年代	できごと	中国
57	倭の奴国の王が後漢に使いを送り、金印を授けられる。	漢(後漢)
239	邪馬台国の女王卑弥呼が魏に使いを送る。 ・各地に古墳がつくられる。	魏 呉 蜀
4世紀	大和政権(ヤマト王権)の統一が進む。	南北朝
478	大和政権の王である武が中国の南朝に使いを送る。	
6世紀	日本に仏教が伝わる。	

古墳文化

▲**金印**  
(後)  
「漢委奴国王」と刻まれている。

### 2 古墳時代

(1) **大和政権(ヤマト王権)** 3世紀後半に、大和地方〔現在の奈良県〕に大和政権が成立した。勢力を広げ、5世紀には大和政権の王が九州から東北地方南部の地域を従えて、**大王**と呼ばれた。

(2) **古墳文化** 巨大な**前方後円墳**〔円形と四角形を組み合わせた形の古墳〕が各地につくられた。大阪府にある**大仙(大山)古墳**は世界最大級の墓である。古墳の表面には石がしきつめられ、頂上やまわりには、円筒型の**埴輪**や、人・動物・家などをかたどった埴輪が置かれた。内部には、死者とともに銅鏡や銅剣、玉、鉄製の武器などが副葬品としておさめられ、石室の壁には絵が描かれた。

#### ●さまざまな古墳の形



円墳



方墳



前方後円墳



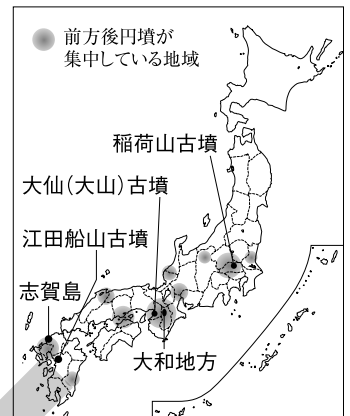
前方後方墳

#### (3) 中国・朝鮮との交流

① 中国との交流 5世紀ごろ、中国は南朝と北朝に分かれていた。大和政権の大王(倭の五王)は、倭の王としての地位や朝鮮半島での権利を認めもらうため、南朝の**宋**に使いを送った。

② 朝鮮半島との関係 朝鮮半島は北部の**高句麗**、南部の**百済**と**新羅**が力を持ち、大和政権は百済や小国に分かれていた**伽耶地域(任那)**と結んで高句麗や新羅と戦った。

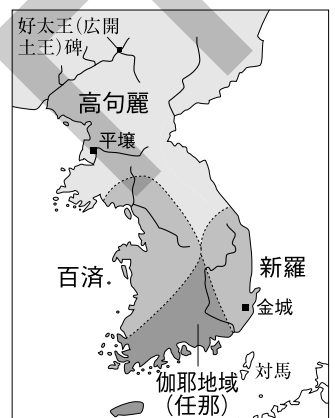
③ **渡来人**〔中国や朝鮮から一族で日本に移り住んだ人々〕は、ため池などをつくる技術や、須恵器〔かたい土器〕・鉄製の農具・絹織物などをつくる技術、漢字・儒学・仏教などを伝えた。



▲稲荷山古墳出土の鉄剣や江田船山古墳出土の鉄刀に見られるワカタケル大王は、倭の五王のうちの武と考えられている。



▲**大仙(大山)古墳(大阪府)**  
前方後円墳で、世界最大級の墓。

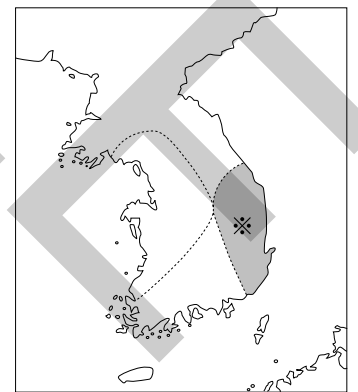


## 1 国々の誕生

- (1) 紀元前4世紀ごろから3世紀にかけて続いた時代に、稲作が各地に広まった。吉野ヶ里遺跡が代表的な遺跡として知られる、この時代を何時代というか。 [ ]
- (2) 1世紀に、日本にあった小国の王が漢(後漢)に使いを送り、金印を授けられた。これについて、次の問いに答えなさい。
  - ① 使いを送ったのは、何という国の王か。 [ ]
  - ② この金印は、江戸時代に九州と陸続きになっている島で発見された。この島の名を答えなさい。 [ ]
  - ③ このころ、中国では、日本のことを何と呼んでいたか。漢字1字で答えなさい。 [ ]
- (3) 中国の歴史書に記されている、女王卑弥呼によって治められていた国を何というか。 [ ]
- (4) 卑弥呼が使いを送ったころ、中国は大きく3つに分かれていた。このうち、卑弥呼が使いを送った王朝の名を答えなさい。 [ ]

## 2 古墳時代

- (1) 3世紀の後半には、現在の奈良県にある( )地方を中心に( )政権が成立した。( )に共通してあてはまる語句を答えなさい。 [ ]
- (2) (1)の政権の王は、ほかの地域の王を従えて勢力を広げ、何と呼ばれるようになったか。 [ ]
- (3) 円形と四角形を組み合わせた形の古墳を何というか。 [ ]
- (4) 右の図は、大阪府に位置する日本最大の古墳を表しており、この古墳は世界でも最大級の墓とされる。この古墳は何と呼ばれているか。 [ ]
- (5) 古墳の頂上やまわりに置かれた、家や馬、人などをかたどった素焼きの土器を何というか。 [ ]
- (6) 右の略地図は5世紀ごろの朝鮮半島のようすを表している。地図中に※で示した王朝の名を答えなさい。 [ ]
- (7) 5世紀ごろ、朝鮮半島の南部には、多くの小国に分かれている地域があり、日本はこの地域と強く結びついていた。この地域を何というか。 [ ]
- (8) 中国や朝鮮から一族でまとまって日本に移り住んだ人々を何というか。 [ ]
- (9) 5世紀ごろに、高い温度をつくりだすことのできるのぼりがまともにも、灰色がかった、かたい土器をつくる技術が朝鮮半島から伝わった。この土器を何というか。 [ ]



# 練成問題

## 1 右の略年表を見て、次の問いに答えなさい。

- (1) 下線あについて、次の文章中のA、Bにあてはまる語句の組み合わせとして最も適切なものをあとから1つ選び、記号で答えなさい。

奴国の王が使いを送った中国の王朝は( A )で、このころ、日本は( B )であった。

年代	できごと
57	ア あ 倭の奴国の王が中国に使いを送り、い 金印を授けられる。
239	イ う 邪馬台国の女王が中国に貢ぎ物をする。 え 古墳がつくられはじめる。
4世紀	お 大和政権(ヤマト王権)による統一が進む。
6世紀	カ か 日本に仏教が伝わる。

ア A = 秦, B = 縄文時代    イ A = 秦, B = 弥生時代

ウ A = 漢, B = 縄文時代    エ A = 漢, B = 弥生時代

- (2) 下線いについて、何のために中国の皇帝が奴国の王に金印を授けたか、簡単に答えなさい。

[ ]

- (3) 下線うについて、次の問いに答えなさい。

□① 中国に使いを送った邪馬台国の女王の名を答えなさい。

[ ]

□② このことは、何という歴史書の何という部分に記されているか。

[ ]

- (4) 下線えについて、次の問いに答えなさい。

□① 右の図は大仙(大山)古墳を表している。このような形の古墳を何というか。

[ ]



- ② 古墳について述べた文として**不適当なもの**を次から1つ選び、記号で答えなさい。

ア 大和政権の大王以外は古墳をつくることを許されなかった。

イ 多くの古墳は、当初、表面に石がしきつめられていたと考えられている。

ウ 死者とともに、鏡や玉、武器などが副葬品としておさめられた。

エ 頂上やまわりに埴輪が置かれた。

[ ]

- (5) 下線おについて、次の問いに答えなさい。

□① この勢力は、大和地方に成立し、大和地方を中心に勢力を広げた。大和地方は現在の何県にあるか。

[ ]

□② この勢力について述べた文として最も適切なものを次から1つ選び、記号で答えなさい。

ア 渡来人が大王となって支配した。

イ 渡来人が重く用いられ、文書の作成などにあたった。

ウ 5世紀には朝鮮半島北部まで支配した。

エ 5世紀には北海道から九州までの地域を支配した。

[ ]

- (6) 下線かについて、朝鮮半島の国々のなかでとくに日本との交流がさかんで、はじめて日本に仏教を正式に伝えたとされる王朝の名を答えなさい。

[ ]

- (7) 倭王武が中国の南朝(宋)に使いを送った時期として最も適切なものを年表中のア~カから1つ選び、記号で答えなさい。

[ ]

## 1 次の問いに答えなさい。

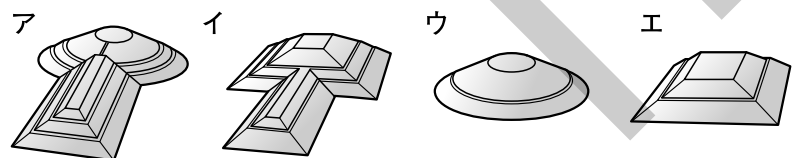
- (1) 1世紀に奴国の王が中国の皇帝に使いを送り、金印を授けられた。このときの中国の王朝を漢字1字で答えなさい。 [ ]
- (2) 3世紀に日本にあったと中国の歴史書に記述されている邪馬台国の女王の名を答えなさい。 [ ]
- (3) 3世紀から6世紀にかけて、土を盛り上げて築かれた、王や豪族の墓を何というか。 [ ]
- (4) 右の図に表されているような素焼きの土器を何というか。 [ ]
- (5) 3世紀後半に近畿地方に成立し、5世紀には九州から東北地方南部にかけての地域を支配した勢力を何というか。 [ ]
- (6) 5世紀ごろ、朝鮮半島の北部を占めていた王朝は何か。 [ ]

## 2 右の略年表を見て、次の問いに答えなさい。

- (1) 下線あが江戸時代に発見された場所は、現在の何県にあるか。 [ ]
- (2) 下線いについて、次の問いに答えなさい。
  - ① 卑弥呼について述べた文として最も適当なものを次から1つ選び、記号で答えなさい。
    - ア 男性の王で、武力で100ほどの国々を従えた。
    - イ 男性の王で、まじないなどによって30ほどの国々を従えた。
    - ウ 女性の王で、武力で100ほどの国々を従えた。
    - エ 女性の王で、まじないなどによって30ほどの国々を従えた。 [ ]
  - ② このころの中国について述べた文として最も適当なものを次から1つ選び、記号で答えなさい。
    - ア 南朝と北朝の2つの王朝に分かれていた。
    - イ 3つの国に分かれており、これらの3つの国がたがいに争っていた。
    - ウ 100をこえる小国があり、中国全体を支配する勢力がなかった。
    - エ 朝鮮半島北部から中央アジアにまたがる地域を1つの王朝が支配していた。 [ ]

年代	できごと
57	奴国の王が中国に使いを送り、 <u>あ</u> 金印を授けられる。
239	<u>い</u> 卑弥呼が中国に使いを送る。
4世紀	<u>う</u> 大和政権の統一が進む。
478	<u>え</u> 大和政権の王である武が中国の南朝に使いを送る。
5世紀	日本に漢字が伝わる。

- (3) 下線うのころ、各地に古墳がつくられた。前方後円墳を表したものを右から1つ選び、記号で答えなさい。



- (4) 下線えのころまでの日本と中国との交流について、中国の書物がおもな手がかりであり、日本に手がかりが少ない理由を、年表の内容から考えて簡単に答えなさい。 [ ]



## 1 東アジアの動き

- 隋… 6世紀に中国を統一した。黄河と長江を結ぶ大運河が建設された。
- 唐… 7世紀に中国を統一した。都の長安は国際都市として発展した。律令〔律は刑法，令は政治の決まり〕のしくみを整え，均田制を実施した。

## 2 聖徳太子の政治

聖徳太子（厩戸皇子）は，推古天皇の摂政〔女性や幼少の天皇にかわって政治を行う役職〕となり，蘇我馬子と協力して天皇中心の国家をめざした。

### (1) 政治

- 冠位十二階の制度… 家柄にとらわれず，才能や功績のある人物を役人として採用するために定めた。
- 十七条の憲法… 役人の心構えを示した。


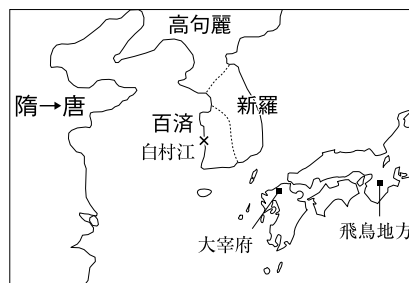
- 一 和を大切にし，人といさかいをせぬようにせよ。
- 二 あつく仏教を信仰せよ。
- 三 詔（天皇の命令）を受けたら，必ずそれに従え。

- 遣隋使の派遣… 小野妹子らを隋に派遣し，対等の立場での外交を求めた。

#### 遣隋使の手紙

太陽の昇る東方の国の天子が，手紙を太陽の沈む西方の天子に差し上げます。お元気ですか。

- (2) 文化 飛鳥地方〔奈良盆地南部〕を中心に飛鳥文化が栄えた。仏教をあつく信仰した聖徳太子が法隆寺〔現存する世界最古の木造建造物がある〕をつくった。



▲法隆寺

## 3 大化の改新と律令国家の成立

645年，中大兄皇子が中臣鎌足〔のちの藤原鎌足〕らとともに，聖徳太子の死後に大きな力を持っていた蘇我蝦夷・入鹿をたおし，政治の改革を行った。このとき，初めて「大化」という年号が使われた。

- (1) 方針 土地と人々を，公地・公民として直接国家の支配下に置いた。

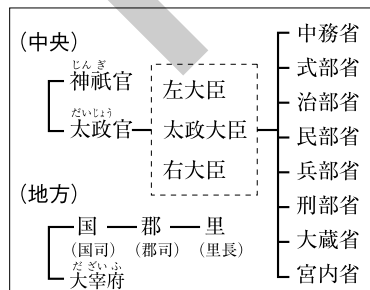
### (2) 改新政治の進展

- 白村江の戦い… 中大兄皇子は，新羅と唐の連合軍に攻められた百濟を助けるために朝鮮半島に軍を送ったが戦いに敗れた。その後，中大兄皇子は即位して天智天皇となり，戸籍の整備などを行った。
- 壬申の乱… 天智天皇の死後，皇位をめぐり大海人皇子〔天智天皇の弟〕と大友皇子〔天智天皇の息子〕が対立した。この争いに勝利した大海人皇子が即位して天武天皇となった。

- (3) 大宝律令 唐の律令にならって制定された。

- しくみ… 中央に2官8省が置かれ，地方は国・郡・里に分けられた。
- 班田収授法… 6年ごとに戸籍をつくり，6歳以上の男女に口分田をあたえた。口分田はその人の死後，国に返させた。

#### ■律令による政治のしくみ



年代	できごと	中国
593	聖徳太子が推古天皇の摂政となる。 冠位十二階の制度を制定する。(603) 十七条の憲法を制定する。(604) 小野妹子を隋へ派遣する。(607) 法隆寺を建てる。(607)	隋
645	中大兄皇子らによる大化の改新が開始される。 白村江の戦いがおこる。(663)	唐
672	壬申の乱がおこる。	
676	新羅が朝鮮半島を統一する。 このころ富本銭がつくられる。	
701	大宝律令が制定される。	

飛鳥文化

## 1 東アジアの動き

- (1) 次の説明にあてはまる中国の王朝の名を答えなさい。
- ① 6世紀に中国を統一した。この王朝の時代に、黄河と長江を結ぶ大運河が建設された。 [ ]
- ② 7世紀に中国を統一した。この王朝の時代に、律令のしくみが整えられた。 [ ]
- (2) 7世紀に中国を統一した王朝の都はどこか。 [ ]

## 2 聖徳太子の政治

- (1) 聖徳太子が、能力や実績のある人材を役人として採用するために定めた制度を何というか。 [ ]
- (2) 聖徳太子が、朝廷に仕える役人の心構えを示すために定めた法令を何というか。 [ ]
- (3) 右の図は、聖徳太子が建てた寺院を表している。この寺院について、次の問いに答えなさい。
- ① この寺院は、現存する世界最古の木造建造物があることで知られている。この寺院の名を答えなさい。 [ ]
- ② 聖徳太子が政治を行っていたころに栄えた、この寺院に代表される仏教文化は何か。 [ ]



## 3 大化の改新と律令国家の成立

- (1) 聖徳太子の死後、天皇をしのぐ勢いをもつようになり、大化の改新でたおされた豪族の一族を何というか。 [ ]
- (2) 中大兄皇子とともに大化の改新の中心人物となり、のちに藤原の姓を授けられた人物はだれか。 [ ]
- (3) 中大兄皇子は、即位して何という天皇になったか。 [ ]
- (4) 大化の改新のときに出された、土地と人民を国家のものとする方針を何というか。 [ ]
- (5) 天皇の位をめぐって、大海人皇子と大友皇子の間におこった争いを何というか。 [ ]
- (6) 701年に唐の律令にならって全国を支配するための律令がつけられた。これを何というか。 [ ]
- (7) 律令制度の時代に、6歳以上の男女にあたえられた田を何というか。 [ ]
- (8) 天武天皇のころにつくられた、日本で最初の銅銭と考えられている貨幣を何というか。 [ ]

# 練成問題

1 右の略年表を見て、次の問いに答えなさい。

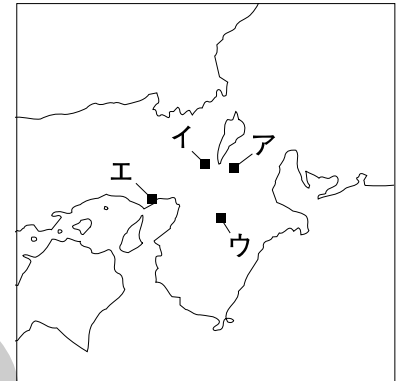
- (1) 下線あについて、次の問いに答えなさい。
- ① 聖徳太子は推古天皇の（ ）となって政治を行った。（ ）にあてはまる語句を答えなさい。 [ ]
- ② 次の資料は、このころ遣隋使として派遣された人物が隋に持参した国書の部分要約である。この人物はだれか。 [ ]

### 遣隋使の手紙

太陽の昇る東方の国の天子が、手紙を太陽の沈む西方の天子に差し上げます。お元気ですか。

- ③ 聖徳太子が十七条の憲法を定めた目的を簡単に答えなさい。 [ ]
- ④ 聖徳太子の時代の政治の中心地として最も適当なものを右の略地図中から1つ選び、記号で答えなさい。 [ ]

- (2) 下線いについて、次の問いに答えなさい。
- ① 大化の改新の中心人物であり、のちに即位して天皇となった人物はだれか。 [ ]
- ② 大化の改新がおこったころの中国について述べた文として最も適当なものを次から1つ選び、記号で答えなさい。
- ア 漢が、朝鮮半島に楽浪郡を置いた。
- イ 魏・呉・蜀の3つの国に分かれ、たがいに争っていた。
- ウ 唐ができ、都の長安が栄えていた。
- エ 秦ができ、万里の長城が築かれた。 [ ]



- (3) 下線うについて述べた文として最も適当なものを次から1つ選び、記号で答えなさい。
- ア この争乱に勝利した大友皇子が即位して、天武天皇となった。
- イ この争乱に勝利した大海人皇子が即位して、天武天皇となった。
- ウ この争乱に勝利した大友皇子が即位して、天智天皇となった。
- エ この争乱に勝利した大海人皇子が即位して、天智天皇となった。 [ ]

- (4) 下線えについて、次の問いに答えなさい。
- ① 中央には神祇官と太政官が置かれた。これに関して、太政官のもとに置かれた省（役所）の数はいくつか。 [ ]
- ② ある地方には、その地方の取りまとめなどにあたる大宰府が置かれた。大宰府が置かれた地方はどこか。 [ ]

- (5) 白村江の戦いがおこった時期を年表中のア～エから1つ選び、記号で答えなさい。 [ ]

年代	できごと
6～7世紀	あ <u>聖徳太子が政治を行う。</u> ア
645年	い <u>大化の改新が開始される。</u> イ
672年	う <u>壬申の乱がおこる。</u> ウ
676年	新羅が朝鮮半島を統一する。 エ
701年	え <u>大宝律令が制定される。</u>

## 1 次の問いに答えなさい。

- (1) 推古天皇の摂政となり、天皇中心の政治をすすめた人物はだれか。 [ ]
- (2) (1)の人物が小野妹子らを派遣した使節を何というか。 [ ]
- (3) 中大兄皇子らが中心となって行った政治の改革を何というか。 [ ]
- (4) 壬申の乱に勝利した大海人皇子は、即位して何という天皇になったか。 [ ]
- (5) 701年に、唐の律令にならって制定された法令は何か。 [ ]
- (6) 律令制度の時代、九州地方の行政や外交などのために置かれた役所は何か。 [ ]
- (7) 律令制度の時代に、戸籍にもとづいて口分田をあたえ、死ねば国に返させたしくみを何というか。 [ ]

## 2 右の略年表を見て、次の問いに答えなさい。

- (1) 下線あについて、次の問いに答えなさい。
- ① 次の資料は、聖徳太子によって定められた法令の部分要約である。この法令の名を答えなさい。

- 一 和を大切にし、人といさかいをせぬようにせよ。
- 二 あつく仏教を信仰せよ。
- 三 天皇の命令を受けたら、必ずそれに従え。

[ ]

- ② 聖徳太子が冠位十二階の制度を定めた目的を簡単に答えなさい。

[ ]

- (2) 下線いに関して、この政治改革や、この政治改革後の動きについて述べた文として**不適当なもの**を次から1つ選び、記号で答えなさい。

- ア この改革のさい、日本最初の年号（元号）である大化が定められた。
- イ この改革のさい、土地と人民を公のものとするという方針が示された。
- ウ この改革ののち、中大兄皇子は、朝鮮半島に兵を送り、白村江の戦いで勝利をおさめた。
- エ 中大兄皇子は、のちに即位して天智天皇となった。 [ ]

- (3) 下線うに関して、律令にもとづく政治について述べた文として**不適当なもの**を次から1つ選び、記号で答えなさい。

- ア 中央の政治のしくみとして2つの官と8つの省が設けられた。
- イ 九州地方の行政をつかさどる役所として大宰府が置かれた。
- ウ 地方は国・郡・里と呼ばれる行政単位に分けられていた。
- エ 中央の貴族が<sup>くにのみやつこ</sup>国造に任命され、各地をおさめた。 [ ]

- (4) 壬申の乱がおこった時期として最も適当なものを年表中の㉗～㉙から1つ選び、記号で答えなさい。 [ ]

年代	できごと
6世紀末	あ <u>聖徳太子が政治を始める。</u> ㉗
645	い <u>中大兄皇子らが政治の改革を始める。</u> ㉘
701	う <u>大宝律令が制定される。</u> ㉙
710	平城京に都が移される。