

① ヨーロッパ世界の成立* …………… 4	5 近代市民革命 …………… 38
② ヨーロッパ人の来航と全国統一* …… 8	1 イギリスの市民革命
1 江戸幕府の成立と鎖国 …………… 12	2 アメリカの独立
1 江戸幕府の政治	3 フランス革命
2 江戸時代の身分制度	6 産業革命と欧米諸国の発展 …………… 42
3 幕府の対外政策	1 産業革命
2 産業の発達と元禄文化 …………… 16	2 19世紀の欧米諸国
1 産業の発達	3 欧米諸国のアジア進出
2 元禄文化	7 開国と江戸幕府の滅亡 …………… 46
3 幕府政治の乱れと幕政の改革 …… 20	1 開国と貿易の開始
1 幕府政治の乱れと社会の変化	2 倒幕の動き
2 幕政の改革	3 江戸幕府の滅亡
4 化政文化と外国船の接近 …………… 24	◆ 5～7のまとめの問題 …………… 50
1 外国船の接近と天保の改革	◆ 探究問題 5～7のまとめ …… 58
2 新しい学問と化政文化	8 明治維新 …………… 60
◆ 1～4のまとめの問題 …………… 28	1 明治維新
◆ 探究問題 1～4のまとめ …… 36	2 明治初期の外交と国境の確定
	9 富国強兵と文明開化 …………… 64
	1 富国強兵
	2 文明開化

\*基本単元①・②は進度にあわせて学習してください。

<b>10</b> 自由民権運動 …………… 68	<b>15</b> 第二次世界大戦と日本 …………… 98
1 明治政府への不満	1 世界恐慌
2 自由民権運動	2 日本の中国侵略
	3 第二次世界大戦
<b>11</b> 大日本帝国憲法と帝国議会 …………… 72	<b>16</b> 第二次世界大戦後のようす …………… 102
1 憲法制定	1 敗戦後の日本
2 帝国議会	2 東西の対立
	3 日本の国際社会への復帰
<b>12</b> 日清・日露戦争 …………… 76	<b>17</b> 現代の世界と日本 …………… 106
1 日清・日露戦争	1 高度経済成長
2 条約改正, 韓国・中国との関係	2 冷戦後の世界と日本
3 日本の産業革命と近代文化	
◆ 8～12のまとめの問題 …………… 80	◆ 13～17のまとめの問題 …………… 110
◆ 探究問題 8～12のまとめ …………… 88	◆ 探究問題 13～17のまとめ …………… 118
<b>13</b> 第一次世界大戦と日本 …………… 90	◆ 年表で整理 …………… 120
1 第一次世界大戦	◆ 総まとめ年表 …………… 124
2 日本の参戦とアジアの動き	
<b>14</b> 大正デモクラシーと大衆文化 …………… 94	
1 大正デモクラシー	
2 大正時代の生活と文化	

#### 写真提供

アフロ, 毎日新聞社, 東京都江戸東京博物館所蔵 Image: 東京都歴史文化財団イメージアーカイブ, 神戸市立博物館所蔵 Photo: Kobe City Museum/DNPartcom, 東京国立博物館蔵 Image: TNM Image Archives, 徳川美術館所蔵 © 徳川美術館イメージアーカイブ/DNPartcom, 宮内庁三の丸尚蔵館所蔵, 『國女歌舞妓繪詞』(京都大学附属図書館所蔵), 国立国会図書館所蔵, 国立公文書館所蔵, 和田英作「憲法発布式」聖徳記念絵画館所蔵, 長崎歴史文化博物館所蔵, 東京大学史料編纂所所蔵模写, 東京大学史料編纂所所蔵, 岐阜県白山文化博物館, 福井県文書館画像提供, 和歌山市立博物館

## 1 イスラム世界の成立

- (1) **イスラム帝国** ムハンマドの後継者が、北アフリカから中央アジアにかけての広い地域を支配するイスラム帝国を築いた。
- (2) **イスラム商人の活躍** シルクロード（絹の道）などの陸路と、地中海やインド洋などの海路を通商路に利用した。中国から絹織物や陶磁器、東南アジアから香辛料、インドから綿布などを手に入れて中継貿易で繁栄した。ヨーロッパとアジアをつなぐ役割を果たした。

## 2 中世のヨーロッパ

- (1) **カトリック教会** 最高指導者のローマ教皇（法王）は、西ヨーロッパ各国の王を従えるほどの力を持った。ビザンツ帝国では正教会が力を持った。
- (2) **十字軍** ローマ教皇の呼びかけで、聖地エルサレムをイスラム教勢力から取り戻そうとする十字軍がたびたび送られた。貿易がさかんになり、商工業が発達して、イスラム世界から新しい文化がもたらされた。

## 3 ヨーロッパ世界の発展

- (1) **ルネサンス（文芸復興）** 北イタリアを中心に、古代ギリシャ・ローマの文芸を見直そうとする動きがおこった。キリスト教のしきたりにとらわれずに、自由に考え表現しようとした。天文学や地理学の発達により、地動説や地球球体説がとなえられた。
- (2) **大航海時代** ヨーロッパの人々が、イスラム商人を通さずにアジアの香辛料や絹などを手に入れるためや、キリスト教を広めるため、探検が行われた。

## ●コロンブス 西回りでインドをめざし、西インド諸

島に到達した。のちに、アメリカ大陸の存在が知られるようになり、南北アメリカにスペインやポルトガルの植民地がつくられた。鉱山や農園で働かせるため、アフリカの人々が奴隷として送られた。

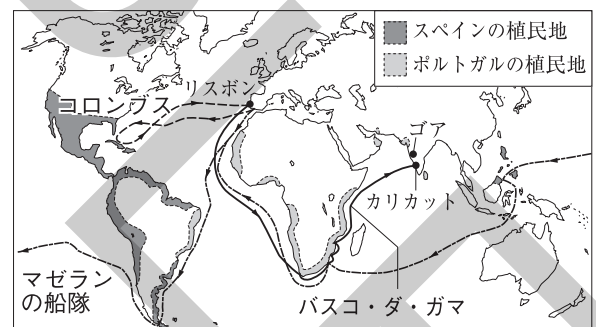
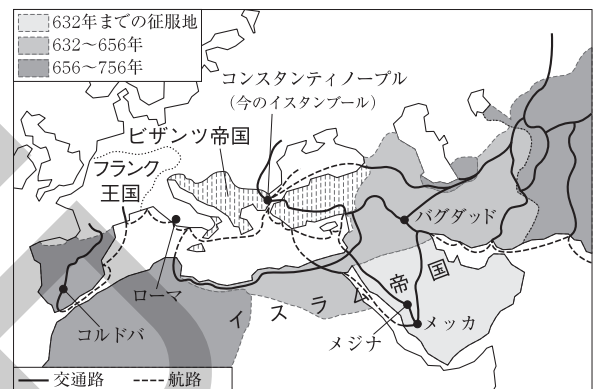
## ●バスコ・ダ・ガマ アフリカ南端の喜望峰を回ってインドに到達した。

●マゼラン 世界一周をめざし、船隊が世界一周に成功した。地球が球体であることが確かめられた。

- (3) **宗教改革** ドイツのルターは、ローマ教皇の免罪符の販売に抗議し、信仰のよりどころは聖書であると主張した。ルターやカルバンらの改革を支持する人々はプロテスタントと呼ばれる。カトリック教会の内部から教会を立て直そうとしたロヨラやザビエルらはイエズス会をつくり、海外への布教を進めた。

年代	世界のできごと	日本
610 ごろ	ムハンマドがイスラム教を開く。	飛鳥
661	イスラム帝国が成立する。	奈良
11世紀ごろ	ローマ教皇の権力が強まる。	平安
1096	第1回十字軍の遠征が始まる。	鎌倉
14世紀	イタリアでルネサンスが始まる。 <b>大航海時代</b>	
1492	コロンブスがアメリカに到達する。	
1498	バスコ・ダ・ガマがインドに到達する。	室町
1517	ルターが宗教改革を始める。	
1519	マゼランの船隊が世界一周に出発する。(～22)	

■イスラム帝国の広がり



▲ローマ教皇から破門され、破門状を焼くルター

## 1 | イスラム世界の成立

- (1) 610年ごろ、ムハンマドがアラビア半島で開いた宗教は何か。 [ ]
- (2) ムハンマドの後継者は、北アフリカから中央アジアにかけての広い地域を支配する国を築いた。この国を何というか。 [ ]
- (3) イスラム商人がアジアとヨーロッパの通商路として利用していた陸路は何か。カタカナで答えなさい。 [ ]

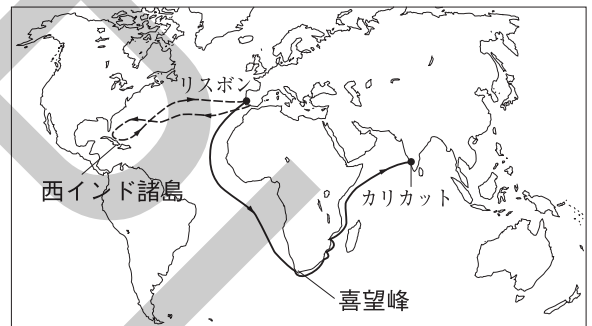
## 2 | 中世のヨーロッパ

- (1) カトリック教会の中心として、中世のヨーロッパに強い影響力を持った教会はどこにあったか。 [ ]
- (2) キリスト教の聖地エルサレムを取り戻すために、1096年から派遣された遠征軍を何というか。 [ ]

## 3 | ヨーロッパ世界の発展

- (1) 14世紀ごろ北イタリアからおこった、キリスト教のしきたりにとらわれずに、自由に考え表現しようとする動きを何というか。カタカナで答えなさい。 [ ]
- (2) 大航海時代に関して、右の略地図を参考にして、次の問いに答えなさい。

- ① ヨーロッパの人々が、肉料理などに必要なため、アジアから直接手に入れようとしたものは何か。 [ ]



- ② 西回りでインドをめざして1492年に西インド諸島に到達し、アメリカ大陸の存在が知られることにつながった探検家はだれか。 [ ]

- ③ アフリカ南端の喜望峯を回ってインドに到達する航路を開いたのはだれか。 [ ]

- ④ 世界一周をめざし、船隊が世界一周に初めて成功したのはだれか。 [ ]

- (3) 「人は信仰によってのみ救われる」と主張して、1517年にドイツで宗教改革を始めたのはだれか。 [ ]

- (4) (3)の人物はカトリック教会による免罪符の販売を批判し、( )をドイツ語に<sup>ほんやく</sup>翻訳して人々から支持された。( )にあてはまる最も適切な語句を答えなさい。 [ ]

- (5) 宗教改革で説かれた、キリスト教の新しい教えを支持する人々を、カトリックに対して何というか。 [ ]

- (6) 従来のカトリック教会の内部から教会を立て直そうとして、ロヨラやザビエルらがつくって海外での布教を進めた組織は何か。 [ ]



# 練成問題

## 1 右の略年表を見て、次の問いに答えなさい。

□(1) 下線あについて、次の問いに答えなさい。

▶□① このころの日本のできごととして最も適当なものを次から1つ選び、記号で答えなさい。

- ア 元が2度にわたって日本へ襲来した。
- イ 聖徳太子が小野妹子を隋へ派遣した。
- ウ 東大寺に大仏がつくられた。
- エ 藤原氏の摂関政治が行われた。

[                    ]

年代	できごと
7世紀初め	あ <u>ムハンマドがイスラム教を開く。</u>
1096	キリスト教の聖地を取り戻すため、い <u>十字軍</u> の遠征が始まる。
14世紀	イタリアでう <u>ルネサンス</u> が始まる。
1498	え <u>バスコ・ダ・ガマがインドに到達する。</u>
1517	お <u>ルターが従来の教会のあり方を批判する。</u>
1519	( か ) が世界一周に出発する。

□② ムハンマドが生まれたメッカは、現在、どの国に位置しているか。 [                    ]

□(2) 下線いが失敗に終わった影響を述べた文として**不適当なもの**を次から1つ選び、記号で答えなさい。

- ア ローマ教皇の力が強まり、国王をしのぐほどになった。      イ 東西の貿易がさかんになった。
- ウ 商工業の発達によって市民が力を持つようになった。      エ 北イタリアなどで都市が発達した。

[                    ]

□(3) 下線うについて、次の問いに答えなさい。

□① どの地域の古代文明を復興しようとしたか。最も適当なものを次から1つ選び、記号で答えなさい。

- ア インドや中国      イ 日本や中国      ウ エジプトやトルコ      エ ギリシャやローマ

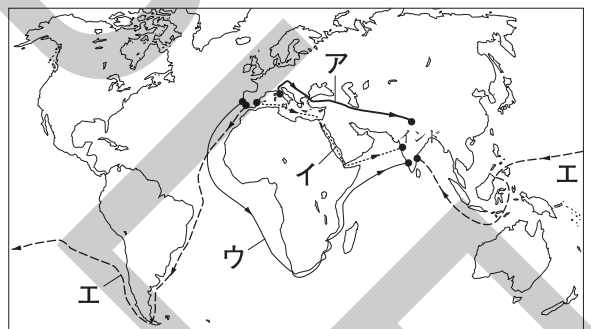
[                    ]

□② ルネサンスでは、どのように考え表現しようとしたか。「キリスト教」という語句を用いて簡単に答えなさい。

[                    ]

□(4) 下線えのコースとして最も適当なものを右の略地図中から1つ選び、記号で答えなさい。

[                    ]



□(5) 下線おについて、次の問いに答えなさい。

□① このようにしてキリスト教の教会のあり方を正そうとした動きを何というか。**漢字4字**で答えなさい。 [                    ]

□② ルターらによるキリスト教の新しい教えを支持する人々をプロテスタントというのに対して、従来のローマ教皇を最高指導者とする教会を何というか。 [                    ]

□③ ルターについて述べた文として最も適当なものを次から1つ選び、記号で答えなさい。

- ア キリスト教を立て直すためにイエズス会を結成した。
- イ 信仰のよりどころは聖書であるとして、聖書の翻訳に力を注いだ。
- ウ ローマを中心とするイタリアでキリスト教を正そうとする運動を続けた。
- エ 教会の資金不足を解消するため、免罪符の販売に力を入れた。

[                    ]

□(6) ( か ) にあてはまる人名を答えなさい。 [                    ]

[                    ]

## 1 次の問いに答えなさい。

- (1) 7世紀にムハンマドが開いた教えに従う人々によって成立し、北アフリカから中央アジアにかけて支配した国は何か。 [ ]
- (2) 中世ヨーロッパで、各国の王を従えるほど強い影響力をもった、カトリック教会の最高指導者の地位を何というか。 [ ]
- (3) 14世紀ごろから、イタリアから西ヨーロッパにかけて、キリスト教の教えにとらわれない、人間らしい個性や自由を求める文化の動きがおこった。古代ギリシャやローマの文芸を復興しようとしたこの動きをカタカナで何というか。 [ ]
- (4) コロンブスは、西回りに( )をめざしてカリブ海の島に到達し、そこを( )と誤解したことから、この島々は西( )諸島と呼ばれている。( )に共通してあてはまる語句を答えなさい。 [ ]
- (5) カトリック教会の立て直しをめざしてつくられ、ヨーロッパ以外の地域に宣教師を送って信仰を広めようとした組織は何か。 [ ]

## 2 次の文章を読んで、あとの問いに答えなさい。

中世のヨーロッパでは、あカトリック教会が大きな力を持っていた。しかし、いイスラム教勢力から聖地エルサレムを取り戻そうとする遠征軍の失敗からローマ教皇の力が弱まり、各国の王や市民が力を持つようになった。

う宗教改革が始まると、カトリック教会は立て直しのために、海外にキリスト教を広めようとした。

え15世紀から16世紀にかけて、スペインやポルトガルなどは、新しい航路を求めて探検家を送った。

- (1) 右の図は、下線あを中心とするサン・ピエトロ大聖堂を表している。  
この教会が位置する、世界最小の国の名を答えなさい。



- [ ]
- (2) 下線いに関して、イスラム教が開かれた地域として最も適当なものを次から1つ選び、記号で答えなさい。  
ア ヨーロッパ    イ 西アジア    ウ 東アジア    エ 南アメリカ [ ]
- (3) 下線うについて述べた文として最も適当なものを次から1つ選び、記号で答えなさい。  
ア イタリアでザビエルが始めた。    イ イタリアでルターが始めた。  
ウ ドイツでザビエルが始めた。    エ ドイツでルターが始めた。 [ ]
- (4) 下線えについて、次の問いに答えなさい。
  - ① コロンブスについて述べた文として最も適当なものを次から1つ選び、記号で答えなさい。  
ア 『世界の記述（東方見聞録）』を著し、その中で日本のことをヨーロッパの人々に紹介した。  
イ 船隊が世界一周に成功し、南アメリカ大陸南端には、この人物の名がついた海峡がある。  
ウ アメリカ大陸の存在がヨーロッパに知られるきっかけをつくった。  
エ 地球が球体であるという説を発表した。 [ ]
  - ② スペインやポルトガルが、積極的にアジアへ航海した目的の1つとして、キリスト教を広めることがあげられる。その他の大きな目的として最も適当な目的を簡単に答えなさい。  
[ ]

## 1 ヨーロッパ人の来航

- (1) **鉄砲の伝来** ポルトガル人を乗せた中国の船が**種子島**（鹿児島県）に流れ着き、鉄砲が伝わった。堺や国友などで鉄砲がつくられ、各地に広がった。
- (2) **キリスト教の伝来** イエズス会の宣教師**フランシスコ・ザビエル**が鹿児島に上陸し、キリスト教が伝わった。西日本を中心に**キリシタン**（信者）が増加した。
- (3) **南蛮貿易** スペイン人・ポルトガル人は**南蛮人**と呼ばれ、平戸・長崎などで日本と貿易を行った。日本は、中国の生糸や絹織物・ヨーロッパの鉄砲や火薬・毛織物などを輸入し、おもに銀を輸出した。医学・天文学・活版印刷なども伝わり、カステラなどの外来語ももたらされた（**南蛮文化**）。

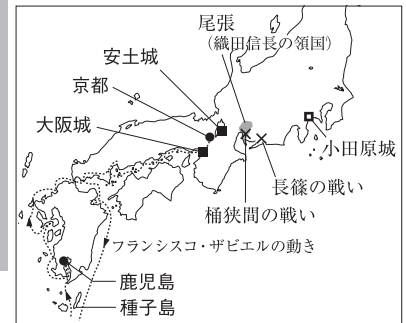
年代	できごと	中国
1543	日本に初めて鉄砲が伝えられる。	明
1549	ザビエルがキリスト教を伝える。 <b>織田信長</b>	
1560	桶狭間の戦いがおこる。	
1573	室町幕府がほろぶ。	
1575	長篠の戦いがおこる。	
1582	本能寺の変がおこる。 <b>豊臣秀吉</b>	
1582	太閤検地が始まる。	
1588	刀狩令が出される。	
1590	豊臣秀吉が全国を統一する。	
1592	朝鮮出兵が始まる。	

## 2 全国統一

- (1) **織田信長** 尾張（愛知県）の戦国大名であった。
- **信長の統一事業** 1573年に將軍**足利義昭**を追放して室町幕府をほろぼした。堺の自治をうばい、延暦寺を焼きうちにして、大阪の本願寺も攻めた。**長篠の戦い**で、鉄砲を有効に使用して**武田氏**の騎馬隊をやぶった。**本能寺の変**〔家臣の**明智光秀**に攻められた〕で自害した。
  - **信長の政策** 統一の拠点として**安土城**を築いた。商工業を發展させるために、安土の城下などで**楽市・楽座**〔市場の税を免除し、座の特権を廃止する政策〕を実施し、関所を廃止した。
- (2) **豊臣秀吉** 明智光秀をたおし、信長の後継者となった。
- **豊臣秀吉の統一事業** 統一の拠点として**大阪城**を築いた。朝廷から**関白**に任じられ、朝廷の権威を利用した。1590年に小田原（神奈川県）の北条氏をほろぼして全国統一を完成した。
  - **太閤検地** 全国の田畑の面積・収穫高・耕作者を調べて**検地帳**に記入した。長さ・面積などの単位を統一し、収穫量を**石高**で表した。
  - **刀狩** 刀狩令を出して、農民から刀・弓・やりなどの武器を取り上げた。太閤検地や刀狩などの政策によって、武士と農民の身分の区別を明確にした（**兵農分離**）。
  - **朝鮮出兵** 明を征服しようとして朝鮮へ2度にわたって大軍を送った。**李舜臣**の水軍の活躍や明の援軍、朝鮮の民衆（義兵）の抵抗などで失敗に終わった。



▲フランシスコ・ザビエル



## 刀狩令（部分要約）

- 一 諸国の百姓が、刀・脇ざし・弓・やり・鉄砲そのほかの武具を持つことをかたく禁止する。

## 3 桃山文化

大名や大商人の活力を反映して、豪華で雄大な文化が生まれた。天守のそびえる城がつくられ、**狩野永徳**・**狩野山楽**らの障壁画（ふすま絵）や屏風が飾られた。**千利休**は茶の湯でわび茶の作法を完成した。**出雲**の**阿国**の**かぶき踊り**が人気となり、江戸時代には歌舞伎に発展した。

▲狩野永徳の唐獅子図屏風

## 1 ヨーロッパ人の来航

- (1) 1543年に、ポルトガル人を乗せた中国船が流れ着き、日本に初めて鉄砲が伝えられた島はどこか。 [ ]
- (2) 1549年に鹿児島に上陸してキリスト教を伝えた、イエズス会の宣教師はだれか。 [ ]
- (3) 九州の<sup>おおむら</sup>大村・<sup>ありま</sup>有馬・<sup>おおとも</sup>大友の3氏など、キリスト教の信者となった大名のことを何大名というか。 [ ]
- (4) 日本とスペイン・ポルトガルとの貿易がさかんになると、医学や天文学、活版印刷などが伝わり、カステラなどの外来語ももたらされた。このようにスペイン・ポルトガルの影響を強く受けた文化を何文化というか。 [ ]

## 2 全国統一

- (1) 1573年に織田信長が第15代将軍を追放して室町幕府はほろんだ。この将軍はだれか。 [ ]
- (2) 織田信長が焼きうちした、天台宗の中心となっている比叡山にある寺院は何か。 [ ]
- (3) 1582年に、織田信長が家臣の明智光秀に攻められて自害したできごとを何というか。 [ ]
- (4) 織田信長が、安土の城下などで、市場の税を免除し、座の特権を廃止した政策を何というか。 [ ]
- (5) 1590年に、豊臣秀吉は小田原を本拠とする何氏をほろぼして全国統一を達成したか。 [ ]
- (6) 豊臣秀吉が行った検地で用いられた、田畑の収穫量の単位は何か。 [ ]
- (7) 豊臣秀吉が、太閤検地や刀狩などの政策によって、武士と農民の身分の区別を明確にしたことを何というか。 [ ]

## 3 桃山文化

- (1) 桃山文化が栄えた時代には、壮大な城が多くつくられた。このころにつくられた城の、高くそびえる建物をいっばんに何というか。 [ ]
- (2) 城のふすまや壁、屏風などに華やかな障壁画をえがき、代表作に「唐獅子図屏風」があるのはだれか。 [ ]
- (3) 豊臣秀吉につかえ、質素なわび茶を完成させて茶道を大成した人物はだれか。 [ ]
- (4) 右の図は、桃山文化が栄えたころのかぶき踊りのようすを表している。このかぶき踊りを始めた人物はだれか。 [ ]



# 練成問題

## 1 右の略年表を見て、次の問いに答えなさい。

□(1) 下線あに関して、右下の図は、ある都市での鉄砲の生産のようすを表している。商工業者による自治が行われたことでも知られる、この都市の名を答えなさい。

[ ]

□(2) 下線いについて、ザビエルが最初に上陸してキリスト教を伝えた場所を次から1つ選び、記号で答えなさい。

ア 長崎    イ 高知

ウ 神戸    エ 鹿児島

[ ]

□(3) 下線うで織田信長にやぶれた人物として最も適当なものを次から1人選び、記号で答えなさい。

ア 今川義元    イ 徳川家康    ウ 武田勝頼    エ 上杉謙信

[ ]

□(4) 下線えをおこし、織田信長を自害に追いこんだのはだれか。

[ ]

□(5) 下線おについて、次の問いに答えなさい。

□① この人物が建てた安土城の位置として最も適当なものを右の略地図中から1つ選び、記号で答えなさい。

[ ]

□② この人物が行ったことについて述べた文として**不適当なもの**を次から1つ選び、記号で答えなさい。

ア 全国統一のさまたげになるとして、キリスト教を禁止した。

イ 商工業をさかんにするために関所を廃止した。

ウ 一向一揆をおさえるため、大阪の本願寺を攻めた。

エ 足利義昭を追放して室町幕府をほろぼした。

[ ]

□(6) 下線かについて、次の問いに答えなさい。

□① 右の資料は、この人物が出した法令である。この法令の名を答えなさい。

[ ]

●□② このころ、各地の大名が検地を行ったが、豊臣秀吉は初めて全国同じ基準で検地を行い、秀吉が行った検地はとくに太閤検地といわれる。検地とはどのようなことか、簡単に説明しなさい。

[ ]

□(7) 年表で示した時代の文化について、次の問いに答えなさい。

□① この時代には、新興の大名や商人の活力を反映して、豪華で雄大な文化が栄えた。この文化を何とよぶか。

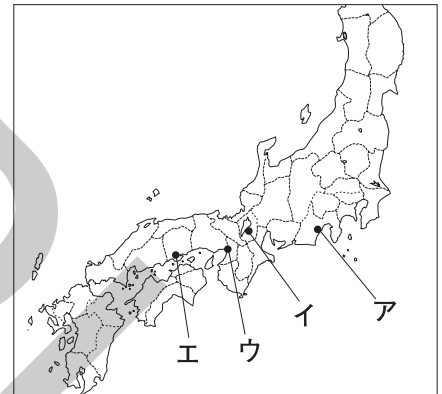
[ ]

□② この時代に活躍した千利休と最も関係が深い語句を次から1つ選び、記号で答えなさい。

ア かぶき踊り    イ 水墨画    ウ 茶の湯    エ 浄瑠璃

[ ]

年代	できごと
1543	あ 日本に初めて鉄砲が伝えられる。
1549	い ザビエルによってキリスト教が伝えられる。
1575	う 長篠の戦いがおこる。
1582	え 本能寺の変でお織田信長が自害する。
1590	か 豊臣秀吉が全国を統一する。



— 諸国の百姓が、刀・脇ざし・弓・やり・鉄砲そのほかの武具を持つことをかたく禁止する。



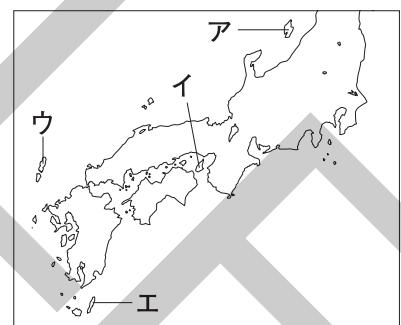
## 1 次の問いに答えなさい。

- (1) 1543年、種子島に流れ着いたポルトガル人が伝え、合戦で大量に使われたことが戦国の世を早く終わらせたとも考えられているものは何か。 [ ]
- (2) 日本にキリスト教を伝えたフランシスコ・ザビエルは、プロテスタントの動きに対抗して布教活動に力をいれていた組織に所属していた。この組織は何か。 [ ]
- (3) 尾張の戦国大名で、全国統一をめざしたが、本能寺の変で家臣に攻められて自害した人物はだれか。 [ ]
- (4) 豊臣秀吉が、はかりやますを統一して、全国同じ基準で行った検地を何というか。 [ ]
- (5) 豊臣秀吉は、明を征服しようと考えて、16世紀後半に2度にわたって、どこへ出兵したか。 [ ]
- (6) 桃山文化が栄えたころに、出雲の阿国が始め、人気となった芸能は何か。 [ ]

## 2 右の略年表を見て、次の問いに答えなさい。

- (1) 下線あの島を右下の略地図中から1つ選び、記号で答えなさい。 [ ]
- (2) 下線いのあと、スペイン人やポルトガル人がたびたび日本を訪れ、貿易が行われた。これを何貿易というか。 [ ]
- (3) うの期間におこったできごとを、年代の古い順に左から並べたものを次から1つ選び、記号で答えなさい。  
 ア 桶狭間の戦い → 長篠の戦い → 本能寺の変  
 イ 桶狭間の戦い → 本能寺の変 → 長篠の戦い  
 ウ 長篠の戦い → 本能寺の変 → 桶狭間の戦い  
 エ 長篠の戦い → 桶狭間の戦い → 本能寺の変 [ ]

年代	できごと
1543	あ <u>種子島</u> に鉄砲が伝えられる。
1549	い <u>ザビエル</u> によってキリスト教が伝えられる。
	↑ ↓
1588	え <u>刀狩令</u> が出される。
1590	豊臣秀吉が全国を統一する。



- (4) 下線えの法令が出された理由を簡単に答えなさい。  
[ ]

- (5) 年表に示された時代に栄えた文化について述べた文として最も適当なものを次から1つ選び、記号で答えなさい。  
 ア このころ大名や商人が力を持っていたことを反映して、簡素で気品ある文化が栄えた。  
 イ このころ大名や商人が力を持っていたことを反映して、豪華で雄大な文化が栄えた。  
 ウ このころ貴族が力を持っていたことを反映して、国際色豊かな文化が栄えた。  
 エ このころ貴族が力を持っていたことを反映して、優美で華やかな文化が栄えた。 [ ]



# 江戸幕府の成立と鎖国

## 1 江戸幕府の政治

### (1) 江戸幕府の成立

1600年、徳川家康(東軍)が関ヶ原の戦いで石田三成ら豊臣方(西軍)をやぶり、1603年に征夷大將軍に任命された。

(2) 幕藩体制 將軍と大名〔その領地と政治組織を藩という〕が主従関係を結んで全国を支配した。

●幕府のしくみ 老中が政治の運営にあたった。幕領〔幕府直轄地〕と旗本・御家人の領地を合わせると全国の石高の4分の1を占めた。

●大名の統制 親藩〔徳川氏の親族〕・譜代大名〔関ヶ原の戦い以前から徳川氏に従う〕・外様大名〔関ヶ原の戦い以後に徳川氏に従う〕。武家諸法度が定められ、第3代將軍徳川家光のとき、参勤交代の制度〔大名を1年おきに江戸と領地に住まわせる制度〕が加えられた。

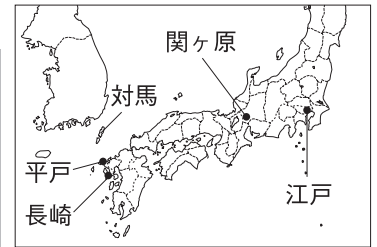
#### 武家諸法度

- 新しく城をかまえることはかたく禁止する。
- かつてに婚姻関係を結んではならない。

(3) 朝廷・公家の統制 禁中並公家諸法度が定められた。

年代	できごと	中国
1600	関ヶ原の戦いがおこる。	明
1603	徳川家康が征夷大將軍となる。	
1612	幕領でキリスト教が禁止される。	
1615	大阪夏の陣で豊臣氏がほろびる。武家諸法度が出される。	
1624	スペイン船の来航が禁止される。	
1635	日本人の海外渡航と帰国が禁止される。参勤交代の制度が定められる。	
1637	島原・天草一揆がおこる。(～38年)	
1639	ポルトガル船の来航が禁止される。	
1641	平戸のオランダ商館が出島に移される。 → 鎖国の体制が固まる。	

▼徳川家康



## 2 江戸時代の身分制度

武士は、名字・帯刀などの特権をもった。

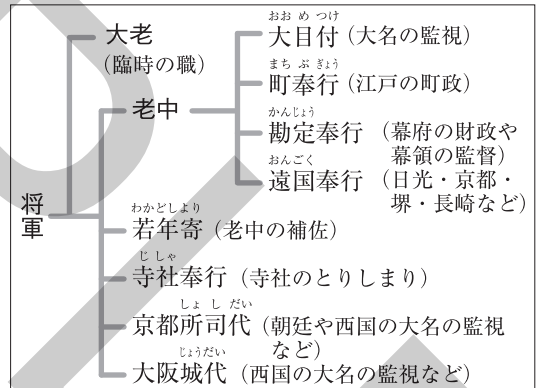
(1) 農民の生活 庄屋(名主)・組頭・百姓代の村役人が村の運営にあたった。五人組の制度で、年貢の納入や防犯に連帯責任を負った。幕府は、触書などで農民の生活を管理。

#### 農民への触書

- 雑穀をつくって食べ、米を多く食いつぶさぬようにせよ。
- 衣類については、麻ともめん以外のものは使ってはならぬ。

(2) 町人の生活 名主などの町役人が町の運営にあたった。

#### 江戸幕府のしくみ



## 3 幕府の対外政策

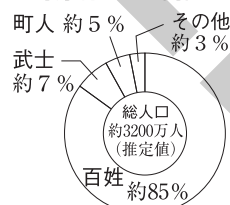
(1) 朱印船貿易 家康が商人や西国の大名に朱印状をあたえて貿易を許可した。タイのアユタヤなどに日本町ができた。

(2) 禁教と貿易の統制 家康は1612年に幕領、翌年には全国に禁教令を出した。1637年に、農民やキリスト教徒らによる島原・天草一揆(島原の乱)がおこり、幕府は絵踏や宗門改を始めた。

(3) 鎖国の完成 ポルトガル船の来航を禁止し、オランダ商館を平戸から長崎の出島へ移した。

(4) 鎖国中の外交 キリスト教の布教を行わないオランダ・中国(明・清)とのみ長崎で貿易を行う。朝鮮とは対馬藩を通じて貿易を行い、將軍の代わりごとに使節(朝鮮通信使)が来日した。琉球王国は薩摩藩が支配し、將軍や琉球国王の代わりごとに使節が来日した。蝦夷地では、松前藩がアイヌと交易を行った。

#### 身分別の人口割合



▲長崎の出島

## 1 江戸幕府の政治

- (1) 1600年、徳川家康（東軍）が石田三成ら豊臣方（西軍）をやぶった、「天下分け目の戦い」といわれる戦いを何というか。 [ ]
- (2) 江戸時代に、大名が支配した領地とその政治を行う組織を何というか。 [ ]
- (3) 将軍の下に複数名置かれ、実際に政治を行う責任者となっていた役職を何というか。 [ ]
- (4) 大名を3つに分類するとき、次の説明にあてはまるものをそれぞれ何というか。
- ① 徳川氏の親族 [ ]
- ② 古くから徳川氏に従う [ ]
- ③ 「天下分け目の戦い」といわれる1600年の戦い以後に徳川氏に従う [ ]
- (5) 武家諸法度に加えられた、大名の妻子を江戸に置かせ、大名に領地と江戸を往復させた制度を何というか。 [ ]

## 2 江戸時代の身分制度

- (1) 江戸時代、庄屋（名主）・（ ）・百姓代の村役人が村の運営にあたった。（ ）にあてはまる最も適当な語句を答えなさい。 [ ]
- (2) 百姓に、年貢の納入や防犯に連帯責任を負わせた制度を何というか。 [ ]

## 3 幕府の対外政策

- (1) 徳川家康は、はじめは貿易の発展につとめ、貿易を許可した。貿易のために、大名や商人に海外渡航を許可する内容の（ ）をあたえた。（ ）にあてはまる証書の名を答えなさい。 [ ]
- (2) 1637年に、キリスト教徒への弾圧やきびしい年貢に反対して、九州の農民らがおこした一揆を何というか。 [ ]
- (3) キリスト教の禁止を徹底するために、キリスト教徒でなく仏教徒であることを寺院に証明させたことを何というか。 [ ]
- (4) 鎖国中も、長崎に限って貿易を許されたヨーロッパの国はどこか。 [ ]
- (5) 右の図は、鎖国中も、将軍の代がわりごとなどに朝鮮から日本をおとずれたお祝いのお使節のようすを表している。この使節を何というか。 [ ]
- (6) 蝦夷地で、アイヌの人々と交易を行ったのは何藩か。 [ ]

# 練成問題

1 右の略年表を見て、次の問いに答えなさい。

□(1) 下線あに関して、1603年のできごととして最も適当なものを次から1つ選び、記号で答えなさい。

- ア 関ヶ原の戦いで徳川方(東軍)が豊臣方(西軍)をやぶる。
- イ 徳川家康が征夷大將軍となる。
- ウ 徳川家康が江戸城に移る。
- エ 豊臣氏がほろぶ。 [ ]

□(2) ( い ) には、江戸幕府が大名を統制するために出した法令があてはまる。これについて、次の問いに答えなさい。

□① この法令の名を答えなさい。 [ ]

□② 右の地図中のア～ウは、親藩・譜代大名・外様大名のいずれかの領地の分布を表している。外様大名にあてはまるものを1つ選び、記号で答えなさい。 [ ]

□(3) 下線うについて、次の問いに答えなさい。

□① この制度が定められたときの江戸幕府の将軍の名を答えなさい。 [ ]

□② これはどのような制度か、解答欄の書き出しにつづけて簡単に説明しなさい。

[大名に1年おきに

□(4) 下線えについて、天草は現在のどの都道府県に位置しているか。都道府県名を答えなさい。 [ ]

□(5) 下線おについて、次の問いに答えなさい。

□① 右の図は、鎖国中にオランダと貿易が行われた人工の島のようなすを表している。この人工の島は何と呼ばれているか。漢字2字で答えなさい。 [ ]

□② オランダ以外に、長崎でのみ貿易を認められた国はどこか。 [ ]

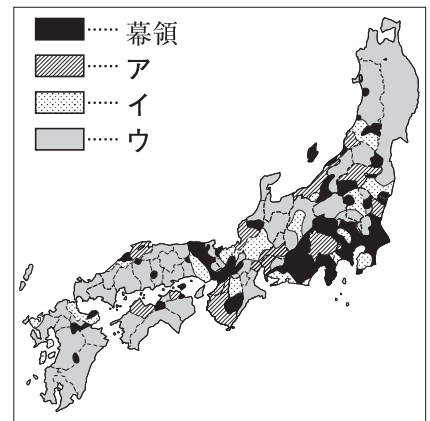
●□③ 次の3つのできごとを、年代の古い順に左から並べ、解答欄にあうように記号で答えなさい。

- ア スペイン船の来航が禁止される。
- イ 幕領でキリスト教が禁止される。
- ウ ポルトガル船の来航が禁止される。 [ → → ]

□(6) 下線かの内容として不適当なものを次から1つ選び、記号で答えなさい。

- ア 文武弓馬の道をつねに心がけてはげむこと。
- イ 衣類については、麻ともめん以外のものは使ってはならぬ。
- ウ 朝は早起きして草を刈り、昼は田畑の耕作にはげみ、晩には縄をない俵をあみ、何ごとにも念入りなすること。
- エ 雑穀をつくって食べ、米を多く食いつぶさぬようにせよ。 [ ]

年代	できごと
1603	あ <u>江戸時代が始まる。</u>
1615	( い ) が出される。
1635	う <u>参勤交代の制度が定められる。</u>
1637	え <u>島原・天草一揆がおこる。</u>
1641	お <u>鎖国の体制が固まる。</u> このころ <u>か</u> <u>百姓への触書が出される。</u>



## 1 次の問いに答えなさい。

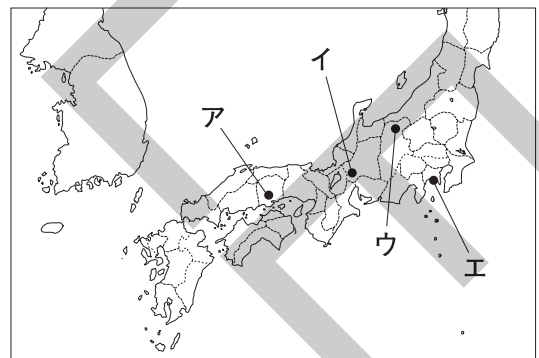
- (1) 関ヶ原の戦いで豊臣方（西軍）は徳川方（東軍）にやぶれた。豊臣方の中心となった武将の名を答えなさい。 [ ]
- (2) 江戸幕府は、将軍と大名が主従関係を結んで全国を支配した。このしくみを何体制というか。 [ ]
- (3) 江戸幕府は、複数名の老中が将軍のもとで政治を行った。老中の上に1名だけ置かれた臨時の役職を何というか。漢字2字で答えなさい。 [ ]
- (4) 江戸時代になると、身分制度がさらに強まった。このうち、商工業に従事した人たちの身分をまとめて何というか。漢字2字で答えなさい。 [ ]
- (5) 徳川家康は、はじめ商人や西国の大名に許可書をあたえて貿易を認めた。この貿易のことを何というか。 [ ]
- (6) 鎖国中も、朝鮮とは貿易が行われ、将軍の代わりごとなどに朝鮮通信使が日本をおとずれた。このような朝鮮との交流は、何藩を通じて行われたか。 [ ]

## 2 右の略年表を見て、次の問いに答えなさい。

- (1) 下線あがおこった場所として最も適当なものを右下の略地図中から1つ選び、記号で答えなさい。 [ ]
- (2) 下線いについて述べた文として最も適当なものを次から1つ選び、記号で答えなさい。  
 ア 武家の借金を帳消しにするために出された。  
 イ 朝廷や公家の行動などについて定めた。  
 ウ 百姓の生活心得を示した。  
 エ 大名を統制するために出された。 [ ]

年代	できごと
1600	あ 関ヶ原の戦いがおこる。…………… A
1615	い 武家諸法度が出される。
1624	う スペイン船の来航が禁止される。…………… B
1641	え 平戸のオランダ商館が出島に移される。…………… C

- (3) 下線うについて、江戸幕府がオランダ船の来航は認めながら、スペイン船の来航を禁止したのはなぜか。簡単に答えなさい。  
 [ ]
- (4) 下線えによって、江戸幕府がキリスト教を禁止し、貿易や外交を独占する体制が完成した。このような体制を何というか。  
 [ ]



- (5) 豊臣氏がほろんだ大阪夏の陣がおこったのは年表のどの時期か。最も適当なものを次から1つ選び、記号で答えなさい。  
 ア Aより前      イ AとBの間  
 ウ BとCの間      エ Cよりあと [ ]