

<b>1</b> 現代社会と個人 …………… 4	<b>5</b> 選挙・政党 …………… 38
1 わたしたちが生きる現代社会	1 民主主義と選挙
2 個人と社会生活	2 国民と政治を結びつけるもの
<b>2</b> 人権思想の発達 …………… 10	<b>6</b> 国会 …………… 44
1 人権思想の歴史	1 国会とは
2 日本の人権思想の歴史	2 国会のしくみ
<b>3</b> 日本国憲法 …………… 16	3 国会の仕事
1 憲法とは	<b>7</b> 内閣 …………… 50
2 日本国憲法の基本原理（三大原理）	1 行政とは、内閣の仕事
3 憲法改正	2 内閣のしくみ
<b>4</b> 人権と国際社会 …………… 22	3 現代の行政と課題
1 さまざまな基本的人権	<b>8</b> 裁判所・三権分立 …………… 56
2 日本国憲法が定める国民の義務	1 裁判所
3 人権をめぐる問題	2 三権分立
<b>◆</b> 1～4のまとめの問題 …………… 28	<b>9</b> 地方自治 …………… 62
<b>◆</b> 探究問題 1～4のまとめ …………… 36	1 地方自治と地方公共団体
	2 地方の課題
	3 地方自治への住民参加
	<b>◆</b> 5～9のまとめの問題 …………… 68
	<b>◆</b> 探究問題 5～9のまとめ …………… 76

**10** 消費生活 ..... 78

- 1 家計のしくみ
- 2 消費者の権利と保護

◆ 10～15のまとめの問題 ..... 114

◆ 探究問題 10～15のまとめ ..... 122

**11** 流通・企業・市場経済 ..... 84

- 1 流通
- 2 企業
- 3 市場経済

**12** 金融・財政 ..... 90

- 1 金融
- 2 政府の財政
- 3 日本経済の現状

**13** 労働・社会保障 ..... 96

- 1 労働者
- 2 社会保障

**14** 国際社会と国際連合 ..... 102

- 1 主権国家と国際社会
- 2 国際連合（国連）
- 3 国家や人々の対立と軍縮

**15** 国際社会の諸問題 ..... 108

- 1 さまざまな国際問題
- 2 「地球市民」の共存を目指して

## 1 わたしたちが生きる現代社会

## (1) 大量消費社会と食生活の変化

高度経済成長によって耐久消費財が普及し、食生活も大きく変化。→日本の食料自給率は約40%と低い。

## (2) 情報社会

インターネットや携帯電話などICT（情報通信技術）の発達による情報社会。情報を正しく活用する能力（情報リテラシー）が必要。AI（人工知能）による津波予測など、防災への活用も進む。

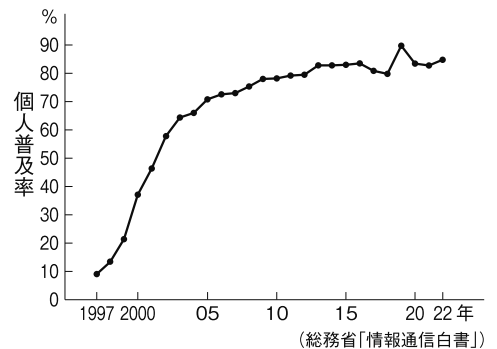
## (3) 国際社会の中の日本

身の回りに輸入製品が増え、情報や経済のグローバル化（世界を一体化する動き）が進展。日本で暮らす外国人も増加。→国境をこえた人々の協力、地方公共団体や民間のNGO（非政府組織）・NPO（非営利組織）による活動が重要に。

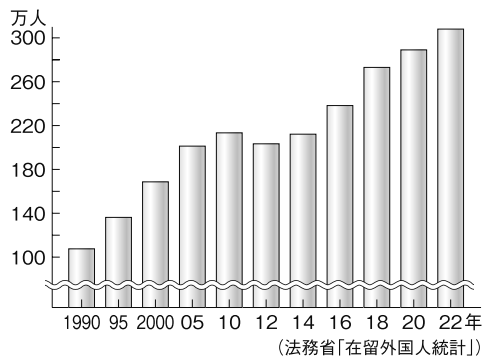
## (4) 現代社会と文化

科学・芸術・宗教などの文化は、人類の生活を豊かにすると同時に、生活習慣や価値観にも影響をあたえる。日本には古くからの伝統文化があるが、新しい文化も次々と生まれ、外国人の増加により多文化社会に。→異なる文化を尊重しあう姿勢が大切。

■日本のインターネットの普及



■日本の在留外国人人数



## 2 個人と社会生活

## (1) 家族と社会生活

① 家族 最も身近な社会集団。近年は少子高齢化などを背景に、核家族世帯や一人（単独）世帯が増加。

② 家族と法律 基本原則は「個人の尊厳と両性の本質的平等」（憲法24条②）。民法で、夫婦の協力や親権について規定。

③ 男女平等の実現に向けて 男女雇用機会均等法、男女共同参画社会基本法。「家制度」の考えや性別役割分担の意識にとられない、個人の能力に合った生き方ができる社会を目指す。

## (2) 社会生活とルール

① 人間と社会生活 人間は、さまざまな社会集団の中で人生を送る「社会的存在」。生まれながらに所属する家族や地域社会で基本を身につけ、目的をもって参加する学校・部活動・会社などで能力を伸ばしたり、収入を得たりする。

② 社会生活とルール 多様な考えや望みをもつ人々をまとめ、社会生活を円滑に営むには、約束ごと＝ルールが必要。ルールは、みんなで話し合い、納得したうえで決める必要がある。

●対立から話し合いによる合意へ 互いに納得するための判断基準として、公正と効率の考え方があがる。

約束をかわすことを「契約」という。法律上の契約にあてはまる場合、契約をかわした人々には、その内容に従う法的な責任が生じる。

## ■民法（抜粋）

第752条 夫婦は同居し、互いに協力し扶助しなければならない。

第818条① 成年に達しない子は、父母の親権に服する。

## ■男女共同参画社会基本法（前文）

我が国においては、日本国憲法に個人の尊重と法の下での平等がうたわれ、男女平等の実現に向けた様々な取組が（中略）進められてきたが、なお一層の努力が必要とされている。

（中略）男女が、互いにその人権を尊重しつつ責任も分かち合い、性別にかかわらず、その個性と能力を十分に発揮することができる男女共同参画社会の実現は、緊要な課題となっている。

（中略）男女共同参画社会の実現を二十一世紀の我が国社会を決定する最重要課題と位置付け、社会のあらゆる分野において、男女共同参画社会の形成の促進に関する施策の推進を図っていくことが重要である。（以下略）

## 1 わたしたちが生きる現代社会

□(1) 日本の現代社会の特色を表にまとめなさい。

テーマ	特色
大量消費社会	1950年代後半から約20年間続いた①[ ]によって、家庭電化(家電)製品や自動車などが急速に家庭に普及した。
食生活の変化	さまざまな食品や飲食店などが現れ、食生活は豊かになったが、外国産の食品が大量に輸入されるようになり、②[ ]の低下につながった。
③[ ]社会	コンピューターやインターネットの発達で、情報のやりとりが簡単・豊富に。
国際社会	④[ ]とよばれる、世界を一体化する動きが加速。在日外国人も増加。世界的な問題の解決や、外国人との共生のため、地方公共団体や民間組織の協力も不可欠に。
現代社会と文化	日本もさまざまな文化をもった人がともに暮らす⑤[ ]社会に。一方で、日本古来の⑥[ ]も大切であり、異なる文化の共生を目指すことが重要。

□(2) 次の各問いに答えなさい。

- ① 家庭電化製品やパソコン、自動車のように、長期間使い続けることができる財産を何というか。 [ ]
- ② 政府ではない民間の立場で国際問題の解決にあたる「非政府組織」のことを、アルファベット3字の略称で何というか。 [ ]
- ③ 民間の立場から問題解決にあたるため、営利を目的とせず全体の利益のために活動する「非営利組織」のことを、アルファベット3字の略称で何というか。 [ ]

## 2 個人と社会生活

□(1) 家族や男女平等について、日本の憲法や法律はどのように定めているか、まとめなさい。

憲法や法律	内容
日本国憲法	第24条② <small>はいぐうしや</small> 配偶者の選択、財産権、相続、住居の選定、離婚並びに婚姻及び家族に関するその他の事項に関しては、法律は、①[ ]の尊厳と両性の本質的②[ ] <small>りつきく</small> に立脚して、制定されなければならない。
民法	第752条 ③[ ]は同居し、互いに協力し扶助しなければならない。 第818条① 成年に達しない子は、父母の④[ ]に服する。
⑤[ ]法	労働者の採用・昇級・昇進での男女差別を禁止する法律。
⑥[ ]法	さまざまな社会活動において男女が対等な立場で参加し、利益を得、責任を負う社会の実現を目指す法律。

□(2) 次の各問いに答えなさい。

- ① 家族や地域、学校や会社などの集団を何というか。 [ ]
- ② ①のような集団の中で生きていくことを何というか。 [ ]
- ③ 人々が②の中で、互いに利益を得たり責任を負ったりするために結ぶ約束のことを、漢字2字の語句で何というか。 [ ]

# 練成問題

1 右の年表を見て、次の問いに答えなさい。

□(1) 年表中のXの時期に続いた、世界に類を見ない日本の急速な経済成長を何というか答えなさい。

[ ]

□(2) (1)の経済成長により、人々の所得が増え、生活のようすも変化した。その一方、さまざまな問題点も生まれた。その問題点にあてはまるものを、次から2つ選び、記号で答えなさい。

[ ] [ ]

ア 製造業の発達や自動車の普及で公害問題が発生し、各地で公害病が発生した。

イ 大都市のみ経済が発展し、地方の都市は衰えていった。

ウ 産業構造が変化し、第1次産業人口が大きな割合を占めるようになった。

エ 都市部へ人口が移動し、農村や漁村などでは過疎化が問題となった。

□(3) 次の耐久消費財を、あとの①～③の文にしたがって、それぞれ3つずつ分類しなさい。

洗濯機	クーラー	冷蔵庫	カラーテレビ	白黒テレビ
パソコン	ファクシミリ	携帯電話	自動車	

□① 年表中のAのころに家庭への普及が進み、「三種の神器」とよばれるようになった。

[ ] [ ] [ ]

□② 年表中のBのころに家庭への普及が進み、「3C」とよばれるようになった。

[ ] [ ] [ ]

□③ 年表中のCのころか、それ以降に、情報社会の発達により家庭への普及が進んだ。

[ ] [ ] [ ]

□(4) 年表中のaにあてはまるできごとの組み合わせとして正しいものを、次から1つ選び、記号で答えなさい。

ア 東海道新幹線開通・札幌オリンピック開催

イ 山陽新幹線開通・東京オリンピック・パラリンピック開催

ウ 東海道新幹線開通・東京オリンピック・パラリンピック開催

エ 山陽新幹線開通・札幌オリンピック開催

[ ]

□(5) 年表中の(b)にあてはまる、(1)の経済成長が終わりを告げるきっかけとなったできごとは何か答えなさい。

[ ]

□(6) 年表中のCのころから、株や土地の価格が急上昇して、何とよばれる好景気となったか答えなさい。

[ ]

●□(7) 年表中のDについて、増加する外国人と同じ社会でも暮らしていくために求められている心構えを、「文化」という語句を用いて、簡潔に答えなさい。

[ ]

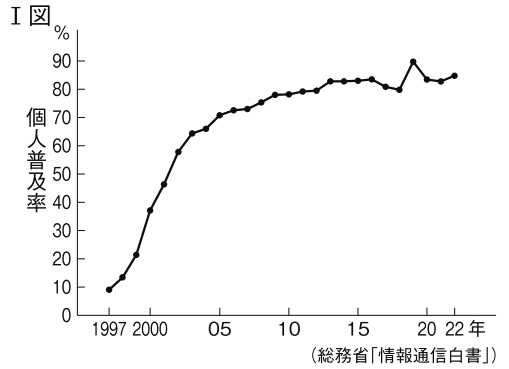
□(8) 年表中の(c)にあてはまる数字を答えなさい。

[ ]

年代	できごと
1945	ポツダム宣言受諾
1950	朝鮮戦争がおこる(～53)
1958	インスタントラーメン登場……A
1964	a
1968	レトルトカレーが登場する……B
1970	大阪府で万国博覧会開催
1973	( b )がおこる
1985	茨城県で「科学万博」開催……C
1990	外国人登録者数100万人突破…D
2005	( c )歳以上の人口割合が20%突破

**2** 現代社会について、次の問いに答えなさい。

□(1) I図は、パソコンや携帯電話などによる情報ネットワークの日本での普及の推移を示したものである。これについて、次の問いに答えなさい。



□① このネットワークを何というか、カタカナで答えなさい。  
[ ]

□② ①のネットワークやコンピューターの発達により、大量の情報が生産され、その利用が重視される社会を何というか答えなさい。  
[ ]

□③ ②の社会の問題点を、「情報」という語句を使い、簡潔に答えなさい。  
[ ]

□(2) (1)の①のネットワークの特色について述べた次の各文中の( )にあてはまる語句を答えなさい。

□① 一方的なマスメディアの情報とちがひ、互いに情報をやり取りできるという( )の利点がある。  
[ ]

□② 外国の情報などをウェブサイトによって得たり、電子メールによって外国の人と連絡をとることができたりするという点で( )がある。  
[ ]

□(3) (1)の①のネットワークの問題点について述べた次の各文中の( )にあてはまる語句を答えなさい。

□① 住所や電話番号などの私的な( )情報が流出し、悪用されるおそれがある。  
[ ]

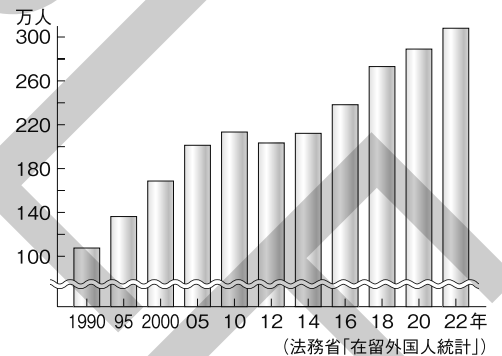
□② ( )ウイルスなどの被害が増加し、犯罪にまで発展するケースが増えている。  
[ ]

□③ ネットワークを使える人と使えない人との( )格差が広がっている。  
[ ]

□(4) II図は、日本の外国人登録者数の推移を示したものである。

これを見て、日本における外国人登録者数は、2012年以降、どのように推移しているか。簡潔に答えなさい。

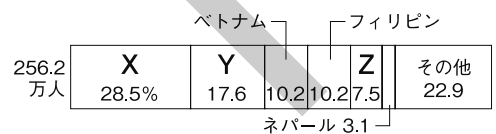
II図 日本の外国人登録者数



[ ]

□(5) III図は、国籍別外国人登録人数の割合を示している。図のX～Zにあてはまる国の組み合わせとして正しいものを、次から1つ選び、記号で答えなさい。

III図 国籍別外国人登録人数の割合



ア X ブラジル Y 韓国 Z 中国

イ X 韓国 Y ベルギー Z 中国

ウ X 韓国 Y 中国 Z タイ

エ X 中国 Y 韓国 Z ブラジル

[ ]

□(6) 国際社会の中の日本を語るうえで重要な役割をになっているNGOとNPOとは何をさすか、答えなさい。

NGO [ ]

NPO [ ]

3 次の日本国憲法や法律の条文を読んで、あとの問いに答えなさい。

資料Ⅰ 日本国憲法

第24条② 配偶者の選択、財産権、相続、住居の選定、離婚並びに婚姻及び家族に関するその他の事項に関しては、a法律は、( b )の尊厳と( c )の本質的平等に立脚して、制定されなければならない。

資料Ⅱ

第725条 d次に掲げる者は、親族とする。

(以下略)

第752条 夫婦は同居し、互いに協力し扶助しなければならない。

第818条① 成年に達しない子は、父母の( e )に服する。

第900条 同順位の相続人が数人あるときは、そのf相続分は、次の各号の定めるところによる。

(以下略)

資料Ⅲ

第1条 この法律は、( g )の下の平等を保障する日本国憲法の理念にのっとり雇用の分野における男女の均等な機会及び待遇の確保を図る(中略)ことを目的とする。

□(1) 資料Ⅰについて、次の問いに答えなさい。

□① 下線aの「法律」は、資料Ⅱで示した、夫婦や相続などの家族関係についての法律と同じである。この法律を何というか答えなさい。 [ ]

□② 資料Ⅰの( b )と( c )にあてはまる語句を、それぞれ漢字2字で答えなさい。

b [ ] c [ ]

□(2) 資料Ⅱについて、次の問いに答えなさい。

□① 下線dについて、(1)の法律で定める親族にあたるものを、次からすべて選び、記号で答えなさい。

ア 6親等内の血族      イ 6親等内の姻族      ウ 配偶者

エ 3親等内の姻族      オ 3親等内の血族

[ ]

□② 資料Ⅱの( e )にあてはまる、「親が自分の子を監督する権利や義務」を意味する語句を答えなさい。

[ ]

□③ 下線fについて、Aさんの父親が亡くなり、遺産が1200万円残された。Aさんには母親と兄が2人いる。法定相続分での、Aさんと母親それぞれの相続額を答えなさい。(相続税は考慮しない。)

Aさん [ ] 母親 [ ]

□(3) 資料Ⅲについて、次の問いに答えなさい。

□① この資料は、何という法律の一部か答えなさい。 [ ]

□② 資料中の( g )にあてはまる語句を、漢字1字で答えなさい。 [ ]

□③ この資料の法律がめざしていることとして最も適当なものを、次から1つ選び、記号で答えなさい。

ア 男は外で働き、女は家事を行う社会を築くこと。

イ 夫婦が別々の姓(苗字)を名乗ること。

ウ 個人よりも「家」を重んじる考えを重視すること。

エ 雇用する側が採用や昇進などで男女を等しく扱うこと。

[ ]

1 日本の現代社会の特色について、次の問いに答えなさい。

- (1) 現在の日本の食料自給率として最も適当なものを次から1つ選び、記号で答えなさい。  
 ア 約120%      イ 約80%      ウ 約40%      エ 約5%      [                      ]
- (2) 日本の家庭にも急速に普及している、世界中のコンピューターを結んで、ウェブサイトや電子メールをはじめとしたデータをやりとりするしくみを何というか。      [                      ]
- (3) 国際社会の中で世界を一体化する動きのことを何というか。      [                      ]
- (4) 近年の日本で増加している、夫婦だけ、または親と未婚の子だけの家族を何というか。      [                      ]
- (5) 現在の日本で進行している、出生率が下がって子どもの人口が減っていくと同時に、平均寿命が延びて高齢者の人口が増えていくことを何というか。      [                      ]
- (6) 次の①～③は、社会に影響を与えるさまざまな文化のうち、「科学」、「芸術」、「宗教」のいずれかについて説明した文である。それぞれ、どの文化について説明したものか、答えなさい。
- ① 絵画や音楽など、美を求める文化。これに接することで、人は人間性を豊かにすることができる。
- ② 主に理科学的な技術に関する文化。これが進歩したことで、豊かで便利な生活を送れるようになった。
- ③ 聖なるものを信じ、敬う文化。それぞれの社会で人々が考え、行動する基準になることが多い。
- ① [                      ]  
 ② [                      ]  
 ③ [                      ]

2 次の資料を読んで、あとの問いに答えなさい。

資料Ⅰ

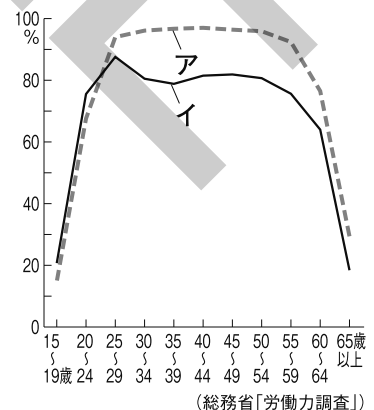
第2条 この法律は、(                      )を旨として、解釈しなければならない。

第752条 夫婦は同居し、互いに協力し扶助しなければならない。

資料Ⅱ

第1条 この法律は、男女の人権が尊重され、かつ、社会経済情勢の変化に対応できる豊かで活力ある社会を実現することの緊要性にかんがみ、男女共同参画社会の形成に関し、基本理念を定め(中略)ることにより、男女共同参画社会の形成を総合的かつ計画的に推進することを目的とする。

- (1) 資料Ⅰは、民法という法律の一部である。資料中の(                      )にあてはまる、日本国憲法第24条②にも登場する文を次から1つ選び、記号で答えなさい。
- ア 家制度の尊重と性的な役割分担      イ 個人の尊厳と両性の本質的平等
- ウ 多文化の尊重と内なる国際化      エ 経済成長と情報社会の推進      [                      ]
- (2) 資料Ⅱについて、次の問いに答えなさい。
- ① この法律の名を答えなさい。      [                      ]
- ② このような法律が制定された背景として、日本の社会で女性が置かれている状況に問題があることがあげられる。これに関して、日本における女性の年齢別の働く割合を正しく示したグラフは、右の図のア・イのどちらか、記号で答えなさい。      [                      ]
- (3) 人間は、法律などのルールに従いながら社会集団に属することではじめて、充実した人生が送れる。そのことから、人間はどのような存在であると表現されているか。      [                      存在 ]





## 1 人権思想の歴史

## (1) 人権思想

17～18世紀に、イギリスのロック、フランスのモンテスキューやルソーらが平等権や自由権を主張。市民革命に影響をあたえる。

- ロック 1632～1704年。イギリスの思想家。1690年、『統治二論』を著し、民主主義の政治思想を主張した。
- モンテスキュー 1689～1755年。フランスの思想家。1748年、『法の精神』を著し、三権分立を主張した。
- ルソー 1712～1778年。フランスの思想家。1762年、『社会契約論』を著し、人民主権を主張した。

## (2) 市民革命

17～18世紀に、イギリスやフランス、アメリカでおこる。人権思想の影響を受けた市民が、個人の自由と平等を求めて革命をおこし、絶対王政がくずれた。

## ■アメリカ独立宣言

われわれは、自明の真理として、すべての人は平等につくられ、造物主によって、一定の権利がたい天賦の権利を付与され、そのなかに生命、自由および幸福の追求の含まれることを信ずる。

## (3) 社会権の確立

19世紀には資本主義経済が発展し、貧富の差の拡大と労働条件の悪化が進む。→各国で普通選挙運動と労働運動が高まる。→20世紀には、各国で普通選挙が認められ、社会権が確立していった。

- ワイマール憲法 1919年にドイツで制定された憲法で、世界で最初に社会権（生存権）を保障した。

## 2 日本の人権思想の歴史

## (1) 西洋の人権思想の流入

明治時代に、福沢諭吉や植木枝盛、中江兆民らによって紹介される。

## (2) 大日本帝国憲法

1889年に発布された大日本帝国憲法は、君主権の強いドイツ（プロイセン）の憲法を参考にしてつくられた。主権は天皇にあるとされ、国民の自由や人権は「臣民の権利」として、法律により制限された。

臣民 大日本帝国憲法下では、天皇・皇族を除いた国民を臣民といった。

## (3) 日本国憲法

第二次世界大戦後、GHQ（連合国軍最高司令官総司令部）が作成した原案をもとにつくられた。1946年11月3日に公布、1947年5月3日に施行された。主権は国民にあり、国民の自由や人権は憲法で保障されている。

## ■人権思想の歴史

年代	できごと
1215	英…マグナ・カルタ成立
1642	英…ピューリタン革命
1688	英…名誉革命→権利(の)章典(1689)
1775	米…独立戦争→アメリカ独立宣言(1776)
1787	米…合衆国憲法制定
1789	仏…フランス革命→人権宣言
1850	独…プロイセン憲法制定
1863	米…リンカンの奴隷解放宣言
1919	独…ワイマール憲法→社会権を規定
1948	国際連合が世界人権宣言を採択
1966	国際連合が国際人権規約を採択

\*英：イギリス 米：アメリカ 仏：フランス 独：ドイツ

## ■フランス人権宣言

第1条 人は生まれながらに、自由で平等な権利をもつ。社会的な区別は、ただ公共の利益に関係のある場合にしか設けられてはならない。

- 社会権 人間らしい生活を営むための保障を、国家に対して要求できる権利。日本国憲法では生存権、教育を受ける権利、勤労の権利、労働基本権が保障されている。

## ■ワイマール憲法

第151条 経済生活の秩序は、すべての人に、人たるに値する生存を保障することをめざす、正義の諸原則に適合するものでなければならない。

## ■大日本帝国憲法

第22条 日本臣民ハ法律ノ範囲内ニ於テ居住及移転ノ自由ヲ有ス

第29条 日本臣民ハ法律ノ範囲内ニ於テ言論著作印行集会及結社ノ自由ヲ有ス

## ■日本国憲法

前文（一部） そもそも国政は、国民の厳粛な信託によるものであって、その権威は国民に由来し、その権力は国民の代表者がこれを行使し、その福利は国民がこれを享受する。

## 1 人権思想の歴史

□(1) 17～18世紀のヨーロッパの思想家について表にまとめなさい。

人物名	国名	著書	主張
ロック	①[ ]	『統治二論』	民主主義の政治思想を主張した。
モンテスキュー	フランス	『法の精神』	②[ ]を主張した。
③[ ]	フランス	『社会契約論』	人民主権を主張した。

□(2) 市民革命について表にまとめなさい。

名称	国名	年代	革命・戦争の前後に発表されたもの
名誉革命	①[ ]	1688年	②[ ] 章典
独立戦争	アメリカ合衆国	1775年	アメリカ独立宣言
フランス革命	フランス	1789年	③[ ] 宣言

□(3) 次の各問いに答えなさい。

- ① アメリカ独立戦争後の1787年に、アメリカ合衆国で制定された憲法を何というか。  
[ ]
- ② 南北戦争中の1863年に、アメリカ合衆国のリンカン大統領が発表した宣言を何というか。  
[ ]
- ③ 世界で初めて社会権を規定した、1919年にドイツで制定された憲法を何というか。  
[ ]
- ④ 国際的な人権保障を目的として、1966年に国際連合で採択されたものを何というか。  
[ ]

## 2 日本の人権思想の歴史

□(1) 日本の憲法について表にまとめなさい。

憲法	①[ ] 憲法	②[ ] 憲法
成立	1889年発布	③[ ]年 ④[ ]月 ⑤[ ]日 公布 ⑥[ ]年 ⑦[ ]月 ⑧[ ]日 施行
主権	主権は⑨[ ]にある。	主権は国民にある。
人権	⑩[ ]の範囲内で保障される。	憲法で保障される。

□(2) 次の各問いに答えなさい。

- ① 明治時代に『学問のすゝめ』<sup>(す)</sup>を著すなどして、西洋の人権思想を日本へ広めた人物はだれか。  
[ ]
- ② 大日本帝国憲法をつくるときに最も参考にされたのは、どこの国の憲法か。  
[ ]
- ③ 第二次世界大戦後につくられた日本国憲法の原案を作成した組織を何というか。  
[ ]

1 次の文章を読んで、あとの問いに答えなさい。

17～18世紀のヨーロッパでは、**a**多くの思想家が(Ⅰ)権や平等権を主張し、人権思想が確立されるようになった。この人権思想の影響を受けた市民が、個人の(Ⅰ)と平等を求めて革命を起こし、(Ⅱ)を倒した。このような革命を特に**b**市民革命という。

19世紀になると、(Ⅲ)経済が発達するようになり、社会の中の(Ⅳ)の差が拡大し、**c**社会的弱者を守る権利が重視されるようになった。この権利は、1919年に制定された**d**ドイツ共和国憲法で確立された。

- (1) 文章中の2つの(Ⅰ)に共通してあてはまる語句を、漢字2字で答えなさい。  
[ ]
- (2) 文章中の(Ⅱ)には、国王が強力な軍隊と役人を従え、議会を無視して行った専制政治があてはまる。このような専制政治を何というか。  
[ ]
- (3) 文章中の(Ⅲ)には、イギリスで18世紀後半に始まった産業革命の結果発達した、資本家が労働者をやとって生産するしくみがあてはまる。これを何というか。  
[ ]
- (4) 文章中の(Ⅳ)にあてはまる語句を、漢字2字で答えなさい。  
[ ]
- (5) 下線**a**について、次の各文で述べている思想家の名を答えなさい。
- ① フランスの思想家で、『法の精神』を著して、権力分立(三権分立)について説いた。  
[ ]
- ② イギリスの思想家で、『統治二論』を著して、民主政治の政治思想を主張し、近代人権思想のもとをつくった。  
[ ]
- (6) 下線**a**の思想家のうち、ルソーが著書『社会契約論』の中で主張したのとして**不適当なもの**を、次から1つ選び、記号で答えなさい。
- ア 革命権      イ 社会契約説      ウ 人民主権      エ 自然権      [ ]
- (7) 下線**b**について、次の各文で述べている市民革命の名を答えなさい。
- ① 無血革命ともよばれ、議会在国王を交代させ、翌年権利(の)章典が發布された。  
[ ]
- ② イギリス本国が植民地に課税しようとしたことに対して、植民地の市民層が中心となっておこした戦争で、翌年、独立宣言が発表された。  
[ ]
- ③ 国王の専制政治と貴族・僧・平民の身分制度に反対して平民階級がおこした革命。直後に国民議会在人権宣言を発表した。  
[ ]
- ④ 国王の専制政治をめぐる王党派と議会派の対立からおこったもので、国王が処刑され、共和政がしかれた。  
[ ]
- (8) 下線**c**の権利を何というか。  
[ ]
- (9) 下線**d**について、次の問いに答えなさい。
- ① この憲法は、一般に何とよばれているか答えなさい。  
[ ]
- ② この憲法について述べた文として最も適当なものを次から1つ選び、記号で答えなさい。
- ア 大日本帝国憲法を作成するにあたり伊藤博文が参考にした、君主権の強い憲法である。  
イ 世界で初めて社会権を規定した憲法である。  
ウ 世界で初めて自由権を規定した憲法である。  
エ 連合国軍が作成した原案をもとにつくられた憲法である。  
[ ]

## 2 日本の人権思想の歴史について、次の問いに答えなさい。

□(1) 日本に人権思想を紹介した人々について、次の問いに答えなさい。

□① 福沢諭吉は、明治時代の初めにある書物の冒頭で「天は人の上に人をつくらず、人の下に人をつくらず」と書いて、人間の平等と学問の大切さを説いた。このある書物を何というか答えなさい。

[ ]

□② 次の文に述べられている人物はだれか。人物名を答えなさい。

ルソーの『社会契約論』を訳して『民約訳解』として出版し、フランス流の自由民権思想を説き、“東洋のルソー”とよばれた。

[ ]

□(2) 1874年の板垣退助らの民撰議院設立建白書の提出をきっかけに全国に広まった、憲法をつくり、議会政治を開くように要求した国民的な運動を何というか。

[ ]

□(3) 大日本帝国憲法について、次の問いに答えなさい。

□① この憲法が発布されたのは、西暦何年か。

[ ]

□② この憲法の草案を作成した中心人物は、内閣制度を創設し、初代内閣総理大臣となった人物である。この人物はだれか。次から1人選び、記号で答えなさい。

ア 木戸孝允      イ 西郷隆盛      ウ 大久保利通      エ 伊藤博文

[ ]

□③ ②の人物は、ドイツの何という憲法を参考にしたか。憲法名を答えなさい。

[ ]

□④ 大日本帝国憲法は、③の憲法のどのような点を参考にして作成されたか。簡潔に答えなさい。

[ ]

□⑤ この憲法で主権はだれにあるとされたか。

[ ]

□⑥ この憲法は、日本の臣民（国民）の権利をどのように規定していたか。簡潔に答えなさい。

[ ]

□(4) 日本国憲法について、次の問いに答えなさい。

□① この憲法は、連合国のアメリカ・イギリス・中国（のちにソ連も加わる）が発表した日本に対する降伏条件を要求した共同宣言を、日本が受け入れたことを受けて制定されたものである。この共同宣言を何というか。

[ ]

□② この憲法は、連合国軍最高司令官総司令部が作成した原案をもとにつくられた。この連合国軍最高司令官総司令部の略称を何というか。アルファベット3字で答えなさい。

[ ]

□③ この憲法が公布された年月日、施行された年月日を、それぞれ西暦で答えなさい。

公布[                      年                      月                      日]

施行[                      年                      月                      日]

□④ ③で答えた、日本国憲法が公布された月日と、施行された月日は、現在、それぞれ何とよばれる祝日となっているか答えなさい。

公布[                      ]

施行[                      ]

□⑤ この憲法について正しく述べているものを次から1つ選び、記号で答えなさい。

ア この憲法の主権者は、国民である。

イ この憲法では、国民の自由権は保障されているが、社会権は条件付きで保障されている。

ウ この憲法では、国民の義務は納税の義務、教育の義務、兵役の義務と規定されている。

[ ]

3 右の年表を見て、次の問いに答えなさい。

□(1) 年表中の( ① )～( ⑦ )にあてはまる語句を、それぞれ答えなさい。

- ① [ ]
- ② [ ]
- ③ [ ]
- ④ [ ]
- ⑤ [ ]
- ⑥ [ ]
- ⑦ [ ]

□(2) AとBの革命がおこった国を、次から1つずつ選び、記号で答えなさい。

- ア ドイツ      イ フランス  
ウ イギリス      エ オランダ

A [ ]      B [ ]

□(3) Bの革命の翌年に発布された権利(の)章典では、どのようなことが保障されたか。簡潔に答えなさい。

[ ]

□(4) Cについて、ロックは「国家は、人々がその権利や自由を守るために、約束のもとにつくったものであり、この目的に反するような政府は倒してもよい」という考えを説いた。この考えのことを何というか答えなさい。

[ ]

□(5) Dのモンテスキューは、著書のなかで、国家権力を立法、行政、司法の3つに分け、3つの権力が均衡と抑制を保つことを説いた。これを何というか。

[ ]

□(6) 右の資料Ⅰ・Ⅱは、それぞれ年表中のE、Gの際に発表されたものである。それぞれの宣言の名を答えなさい。

Ⅰ [ ]

Ⅱ [ ]

□(7) 資料Ⅰの宣言に影響をあたえたイギリスの思想家はだれか答えなさい。

[ ]

□(8) Fの憲法は、どこの国の憲法か。次から1つ選び、記号で答えなさい。

- ア フランス      イ アメリカ      ウ イギリス      エ ドイツ      [ ]

□(9) Hの憲法について正しく述べているものを、次から1つ選び、記号で答えなさい。

- ア この憲法の主権者は臣民(国民)だった。      [ ]
- イ この憲法では、臣民(国民)の権利は法律で制限することができた。      [ ]
- ウ この憲法では、平和主義が三大基本原則の1つとされている。      [ ]
- エ この憲法では、天皇は国事行為のみ行うと規定されている。      [ ]

□(10) Iの憲法の三大基本原則のうち、前文と第1条に規定されているものは何か答えなさい。

[ ]

年代	できごと
1215	( ① )が制定される
1642	ピューリタン革命がおこる………A
1688	名誉革命がおこる………B
1690	ロックが『( ② )』を著す………C
1748	モンテスキューが『( ③ )』を著す………D
1762	( ④ )が『社会契約論』を著す
1775	独立戦争が始まる………E
1787	合衆国憲法が制定される………F
1789	フランス革命がおこる………G
1863	リンカンが( ⑤ )を発表する
1889	大日本帝国憲法が発布される………H
1919	( ⑥ )憲法が制定される
1946	日本国憲法が公布される………I
1948	国際連合が( ⑦ )を採択する

資料Ⅰ

われわれは、自明の真理として、すべての人は平等につくられ、造物主によって、一定の奪いがたい天賦の権利を付与され、そのなかに生命、自由および幸福の追求の含まれることを信ずる。

資料Ⅱ

第1条 人は生まれながらに、自由で平等な権利をもつ。社会的な区別は、ただ公共の利益に関係のある場合にしか設けられてはならない。

1 人権思想の歴史について、次の問いに答えなさい。

- (1) 『統治二論』を著し、民主主義の政治思想を主張したイギリスの思想家はだれか。 [ ]
- (2) 『法の世界』を著し、三権分立を主張したフランスの思想家はだれか。 [ ]
- (3) 『社会契約論』を著し、人民主権を主張したフランスの思想家はだれか。 [ ]
- (4) 17世紀にイギリスで革命がおこり、翌年、権利(の)章典が出された。この市民革命を何というか。 [ ]
- (5) 1775年にアメリカでおこった、本国のイギリスに対する戦争を何というか。 [ ]
- (6) 1789年にフランスでおこった市民革命を何というか。 [ ]
- (7) 右の表中の( )にあてはまる語句を答えなさい。

- ① [ ]
- ② [ ]
- ③ [ ]

憲法	大日本帝国憲法	( ① )憲法
成立	1889年発布	1946年11月3日公布 1947年5月3日施行
主権	( ② )主権	( ③ )主権

2 次の資料を読んで、あとの問いに答えなさい。

資料Ⅰ

第1条 人は生まれながらに、自由で平等な権利をもつ。社会的な区別は、ただ公共の利益に関係のある場合にしか設けられてはならない。

資料Ⅱ

第151条 経済生活の秩序は、すべての人に、人たるに値する生存を保障することをめざす、正義の諸原則に適合するものでなければならない。

資料Ⅲ

第22条 日本( )ハ法律ノ範囲内ニ於テ居住及移転ノ自由ヲ有ス  
第29条 日本( )ハ法律ノ範囲内ニ於テ言論著作印行集会及結社ノ自由ヲ有ス

資料Ⅳ

前文(一部) そもそも国政は、国民の厳粛な信託によるものであって、その権威は国民に由来し、その権力は国民の代表者がこれを行使し、その福利は国民がこれを享受する。

- (1) 資料Ⅰは何とよばれるものか。次から1つ選び、記号で答えなさい。  
ア 権利(の)章典      イ 人権宣言  
ウ 独立宣言      エ 奴隷解放宣言 [ ]
- (2) 資料Ⅱはある憲法の一部である。この憲法では、世界で初めて社会権(生存権)が規定された。この憲法が制定された国の名を答えなさい。 [ ]
- (3) 資料Ⅲ中の( )には、天皇・皇族を除いた国民を表す共通の語句があてはまる。この語句を答えなさい。 [ ]
- (4) 資料Ⅳはある憲法の一部である。この憲法の名を答えなさい。 [ ]
- (5) 資料Ⅰ～Ⅳを年代の古い順に並べかえ、記号で答えなさい。 [ → → → ]