

## 歴史

① 大日本帝国憲法と帝国議会*	4
② 日清・日露戦争*	8
① 第一次世界大戦と日本	12
② 大正デモクラシーと大衆文化	16
③ 第二次世界大戦と日本	20
④ 第二次世界大戦後のようす	24
⑤ 現代の世界と日本	28
◆ 1～5のまとめの問題	32
◆ 探究問題 1～5のまとめ	40

\*基本単元①・②は進度にあわせて学習してください。

## 公民

⑥ 現代社会と個人	42
⑦ 人権思想の発達	46
⑧ 日本国憲法	50
⑨ 人権と国際社会	54
◆ 6～9のまとめの問題	58
◆ 探究問題 6～9のまとめ	66
⑩ 選挙・政党	68
⑪ 国会	72
⑫ 内閣	76
⑬ 裁判所・三権分立	80
⑭ 地方自治	84
◆ 10～14のまとめの問題	88
◆ 探究問題 10～14のまとめ	96
⑮ 消費生活	98
⑯ 流通・企業・市場経済	102
⑰ 金融・財政	106
⑱ 労働・社会保障	110
⑲ 国際社会と国際連合	114

20 国際社会の諸問題 ..... 118

◆ 15～20のまとめの問題 ..... 122

◆ 探究問題 15～20のまとめ ..... 130

#### 地理の復習

1 世界のすがた ..... 132

2 世界の国々 ..... 140

3 身近な地域 ..... 148

4 世界から見た日本 ..... 154

5 西日本の地誌 ..... 160

6 東日本の地誌 ..... 166

#### 歴史の復習

1 古墳時代までの日本 ..... 172

2 飛鳥～平安時代 ..... 178

3 鎌倉～安土桃山時代 ..... 184

4 江戸時代 ..... 190

5 19世紀までの世界 ..... 196

6 明治時代 ..... 202

#### 入試対策

1 地理 重要事項の再確認 ..... 208

2 歴史 重要事項の再確認 ..... 218

3 公民 重要事項の再確認 ..... 228

4 文章記述問題の確認 ..... 234

#### 写真提供

毎日新聞社、アフロ、徳川美術館所蔵、©徳川美術館イメージアーカイブ/DNPartcom、岐阜県文化財保護センター提供、茅野市尖石縄文考古館、国立国会図書館所蔵、十日町市博物館所蔵、和田英作「憲法発布式」聖徳記念絵画館所蔵、福岡市博物館所蔵 画像提供：福岡市博物館/DNPartcom

## 1 憲法制定

- (1) **憲法の準備** 政府は伊藤博文をヨーロッパへ派遣し、各国の憲法を調査した。→帰国後、ドイツ(プロイセン)憲法[君主権の強い憲法]をもとに憲法草案を作成した。1885年に内閣制度がつくられ、伊藤博文が初代内閣総理大臣となった。

## ●最初の内閣(1885年)

総理大臣 伊藤博文(長州出身)  
 国務大臣 長州出身4, 薩摩出身4  
 土佐出身1, 幕府出身1  
 ※薩長出身者が政治の中心となっていた。

## ▲伊藤博文

- (2) **大日本帝国憲法** 枢密院[天皇の求めによって重要な問題を審議する機関]の審議を経て、1889年2月11日、明治天皇が国民にあたえるという形で大日本帝国憲法が公布された。天皇が国を統治し、軍隊の統帥権などの権限をもった。国民の権利は「臣民の権利」として認められ、法律によって制限された。

## 大日本帝国憲法(部分)

第1条 大日本帝国八万世一系ノ天皇ヲ統治ス  
 第3条 天皇ハ神聖ニシテ侵スヘカラス  
 第4条 天皇ハ国ノ元首ニシテ統治権ヲ総攬シ此ノ憲法ノ条規ニ依リ之ヲ行フ  
 第5条 天皇ハ帝国議会ノ協賛ヲ以テ立法権ヲ行フ  
 第8条 天皇ハ公共ノ安全ヲ保持シ又ハ其ノ災厄ヲ避クル為緊急ノ必要ニ由リ帝国議会閉会ノ場合ニ於テ法律ニ代ルヘキ勅令ヲ発ス  
 第11条 天皇ハ陸海軍ヲ統帥ス  
 第13条 天皇ハ戦ヲ宣シ和ヲ講シ及諸般ノ条約ヲ締結ス

年代	できごと
1881 明治 14	植木枝盛の憲法私案が発表される。 国会開設の勅諭が出される。 自由党が結成される。
1882 15	伊藤博文らがヨーロッパに派遣される。 立憲改進黨が結成される。
1885 18	内閣制度ができる。
1888 21	枢密院が置かれる。
1889 22	大日本帝国憲法が公布される。
1890 23	教育勅語が公布される。 第1回国議会が開かれる。

## ▲大日本帝国憲法公布式典(1889年2月11日)

天皇が内閣総理大臣黒田清隆に授ける形で公布された。

## 「東洋大日本国憲法」(部分)

第42条 日本ノ人民ハ法律上ニ於テ平等トナス  
 第49条 日本人民ハ思想ノ自由ヲ有ス


## ▲植木枝盛による憲法私案

国民の自由と平等を認めている。このほかにも、「五日市憲法」などの案が民間でつくられた。

- (3) **教育勅語の公布** 教育の基本理念として、忠君愛国を説いた。学校教育を通じて国民に広まった。

## 2 帝国議会

- (1) **帝国議会** 憲法にもとづいて開かれた。衆議院[国民の選挙によって議員を選ぶ]と貴族院[皇族・華族の代表と天皇の任命などで議員を選ぶ]の二院制。
- (2) **選挙権** 衆議院議員の選挙権は直接国税を15円以上納める満25歳以上の男子にあたえられた(制限選挙)。選挙権をもったのは総人口の1.1%にすぎなかった。
- (3) **議会政治** 1890年に第1回衆議院議員総選挙が行われ、自由民権派の流れをくむ政党(民党)が多数を占め、政府と対立した。
- (4) **法律の整備** 刑法や民法[戸主の権限が強く、女性の地位が低い]を制定した。



## ▲投票所のような様子(ビゴアの風刺画)

手前の人物が投票するのを、役人や警察官が監視しており、選挙権を持たない人々が見物していた。

## 1 憲法制定

- (1) 1881年に国会開設の勅諭が出されたことを受けて、その直後に板垣退助らによって結成された政党は何か。 [ ]
- (2) 憲法制定に向けて政治のしくみを整えるため、太政官制にかわって1885年に設けられた制度は何か。 [ ]
- (3) ヨーロッパに派遣されて各国の憲法を学び、帰国後に憲法草案を中心となって作成したのはだれか。 [ ]
- (4) 自由民権運動の活動家として活躍し、次に示す憲法の私案を作成したのはだれか。

●「東洋大日本国国憲按」(部分)

第42条 日本ノ人民ハ法律上ニ於テ平等トナス

第49条 日本人民ハ思想ノ自由ヲ有ス

- (5) 1889年に、日本で最初の近代憲法が発布された。この憲法を何というか。 [ ]
- (6) (5)の憲法は、ヨーロッパのある国の憲法にならってつくられた。その国はどこか。 [ ]
- (7) (5)の憲法は、国民を代表して内閣総理大臣の( )に授けられる形で発布された。( )にあてはまる人物はだれか。 [ ]
- (8) 次の資料は、(5)の憲法の条文を表している。( )に共通してあてはまる語句を答えなさい。

第1条 大日本帝国ハ万世一系ノ( )之ヲ統治ス

第3条 ( )ハ神聖ニシテ侵スヘカラス

- (9) 1890年に出された、忠君愛国を教育の基本理念として示したものは何か。 [ ]

## 2 帝国議会

- (1) 帝国議会には2つの議院が置かれた。そのうち、皇族や華族、天皇が任命した議員によって構成された議院を何というか。 [ ]
- (2) 帝国議会に置かれた2つの議院のうち、国民による選挙で選出された議員によって構成された議院を何というか。 [ ]
- (3) (2)の議員の選挙権は、直接国税15円以上を納める満( )歳以上の男子にあたえられた。( )にあてはまる数字を答えなさい。 [ ]
- (4) (3)のように、選挙権が一定の年齢以上のすべての人にあたえられない選挙のことを何というか。 [ ]

1 次の文章を読んで、あとの問いに答えなさい。

1881年、政府が10年後に国会を開くことを約束すると、あ板垣退助や大隈重信らは政党を結成した。ヨーロッパに派遣された伊藤博文は、いドイツの憲法を学び、帰国後にう憲法草案を作成した。1885年にはえ内閣制度がつくられた。1889年にお大日本帝国憲法が公布され、立憲政治が始まった。か翌年には衆議院議員選挙が行われ、第1回（き）が開かれた。


- (1) 下線あに関して述べた文として最も適当なものを次から1つ選び、記号で答えなさい。
- ア すべての政党が政府の組織となった。                      イ 政府は、すべての政党に助成金を支給した。  
ウ 政府は、自由民権運動の活動を取り締まった。              エ 政府は、すべての政党の活動を禁止した。                      [                      ]

- (2) 大日本帝国憲法が、下線いを参考にしてつくられたのはなぜか。下線いの特色にふれて答えなさい。  
[                      ]

- (3) 下線うについて、次の問いに答えなさい。
- ① 憲法は、天皇の求めによって重要な問題を審議する機関によって審議された。この機関は何か。                      [                      ]
- ② 憲法草案は、民間でも多くつくられた。そのうち、現在の東京都あきる野市で発見され、地元の青年たちによってまとめられたものは何と呼ばれているか。                      [                      ]

- (4) 下線えについて、はじめてできた内閣で伊藤博文がついた職を次から1つ選び、記号で答えなさい。
- ア 太政大臣              だじうだいじん              イ 左大臣              ウ 右大臣              エ 内閣総理大臣                      [                      ]

- (5) 下線おについて、次の問いに答えなさい。
- ① この憲法では、国民の権利は「（                      ）の権利」として制限つきで認められた。（                      ）にあてはまる最も適当な語句を漢字2字で答えなさい。                      [                      ]
- ② 右の図は、憲法公布の式典のようすを表している。図中のA・Bにあてはまる人物の組み合わせとして最も適当なものを次から1つ選び、記号で答えなさい。
- ア A = 明治天皇、B = 黒田清隆              イ A = 明治天皇、B = 伊藤博文  
ウ A = 伊藤博文、B = 明治天皇              エ A = 伊藤博文、B = 黒田清隆                      [                      ]



- (6) 下線かについて、次の問いに答えなさい。
- ① 右の図は、投票所のようすをえがいた風刺画を表している。図中にXで示した人物についての説明として最も適当なものを次から1つ選び、記号で答えなさい。
- ア 投票のようすを見ている見物人              イ 投票のようすを監視している警察官  
ウ 投票の順番を待つ有権者                      エ 投票に立ち会う選挙管理委員                      [                      ]

- ② この年に出された教育勅語では、何を教育理念としたか。漢字4字で答えなさい。                      [                      ]

- (7) （き）には、衆議院と貴族院からなる議会があてはまる。最も適当な語句を答えなさい。                      [                      ]

## 1 次の問いに答えなさい。

□(1) 右の図は、初代内閣総理大臣を表している。この人物の名を答えなさい。

[ ]

□(2) 1889年に発布され、天皇を元首と定めた憲法は何か。

[ ]

□(3) (2)の憲法は、とくにどの国の憲法を参考にしてつくられたか。

[ ]

□(4) 次の資料は、憲法が発布された翌年に出されたものの初めの部分である。これを何というか。

朕ちんおも惟わフニ我こカ皇そう祖そ皇そう宗そう国はしヲ肇はしムルコト宏こう遠えんニ德たヲ樹しんツルコト深しん厚こう  
ナリ（私が思うに、わが皇室の祖先が国を始められてから代々築かれてきた徳は深く厚いものである。）

[ ]

□(5) 帝国議会は2つの議院から構成されていた。衆議院と、もう1つは何という議院か。

[ ]

## 2 右の図は、明治時代の憲法にもとづく政治のしくみを表している。これを見て、次の問いに答えなさい。

□(1) 次の説明を参考に、図のA～Dにあてはまる語句をあとの「語群」から1つずつ選びそれぞれ答えなさい。

□ A 元首として国を統治し、軍隊を指揮する権限や条約を締結する権限などをもつ。

[ ]

□ B 憲法草案など重要な問題を審議するために置かれ、伊藤博文が初代議長となった。

[ ]

□ C 実際に政治を行う組織として1885年に置かれ、憲法では元首が行う行政を補佐すると定められた。

[ ]

□ D 国民から選挙された議員によって構成され、法律や予算について審議する。

[ ]

【語群】 参議院 衆議院 枢密院 大老 天皇 内閣 太政官

□(2) 次のできごとをおこった順に左から並べ、記号で答えなさい。

ア 内閣制度がつくられる。

イ 第1回帝国議会在開かれる。

ウ 日本で初めての近代憲法として大日本帝国憲法が発布される。

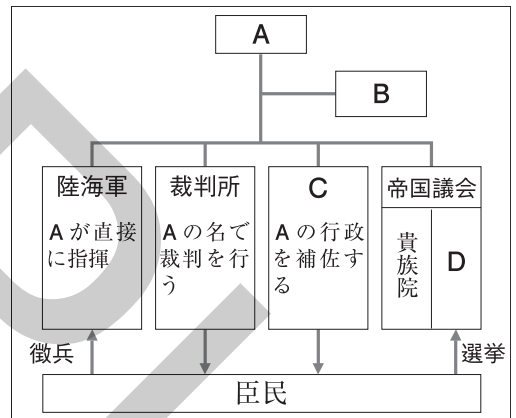
エ 最初の政党として自由党が結成される。

[ → → → ]

□(3) Dの議院について、はじめて行われた議員選挙では、選挙権はどのような人にあたえられたか。

3つの条件を入れて、簡単に答えなさい。

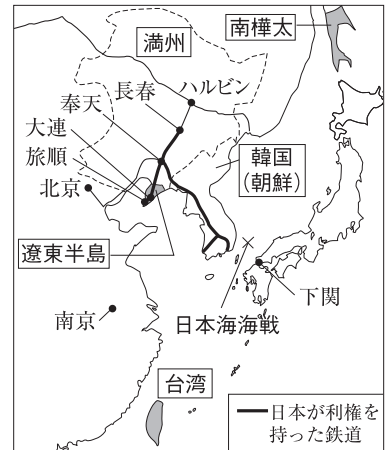
[ ]



## 1 日清・日露戦争

- (1) **帝国主義** 欧米列強がアジアやアフリカで植民地を広げた。
- (2) **日清戦争** 東学を信仰する人々が朝鮮で反乱をおこし（**甲午農民戦争**）、鎮圧のために出兵した清と日本が衝突した。
  - **下関条約** 清は、朝鮮の独立を認め、日本へ約3億円の賠償金を支払い、台湾・遼東半島をゆずった。→ **三国干渉** [ロシア・ドイツ・フランスが遼東半島を返すよう勧告]。
- (3) **日露戦争** 満州と朝鮮をめぐる日本とロシアが対立した。
  - **義和団事件** 日清戦争後、中国分割が進み、外国人排斥となえる義和団が1900年に北京の各国公使館を包囲した。→8か国の軍隊が出兵、ロシア軍は鎮圧後もとどまった。
  - **日英同盟** ロシアの進出に対抗することで日本とイギリスの利害が一致し、1902年に同盟を結んだ。
  - **日露戦争** 日本は旅順や奉天（現在の瀋陽）、日本海海戦などで勝利した。→日本の戦力が限界だったこと、ロシアで革命がおこったことから戦争継続が難しくなり、日本はアメリカに仲介を依頼した。幸徳秋水、内村鑑三、与謝野晶子などが戦争への反対や疑問を発表した。
  - **ポーツマス条約** ロシアは、韓国に対する日本の優越権を認め、樺太の南半分を割譲し、旅順・大連の租借権、南満州の鉄道の利権をゆずった。→日比谷焼き打ち事件がおこった。

年代		できごと
1886	明治 19	ノルマントン号事件がおこる。学校令が發布される。
1894	27	領事裁判権の撤廃に成功する。 日清戦争がおこる。
1895	28	下関条約、三国干渉。
1901	34	八幡製鉄所が生産を始める。
1902	35	日英同盟が結ばれる。
1904	37	日露戦争がおこる。
1905	38	ポーツマス条約が結ばれる。
1910	43	韓国を併合する。
1911	44	関税自主権の回復に成功する。



## 2 条約改正、韓国・中国との関係

- (1) **不平等条約の改正** ノルマントン号事件で条約改正の世論が高まった。→1894年、陸奥宗光がイギリスとの間で領事裁判権（治外法権）を撤廃した。→1911年、小村寿太郎が関税自主権の回復に成功した。
- (2) **韓国併合** 1905年、日本は韓国を保護国とし、韓国統監府を置いた（初代統監は伊藤博文）。1910年に韓国を併合、朝鮮総督府を置き植民地化した。
- (3) **辛亥革命** 中国で、1911年に三民主義をとる孫文を中心として辛亥革命がおこった。→1912年に南京を首都とする**中華民国**が成立、孫文が臨時大総統となった。のちに袁世凱が大総統となって独裁政治を行った。



▲ノルマントン号事件  
イギリス船ノルマントン号が沈没し、日本人乗客は全員水死した。イギリス領事による裁判でイギリス人船長に軽い罰しかあたえられなかった。

## 3 日本の産業革命と近代文化

- (1) **産業革命** 1880年代に官営事業の払い下げから軽工業（製糸業・紡績業）が発達した（第一次産業革命）。日清戦争の賠償金の一部を使って官営**八幡製鉄所**が建設された。日露戦争後に、製鉄・造船・機械などの重工業が発達した（第二次産業革命）。→三井・三菱・住友・安田などの資本家が**財閥**に成長した。
- (2) **社会の変化** 工場労働者の長時間労働、小作人の増加などの問題がおこった。渡良瀬川流域で**足尾銅山鉍毒事件**がおこり、日本で最初の公害問題となった。**田中正造**が被害者の救済や鉍毒の防止をうったえた。
- (3) **教育の普及・科学の発達** 学校令で小学校4年間の義務教育が定められ、1907年には6年に延長された。**北里柴三郎**（破傷風の血清療法）、**志賀潔**（赤痢菌）、**野口英世**（黄熱病）などの科学者が活躍した。

## 1 日清・日露戦争

- (1) 19世紀後半ごろから、欧米列強が植民地の拡大をはかってアジアやアフリカなどに進出した動きを何というか。 [ ]
- (2) 国内で混乱が続いていた朝鮮で、1894年に、民間信仰をもとにした東学を信仰する人々や農民による大きな反乱がおこった。この反乱を何というか。 [ ]
- (3) 朝鮮半島での影響力を争って、1894年に日本と中国との間でおこった戦争を何というか。 [ ]
- (4) (3)の戦争の講和条約は、講和会議が行われた場所の地名から何と呼ばれているか。 [ ]
- (5) ドイツ・フランスとともに、日本に対して遼東半島を中国へ返すように勧告を行った国はどこか。 [ ]
- (6) 列強による中国分割が進むなか、外国人排斥をととなえ、1900年には北京の各国公使館を包囲した団体を何というか。 [ ]
- (7) 1902年に、ロシアの南下に対抗することで利害が一致した国との間で日本が結んだ同盟を何というか。 [ ]
- (8) アメリカ合衆国の仲介によって結ばれた、日露戦争の講和条約を何というか。 [ ]

## 2 条約改正、韓国・中国との関係

- (1) 船の沈没によって日本人乗客が全員水死した事件で、イギリス人船長がイギリス領事による裁判で軽い罰しか受けず、条約改正の世論が高まった。この事件を何というか。 [ ]
- (2) 1910年に、日本が韓国を植民地化したことを何というか。 [ ]
- (3) 右の図は、三民主義をととなえ、中国の辛亥革命を指導した人物を表している。中華民国の臨時大総統となった、この人物はだれか。 [ ]

## 3 日本の産業革命と近代文化

- (1) 1901年に生産を開始した、現在の福岡県北九州市に建設された官営工場を何というか。 [ ]
- (2) 20世紀のはじめごろから見られるようになった、三井・三菱・安田などが形成した、少数の大資本家一族を何というか。 [ ]
- (3) 渡良瀬川流域で発生した鉱毒事件が、日本で最初の公害問題といわれる。田中正造が問題の解決のために努力した、この鉱毒事件を何というか。 [ ]
- (4) 破傷風の血清療法を発見した日本の医学者はだれか。 [ ]



# 練成問題

## 1 右の略年表を見て、次の問いに答えなさい。

□(1) 下線あでは、欧化政策の1つとして舞踏会などがもよおされた。このような欧化政策の目的を、「**欧米**」「**文明国**」の2つの語句を用いて簡単に答えなさい。

[ ]

□(2) 下線いでは、あることがらについての世論が高まった。このことに最も関係の深いできごとを年表中の**A**～**D**から1つ選び、記号で答えなさい。

[ ]

□(3) 下線うの内容に関して、ロシア・ドイツ・フランスは、日本に対して遼東半島を中国へ返すように勧告を行った。このことについて、次の問いに答えなさい。

□① この、ロシア・ドイツ・フランスが勧告を行ったことを何というか。 [ ]

□② 遼東半島の位置を右の略地図中から1つ選び、記号で答えなさい。 [ ]

□(4) 下線えを中心に形成された工業地帯を次から1つ選び、記号で答えなさい。

ア 京浜工業地帯

イ 阪神工業地帯

ウ 北九州工業地帯

エ 中京工業地帯

[ ]

□(5) (お)には、足尾銅山鉍毒事件の解決に努力した人物の名があてはまる。この人物の名を答えなさい。

[ ]

□(6) (か)にあてはまる戦争名を答えなさい。

[ ]

□(7) 下線きの条約の内容として最も適当なものを次から1つ選び、記号で答えなさい。

ア 台湾を日本の領土とする。

イ 韓国を日本の植民地とする。

ウ 日本は約3億円の賠償金を得る。

エ 日本は南満州の鉄道の権利を得る。

[ ]

□(8) (く)には孫文を中心としておこったできごとがあてはまり、この翌年には、中華民国が成立した。このできごとを何というか。

[ ]

□(9) 年表に示した時代に活躍し、右の詩を発表して戦争への疑問を投げかけた人物の名を答えなさい。 [ ]

年代	できごと
1883	あ 鹿鳴館が完成する。
1886	い ノルマントン号事件がおこる。
1894	領事裁判権の撤廃に成功する。…A
1895	う 下関条約が結ばれる。
1901	え 八幡製鉄所が生産を始める。…B (お)が天皇に直訴する。
1904	(か)がおこる。
1905	き ポーツマス条約が結ばれる。
1907	義務教育が6年制になる。……C
1911	関税自主権の回復に成功する。…D 中国で(く)がおこる。



あゝをとうとよ君を泣く  
君死にたまふことなけれ  
末に生まれし君なれば  
親のなさはまさりしも  
親は刃をにぎらせて  
人を殺せとをしへしや  
人を殺して死ぬよとて  
二十四までをそだてしや

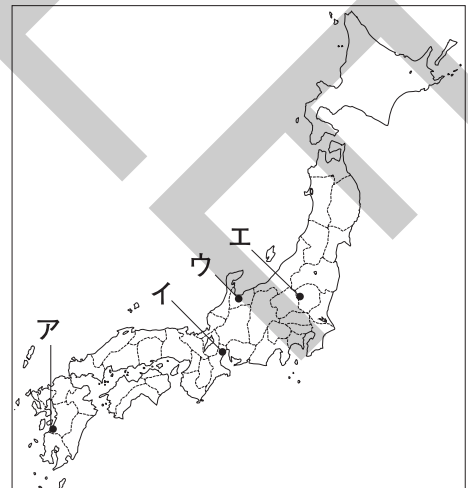
## 1 次の問いに答えなさい。

- (1) 日清戦争の講和条約で清から日本にゆずりわたされることになったが、ロシア・ドイツ・フランスの勧告によって清に返した地域はどこか。 [ ]
- (2) 日露戦争の講和条約は、講和会議が行われた場所の地名から何と呼ばれているか。 [ ]
- (3) 1894年に、イギリスとの間で領事裁判権（治外法権）の撤廃に成功した、日本の外務大臣はだれか。 [ ]
- (4) 1911年におこった辛亥革命により、翌1912年に、南京を首都として成立した国は何か。 [ ]
- (5) 伝染病の研究に力を注ぎ、アフリカで黄熱病を研究していて、1928年に自身も黄熱病にかかって死去した日本の医学者はだれか。 [ ]

## 2 次の文章を読んで、あとの問いに答えなさい。

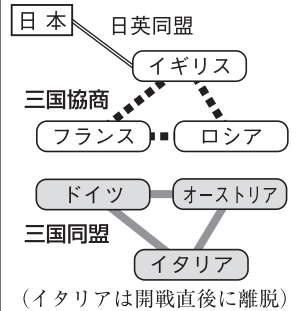
あ 欧米列強にならぶ強国をめざす日本は、朝鮮半島での影響力を強めようとして清と対立し、い 日清戦争に勝利した。さらに、う ロシアが満州への南下を進めたため、日本はえ 日露戦争を決意し、この戦争でも勝利を収めた。相次いで強国をやぶった日本の国際的地位は高まり、悲願であった条約改正を達成した。このころ、軽工業が大きく発達し、八幡製鉄所がつくられるなど、重工業も発達し始めた。その一方で、お 足尾銅山鉍毒事件などの問題も発生した。

- (1) 下線あは、アジア・アフリカに経済進出し、軍事力によって植民地を広げた。このような動きを何というか。最も適当なものを次から1つ選び、記号で答えなさい。  
ア 社会主義    イ 平和主義    ウ 帝国主義    エ 民主主義 [ ]
- (2) 下線いの講和条約で、日本は清から約3億円の賠償金を得た。この賠償金の多くは、どのようなことに使われたか。 [ ]
- (3) 下線うの動きに対抗することで利害が一致し、1902年に日本はヨーロッパのある国との間で同盟を結んだ。この同盟を何というか。 [ ]
- (4) 下線えについて述べた文として**不適当なもの**を次から1つ選び、記号で答えなさい。  
ア 東学を信仰する人々による甲午農民戦争がきっかけとなって開戦した。  
イ 日本海海戦で、日本の艦隊がロシアの艦隊をやぶった。  
ウ 戦後の講和条約に対する不満から日比谷焼き打ち事件などがおこった。  
エ ロシアは、国内で革命がおこり、戦争を継続することが難しくなった。 [ ]
- (5) 下線おの位置として最も適当なものを右の略地図中から1つ選び、記号で答えなさい。 [ ]



日本の動き			世界の動き		
1894	明治27	日清戦争がおこる。	1882		三国同盟が成立する。
1904	37	日露戦争がおこる。	1907		三国協商が成立する。
1915	大正4	中国に二十一か条の要求を出す。	1914		第一次世界大戦がおこる。(～18年)
1918	7	米騒動がおこる。 シベリア出兵。(～22年) 原敬内閣が成立する。	1917		ロシア革命がおこる。→ソビエト政府成立。
			1919		朝鮮で三・一独立運動がおこる。 中国で五・四運動がおこる。 ベルサイユ条約が結ばれる。
1920	9	国際連盟に加盟する。	1920		国際連盟が設立される。
1921	10	ワシントン会議に参加。(～22年)	1922		ソ連が成立する。

## ■第一次世界大戦前の情勢



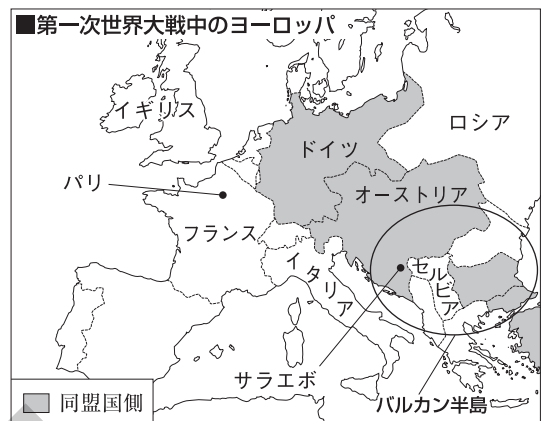
## 1 第一次世界大戦

## (1) 第一次世界大戦前の世界

- **三国同盟と三国協商** ドイツが急成長してイギリスやフランスと対立，三国同盟と三国協商の対立に発展した。
- **「ヨーロッパの火薬庫」** バルカン半島は，民族・宗教の対立に，列強の利害がからんで，紛争が絶えなかった。

## (2) 第一次世界大戦

- **サラエボ事件** 1914年，オーストリアの皇太子夫妻が，サラエボでセルビア人の青年に暗殺された。→オーストリアがセルビアに宣戦布告し，同盟国側と連合軍側の戦争に発展した。1917年にアメリカも参戦した。
  - **総力戦** 各国がすべての国力をつぎこみ，戦車・飛行機・潜水艦・毒ガスなどの新兵器も登場した。
- (3) **ロシア革命** 1917年，レーニンの指導する革命で社会主義の政府が生まれた。ソビエト政府は，土地を農民に分配し，銀行・鉄道・工場などを国営化した。1922年にソビエト社会主義共和国連邦（ソ連）が成立。
- (4) **第一次世界大戦の終結** 1918年に同盟国側のドイツが降伏し，第一次世界大戦が終結した。
- (5) **ベルサイユ体制** 1919年，パリで講和会議が開かれ，ベルサイユ条約が結ばれた。ドイツは植民地を失い，巨額の賠償金・軍備縮小などを課せられた。
- **国際連盟** アメリカ大統領ウィルソンの提案から1920年に設立。ジュネーブに本部を置き，日本は常任理事国となった。アメリカは議会の反対で不参加，ドイツ・ソビエト政府は加盟を認められなかった。
  - **国際協調の高まり** ドイツで1919年に民主的なワイマール憲法が制定され，20歳以上の男女普通選挙権や労働者の団結権が認められた。1921年からワシントン会議が開かれ，各国の海軍の軍備を制限した。



## 2 日本の参戦とアジアの動き

- (1) **日本の参戦** 日英同盟を理由に，連合軍側に立って参戦した。
- (2) **二十一か条の要求** 大戦中の1915年に，日本が中国に認めさせた。
- (3) **シベリア出兵** ロシア革命の影響が広がることをおそれ，各国が出兵。
- (4) **アジアの民族運動** ロシア革命や，第一次世界大戦後の民族自決の動きから民族運動が高まった。インドでは非暴力・不服従を唱えるガンディーが指導した。朝鮮では日本の植民地支配からの独立を求める三・一独立運動，中国では二十一か条の要求への不満などから五・四運動がおこった。



▲ガンディー 手前にあるものは，伝統的な糸紡ぎ機。インドの糸紡ぎはイギリスとの貿易ですたれた。伝統的な糸紡ぎを復活させることは不服従の象徴であった。

## 1 第一次世界大戦

- (1) 多くの民族や宗教が入り混じって対立し、「ヨーロッパの火薬庫」と呼ばれた半島を何というか。 [ ]
- (2) 第一次世界大戦前に、三国同盟を結んだ国は、ドイツとイタリアとどこか。 [ ]
- (3) 第一次世界大戦前に、イギリス・フランス・ロシアの3つの国が結んだ関係を何というか。 [ ]
- (4) 第一次世界大戦がおこるきっかけとなった、オーストリア皇太子夫妻が暗殺された事件がおきた都市はどこか。 [ ]
- (5) レーニンを指導者として1917年におこり、社会主義政府が生まれた革命を何というか。 [ ]
- (6) 1919年にフランスで結ばれた、第一次世界大戦の講和条約を何というか。 [ ]
- (7) アメリカ大統領ウィルソンの提案によってつくられた、世界平和や国際協調を目的とする国際機構は何か。 [ ]
- (8) (7)の国際機構の本部はジュネーブに置かれた。ジュネーブは、どの国に位置する都市か。 [ ]
- (9) 1919年にドイツで制定され、20歳以上の男女普通選挙権や労働者の団結権が認められた憲法は、何憲法と呼ばれているか。 [ ]
- (10) 1921年から開かれ、主要国の海軍の軍備の制限について決めたほか、日本が山東半島での權益を中国に返すことが決定された会議を何というか。 [ ]

## 2 日本の参戦とアジアの動き

- (1) 日本は、どの国との同盟関係にもとづいて第一次世界大戦に参戦したか。 [ ]
- (2) 次の資料は、日本が、ドイツのもっていた權益の引き継ぎや、日本の權益の拡大を、1915年に中国に認めさせたものの部分要約である。この要求を何というか。
 

- 一 中国政府は、ドイツが山東省にもつ權益を日本政府が引き継ぐことを認めること。
  - 一 旅順・大連の租借期限ならびに南満州鉄道の權益の期限を99か年延長すること。
  - 一 中国政府に日本人の政治・財政・軍事顧問を置き、中国の警察に多数の日本人をやとうこと。

 [ ]
- (3) イギリスの植民地であったインドで、非暴力・不服従の抵抗運動を指導した人物はだれか。 [ ]
- (4) 日本の植民地支配に苦しむ朝鮮の人々が、1919年にソウルでおこし、その後、朝鮮全土に広まった独立運動を何というか。 [ ]

## 練成問題

### 1 次の文章を読んで、あとの問いに答えなさい。

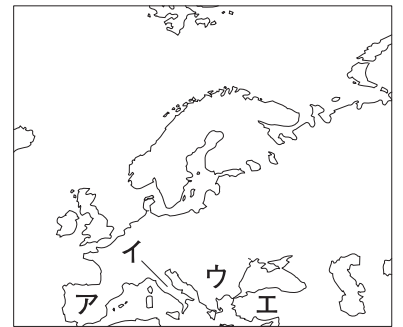
あバルカン半島では、さまざまな民族や宗教での対立に列強の利害による対立が加わり、い第一次世界大戦へと発展した。アメリカの参戦などで同盟国側は降伏し、1919年にう講和会議が開かれた。また、戦争がおこらないようにえ国際連盟が設立された。

日本は、第一次世界大戦を機に中国での権益を拡大しようとして、中国にお二十一か条の要求を認めさせた。大戦中の1917年にかロシア革命がおり、革命の広がりをおそれた日本や列強各国は（き）出兵を行った。大戦後には各地で民族運動が高まり、く中国では二十一か条の要求は不当であるとして反日運動がおこった。

□(1) 下線あについて、次の問いに答えなさい。

□① この半島の位置として最も適当なものを右の略地図中から1つ選び、記号で答えなさい。 [ ]

□② この半島は、第一次世界大戦前、いつ紛争がおこるかかわからない状態であったことから「ヨーロッパの（ ）」と呼ばれた。（ ）にあてはまる最も適当な語句を答えなさい。 [ ]



□(2) 下線いについて、次の問いに答えなさい。

□① 連合軍側の国の組み合わせとして最も適当なものを次から1つ選び、記号で答えなさい。

ア フランスとロシア      イ フランスとオーストリア

ウ ドイツとロシア      エ ドイツとオーストリア

[ ]

□② 第一次世界大戦で登場した新兵器として不適当なものを次から1つ選び、記号で答えなさい。

ア 毒ガス      イ 原子爆弾      ウ 戦車      エ 潜水艦

[ ]

□(3) 下線うでは、各民族が他の民族や国家に干渉かんしやうされることなく、帰属や政治を自主的に決める原則が唱えられ、この原則により、東ヨーロッパでは多くの国が独立した。この原則を何というか。 [ ]

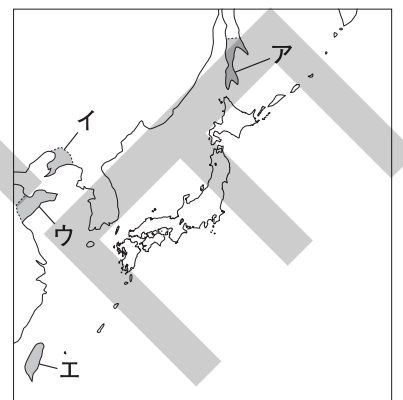
●□(4) 下線えは、世界平和を維持する国際機関としては多くの欠点をかかえていた。そのうち、設立時の参加国の面での欠点を答えなさい。 [ ]

□(5) 下線おで、第一次世界大戦前にドイツがもっていた権益を日本が引き継ぐとした地域はどこか。最も適当なものを右の略地図中から1つ選び、記号で答えなさい。 [ ]

□(6) 下線かによって社会主義の（ ）政府が成立した。（ ）にあてはまる最も適当な語句をカタカナで答えなさい。 [ ]

□(7) （き）にあてはまる最も適当な地名をカタカナで答えなさい。 [ ]

□(8) 下線くについて、この反日運動から発展した反帝国主義運動を何というか。 [ ]

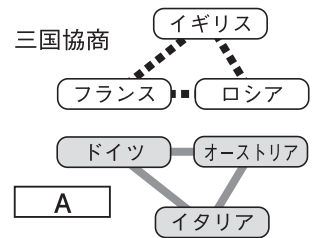


## 1 次の問いに答えなさい。

- (1) 第一次世界大戦前に三国協商を結んだ3つの国は、イギリス、ロシアともう1つの国はどこか。  
[ ]
- (2) 1917年のロシア革命を指導した人物の名を答えなさい。  
[ ]
- (3) 第一次世界大戦の講和会議が、1919年にヨーロッパのある国の首都で開かれた。この都市の名を答えなさい。  
[ ]
- (4) 国際連盟は、第一次世界大戦中のアメリカ大統領の提案によって設立された。このアメリカ大統領の名を答えなさい。  
[ ]
- (5) 第一次世界大戦後、ロシア革命や民族自決の動きの影響から、アジアの各地で民族運動が高まった。そのうち、ガンディーの指導で、非暴力・不服従の抵抗運動が行われた国はどこか。  
[ ]

## 2 右の図は、第一次世界大戦前の国際関係を表している。この図を見て、次の問いに答えなさい。

- (1) 図のAにあてはまる最も適当な語句を漢字4字で答えなさい。  
[ ]
- (2) このころのバルカン半島の情勢について述べた次の文章中の ( X ), ( Y ) にあてはまる国名の組み合わせをあとから1つ選び、記号で答えなさい。



バルカン半島にはさまざまな民族や宗教が入り混じっていた。スラブ民族の国である ( X ) は南下を進め、スラブ民族や正教会の動きを支持していた。ゲルマン民族の国である ( Y ) はこの動きをおさえようとして、両国は対立していた。

- ア X = フランス, Y = イタリア    イ X = フランス, Y = オーストリア
- ウ X = ロシア, Y = イタリア    エ X = ロシア, Y = オーストリア    [ ]
- (3) 第一次世界大戦中におこったできごとを次から1つ選び、記号で答えなさい。
  - ア イギリスで名誉革命がおこり、議会政治が発達した。
  - イ ロシア革命がおこり、社会主義の政府が生まれた。
  - ウ フランス革命がおこり、その後ナポレオンが権力をにぎった。
  - エ アメリカで独立戦争がおこり、その後アメリカ合衆国が成立した。    [ ]
- (4) 第一次世界大戦の講和条約として (     ) 条約が結ばれ、戦勝国が協力して平和を維持しようとする (     ) 体制がつけられた。(     ) に共通してあてはまる地名をカタカナで答えなさい。  
[ ]
- (5) 日本は、第一次世界大戦にどのような立場で参戦したか。「同盟国側」または「連合国側」の語句と「日英同盟」の語句を用いて、簡単に答えなさい。  
[ ]