

社会

中学1年

本書の構成と特色

■ 全体の構成

このテキストは、中学1年の1学期に学習する標準的な地理・歴史分野の重要事項を中心にまとめたものです。これらの内容の学習が、短期間で無理なく効果的に行えるように工夫、編集されています。

■ 単元の構成

各単元は、**学習の要点** → **確認問題** → **練成問題** で構成され、基本事項から無理なく学習することができます。確認問題は基本事項を一問一答で確認するかたちとなっており、練成問題は基本を理解したうえで、さらに実力の定着を図るために、多角的な問題で構成されています。

■ Check & Try

巻頭の「**事前に Check!**」は、基本事項を網羅的におさらいできる問題で構成してあります。定着の度合いを確認することができます。巻末の「**最後に Try!**」は、本書で学習した成果を簡単に確認することができます。定期テストの準備に最適です。

CONTENTS

		学習日
事前に Check!	2	<input type="text" value="/"/>
1 世界の姿	6	<input type="text" value="/"/>
2 日本の姿	10	<input type="text" value="/"/>
3 世界の人々の生活と環境	14	<input type="text" value="/"/>
4 人類の誕生と古代文明	18	<input type="text" value="/"/>
5 旧石器時代～古墳時代	22	<input type="text" value="/"/>
6 飛鳥時代・奈良時代	26	<input type="text" value="/"/>
最後に Try!	30	<input type="text" value="/"/>



どこまで身につけているか確かめよう!

1 世界の姿

- (1) 三大洋の一つで、最も面積の大きい海洋を何というか。
(1) _____
- (2) 六大陸のうち、面積が最も大きい大陸はどこか。
(2) _____
- (3) 世界を6つの州に分けると、ナイジェリアは何州にふくまれるか。
(3) _____
- (4) アジア州をさらに細かく区分したとき、日本は何という地域にふくまれるか。
(4) _____
- (5) 面積が世界最小の国は、どの国の首都に位置しているか。
(5) _____
- (6) 周囲を海に囲まれている国を何というか。
(6) _____
- (7) 海に面していない国を何というか。
(7) _____
- (8) 経度は、0度から、東西にそれぞれ何度ずつ分けられているか。
(8) _____
- (9) 経度0度の経線を一般に何というか。
(9) _____
- (10) 地球を縮小した立体模型で、地球上の距離、面積、方位、形がほぼ正確に表されているものを何というか。
(10) _____

2 日本の姿

- (1) 日本列島は、何という大陸の東に位置しているか。
(1) _____
- (2) 各国や地域の時刻の基準となる経線を何というか。
(2) _____
- (3) 日本列島を構成する4つの大きな島は、北海道、四国、九州と、もう一つは何か。
(3) _____
- (4) 東経123度のあたりに位置する、日本の西端の島を何というか。
(4) _____
- (5) 国後島、択捉島、色丹島、歯舞群島をまとめて何というか。
(5) _____
- (6) 日本の領海は海岸線から何海里と定められているか。
(6) _____
- (7) 日本固有の領土であるが、現在、中華人民共和国(中国)や台湾が領有権を主張している、沖縄県に属する島々を何というか。
(7) _____
- (8) 沿岸国に水産資源、海底資源を利用する権利がある、海岸線から200海里以内の水域を何というか。
(8) _____

(9) 日本の都道府県には、1都1道2府といくつの県があるか。

(9) _____

(10) 都道府県を7つの地方に区分したとき、愛知県や岐阜県などがふくまれる地方を何というか。

(10) _____

3 世界の人々の生活と環境

(1) カナダ北部などの北極海沿岸に伝統的にくらしてきた人々が、冬の間^かに狩りを行うさいにつくる、氷を積み重ねてできた家を何というか。

(1) _____

(2) シベリアに広がっている針葉樹林を何というか。

(2) _____

(3) 一年を通じてほとんど雨が降らない砂漠などが見られる気候帯を何というか。

(3) _____

(4) 砂漠の中で水が得られ、農業が可能な地域を何というか。

(4) _____

(5) 羊やラクダなどの家畜^{かちく}を連れて移動する牧畜形態を何というか。

(5) _____

(6) 草原などを焼き払い、できた灰を肥料にして作物を育てる農業を何というか。

(6) _____

(7) フィジーなど、赤道付近の地域の大部分が属する気候帯は何か。

(7) _____

(8) アンデス山脈の標高が高い地域で伝統的に飼育されてきた家畜は、アルパカと何か。

(8) _____

(9) クリスマスやイースターなどの行事がある、世界の三大宗教の一つは何か。

(9) _____

(10) タイの多くの人々に信仰^{しんこう}されている宗教は何か。

(10) _____

4 人類の誕生と古代文明

(1) 今から約700万年～600万年前に生きていた、現在知られている最古の人類を何というか。

(1) _____

(2) 今から約250万年前に始まった、地球が寒冷化した時代を何というか。

(2) _____

(3) 石を打ち欠いてつくった石器を何というか。

(3) _____

(4) 農耕^{ぼくちく}や牧畜が始まり、表面をみがいて形を整えた石器が使われるようになった時代を何というか。

(4) _____

(5) 紀元前3000年ごろにナイル川流域でおこった文明を何というか。

(5) _____

(6) 紀元前3000年ごろにチグリス川・ユーフラテス川流域でおこった文明を何というか。

(6) _____

(7) 紀元前2500年ごろ、現在のインドとパキスタンの国境付近を中心に栄えた文明を何というか。

(7) _____

(8) 紀元前5世紀ごろに仏教を開いた人物はだれか。

(8) _____

(9) 紀元前16世紀ごろ、^{こうが}黄河流域に栄えた、現在確認されている最古の中国の王朝を何というか。

(9) _____

(10) ローマ帝国と中国をつなぎ、中国からローマ帝国に絹織物が伝えられた交易路を何というか。

(10) _____

5 旧石器時代～古墳時代

(1) 縄文時代の人々が魔よけや自然からの豊かなめぐみを願うためにつくった人形を何というか。

(1) _____

(2) 縄文時代の代表的な遺跡である^{いせき}三内丸山遺跡が位置している都道府県はどこか。

(2) _____

(3) 縄文時代の人々が食べ物の残りなどを捨てた共同のごみ捨て場を何というか。

(3) _____

(4) ^{やよい}弥生時代に鉄器とともに大陸から伝来し、おもに祭りの道具として利用された銅鐸などの金属器の総称を何というか。

(4) _____

(5) 弥生時代に利用されるようになった、収穫した^{いね}稲を貯蔵するためにつくられた倉庫を何というか。

(5) _____

(6) 倭の奴国の王が授かるとされる^{しのかのしま}金印が発見された志賀島は、現在のどの都道府県に位置しているか。

(6) _____

(7) 中国の歴史書に見られる、女王^{ひみこ}卑弥呼によって治められていた国を何というか。

(7) _____

(8) 239年、卑弥呼が使いを送った中国の王朝はどこか。

(8) _____

(9) 3世紀後半に、現在の^{きんき}近畿地方を中心に成立した、^{おおきみ}大王と^{ごうぞく}豪族からなる勢力を何というか。

(9) _____

(10) ^{こかん}古墳のまわりや頂上に置かれた、人物・馬・家屋などをかたどった素焼きの土器を何というか。

(10) _____

6 飛鳥時代・奈良時代

(1) 天皇が女性の場合や幼い場合などに、天皇にかわって政治を行う役職を何というか。

(1) _____

(2) 家がらにとらわれず有能な人材を役人として登用するために^{しやうとくたいし}聖徳太子が定めた制度を何というか。

(2) _____

(3) 604年に聖徳太子が定めた、朝廷に仕える役人としての心構えを示したきまりを何というか。

(3) _____

(4) 607年に聖徳太子によって建てられた、現存する世界最古の木造建築物があることで知られる寺院を何というか。

(4) _____

(5) 7世紀前半に中国を統一した王朝を何というか。

(5) _____

(6) 7世紀半ばに大化の改新を進め、のちに即位して^{てんじ}天智天皇となった人物はだれか。

(6) _____

(7) 大化の改新を進めた中心人物の一人で、のちに藤原^{ふじわら}の姓^{せい}を与えられたのはだれか。

(7) _____

(8) 701年に中国の律令にならって全国を支配するための律令がつくられた。これを何というか。

(8) _____

(9) 奈良時代につくられた、諸国の自然や産物などをまとめた地理書を何というか。

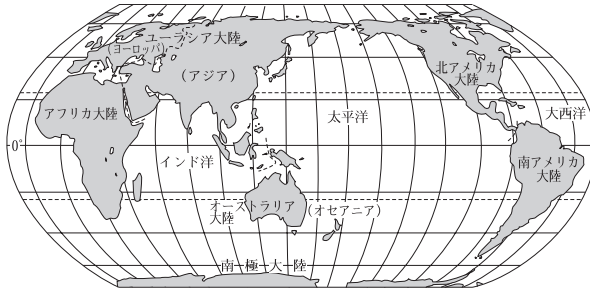
(9) _____

(10) 奈良時代に、神話や伝承、記録などをもとにしてつくられた歴史書は、『日本書紀』ともう一つは何か。

(10) _____

CAMP

1 海洋と大陸



▲世界の大陸と海洋



▲6つの州

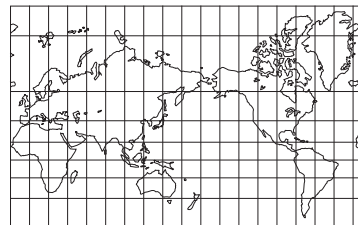
- (1) 水陸の分布…地球上の海洋と陸地の面積比は、およそ7：3。北半球のほうが南半球より陸地が多い。
→三大洋[太平洋, 大西洋, インド洋], 六大陸[ユーラシア大陸, アフリカ大陸, 北アメリカ大陸, 南アメリカ大陸, オーストラリア大陸, 南極大陸]。
- (2) 州区分…世界は、**アジア州**, **アフリカ州**, **ヨーロッパ州**, **北アメリカ州**, **南アメリカ州**, **オセアニア州**に分けられる。さらにアジア州は、東アジア, 東南アジア, 南アジア, 西アジア, 中央アジアなどに区分される。

2 世界の国々

- (1) 面積・人口…面積が最大の国は**ロシア連邦**[日本の国土面積の約45倍]。最小の国はイタリアの首都ローマ市内にある**バチカン市国**。人口はアジア州・アフリカ州で多く、中華人民共和国・インドの人口は約14億人。
- (2) 国境…山脈や川、緯線・経線などをもとに設けられている。
- ① 島国(海洋国)…周囲を海に囲まれている国→日本, フィリピン, キューバ, ニューゼalandなど。
 - ② 内陸国…海に面していない国→モンゴル, ラオス, ボリビア, オーストリア, スイスなど。
- (3) 国名の由来…世界の国々の名にはさまざまな由来がある→エクアドル[国土を通る「赤道」から], コロンビア[探検家コロンブスから], インド[大河を意味するインダス川から]など。

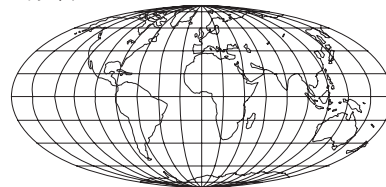
3 地球上の位置

- (1) 緯度…0度の赤道から南北に90度ずつ。赤道より北を**北緯**, 南を**南緯**。同じ緯度を結んだ線を**緯線**という。
- ① 緯度のちがいと気温の変化…高緯度地域のほうが低緯度地域に比べて気温が上がらず、寒い地域となる。
 - ② 北極圏や南極圏に近い高緯度地域…夏には一日中太陽がしずまず、うす明るい**白夜**の時期がある。また、冬には太陽がのぼらず、昼でもうす暗い**極夜**の時期がある。
- (2) 経度…イギリスの首都**ロンドン**を通過して北極点と南極点を結んだ線(**本初子午線**)を0度とし、東西に180度ずつ。0度より東を**東経**, 西を**西経**。同じ経度を結んだ線を**経線**という。
- (3) 対蹠点[ある地点から見て、地球のちょうど反対側の地点]の求め方…経度は、180度から経度を引き、東経と西経を逆にする。緯度は数値は変えず、北緯と南緯を逆にする。[東京の位置は、およそ東経140度, 北緯36度→東京の対蹠点は、およそ西経40度, 南緯36度。]



◀緯線と経線が直角に交わり、角度が正しく表される地図。海図など。

▼面積が正しく表される地図。分布図など。



▲図の中心からの方位や距離が正しく表される地図。

4 世界地図と地球儀

- (1) 世界地図…世界地図にはさまざまな種類があり、目的に応じて使い分けられている。
- (2) 地球儀…距離, 面積, 方位, 形のすべてがほぼ正確に表されている。

確認問題

1 <重要図版の確認> 次の各問いに答えなさい。

□(1) ①～⑥にあてはまる大陸の名を答えなさい。

□①〔 〕大陸

□②〔 〕大陸

□③〔 〕大陸

□④〔 〕大陸

□⑤〔 〕大陸

□⑥〔 〕大陸

□(2) ①～⑤にあてはまる語句を答えなさい。

北緯約23.4度の緯線

□①〔 〕

□②〔 〕

南緯約23.4度の緯線

□③〔 〕

□④〔 〕

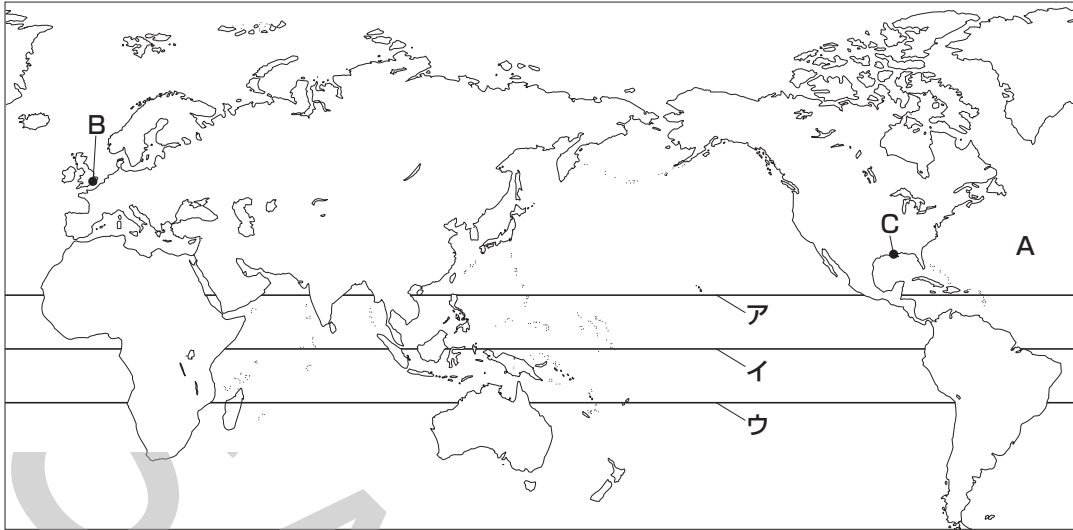
□⑤〔 〕

2 <重要語句の確認> 次の各問いに答えなさい。

- (1) 三大洋のうち、最も面積の大きい海洋を何というか。
(1) _____
- (2) 六大陸のうち、1つの国だけがある大陸を何というか。
(2) _____
- (3) アジア州をさらに分けると、日本は何という地域にふくまれるか。
(3) _____
- (4) 面積が世界最小の国を何というか。
(4) _____
- (5) 周囲を海に囲まれている国を何というか。
(5) _____
- (6) 海に面していない国を何というか。
(6) _____
- (7) 緯度0度の緯線を一般に何というか。
(7) _____
- (8) 経度0度の経線は、ある国の首都にある旧グリニッジ天文台を通る。この国はどこか。
(8) _____
- (9) 南極点は、南緯何度に位置しているか。
(9) _____
- (10) 高緯度地域では、一日中太陽がはずまず、うす明るい時期がある。これを何というか。
(10) _____

練成問題

1 次の略地図を見て、あとの問いに答えなさい。



- (1) 六大陸のうち、この地図にえがかれていない大陸の名を答えなさい。
 □(2) 三大洋のうち、Aで示した海洋の名を答えなさい。
 □(3) 右の表中の(X), (Y)にあてはまる数字の組み合わせとして最も適当なものを次から1つ選び、記号で答えなさい。

ア X=0.9, Y=4.2 イ X=1.5, Y=3.6
 ウ X=3.6, Y=1.5 エ X=4.2, Y=0.9

	面積
陸地の面積の合計	約(X)億km ²
海洋の面積の合計	約(Y)億km ²
地球の表面積	約5.1億km ²

- (4) 地図中のア~ウの線のうち、赤道を示しているものを1つ選び、記号で答えなさい。
 □(5) Bで示した都市には、0度の経線が通っている。これについて、次の問いに答えなさい。

□① この都市の名を次から1つ選び、記号で答えなさい。

ア ニューヨーク イ ベルリン
 ウ モスクワ エ ロンドン

□② 0度の経線を一般に何というか。答えなさい。

- (6) Cで示した都市の位置について、次の問いに答えなさい。

□① この都市のおよその位置として最も適当なものを次から1つ選び、記号で答えなさい。

ア 東経90度, 北緯30度 イ 西経90度, 北緯30度
 ウ 東経90度, 南緯30度 エ 西経90度, 南緯30度

□② この都市から見て、ちょうど地球の反対側にあたる地点の経度と緯度を答えなさい。

- (7) 次の各文は地球の高緯度地域と低緯度地域のどちらについて述べたものか。最も適当なものをあとから1つ選び、記号で答えなさい。

1 白夜とよばれる、太陽がしずまない時期がある。

2 比較的気温が上がらず、寒い地域となっている。

ア 1は高緯度地域、2は低緯度地域について述べている。

イ 1は低緯度地域、2は高緯度地域について述べている。

ウ 1も2も高緯度地域について述べている。

エ 1も2も低緯度地域について述べている。

- (1) _____
 (2) _____
 (3) _____
 (4) _____
 (5)① _____
 ② _____
 (6)① _____
 ② _____
 (7) _____

2 世界の国々について、次の問いに答えなさい。

□(1) 次のA～Dの国の説明として最も適当なものをあとのア～エから1つずつ選び、記号で答えなさい。

A アメリカ合衆国 B エクアドル C ロシア連邦 D ニュージーランド

ア この国は、面積が世界で最も大きい。 イ この国の緯度は、日本とほぼ同じところが多い。

ウ この国には、赤道が通っている。 エ この国は、4つの国の中で最も南極に近い。

□(2) 次の①・②の説明にあてはまる国の名をそれぞれ答えなさい。

□① この国の首都の中に、世界で最も面積が小さい国がある。

□② この国は、ある大陸の全体を国土としている。

□(3) 右の表は、人口が多い上位4か国を示している。表中のX～Zにあてはまる国の組み合わせとして最も適当なものを次から1つ選び、記号で答えなさい。

順位	国名
1位	X
2位	Y
3位	Z
4位	インドネシア

ア X=中華人民共和国, Y=インド, Z=アメリカ合衆国

イ X=中華人民共和国, Y=アメリカ合衆国, Z=インド

ウ X=アメリカ合衆国, Y=インド, Z=中華人民共和国

エ X=アメリカ合衆国, Y=中華人民共和国, Z=インド

□(4) 周囲を海に囲まれている島国(海洋国)にあてはまらない国を次から1つ選び、記号で答えなさい。

ア 日本 イ アイスランド

ウ キューバ エ ラオス

□(5) 海に面していない内陸国にあてはまらない国を次から1つ選び、記号で答えなさい。

ア モンゴル イ イギリス ウ スイス エ ネパール

□(6) 次の説明にあてはまる国をあとから1つ選び、記号で答えなさい。

この国は、アジア州をさらに細かく分けた場合の西アジアにふくまれている。また、この国は半島に位置する国である。

ア サウジアラビア イ ベトナム

ウ パキスタン エ 大韓民国(韓国)

(1)A _____

B _____

C _____

D _____

(2)① _____

② _____

(3) _____

(4) _____

(5) _____

(6) _____

3 右の略地図を見て、次の問いに答えなさい。

□(1) 地図中の都市のうち、東京から最も遠いのはどこか。答えなさい。

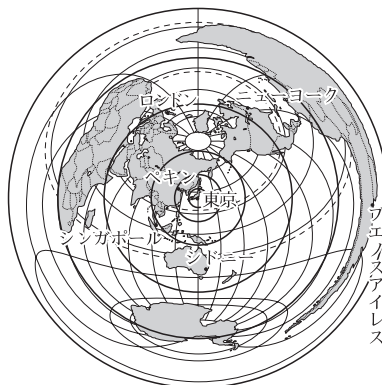
□(2) 東京から見て、シンガポールはどの方位にあるか。次から1つ選び、記号で答えなさい。

ア 北 イ 南

ウ 東 エ 西

オ 北東 カ 南東

キ 北西 ク 南西



(1) _____

(2) _____