

社会

中学1年

本書の構成と特色

■ 全体の構成

このテキストは、中学1年の後半に学習する標準的な地理・歴史分野の重要事項を中心にまとめたものです。これらの内容の学習が、短期間で無理なく効果的に行えるように工夫、編集されています。

■ 単元の構成

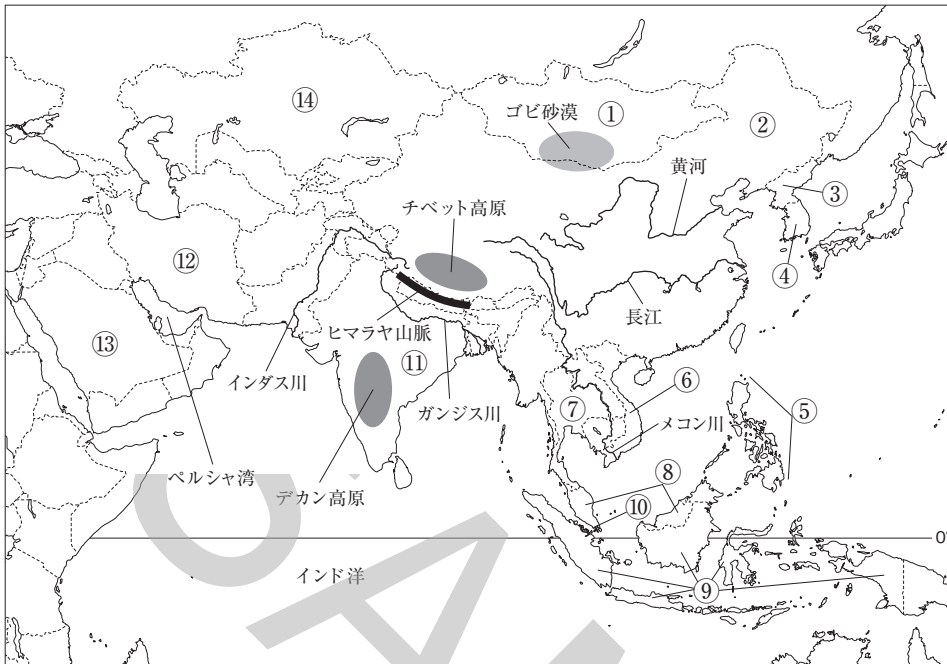
各単元は、**学習の要点** → **確認問題** → **練成問題** で構成され、基本事項から無理なく学習することができます。確認問題は基本事項を一問一答で確認するかたちとなっており、練成問題は基本を理解したうえで、さらに実力の定着を図るために、多角的な問題で構成されています。

■ Check & Try

巻頭の「**事前に Check!**」は、基本事項を網羅的におさらいできる問題で構成してあります。定着の度合いを確認することができます。巻末の「**最後に Try!**」は、本書で学習した成果を簡単に確認することができます。定期テストの準備に最適です。

CONTENTS

		学習日
事前に Check!	2	<input type="text" value="/"/>
1 アジア	6	<input type="text" value="/"/>
2 ヨーロッパ・アフリカ	10	<input type="text" value="/"/>
3 南北アメリカ・オセアニア	14	<input type="text" value="/"/>
4 飛鳥時代～平安時代	18	<input type="text" value="/"/>
5 鎌倉時代	22	<input type="text" value="/"/>
6 室町時代	26	<input type="text" value="/"/>
最後に Try!	30	<input type="text" value="/"/>



▲アジア州のようす

■東アジア

- ① モンゴル
- ② 中華人民共和国
- ③ 朝鮮民主主義人民共和国
- ④ 大韓民国

■東南アジア

- ⑤ フィリピン
- ⑥ ベトナム
- ⑦ タイ
- ⑧ マレーシア
- ⑨ インドネシア
- ⑩ シンガポール

■南アジア

- ⑪ インド

■西アジア

- ⑫ イラン
- ⑬ サウジアラビア

■中央アジア

- ⑭ カザフスタン

1 東アジア

- (1) 中華人民共和国(中国)…面積は約960万km²で、世界第4位の広さ。首都はペキン。
- ① 人口・民族…約14億人で世界第1位。人口増加をおさえるために一人っ子政策を行っていた。人口は沿海部に集中。多民族国家であり、中国人の約90%は漢族。少数民族が各地にくらしている。
 - ② 農業…温暖で夏に降水量が多い南部は稲作中心。降水量が少ない北部は小麦などの畑作中心。乾燥地帯が広がる西部は羊・やぎの牧畜(遊牧)がさかん。
 - ③ 経済と工業の発展…シェンチェンなど5つの地域を経済特区に指定し、外国の資金・技術を積極的に導入→低賃金で豊富な労働力をいかして工業生産が増加し、世界各地に製品を輸出→「世界の工場」と呼ばれる。
- (2) 大韓民国…アジアN I E S (新興工業経済地域)の一つに数えられている。ハングルを使用。首都はソウル。

2 東南アジア

- (1) 気候…大部分が熱帯。季節風(モンスーン)の影響を大きく受け、雨季と乾季が見られる。
- (2) 歴史と宗教…タイ以外の国は、かつてヨーロッパ諸国やアメリカ合衆国の植民地だった。インドシナ半島では仏教、インドネシアやマレーシアではイスラム教、フィリピンではキリスト教の信者が多い。華人が活躍。
- (3) 農業…植民地時代に外国の資本でつくられた大農園(プランテーション)で天然ゴム、あぶらやしなどを栽培して輸出。年に2回、同じ土地で稲を栽培する二期作がさかん。タイは世界有数の米の輸出国。
- (4) 工業化の進展…かつては原油、天然ゴム、木材など原料の輸出が多かったが、近年は機械類などが輸出の中心に。日本企業も多く進出している。
- (5) 東南アジア諸国連合(A S E A N)…経済・政治の相互援助を目的とし、東南アジアの10か国が加盟。

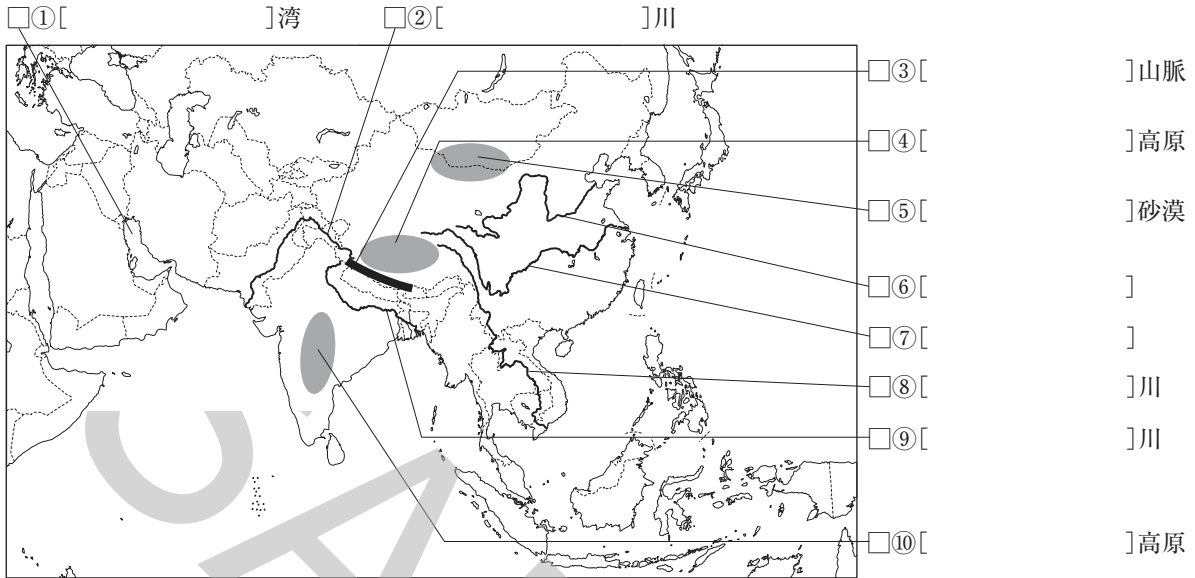
3 南アジア・西アジア・中央アジア

- (1) 南アジア…インドは、中国について人口が多い国。多くがヒンドゥー教を信仰。デカン高原で綿花栽培。インドでは近年、ICT(情報通信技術)産業が急速にのびている。
- (2) 西アジア・中央アジア…乾燥帯が広がる。多くがイスラム教を信仰。ペルシャ湾岸などで原油を産出。西アジアのおもな産油国は石油輸出国機構(O P E C)を結成。中央アジアではレアメタル(希少金属)を産出。

確認問題

1 <重要図版の確認> 次の各問いに答えなさい。

□(1) ①～⑩にあてはまる語句を答えなさい。



2 <重要語句の確認> 次の各問いに答えなさい。

□(1) 東アジアや東南アジアの気候に大きな影響を与えている、季節によって吹く向きが変わる風を何というか。

(1) _____

□(2) 人口の増加をおさえるために中国でとられていた、子どもの数を1夫婦1人に制限する政策を何というか。

(2) _____

□(3) 中国の国民の最も多くを占めているのは何民族か。

(3) _____

□(4) 外国の資本や技術を導入するために、中国沿海部のシェンチェンなどに設けられた地区を何というか。

(4) _____

□(5) 新興工業経済地域の略称をアルファベットで何というか。

(5) _____

□(6) 東南アジアで欧米の植民地時代に発達した大農園を何というか。

(6) _____

□(7) 東南アジアの一部の地域で行われている、1年のうちに同じ耕地で同じ作物を2回つくる栽培方法を何というか。

(7) _____

□(8) 東南アジア諸国のほとんどが加盟している地域組織を何というか。

(8) _____

□(9) インドで最も多くの人々が信仰している宗教は何か。

(9) _____

□(10) 近年、インドのベンガルールなどでは、情報通信技術産業が発達している。情報通信技術の略称をアルファベットで何というか。

(10) _____

□(11) 西アジアなどの産油国が結成している石油輸出国機構の略称をアルファベットで何というか。

(11) _____

● 練成問題

1 中華人民共和国(中国)について、次の問いに答えなさい。

□(1) 中国の人口について、次の問いに答えなさい。

□① 中国の人口を次から1つ選び、記号で答えなさい。

ア 約1億人 イ 約4億人 ウ 約6億人 エ 約14億人

□② 中国でとられていた一人っ子政策について述べた文として最も適当なものを次から1つ選び、記号で答えなさい。

ア 農村から都市への人口の流出を防ぐための政策。

イ 少数民族を保護するための政策。

ウ 人口の海外流出を防ぐための政策。

エ 人口の急激な増加をおさえるための政策。

□(2) 中国の産業について、次の問いに答えなさい。

□① 右の略地図中にXで示した地域について述べた文として適当なものを次から2つ選び、記号で答えなさい。

ア 雨が少ない冷涼な気候である。

イ 夏に雨が多い温暖な気候である。

ウ 畑作が農業の中心となっている。

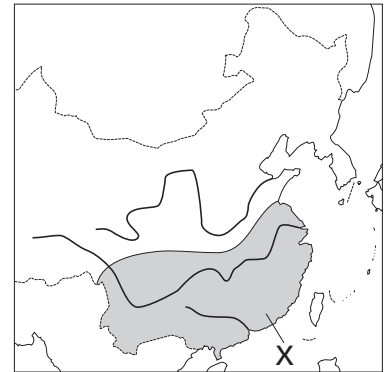
エ 稲作が農業の中心となっている。

オ 羊ややぎなどの放牧が農業の中心となっている。

□② 経済特区の一つに指定されている地域を次から1つ選び、記号で答えなさい。

ア シャンハイ イ ホンコン

ウ シェンチェン エ ペキン



(1)① _____

② _____

(2)① _____

② _____

2 右の略地図を見て、次の問いに答えなさい。

□(1) 夏の季節風(モンスーン)が吹く向きとして最も適当なものを地図中のア~ウから1つ選び、記号で答えなさい。

□(2) メコン川を地図中の1~4から1つ選び、番号で答えなさい。

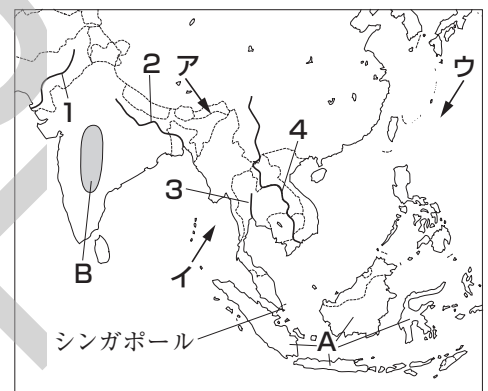
□(3) 地図中にAで示した国で最も信者が多い宗教を答えなさい。

□(4) 地図中にBで示した地域でさかんに栽培されている農作物として最も適当なものを次から1つ選び、記号で答えなさい。

ア ぶどう イ 綿花 ウ コーヒー豆 エ カカオ豆

□(5) シンガポールでは、華人と呼ばれる()系の人々が多くくらしている。()にあてはまる語句を次から1つ選び、記号で答えなさい。

ア 中国 イ マレー ウ ロシア エ アメリカ



(1) _____

(2) _____

(3) _____

(4) _____

(5) _____

3 次の各文はどの国について述べているか、答えなさい。

□(1) 人口は10億人をこえており、ヒンドゥー教徒が多い。

□(2) 首都はソウルであり、近年、工業の発達が著しい。

□(3) 東南アジアで唯一の第二次世界大戦以前からの独立国であり、国民の大部分は仏教徒である。

□(4) 聖地メッカが位置しており、原油を多く産出している。

(1) _____

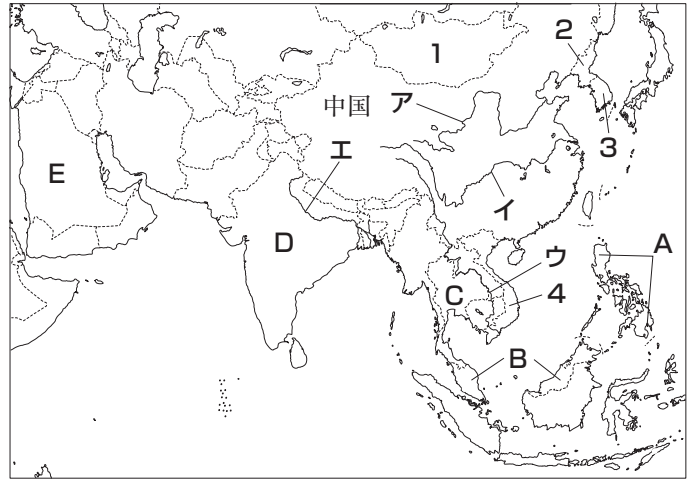
(2) _____

(3) _____

(4) _____

4 右の略地図を見て、次の問いに答えなさい。

- (1) 次の各文章で述べている河川を地図中のア～エから1つずつ選び、記号で答えなさい。
- ① インドシナ半島を流れ、この河川の一部はラオスとタイの国境として利用されている。
- ② 流域で稲作がさかんである。河口には、シャンハイが位置している。
- ③ この河川の流域には、黄土と呼ばれる土壌が広がっており、小麦などの栽培がさかんである。
- (2) 国土の大部分が乾燥帯に属しており、羊やらくだなどの家畜を飼う遊牧が行われている国として最も適当なものを地図中のA～Eから1つ選び、記号で答えなさい。
- (3) 中国について述べた文として最も適当なものを次から1つ選び、記号で答えなさい。



- ア 首都はバンコクである。
- イ OPECに加盟している。
- ウ 工業製品の生産・輸出がさかんで、「世界の工場」と呼ばれている。
- エ 人口は、沿海部よりも内陸部に集中している。
- (4) アジアNIE Sの一つに数えられる国を地図中の1～4から1つ選び、番号で答えなさい。
- (5) 地図中にA～Eで示した国について述べた文として最も適当なものを次からそれぞれ1つずつ選び、記号で答えなさい。
- ア ミンダナオ島でバナナの栽培がさかんである。
- イ 国民の多くが仏教徒である。
- ウ 国土の一部はマレー半島に位置し、国民の多くがイスラム教徒である。
- エ チベットなどに少数民族がくらしている。
- オ 日本が原油を最も多く輸入している。
- カ ベンガルールなどでICT産業が成長している。
- キ 日本との正式な国交は開かれていない。

(1)① _____

② _____

③ _____

(2) _____

(3) _____

(4) _____

(5)A _____

B _____

C _____

D _____

E _____

(6)① _____

② _____

- (6) 地図中にA～Cで示した国などが加盟しているASEANについて、次の問いに答えなさい。
- ① ASEANとは何の略称か、答えなさい。
- ② ASEANの加盟国の一つであるシンガポールについて述べた文として不適当なものを次から1つ選び、記号で答えなさい。
- ア 熱帯に属している。
- イ 大西洋に面している。
- ウ 華人が多くくらしている。
- エ アジアNIE Sの一つに数えられている。