

地理

中学1年

本書の構成と特色

■ 全体の構成

このテキストは、中学1年の後半に学習する標準的な地理分野の重要事項を中心にまとめたものです。これらの内容の学習が、短期間で無理なく効果的に行えるように工夫、編集されています。

■ 単元の構成

各単元は、**学習の要点** → **確認問題** → **練成問題** で構成され、基本事項から無理なく学習することができます。確認問題は基本事項を一問一答で確認するかたちとなっており、練成問題は基本を理解したうえで、さらに実力の定着を図るために、多角的な問題で構成されています。

■ Check & Try

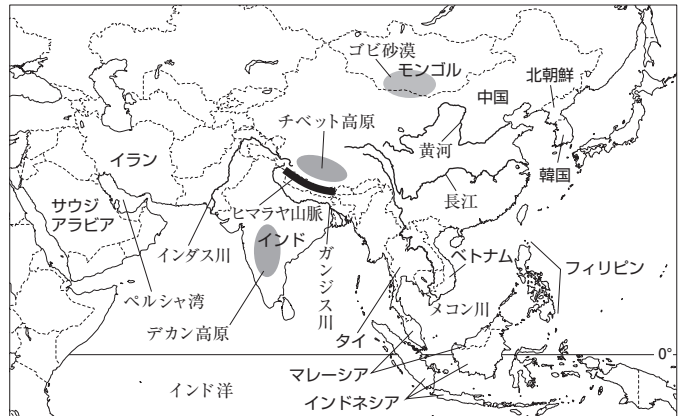
巻頭の「**事前に Check!**」は、基本事項を網羅的におさらいできる問題で構成してあります。定着の度合いを確認することができます。巻末の「**最後に Try!**」は、本書で学習した成果を簡単に確認することができます。定期テストの準備に最適です。

CONTENTS

		学習日
事前に Check!	2	<input type="text" value="/"/>
1 世界の諸地域	6	<input type="text" value="/"/>
2 身近な地域の調査	10	<input type="text" value="/"/>
3 日本の地域的特色	14	<input type="text" value="/"/>
4 九州・中国・四国地方	18	<input type="text" value="/"/>
5 近畿・中部・関東地方	22	<input type="text" value="/"/>
6 東北・北海道地方	26	<input type="text" value="/"/>
最後に Try!	30	<input type="text" value="/"/>

1 アジア州

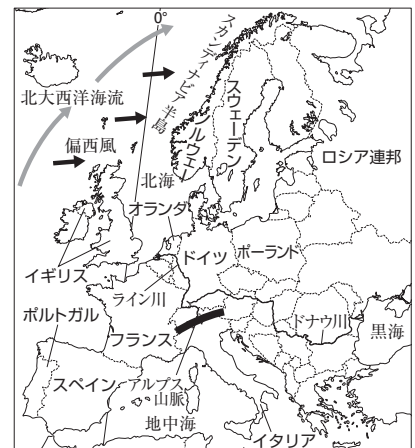
- (1) 気候…東・東南・南アジアは季節風(モンスーン)の影響。西・中央アジアは乾燥帯。
- (2) 中華人民共和国(中国)…人口は約14億人、約9割が漢族。人口増加を抑えるための一人っ子政策は廃止。経済特区を設けた沿海部と内陸部で経済格差。南部で稲作、北部で畑作。
- (3) アジア N I E S…急速に工業化が進んだ大韓民国(韓国)、シンガポール、台湾、香港。
- (4) 東南アジア…華人が経済面で活躍。プランテーションで天然ゴムや油やしなどを栽培して輸出。東南アジア諸国連合(ASEAN)を結成し連携を強化。
- (5) インドは情報通信技術(ICT)産業が発達。西アジアの産油国は石油輸出国機構(OPEC)に加盟。



▲アジア州のようす

2 ヨーロッパ州・アフリカ州

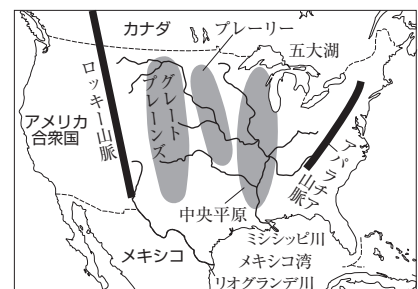
- (1) ヨーロッパ州…気候は暖流の北大西洋海流と偏西風の影響を受ける。北西部は西岸海洋性気候、南部は地中海性気候。ロシア連邦は冷帯。高緯度地域では白夜。スカンディナヴィア半島沿岸にはフィヨルド。
 - ・北西部はプロテスタントが多くゲルマン系言語、南部はカトリックが多くラテン系言語、東部は正教会が多くスラブ系言語。
 - ・ヨーロッパ連合(EU)は、西ヨーロッパから東ヨーロッパへ加盟国が拡大したが、域内で経済格差。共通通貨はユーロ。
 - ・フランスやドイツなどで混合農業、地中海沿岸で地中海式農業、北部で酪農。EU加盟国共同で、航空機などを製造・輸出。
- (2) アフリカ州…北部はサハラ砂漠が広がり乾燥帯、イスラム教徒が多い。ナイル川は世界最長の河川。サヘルでは、砂漠化が進行。かつて、大部分の国がヨーロッパ諸国の植民地。
 - ・プランテーションでカカオ豆や茶を生産して輸出。鉱産資源が豊富で、レアメタルも産出。多くの国がモノカルチャー経済で、収入が安定しない。生産者を支援するフェアトレードの取り組み。
 - ・南アフリカ共和国で行われていたアパルトヘイト(人種隔離政策)は撤廃。アフリカ連合(AU)で統合を強化。



▲ヨーロッパ州のようす

3 北アメリカ州・南アメリカ州・オセアニア州

- (1) 北アメリカ州…アメリカ合衆国を中心にカナダ、メキシコが経済的なつながりを強めている。メキシコ湾周辺はハリケーンの被害。
 - ・アメリカ合衆国…移民が多く、中南米からのヒスパニックが増加。機械を使った大規模な農業が行われ、地域の土壌や気候に合わせた適地適作が発達。工業の中心は、五大湖周辺[デトロイト(自動車産業)、ピッツバーグ(鉄鋼業)]から、北緯37度以南のサンベルトへ。シリコンバレーのICT関連産業のほか、航空宇宙産業など先端技術産業が発達。多国籍企業が各国へ進出。
- (2) 南アメリカ州…太平洋岸にアンデス山脈。アマゾン川(流域面積が世界最大)流域には広大な熱帯林が広がり、焼畑農業。ヨーロッパの植民地だった背景から、公用語は多くの国でスペイン語、ブラジルはポルトガル語。
 - ・ブラジル…コーヒー豆の生産・輸出国。熱帯林の減少が問題に。さとうきびを原料とするバイオ燃料が普及。
 - ・アルゼンチンのパンパで小麦の栽培や肉牛の放牧。チリは銅、ベネズエラは原油、ブラジルは鉄鉱石の産出。
- (3) オセアニア州…先住民族は、オーストラリアがアボリジニ、ニュージーランドがマオリ。オーストラリアは白豪主義が撤廃され、現在は多文化社会。西部で鉄鉱石、東部で石炭を産出。牧羊や牧牛がさかん。イギリスの植民地だった国が多く、イギリスとの結び付きが強かったが、近年はアジアとのつながりを強めている。



▲北アメリカ州のようす

確認問題

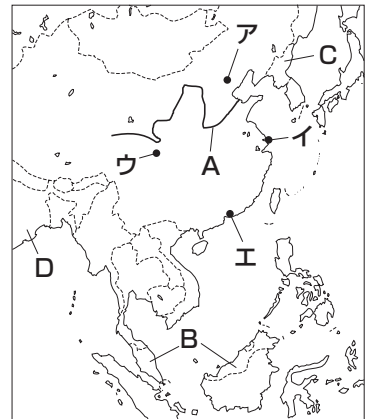
1 <重要語句の確認> 次の各問いに答えなさい。

- (1) 東アジアや東南アジアの気候に影響をおよぼす、夏と冬で向きが変わる風を何というか。 (1) _____
- (2) 中国で、外国の資本や技術を導入するために、沿海部のシェンチェンなどに設けられた地区を何というか。 (2) _____
- (3) 東南アジアで、天然ゴムや油やしなどを輸出用に大量に生産している、欧米の植民地時代に発達した大規模な農園を何というか。 (3) _____
- (4) 東南アジアのほとんどの国が加盟している地域協力機構を何というか。 (4) _____
- (5) ヨーロッパの気候に影響をおよぼしている、一年を通して西から東に向かって吹く風を何というか。 (5) _____
- (6) 英語やドイツ語など、ヨーロッパの北西部で多く話されている言語は何系言語か。 (6) _____
- (7) ヨーロッパで広く行われてきた、小麦やとうもろこしなどの穀物栽培と、豚などの家畜の飼育を組み合わせた農業を何というか。 (7) _____
- (8) アフリカ大陸を流れる、世界で最も長い川を何というか。 (8) _____
- (9) 近年、サヘルで深刻化している地球環境問題は何か。 (9) _____
- (10) アフリカ州の国に多く見られる、特定の農産物や鉱産資源の生産と輸出に依存した経済を何というか。 (10) _____
- (11) 近年、アメリカ合衆国で増加している、スペイン語を話す中・南アメリカからの移民を何というか。 (11) _____
- (12) アメリカ合衆国で発達している、地域の気候や土壌など、自然環境に合った農作物を生産することを何というか。 (12) _____
- (13) 1970年代以降に工業が発達した、アメリカ合衆国の北緯37度より南の地域を何というか。 (13) _____
- (14) アメリカ合衆国に多く見られる、世界各地に支社や工場、販売店などをもち、国境をこえて活動している企業を何というか。 (14) _____
- (15) 南アメリカ大陸の太平洋岸に、南北に連なる山脈を何というか。 (15) _____
- (16) ブラジルで普及している、さとうきびなどの植物を原料としてつくられる燃料を何というか。 (16) _____
- (17) アルゼンチンの広い範囲に広がっている、小麦の栽培や牧畜などがさかんな草原を何というか。 (17) _____
- (18) オーストラリアの先住民を何というか。 (18) _____
- (19) かつて、オーストラリアでとられていた、ヨーロッパ系以外の移民を制限する政策を何というか。 (19) _____

練成問題


1 右の略地図を見て、次の問いに答えなさい。

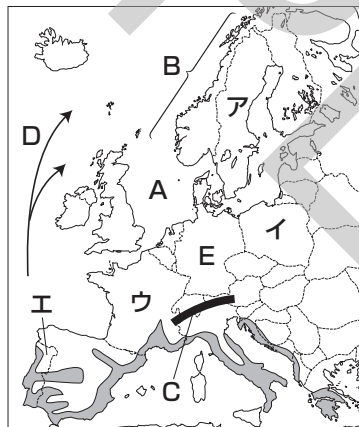
- (1) Aで示した河川について、次の問いに答えなさい。
- ① この河川の名を答えなさい。
- ② この河川の流域でさかんに行われている農牧業として最も適当なものを次から1つ選び、記号で答えなさい。
- ア 小麦や大豆などの栽培
イ 米の二期作
ウ さとうきびや茶の栽培
エ 羊やぎの遊牧
- (2) 経済特区に指定されているシェンチェンの位置を地図中のア～エから1つ選び、記号で答えなさい。
- (3) Bで示した国などの東南アジアで活躍している、中国系の人々を何というか、答えなさい。
- (4) Cで示した、日本と正式な国交が開かれていない国の名を答えなさい。
- (5) Dで示した国のデカン高原で生産がさかんで、多く輸出されている農作物として最も適当なものを次から1つ選び、記号で答えなさい。
- ア 米 イ 茶
ウ 綿花 エ 小麦
- (6) ペルシャ湾に面する、世界有数の原油産出国であり、イスラム教の聖地メッカが位置する国の名を答えなさい。



- (1) ① _____
② _____
- (2) _____
- (3) _____
- (4) _____
- (5) _____
- (6) _____

2 右の略地図を見て、次の問いに答えなさい。

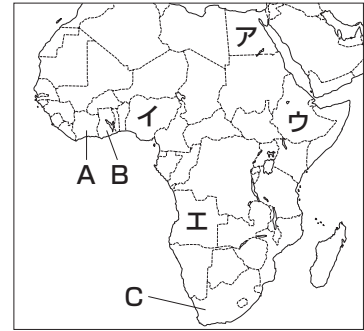
- (1) Aで示した海域名を答えなさい。
- (2) Bで示した沿岸に見られる、氷河によって削られた谷に海水が深く入りこんでできた湾を何というか、答えなさい。
- (3) Cで示した山脈名を答えなさい。
- (4) Dで示した暖流名を答えなさい。
- (5) で示した地域でさかんに行われている、乾燥する夏にオリーブやぶどう、かんきつ類、降水のある冬に小麦を生産する農業を何というか、答えなさい。
- (6) Eで示した国は、国内で産出される石炭と、国内を流れる国際河川の水運を背景に工業が発展した。この国の名と、この国を流れ、オランダに河口が位置する河川の名を答えなさい。
- (7) ユーロパ連合(EU)に、2000年以降に加盟した国を、地図中のア～エから1つ選び、記号で答えなさい。
- (8) EUの共通通貨を何というか、答えなさい。



- (1) _____
- (2) _____
- (3) _____
- (4) _____
- (5) _____
- (6) 国 _____
河川 _____
- (7) _____
- (8) _____

3 右の略地図を見て、次の問いに答えなさい。

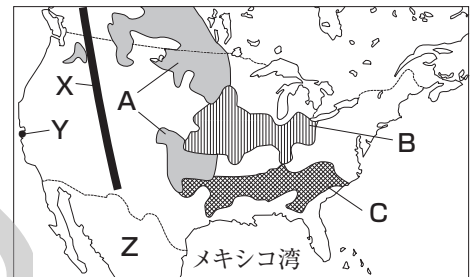
- (1) アフリカ大陸北部に広がる世界最大の砂漠の名を答えなさい。
- (2) A, Bで示した国について、次の問いに答えなさい。
 - ① この2か国が面する湾の名を答えなさい。
 - ② この2か国が生産量1位・2位である農作物を次から1つ選び、記号で答えなさい。
 ア カカオ豆 イ とうもろこし
 ウ 油やし エ 茶
- (3) Cで示した国について、次の問いに答えなさい。
 - ① この国で行われていた、少数のヨーロッパ系の人々が大多数のアフリカ系の人々を差別する政策を何というか、答えなさい。
 - ② この国をはじめ、アフリカ州の国々では、クロムやプラチナなど、地球上に埋蔵量が少なく、取り出すことが難しい希少金属が産出される。このような希少金属をカタカナで何というか、答えなさい。
- (4) アフリカ州で人口が最も多いナイジェリアの位置を地図中のア～エから1つ選び、記号で答えなさい。



- (1) _____
- (2) ① _____
② _____
- (3) ① _____
② _____
- (4) _____

4 右の略地図を見て、次の問いに答えなさい。

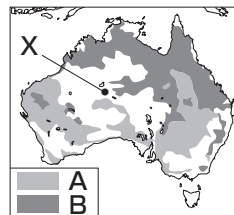
- (1) Xで示した山脈の名を答えなさい。
- (2) 中央平原を流れる、世界有数の長さをもつ河川の名を答えなさい。
- (3) A～Cで示した地域でさかんに行われている農業として最も適当なものを次から1つずつ選び、記号で答えなさい。
 ア 小麦の栽培 イ 果樹の栽培 ウ 酪農
 エ 綿花の栽培 オ とうもろこしの栽培
- (4) Yで示した、情報通信技術(ICT)関連産業の企業が集中している地域を何というか、答えなさい。
- (5) メキシコ湾や、南アメリカ大陸北部で多く産出され、南アメリカ州のベネズエラの主要な輸出品となっている鉱産資源を次から1つ選び、記号で答えなさい。
 ア 石炭 イ 原油 ウ 鉄鉱石 エ 銅鉱
- (6) Zで示した国や、南アメリカ州のコロンビアやチリなど、ブラジルを除く多くの国で公用語となっている言語は何か、答えなさい。



- (1) _____
- (2) _____
- (3) A _____ B _____ C _____
- (4) _____
- (5) _____
- (6) _____

5 右の略地図を見て、次の問いに答えなさい。

- (1) Xで示した地点が属する気候帯を答えなさい。
- (2) A, Bは、家畜の飼育の分布を示している。
 A, Bにあてはまる家畜として最も適当なものを次から1つずつ選び、記号で答えなさい。
 ア 牛 イ 豚 ウ 羊 エ 鶏
- (3) オーストラリアやニュージーランドは、どこの国の植民地だったか、答えなさい。
- (4) ニュージーランドの先住民族を何というか、答えなさい。



- (1) _____
- (2) A _____
B _____
- (3) _____
- (4) _____