

ステージ 3 レベル 17

レベルアップテスト

名前

100

【各5点】

(11)

	5	6	7
-	2	5	1

(12)

	8	3	6
-	7	0	2

(13)

	6	4	6
-	3	5	3

(1)

	4	4	2
+	1	3	2

(2)

	2	1	8
+	5	2	1

(3)

	5	8	4
+	3	3	3

(14)

	8	4	4
-	1	2	7

(15)

	5	5	5
-	3	6	6

(16)

	7	2	0
-	6	5	4

(4)

	3	2	9
+	2	5	6

(5)

	2	4	6
+	2	6	7

(6)

	4	8	3
+	3	5	9

(17)

	9	7	5	4
-	5	2	5	2

(18)

	7	4	1	3
-	5	1	0	8

(7)

	1	5	0	4
+	5	6	3	4

(8)

	2	2	3	6
+	2	3	8	5

(19)

	5	5	1	4
-	2	4	9	6

(20)

	4	2	0	1
-	3	3	8	5

(9)

	5	5	3	4
+	3	8	9	1

(10)

	4	2	1	7
+	4	3	8	3

ステージ 3 レベル 18

レベルアップテスト

名前

100

【各5点】

(10) $9 \overline{)54}$

(11) $5 \overline{)30}$

(12) $4 \overline{)12}$

(1) $2 \overline{)16}$

(2) $6 \overline{)24}$

(3) $3 \overline{)27}$

(13) $7 \overline{)21}$

(14) $4 \overline{)28}$

(15) $8 \overline{)16}$

(4) $4 \overline{)20}$

(5) $7 \overline{)35}$

(6) $2 \overline{)12}$

(16) $3 \overline{)15}$

(17) $5 \overline{)45}$

(18) $9 \overline{)63}$

(7) $5 \overline{)25}$

(8) $8 \overline{)64}$

(9) $3 \overline{)21}$

(19) $6 \overline{)36}$

(20) $8 \overline{)40}$

レベルアップテスト

名前

100

【各5点】

(10) $6 \overline{) 41}$

(11) $3 \overline{) 22}$

(12) $9 \overline{) 20}$

(1) $4 \overline{) 9}$

(2) $2 \overline{) 7}$

(3) $3 \overline{) 8}$

(13) $4 \overline{) 31}$

(14) $5 \overline{) 23}$

(15) $8 \overline{) 66}$

(4) $4 \overline{) 30}$

(5) $2 \overline{) 11}$

(6) $7 \overline{) 20}$

(16) $6 \overline{) 59}$

(17) $7 \overline{) 40}$

(18) $3 \overline{) 19}$

(7) $5 \overline{) 12}$

(8) $8 \overline{) 21}$

(9) $3 \overline{) 28}$

(19) $8 \overline{) 51}$

(20) $9 \overline{) 33}$

レベルアップテスト

名前

100

【各5点】

(1)

	1	3
×		3

(2)

	3	2
×		3

(3)

	2	1
×		4

(4)

	2	8
×		3

(5)

	3	5
×		2

(6)

	1	9
×		5

(7)

	2	6
×		6

(8)

	5	5
×		4

(9)

	7	3
×		8

(10)

	2	6
×		9

(11)

	4	4
×		7

(12)

	7	2
×		3

(13)

	4	6
×		3

(14)

	2	7
×		4

(15)

	6	7
×		9

(16)

	3	6	4
×			4

(17)

	6	6	6
×			8

(18)

	7	9	8
×			4

(19)

	8	7	5
×			8

(20)

	1	6	3
×			8

レベルアップテスト

名前

100

1 計算をしましょう。

【各5点】

(1) 20×20 (2) 30×40 (3) 70×20
 = = =

(4) 60×80 (5) 50×40 (6) 30×30
 = = =

(5)

		54
		× 72

(6)

		18
		× 47

(7)

		25
		× 44

(8)

		76
		× 27

(9)

		87
		× 65

(10)

		32
		× 49

(11)

		93
		× 58

(12)

		80
		× 25

2 計算をしましょう。

【各5点】

(1)

		48
		× 33

(2)

		63
		× 17

(3)

		82
		× 45

(4)

		27
		× 39

(13)

		46
		× 74

(14)

		56
		× 92

レベルアップテスト

名前

100

【各5点】

(1)

		4	8	2
	×		3	3

(2)

		1	7	8
	×		6	5

(3)

		3	4	7
	×		3	9

(4)

		7	2	1
	×		4	6

(5)

		2	8	3
	×		7	5

(6)

		5	3	4
	×		7	2

(7)

		2	1	5
	×		4	6

(8)

		6	5	4
	×		8	4

(9)

		3	9	9
	×		4	3

(10)

		8	3	8
	×		6	2

(11)

		2	2	3
	×		7	7

(12)

		7	6	7
	×		9	5

(13)

		2	4	0
	×		5	3

(14)

		4	5	6
	×		1	4

(15)

		6	2	5
	×		4	7

(16)

		9	3	5
	×		9	9

(17)

		4	2	6
	×		4	3

(18)

		4	4	4
	×		7	0

(19)

		8	4	6
	×		5	8

(20)

		3	5	9
	×		6	2

レベルアップテスト

名前

100

【各5点】

(10)

	3.6	
+	1.4	

(11)

	3.8	
-	1.3	

(12)

	7.6	
-	2.4	

(1)

	1.5	
+	1.1	

(2)

	1.3	
+	2.2	

(3)

	0.2	
+	0.4	

(13)

	1.9	
-	0.4	

(14)

	4.7	
-	1.1	

(15)

	2.9	
-	0.9	

(4)

	2.4	
+	1.3	

(5)

	2.8	
+	3.1	

(6)

	3.3	
+	3.9	

(16)

	4.7	
-	1.8	

(17)

	9.4	
-	6.6	

(18)

	5	
-	2.5	

(7)

	6.5	
+	2.6	

(8)

	5.6	
+	1.7	

(9)

	4.5	
+	1.5	

(19)

	6.2	
-	3.5	

(20)

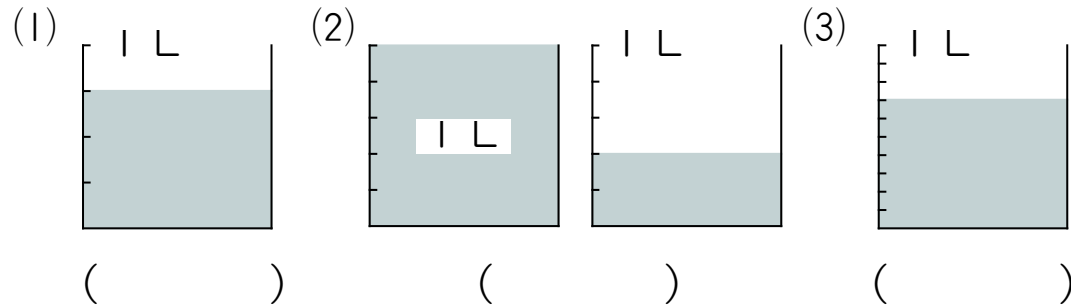
	5.4	
-	4.5	

レベルアップテスト

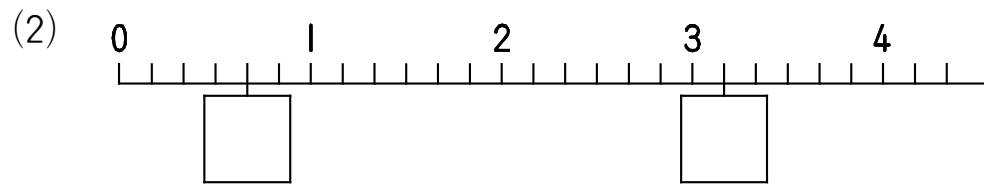
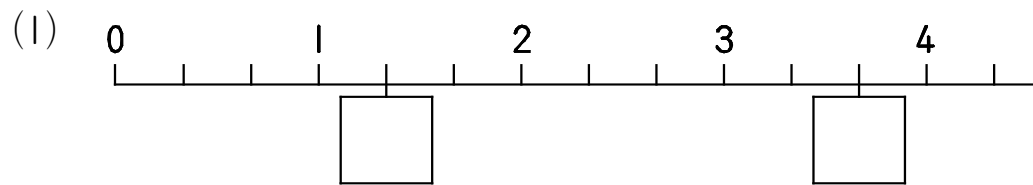
名前

100

1 下の図の水の量は何Lですか。 【各4点】



2 数直線上の□に分数を入れましょう。 【各4点】



3 次の□にあてはまる数をかきましょう。 【各4点】

(1) $\frac{5}{13}$ は $\frac{1}{13}$ を □ こあつめた数です。

(2) 4 は $\frac{1}{4}$ を □ こあつめた数です。

(3) $\frac{8}{11}$ は □ を 8 こあつめた数です。

(4) $\frac{8}{3}$ は $\frac{1}{3}$ を □ こあつめた数です。

4 計算をしましょう。 【各7点】

(1) $\frac{2}{6} + \frac{3}{6}$

(2) $\frac{4}{9} + \frac{4}{9}$

(3) $\frac{2}{12} + \frac{5}{12}$

(4) $\frac{9}{14} + \frac{5}{14}$

(5) $\frac{5}{8} - \frac{2}{8}$

(6) $\frac{7}{12} - \frac{5}{12}$

(7) $1 - \frac{3}{7}$

(8) $\frac{6}{10} - \frac{3}{10}$